



وزارت آموزش و پرورش

اداره کل آموزش و پرورش استان لرستان



دفترچه سوالات

اقتصاد معاومستی: تولید-استعمال

آزمون ورودی پایه هفتم دبیرستان های

نمونه دولتی

دوره اول متوسطه

سال تحصیلی ۹۷-۹۶

تاریخ آزمون: ۹۶/۴/۹

زمان پاسخگویی: ۱۰۰ دقیقه

تعداد سوالات: ۸۰ سوال

کلاس شماره	از شماره	تعداد سوال	ضریب	مواد امتحانی
۱۰	۱	۱۰	۲	قرآن و هدیه های آسمانی
۳۰	۱۱	۲۰	۲	فارسی (مهارت خواندن و نوشتن)
۴۰	۳۱	۱۰	۱	مطالعات اجتماعی
۶۰	۴۱	۲۰	۲	علوم تجربی
۸۰	۶۱	۲۰	۳	ریاضیات

نام: _____ نام خانوادگی: _____ شماره داوطلب: _____

✓ تذکر: برای هر پاسخ غلط، یک امتیاز منفی منظور می گردد.

۷۵- قرینه نقطه $\begin{bmatrix} 3 \\ 5 \end{bmatrix}$ نسبت به نقطه $\begin{bmatrix} 6 \\ 4 \end{bmatrix}$ کدام است؟

$\begin{bmatrix} 9 \\ 3 \end{bmatrix}$ (۴)

$\begin{bmatrix} 9 \\ 4 \end{bmatrix}$ (۳)

$\begin{bmatrix} 0 \\ 6 \end{bmatrix}$ (۲)

$\begin{bmatrix} 8 \\ 3 \end{bmatrix}$ (۱)

۷۶- آرزو ۲۰۰ مکعب کوچک دارد. او با مکعب هایش بزرگترین مکعب ممکن را می سازد. سپس با مکعب های باقی مانده نیز بزرگترین مکعب ممکن را می سازد. او همین کار را ادامه می دهد تا جایی که دیگر نتواند با مکعب های باقی مانده مکعبی بسازد. تعداد مکعب های کوچک باقی مانده چندتا است؟

۴ (۴)

۳ (۳)

۲ (۲)

۱ (۱)

۷۷- حاصل محاسبات زیر چه عددی می شود؟

$$\frac{35}{50} + 1.6 + 0.02 \times \frac{3}{6} + 4 \frac{2}{25} =$$


$20 \frac{4}{5}$ (۴)

$65/3$ (۳)

$22/78$ (۲)

0.56 (۱)

۷۸- در شکل بیست و یکم از الگوی زیر چه کسری، رنگی خواهد بود؟



$\frac{210}{220}$ (۳)

$\frac{231}{441}$ (۱)

$\frac{210}{441}$ (۴)

$\frac{121}{231}$ (۲)

۱۴۵۶۲

۷۹- در چه عددی باید قرار داد تا عدد ۶ رقمی حاصل بر ۱۲ بخش پذیر باشد؟


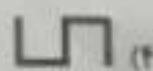


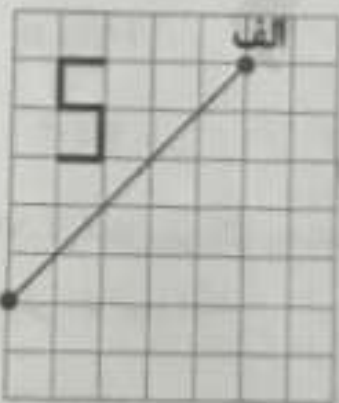
۸ (۴)

۶ (۳)

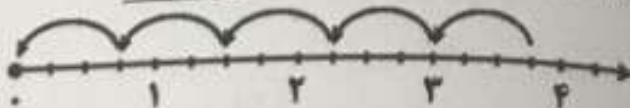
۴ (۲)

صفر (۱)

۸۰- اگر قرینه ی شکل را نسبت به خط (الف ب) بدست آوریم. و سپس شکل قرینه را ۱۸۰ درجه در جهت حرکت عقربه های ساعت بچرخانیم شکل حاصل کدام است؟



۶۸- کدام تقسیم مربوط به محور زیر نمی باشد؟



$3\frac{3}{4} \div \frac{4}{10}$ (۴)

$3/75 \div 0/75$ (۳)

$3/75 \div 5$ (۲)

$3\frac{6}{8} \div \frac{3}{4}$ (۱)

۶۹- در یک میهمانی برای هر ۴ نفر یک ظرف پلو و برای هر ۲ نفر یک ظرف خورشید و یک ظرف سالاد استفاده شده است. اگر مجموع ظرف ها ۱۰۵ باشد، تعداد میهمان ها چند نفر است؟

۷۸ (۴)

۹۱ (۳)

۶۰ (۲)

۸۴ (۱)

۷۰- محیط چرخ کوچک تراکتوری $1/62$ متر و محیط چرخ بزرگ $2/7$ متر است. اگر چرخ کوچک در هر دقیقه ۱۰۰ دور بچرخد چرخ بزرگ چند دور می چرخد؟

دور ۵۰ (۴)

دور ۵۵ (۳)

دور ۶۰ (۲)

دور ۶۵ (۱)

۷۱- در ثلث $(\frac{1}{4} + \frac{1}{2})$ چند تا از خمس $(\frac{1}{2} + \frac{1}{3})$ وجود دارد؟

۵ (۴)

۴ (۳)

۳ (۲)

۲ (۱)

۷۲- لیوانی که تا $\frac{4}{5}$ پر از آب بود را وزن کردیم. ۲۶۰ گرم شد. آب را خالی کردیم وزن لیوان با آب ۱۴۰ گرم شد. وزن لیوان خالی چند گرم است؟

گرم ۱۲۰ (۴)

گرم ۱۱۰ (۳)

گرم ۱۰۰ (۲)

گرم ۹۰ (۱)

۷۳- یک کانگورو در هر جهش نصف جهش قبل به جلو می رود. اگر اولین جهش این کانگورو از نقطه (ن) به نقطه (ل) باشد، نقطه ای که پس از چهارمین جهش روی آن قرار می گیرد نشان دهنده کدام عدد است؟



$6/625$ (۳)

$8/265$ (۱)

$6/25$ (۴)

$7/5$ (۲)

۷۴- در شکل زیر (ک م) مساوی (م د) و برابر ۱۲ سانتی متر است و (ر ن) قسمتی از قطر است. مساحت قسمت رنگی چند سانتی متر مربع است؟



$16/96$ (۳)

$15/48$ (۱)

$28/48$ (۴)

$30/96$ (۲)

۶۱- بین اعداد $0/9$ تا $12/14$ - چند عدد صحیح زوج وجود دارد؟

- ۸ (۱) ۵ (۲) ۷ (۳) ۶ (۴)

۶۲- بیشترین مساحت کل از یک مکعب مستطیل با حجم ۱ لیتر که طول، عرض و ارتفاع آن از اعداد طبیعی باشد چقدر است؟

- ۲۰۲۰ سانتی متر مربع (۱) ۲۰۰۲ سانتی متر مربع (۲)
۲۰۲۰ سانتی متر مربع (۳) ۲۲۲۰ سانتی متر مربع (۴)



۶۳- اگر پاره خط (م ن) نیمساز زاویه (ر م د) باشد، اندازه زاویه (م ب آ) چند درجه است؟

- ۶۵ (۱) ۶۲/۰۵ (۲)
۶۷/۵ (۳) ۶۲/۵ (۴)

۶۴- در یک آزمون علمی ۲۸٪ دانش آموزان کلاس نمره ۱۹، ۳۵٪ آنها نمره ۱۸، ۲۱٪ آنان نمره ۱۵ و بقیه ۲۰ گرفته اند. میانگین نمره ی کلاس کدام گزینه می باشد؟

- ۱۸/۳ (۱) ۱۷/۹۷ (۲) ۱۶/۴۷ (۳) ۱۶/۹۶ (۴)

۶۵- دو اتوبوس در یک جاده به سمت یکدیگر حرکت می کنند. اتوبوس اول در هر دقیقه $1/2$ و اتوبوس دوم $1/8$ کیلومتر راه طی می کند. اگر فاصله ی اتوبوس ها از یکدیگر ۲۱۰ کیلومتر باشد. هنگامی که اتوبوس ها به هم می رسند اتوبوس دوم چند کیلومتر بیشتر از اتوبوس اول طول مسیر را طی کرده است؟

- ۶۰ کیلومتر (۱) ۹۱ کیلومتر (۲) ۴۲ کیلومتر (۳) ۵۴ کیلومتر (۴)

۶۶- سه عدد داریم که عدد اول خمسی عدد دوم و عدد دوم ۲۰٪ عدد سوم می باشد. اگر عدد سوم ۴۵۰ باشد، میانگین این سه عدد چند خواهد بود؟

- ۹۰ (۱) ۲۲۵ (۲) ۱۲۴ (۳) ۱۸۶ (۴)

۶۷- اعداد زیر را در نظر بگیرید. گرد شده ی چندتا از آنها ۴۰ خواهد بود؟

- $38/4$ - $39/3$ - $40/48$ - $47/2$ - $36/5$ - $39/91$ - $39/41$ - $44/1$ - $33/9$

- ۶ (۱) ۷ (۲) ۵ (۳) ۸ (۴)

۵۶- در همه گزینه ها تبدیل انرژی شیمیایی وجود دارد به جز

(۱) مصرف باتری (۲) در سوختن چوب

(۳) روشن شدن لامپ (۴) بالا رفتن از کوه

۵۷- کدام دسته از پاسخ های زیر به ترتیب میوه ی نشاسته دار - میوه ی روغن دار - دانه ی روغن دار - دانه ی نشاسته دار - میوه فند دار - ریشه قند دار را نشان می دهد ؟

(۱) موز - کنجد - نارگیل - خرما - هویج - عدس

(۲) موز - نارگیل - کنجد - عدس - خرما - هویج

(۳) گندم - نارگیل - کنجد - عدس - هویج - خرما

(۴) گندم - بادام - کنجد - عدس - خرما - هویج

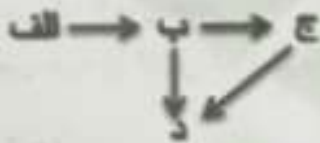
۵۸- در شبکه غذایی زیر اگر جمعیت جاندار (ب) کم شود کدام مورد اتفاق می افتد ؟

(۱) جمعیت جاندار (ج) افزایش می یابد .

(۲) جمعیت جاندار (ب) کاهش می یابد .

(۳) جمعیت جاندار (الف) افزایش می یابد .

(۴) جمعیت جاندار (ج) کاهش می یابد و جمعیت جاندار (الف) افزایش می یابد .



۵۹- هر کدام از بیماری های زیر به ترتیب به کدام قسمت بدن آسیب می رساند ؟

ایدز - سرخک - هیپاتیت - فلج اطفال - هاری

(۱) بینی و حلق - شش ها - غده های بزاقی - سیستم عصبی - پوست

(۲) بینی و حلق - شش ها - کبد - سیستم عصبی - گلبول های سفید خون

(۳) گلبول های سفید خون - شش ها - غده های بزاقی - سلول های عصبی مغز و نخاع - سیستم عصبی

(۴) گلبول های سفید خون - پوست - کبد - سلول های عصبی مغز و نخاع - سیستم عصبی

۶۰- با توجه به جدول زیر کدام دو نیرو شبیه یکدیگرند ؟

الف	ب	ج	د	ه
مقاومت هوا	تکپه گاه	اصطکاک	بالابری	گرانشی

(۱) الف و ه (۲) الف و ج

(۳) ج و د (۴) ب و ه



۱) ارتش عراق برای اینکه بتواند در جنگ پیروز شود، اولین حمله خود را زمینی انجام داد.

۲) صدام برای اینکه بتواند پایتخت ایران و شهرهای بزرگ را ویران و به تصرف خود درآورد با هواپیماهای خود شهرهای مرزی و داخلی ایران را بمباران هوایی کرد.

۳) ارتش عراق توان حمله‌ی زمینی کمی نسبت به نیروهای ایرانی داشت.

۴) ارتش عراق برای تصرف شهرهایی چون تهران، اسفهان، تبریز و ... حملات خود را از راه زمینی انجام داد.

علوم تجربی

۴۱- زهرا پس از مخلوط کردن جوش شیرین و سرکه، کبریت روشنی را به آن نزدیک کرد و در دفتر خود نوشت "گاز حاصل از مخلوط جوش شیرین و سرکه، شعله‌ی کبریت را خاموش می‌کند". این گفته‌ی زهرا یک است.

- ۱) نتیجه گیری ۲) فرضیه ۳) پیش بینی ۴) آزمایش

۴۲- برای آن که بتوان در لیوان های کاغذی جای و آب نوشید، بهتر است کدام ماده به آن اضافه شود؟

- ۱) کالر ۲) گچ ۳) رنگ ۴) پلاستیک

۴۳- کدام دسته از مواد زیر یک منشا واحد دارند؟

- ۱) نیتروژن - اکسیژن - شمع - شیشه ۲) شن - ماسه - پلاستیک - نیتروژن

- ۲) ماسه - شن - فلز طلا - اکسیژن ۴) پلاستیک - نیتروژن - فلز طلا - ماسه



۴۴- اگر کاغذ بی اچ را به لیمو ترش - مایع صابون - سرکه آغشته کنیم کاغذ بی اچ به چه رنگی در می آید؟

(۱) قرمز - آبی - قرمز

(۳) قرمز - آبی - آبی

(۲) قرمز - قرمز - آبی

(۴) آبی - قرمز - آبی

۴۵- ضخامت پوسته زمین در کدامیک از شهر های زیر بیشتر است؟

(۱) بندر عباس (۲) اصفهان (۳) کاشان (۴) اردبیل

۴۶- در سه نقطه ی (الف - ب - ج) سه زمین لرزه به ترتیب با عمق کانونی (۳۰۰ کیلومتر - ۷۰۰ کیلومتر - ۹۰۰ کیلومتر) به وقوع پیوست. کدامیک از این زمین لرزه ها خرابی، کمتری به بار می آورد؟

(۱) الف (۲) ب (۳) ج (۴) خرابی ارتباطی با عمق کانون زمین لرزه ندارد.

۴۷- کدام گزینه ترتیب لایه های زمین را از نظر ضخامت، صحیح نشان می دهد؟

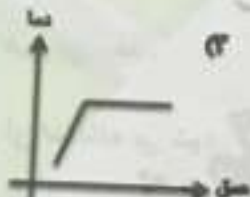
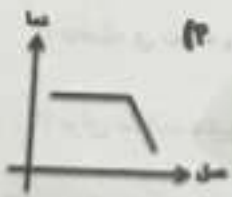
(۱) هسته < گوشته < پوسته

(۳) پوسته < گوشته < هسته

(۲) گوشته < هسته < پوسته

(۴) هسته < پوسته < گوشته

۴۸- کدام گزینه رابطه ی بین عمق زمین و دمای آن را به درستی نشان می دهد؟



۴۹- وقتی با چکش میخی را به دیوار می کوبیم در این صورت

(۱) دیوار، دریافت کننده نیرو است. (۳) چکش، دریافت کننده نیرو است.

(۲) میخ، دریافت کننده نیرو است. (۴) میخ و چکش هم زمان به هم نیرو وارد می کنند.

۵۰- شرکتی می خواهد اتومبیلی بسازد که بتواند با سرعت بالا در مسابقه ی اتومبیل رانی پیروز شود. این اتومبیل باید چه ویژگی هایی داشته باشد؟

(۱) شکل اتومبیل صاف و مسطح و عقب آن گرد باشد.


(۲) شکل اتومبیل صاف و گرد و قسمت عقب آن کشیده و نوک تیز باشد.

(۳) شکل اتومبیل کشیده و صاف و قسمت عقب آن گرد باشد.

(۴) شکل اتومبیل در سرعت آن هیچ تاثیری ندارد.



۵۱- سنگی را از نقطه " الف " رها کردیم و به سطح زمین سقوط کرده است. اگر از اسطکانک صرف نظر کنیم و فاصله ی نقاط در امتداد قائم مساوی باشد. کدام گزینه رابطه ی صحیح انرژی جنبشی و پتانسیل را صحیح نشان می دهد ؟



(۱) نقطه ی الف ← انرژی جنبشی - انرژی پتانسیل

(۲) نقطه ی ب ← انرژی جنبشی < انرژی پتانسیل

(۳) نقطه ی ج ← انرژی جنبشی - انرژی پتانسیل

(۴) نقطه ی د ← انرژی پتانسیل < انرژی جنبشی

۵۲- اگر بزرگ نمایی یک عدسی ۱۲۰۰X باشد و روی عدسی شیشه ای نوشته شده باشد ۳۰X روی عدسی چشمی. چه عددی نوشته شده است ؟

۴۰۰۰X (۴)

۴X (۳)

۴۰۰X (۲)

۴۰ X (۱)

۵۳- وظیفه ی گنداسور در عدسی چیست ؟

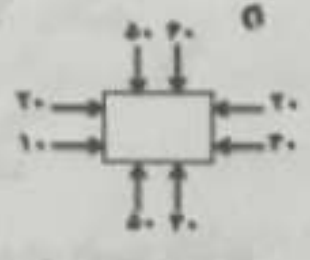
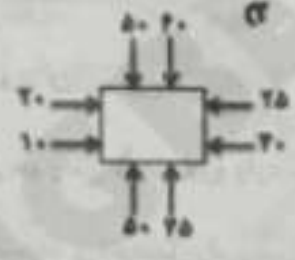
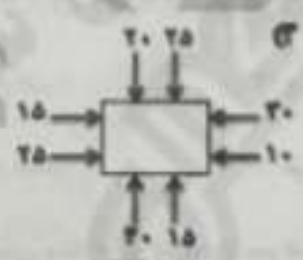
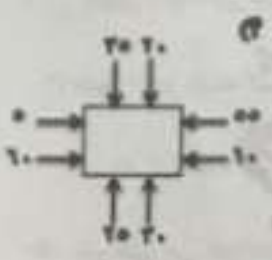
(۱) برای تنظیم سریع تصویر از آن استفاده می شود.

(۲) نور را بر روی نمونه متمرکز می کند .

(۳) فاصله ی نمونه و عدسی را تغییر می دهد .

(۴) برای تنظیم دقیق تصویر از آن استفاده می شود .

۵۴- در کدام حالت زیر جسم حرکت نخواهد کرد ؟



۵۵- اگر چرخ دنده دوم از سمت چپ در جهت عقربه های ساعت بچرخد آخرین چرخ دنده از سمت راست چگونه خواهد چرخید ؟



(۱) در جهت عقربه های ساعت

(۲) در جهت مخالف عقربه های ساعت

(۳) چرخ دنده حرکت نمی کند .

(۴) پاد ساعت گرد



۲۵- در بیت «گشاده ست بر ما، در راستی چه گوئیم خیره، در کاستی» معنی واژه های مشخص شده به ترتیب کدام است؟

- (۱) چگونه- گستاخ (۲) چرا- لجاجت (۳) چه طور- بی پروا (۴) چندبار- با تعجب

۲۶- شعر «درد عشقی کشیده ام که میرس زهر هجری چشیده ام که میرس» را چه کسی و در چه قالبی سروده است؟

- (۱) حافظ، قصیده (۲) دهخدا، غزل (۳) دهخدا، قصیده (۴) حافظ، غزل

۲۷- در کدام گزینه صفت به کار رفته است؟

- (۱) در راستی (۲) رضای خدا (۳) آرزوی محال (۴) حلقه ی در

۲۸- املاي کدام گزینه با توجه به معنی آن درست نیست؟

- (۱) حجر: جدایی (۲) موسم: زمان یک چیز (۳) سباهات: فخر کردن (۴) طبع: ذات

۲۹- کدام گزینه با سایر گزینه ها تفاوت دارد؟

- (۱) غافل، بی خبر (۲) خطیر، مخاطره (۳) قصد، نیت (۴) صداقت، راستی

۳۰- در کدام گزینه هفت خان رستم را به ترتیب می بینید؟

(۱) ازدها، بیابان سخت، جادوگر، شیر، اولاد، ارژنگ دیو، دیوسپید

(۲) جادوگر، ازدها، بیابان سخت، شیر، ارژنگ دیو، اولاد، دیوسپید

(۳) شیر، بیابان سخت، ازدها، جادوگر، ارژنگ دیو، اولاد، دیوسپید

(۴) شیر، بیابان سخت، ازدها، جادوگر، اولاد، ارژنگ دیو، دیوسپید

مطالعات اجتماعی

۳۱- کدام گزینه، سه گروه مهم از گیاهان زراعی می باشد؟

(۱) سبزیجات - حبوبات - محصولات جالیزی (۲) میوه جات - سبزیجات - حبوبات

(۳) غلات - حبوبات - محصولات جالیزی (۴) مرکبات - حبوبات - غلات

۳۲- شهرهای _____ و _____ به ترتیب دارای نیروگاه های خورشیدی و بادی می باشند.

(۱) تهران - یزد (۲) یزد - تهران (۳) منجیل - شیراز (۴) شیراز - منجیل

۳۳- کدام عامل مهم، باعث رشد شهر و شهرنشینی اروپائیان از چهار قرن گذشته به این طرف بوده و ضمناً باعث تغییر شکل زندگی مردم و افزایش تدریجی کارگاه های صنعتی شده است؟

(۱) تجارت (۲) اختراع دستگاه چاپ و تسکوپ

(۳) اکتشافات جغرافیایی، آغاز استعمارگری (۴) ترجمه کتاب های پزشکی جهان اسلام



۱۱- در عبارت « چه هوای پاکی ! طبیعت بهترین پناهگاه انسان است. راستی شما تا به حال به جنگل رفته اید؟ » به ترتیب چه نوع جمله هایی وجود دارد؟

(۱) پرسشی ، عاطفی ، خبری (۲) عاطفی ، عاطفی ، پرسشی

(۳) عاطفی ، خبری ، پرسشی (۴) پرسشی ، خبری ، پرسشی

۱۲- بعد از « خدایا » در جمله ها ، کدام نشانه های نگارشی می توانند قرار بگیرند ؟

(۱) (۱) - (۱) (۲) (۳) (۰) - (۲) (۳) (۱) - (۱) (۴) (۰) - (۰)

۱۳- در کدام گزینه منادا دیده نمی شود ؟

(۱) ای هد هد صبا به صبا می فرستمت (۲) خدا خدا می کرد که او را ببیند

(۳) بار الها من توبه خواهم کرد (۴) ای غایب از نظر به خدا می سپارمت

۱۴- در مصراع زیر نهاد کدام است ؟

« خنده زد خورشید ، بر گل و بوستان »

(۱) گل (۲) بوستان (۳) خنده (۴) خورشید

* شعر زیر را بخوانید و به پرسش های ۱۵ و ۱۶ پاسخ دهید.

آن فتنه شنیدید که در باغ یکی روز	از جور نبر زار بنالید سپیدار
کز من نه دگر بیخ و بنی ماند و نه شاخی	از تیشه ی هیزم شکن و ازه ی نجار
گفتش تبر آهسته که جرم تو همین بی	کاین موسم حاصل بود و نیست تو را بار

۱۵- در شعری که خواندید، کدام گزینه دیده نمی شود؟

(۱) هم خانواده (۲) شخصیت بخشی (۳) هم قافیه (۴) مناظره

۱۶- بیت سوم از چند جمله درست شده است؟

(۱) چهار جمله (۲) سه جمله (۳) دو جمله (۴) پنج جمله

۱۷- با توجه به آثار و نویسندگان آن ها، کدام گزینه به طور کامل درست است؟

(۱) فتوآت نامه سلطانی (سمرقندی)، سیاست نامه (خواجه نظام الملک توسی)

(۲) انوار سهیلی (بیلهی)، سندبادنامه (ظهیری سمرقندی)

(۳) تاریخ بیهقی (ابوالفضل بیلهی)، قابوس نامه (خواجه نصیر توسی)

(۴) فتوآت نامه سلطانی (واعظ کاشفی)، انوار سهیلی (واعظ کاشفی)



۱۸- واژه ی «آذرگشسب» در شاهنامه کنایه از چیست؟

- (۱) آتش جهنده
(۲) آتش تند و تیز و اسم یک پهلوان
(۳) هر چیز مورد ستایش و نیایش
(۴) یکی از سه آتش مقدس

۱۹- داستان «دوستان همدل» اثر کیست و بر گرفته از کدام کتاب است؟

- (۱) مهدی آذر بزدی ، قصه های خوب برای بچه های خوب
(۲) محمدرضا سرشار ، مجموعه داستان جایزه
(۳) واعظ کاشفی ، خواجه نصیر توسی
(۴) ظهیری سمرقندی ، سند باد نامه

۲۰- در کدام گزینه همه ی موارد شبه جمله هستند؟

- (۱) سلیم ، الفسوس ، کاش (۲) ساریان ، به به ، پذیرفت (۳) امید ، آوخ ، کاش (۴) آه ، احسنت ، بدرود

۲۱- همه گزینه ها به جز گزینه ی کنایه هستند.

- (۱) آب از دستش نمی چکد. (۲) صد بار تکرار کردم.
(۳) پا به اندازه گلیم دراز کردن. (۴) خیلی دست دست کرد.

۲۲- در کدام گزینه آرایه ی ادبی داخل کمانک درست نیست؟

- (۱) بدخو در رنج بزرگ باشد و نیکوخوی در هر دو جهان ستوده است. (تضاد)
(۲) من آن شمعم که در غمخانه ی آنسوار می سوزم. (تشبیه)
(۳) هیچ کس بی عیب نیست. (کنایه)
(۴) گر صبرگتی ز غوره حلواسازی. (مقتل)

۲۳- در بیت زیر از کدام آرایه ی ادبی استفاده شده است؟

« برگ درختان سبز در نظر هوشیار
هر ورقش دفتری ست معرفت کردگار »

- (۱) مبالغه (۲) کنایه (۳) شخصیت بخشی (۴) تشبیه

۲۴- با توجه به شعر « مادر » در بیت زیر به جای نقطه چین ها ، به ترتیب کدام کلمه ها را می توان نوشت؟

« ای مادر عزیز که جانم فدای تو
قربان مهربانی و لطف و تو »

« هرگز نشد محبت یاران و دوستان
همپایه ی محبت و مهر و تو »

- (۱) صفای - وفای (۲) وفای - فدای (۳) وفای - وفای (۴) صفای - فدای



۲۴- درباره ی لباس های محلی کدام گزینه درست نیست؟

- (۱) امروزه لباس های محلی اقوام ایرانی جزئی از فرهنگ قدیم محسوب شده و دیگر کاربرد ندارد.
- (۲) در قدیم شکل ، فرم ، رنگ و حالت لباس هر فرد نشان دهنده ی قومیت و محل زندگی آن فرد محسوب می شده است.
- (۳) امروزه لباس های محلی در برخی از جشنواره ها و مراسم خاص و نیز عید نوروز پوشیده می شود.
- (۴) موزه مردم شناسی مکانی است که می توان انواع لباس های محلی را در آن مشاهده کرد.

۲۵- عصر تاریکی به چه دوره ای گفته می شود؟

- (۱) دوران پیشرفت علوم و فنون در بین مسلمانان
- (۲) دوران جهل و خرافات در بین مسلمانان
- (۳) دوران جهل و خرافات در اروپا
- (۴) دوران پیشرفت نهضت ترجمه در بین اروپائیان

۲۶- عید نوروز در کدام یک از کشورهای همسایه ایران جشن گرفته می شود؟

- (۱) عراق - پاکستان - ارمنستان - آذربایجان
- (۲) افغانستان - پاکستان - ترکمنستان - عراق
- (۳) افغانستان - پاکستان - ترکمنستان - آذربایجان - ترکیه
- (۴) آذربایجان - ارمنستان - عراق - ترکیه

۲۷- در خصوص دریا های شمال و جنوب ایران کدام گزینه درست است؟

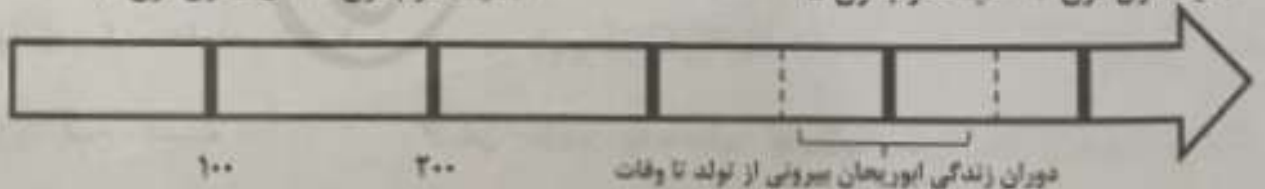
- (۱) در ماه های پایانی سال ماهیگیران جنوب ، باید شروع به صید میگو کنند.
- (۲) برخی از ماهی های دریای شمال ایران عبارتند از : کپور ، کفال ، کبکلا ، کولی و ...
- (۳) دریا های اطراف ایران بزرگ ترین منبع ماهیان خاوباری در جهان است.
- (۴) صید ماهی در ایران تابع قوانین و مقرراتی است که ماهیگیران تعیین می کنند.

۲۸- موقعیت مکانی کدام دو بنا در میدان نقش جهان اصفهان روبروی هم قرار دارد ؟

- (۱) مسجد شیخ لطف الله - بازار قیصریه
- (۲) مسجد امام - کاخ عالی قاپو
- (۳) کاخ عالی قاپو - بازار قیصریه
- (۴) مسجد شیخ لطف الله - کاخ عالی قاپو

۲۹- با توجه به خط زمان زیر ابوریحان بیرونی در چه زمانی زندگی می کرده است؟

- (۱) نیمه ی دوم قرن ۴ - نیمه اول قرن ۵
- (۲) نیمه دوم قرن ۵ - نیمه اول قرن ۴
- (۳) نیمه اول قرن ۴ - نیمه دوم قرن ۵
- (۴) نیمه دوم قرن ۳ - نیمه اول قرن ۴



۶- امام علی (ع) در وصیت به فرزند بزرگوارش امام حسن (ع) فرمودند: « آنچه نمی دانی نگو و آنچه بر تو لازم نیست بر زبان نیاور »
با کدام گزینه ارتباط دارد ؟

- ۱) بهترین کارها در نزد خداوند حفظ زبان است . « پیامبر اکرم (ص) »
 - ۲) دهان های خود را با مسواک پاکیزه کنید؛ زیرا که دهان شما گنرگاه قرآن است . « پیامبر اکرم (ص) »
 - ۳) آیا برای او دو چشم و یک زبان و دو لب قرار ندادیم . (سوره بلد ، آیه ۸ و ۹)
 - ۴) و ما هیچ پیامبری را جز به زبان قومش نفرستادیم تا پیام وحی را برای آنان بیان کند . (سوره ابراهیم آیه ۴)
- ۷- خداوند در کدام یک از آیات زیر، به ما درباره‌ی حسابرسی دقیق از اعمالمان درعالم پس از مرگ هشدار می دهد؟
- ۱) و آن کس که در راه خدا پیکار کند، و کشته شود یا پیروز گردد، پاداش بزرگی به او خواهیم داد.
 - ۲) و به پدر و مادر و نزدیکان و یتیمان و یتوایان نیکی کنید و با مردم به نیکی سخن بگویید.
 - ۳) پس هر کس به مقدار ذره‌ای کار نیک کرده باشد همان را ببیند و هر کس هم وزن ذره‌ای کار بد کرده باشد آن را ببیند.
 - ۴) برای انسان جز آن چه تلاش کرده (هیچ نصیب و بهره‌ای) نیست.

۸- در تشهد نماز، به کدام اصول دین اشاره شده است ؟

- ۱) توحید، معاد ۲) عدل، معاد ۳) عدل، نبوت ۴) توحید، نبوت

۹- کدام یک از گزینه‌های زیر « نهی از منکر » نیست ؟

- ۱) در کار دیگران تجسس نکنید .
- ۲) به نماز نگو کار دارم ، به کار یگو وقت نماز است .
- ۳) سخن لغو و بیهوده نگو .
- ۴) با کبر و غرور بر روی زمین راه نرو .

۱۰- در کدام آیه معنی «تولی» و «تبری» هر دو آمده است؟

۱) مُحَمَّدٌ رَسُوْلُ اللهِ وَالَّذِيْنَ مَعَهُ اشِدَّاءُ عَلَى الْكُفَّارِ رَحِمًا بِنَهْمِهِمْ

۲) فَلَمَّا نَبَّئْنَاهُمْ لَمْ يَكُنْ لَهُمْ اِتِّعَادٌ لِّلَّهِ تَبَرًا مِّنْهُ

۳) اِنَّمَا يُرِيْدُ اللهُ لِيُذْهِبَ عَنْكُمُ الرِّجْسَ اَهْلَ الْبَيْتِ وَيُطَهِّرَكُمْ تَطْهِيرًا

۴) قُلْ لَا اَسْئَلُكُمْ عَلَيْهِ اَجْرًا اِلَّا النُّوْدَةَ فِي الْقُرْبَىٰ



قرآن و هدیه های آسمان

۱- آیهی « رَبَّنَا لَا تَجْعَلْنَا فِتْنَةً » هنگام وقف چگونه خوانده می شود ؟

(۴) فِتْنَةً

(۳) فِئْتِنِنَا

(۲) فِئْتِنَا

(۱) فِئْتِنِن

۲- در آیهی « فَأَقِمْوَا الصَّلَاةَ وَآتُوا الزَّكَاةَ وَاطِيعُوا اللَّهَ وَرَسُولَهُ وَاللَّهُ خَبِيرٌ بِمَا تَعْمَلُونَ » معنای کلماتی که زیر آن ها خط کشیده شده است ، به ترتیب عبارتند از :

(۳) از خدا اطاعت می کنند - آگاه - انجام دهید.

(۱) از خدا اطاعت می کنند - بینا - بدانید.

(۴) از خدا اطاعت کنید - بینا - می دانید.

(۲) از خدا اطاعت کنید - آگاه - انجام می دهید.

۳- آیه ی « يَرْفَعُ اللَّهُ الَّذِينَ آمَنُوا مِنْكُمْ وَالَّذِينَ أُوتُوا الْعِلْمَ دَرَجَاتٍ » با کدام یک از تصاویر زیر ارتباط معنایی بیشتری دارد ؟



(۴)

(۳)

(۲)

(۱)

۴- اگر مسافر در ماه رمضان « پیش از ظهر از محل زندگی اش حرکت و ۳۰ کیلومتر را طی کند و قبل از ظهر همان روز به محل زندگی اش برگردد. » حکم نماز و روزه او چگونه است ؟

(۳) نمازش کامل و روزه اش صحیح است .

(۱) نمازش شکسته و روزه او صحیح است .

(۴) نمازش شکسته و روزه اش باطل است .

(۲) نمازش کامل و روزه اش باطل است .

۵- این دعای حضرت علی (ع) که فرمودند: « قَوْ عَلِيٍّ خِدْمَتِكَ جَوَارِحِي! خدایا به اعضای بدنم، برای خدمت در راه خودت توانایی بدو با کدام یک از بیت های زیر ارتباط معنایی بیشتری دارد؟

۱) توانا بود هر که دانا بود

۲) ز نیر و بود مرد را راستی

۳) ز دانش دل پیر برنا بود

۴) هر عمل کز آدمی سر می زند

۱) به دمی ، یا درمی ، یا قدمی ، یا قلبی

۲) عزد اعمالش به زودی پشت در ، در می زند

۳) تا توانی به جهان خدمت محتاجان کن

۴) تا توانی به جهان خدمت محتاجان کن

