
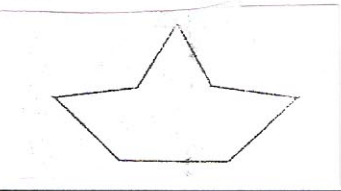
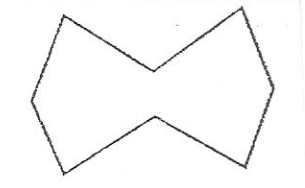


نام و نام خانوادگی آزمون: هندسه نقوش زمان: ۱۵ دقیقه	آموزش و پرورش شهرستان گرگان هنرستان بعثت
۱	مجموعه ای از نقوش که برای ایجاد و ترکیب آنها از قواعد و روابط هندسی استفاده میشود. نقوش جانوری <input type="radio"/> نقوش هندسی <input type="radio"/> نقوش گیاهی <input type="radio"/> همه موارد <input type="radio"/>
۲	بسترهای هندسی مناسب برای ایجاد نقوش کدام است. الف) شبکه <input type="radio"/> ب) زمینه <input type="radio"/> ج) هندسی <input type="radio"/> د) الف و ب <input type="radio"/>
۳	در نظام شبکه ای ترسیم نقوش هندسی به چه شکلی نیست دایره <input type="radio"/> مربع <input type="radio"/> مثلث <input type="radio"/> لوزی <input type="radio"/>
۴	هرگاه اضلاع يك مربع یا مستطیل را به اندازه برابر تقسیم و اندازه های بدست آمده را به طور دقیق به هم وصل کنیم نام دارد. شبکه <input type="radio"/> نقوش <input type="radio"/> شبکه مربع <input type="radio"/> مربع <input type="radio"/>
۵	کدام يك جزء شبکه های هندسی نیست. شبکه مربع <input type="radio"/> شبکه قناس <input type="radio"/> شبکه هندسی <input type="radio"/> شبکه مثلث <input type="radio"/>
۶	زاویه بسته لوزی چنداست. <input type="radio"/> ۶۰ <input type="radio"/> ۲۴۰ <input type="radio"/> ۳۰ <input type="radio"/> ۱۲۰
۷	کدام شبکه کاربرد فراوان در پیدایش نقوش هندسی دارد؟ شبکه مربع <input type="radio"/> شبکه لوزی <input type="radio"/> شبکه مثلث <input type="radio"/> شبکه مورب <input type="radio"/>
۸	هنرمندان با چه هدفی به تکرار و گسترش يك طرح در سطح وسیع اقدام نموده اند؟ تناسب <input type="radio"/> زیبایی <input type="radio"/> هماهنگی <input type="radio"/> همه موارد <input type="radio"/>
۹	یکی از قدیمی ترین شیوه های گسترش کدام است؟ انتقالی <input type="radio"/> دورانی <input type="radio"/> انعکاسی <input type="radio"/> محوری <input type="radio"/>
۱۰	کوچکترین جزء قابل تکرار هر گره که در يك چارچوب مشخص و به روش معین رسم میشود. واحد گره <input type="radio"/> الت گره <input type="radio"/> واگیره <input type="radio"/> گره <input type="radio"/>

<p>همه ویژگی های گره در کدام گزینه آشکار است؟</p> <p>الف) واگیره <input type="radio"/> ب) واحد گره <input type="radio"/> ج) زمینه گره <input type="radio"/> د) ب و ج <input type="radio"/></p>	<p>۱۱</p>
<p>هر واحد از مجموع نقوش هندسی که در يك زمینه قرار گرفته باشد را چه می گویند؟</p> <p>آلت گره <input type="radio"/> گره <input type="radio"/> واگیره <input type="radio"/> واحد گره <input type="radio"/></p>	<p>۱۲</p>
<p>آلت گره چگونه نام گذاری می شود؟</p> <p>بنا به شباهت <input type="radio"/> دست ساخت بشر <input type="radio"/> الهام گرفتن از آنچه در اطرافشان است <input type="radio"/> همه موارد <input type="radio"/></p>	<p>۱۳</p>
	<p>۱۴</p> <p>تصویر مقابل مربوط به کدام نوع قرینه سازی است؟</p> <p>انعکاسی <input type="radio"/> انتقالی <input type="radio"/> محوری <input type="radio"/> دورانی <input type="radio"/></p>
	<p>۱۵</p> <p>نام آلت گره مقابل چیست؟</p> <p>جناق <input type="radio"/> پابزی <input type="radio"/> ابابیل <input type="radio"/> کشتی <input type="radio"/></p>
	<p>۱۶</p> <p>نام آلت گره مقابل با کدام گزینه مطابقت دارد؟</p> <p>طبل <input type="radio"/> فرفره <input type="radio"/> بادبادك <input type="radio"/> کیوه <input type="radio"/></p>

موفق باشید - شیخی