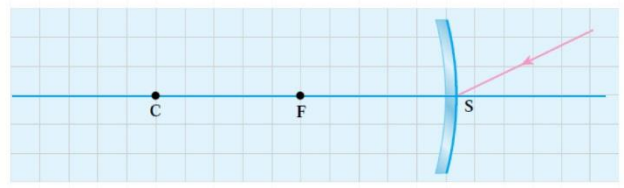
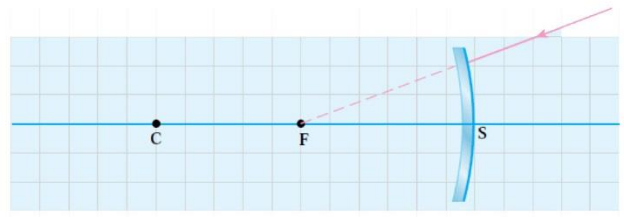


الف) پرتوی تابش به رأس آینه می‌تابد.

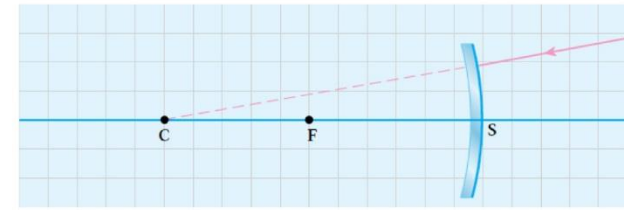
فعالیت ۱۱



ب) امتداد پرتوی تابش از کانون آینه می‌گذرد.



پ) امتداد پرتوی تابش از مرکز آینه می‌گذرد.



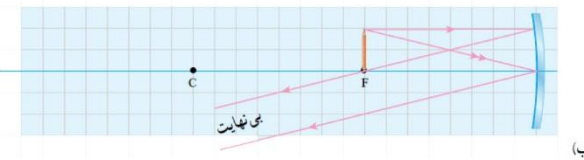
ویژگی‌های تصویر:

فعالیت ۹



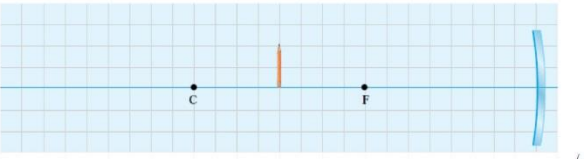
(الف)

ویژگی‌های تصویر:



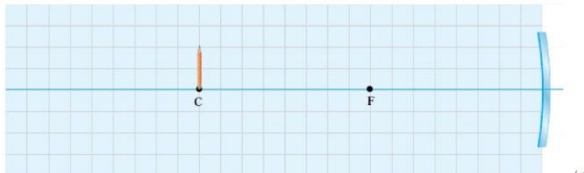
(ب)

ویژگی‌های تصویر:



(ب)

ویژگی‌های تصویر:



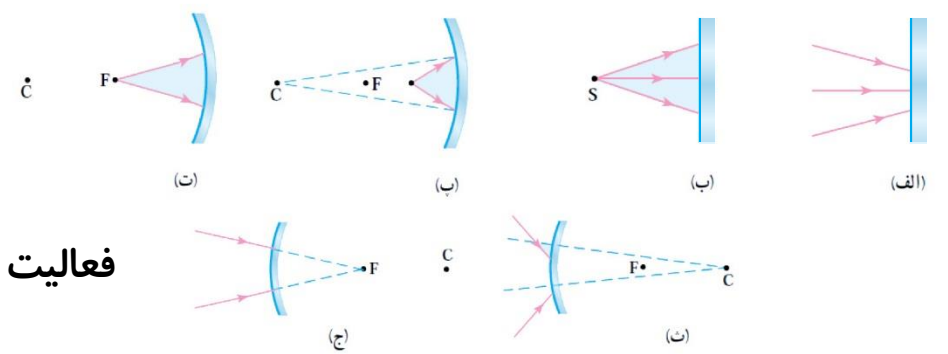
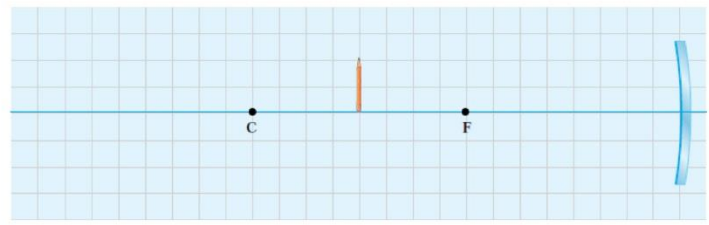
(ت)

ویژگی‌های تصویر:



(ت)

فعالیت ۱۴



فعالیت ۱۲