

به نام خدا

نام و نام خانوادگی :

آزمون ریاضی پایه ی پنجم دبستان زنده یاد پشایی بندر انزلی

1- به حروف و رقم بنویس .

الف : چهارصد و هشت میلیارد و سیزده هزار و نه : .....

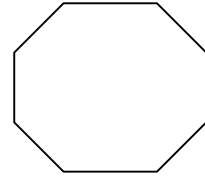
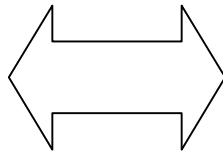
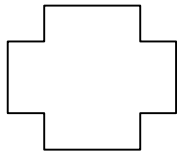
ب: 30000450019 : .....

2- پاسخ بده .

الف : 5 متر چند کیلومتر است ؟ ..... ب: 4 هکتار چند متر مربع است ؟ .....

ت : 82 میلی متر چند کیلومتر است ؟ ..... ث: 19 سانتی متر چند متر است ؟ .....

3- خط تقارن شکل های زیر را رسم کن . از مداد رنگی استفاده کن .



4- مقایسه کن .

$$8\frac{3}{9} \bigcirc 5\frac{10}{3}$$

$$4/08 \bigcirc 4/8$$

$$98\% \bigcirc 1\frac{1}{5}$$

$$7\frac{3}{4} \bigcirc 7/6$$

5- عملیات زیر را انجام داده و حاصل را به ساده ترین شکل ممکن بنویس .

$$3\frac{3}{6} + 9\frac{3}{7} =$$

$$8\frac{1}{5} - 3\frac{7}{8} =$$

$$\frac{5}{9} \times \frac{6}{25} =$$

$$1\frac{4}{6} \times 3\frac{3}{5} =$$

6- به سه صورت کسر و اعشار و درصد بنویس ..

کسر	اعشار	درصد
$\frac{4}{5}$		

کسر	اعشار	درصد
	$\frac{2}{8}$	

6- عملیات زیر را انجام بده .

$$\begin{array}{r} 9 \quad 37 \quad 49 \\ + 7 \quad 11 \quad 56 \\ \hline \end{array}$$

$$\begin{array}{r} 9 \quad 45 \quad 12 \\ - 4 \quad 38 \quad 57 \\ \hline \end{array}$$

$$\begin{array}{r} 3 \quad 6 \quad 5 \quad 4 \\ + 3 \quad 6 \quad 5 \quad 4 \\ \hline \end{array}$$

$$\begin{array}{r} 1 \quad 0 \quad 0 \quad 7 \quad 3 \\ - 5 \quad 6 \quad 5 \quad 4 \\ \hline \end{array}$$

$$\begin{array}{r} 9 \quad 8 \quad 5 \quad 7 \\ \times 4 \quad 6 \quad 4 \\ \hline \end{array}$$

7- مساله های زیر را حل کن .

الف : مجموع پول آرین و کیهان دویست هزار تومان است . اگر نسبت پول این دو به ترتیب مثل 3 و 5 باشد پول هر یک چقدر است ؟

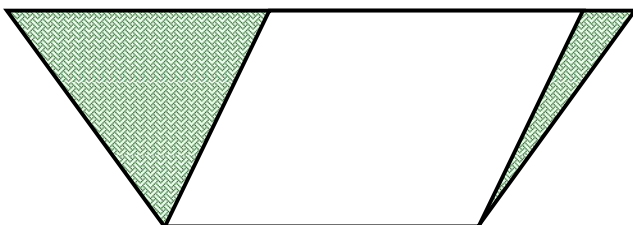
ب: عرفان برای خرید لباس عید ، ساعت  $18^{\text{ـ}}$   $25^{\text{ـ}}$  4 وارد فروشگاه خاطره شد و ساعت  $38^{\text{ـ}}$   $17^{\text{ـ}}$  خارج شد . او چه مدتی را در فروشگاه بوده است ؟

پ: آروین تمامی لباس هایش را از فروشگاهی خرید که 15% برای اجناس خود تخفیف قائل شده بود . او برای خرید لباس هایش 255000 تومان پرداخت کرده است . حساب کنید چقدر تخفیف گرفته است ؟ قیمت اصلی لباس های خریداری شده چقدر بوده است ؟

ت: مسافت انزلی - تهران 360 کیلومتر است . سهیل  $\frac{3}{5}$  این مسیر را طی کرده است . او چند کیلومتر را طی کرده است ؟

8- مثلثی رسم کنید که اضلاع آن به ترتیب 3 و 4 و 5 سانتی متر باشد .

9- مساحت قسمت هاشور خورده را حساب کن .  
قاعده های دوزنقه به ترتیب 450 متر و 300 متر و ارتفاع آن 250 متر است .



\* \* \* موفق باشی گلم \* \* \*