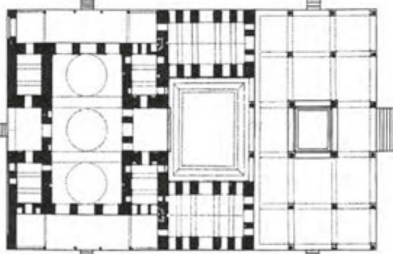



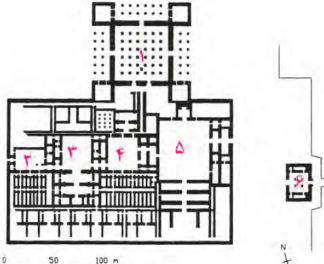
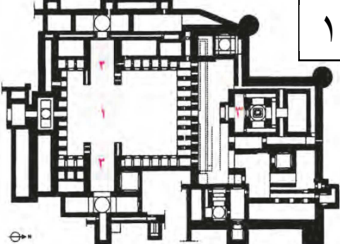



بنام خدا

مدیریت آموزش و پرورش اردبیل - ناحیه ۲

هنرستان فنی و حرفه ای استاد فرشچیان تاریخ: ۹۴/۱۰/۱۶ ساعت شروع: ۸/۰۰ صبح نیمسال اول سال تحصیلی ۹۴-۹۵
 سئوالهای درس: آشنایی با بناهای تاریخی رشته: نقشه کشی معماری مدت امتحان: ۶۰ دقیقه تعداد صفحات: ۲
 نام و نام خانوادگی: شماره صندلی: جواب ها در پاسخنامه نوشته شوند

۰/۲۵	۱	معمار مسجد امام اصفهان کیست؟
۱	۲	ارتباط تربیت اخلاقی را با حرفه آموزی را در معماری گذشته بیان کنید.
۱	۳	اولین نماد سکونتگاه های انسان را نام ببرید.
۰/۷۵	۴	عناصر شهر ساسانی را نام ببرید.
۱	۵	ورود ماشین به شهر چه تأثیراتی بر بافت آن گذاشت؟
۱	۶	چهار مورد از ویژگی های خانه اقلیم گرم و خشک ایران را بگویید.
۱	۷	منظور از محرّمیت و عدم اشراف را در معماری خانه بنویسید.
۰/۵	۸	طرح کلی خانه ها در منطقه سرد مشابه کدام منطقه آب و هوایی دیگر است؟
۰/۵	۹	اصطلاح "کران" چیست؟
۱	۱۰	چرا هخامنشیان تخت جمشید را ترکیبی از هنرهای اقوام مختلف قرار دادند؟
۱	۱۱	تالار "آپادانا" چه ویژگی هایی دارد؟
۱	۱۲	دو کار مهم پارتیان را نام ببرید و در مورد هر کدام مختصراً توضیح دهید.
۱	۱۳	معماری کاخ آشور چه تأثیری در معماری دوره های بعد داشت؟
۱	۱۴	مشخصات کاخ یا آتشکده فیروزآباد را بیان کنید.
۰/۵	۱۵	پلان مقابل مربوط به کدام بنا است؟ و در چه دوره ای ساخته شده است؟
		
۰/۵	۱۶	میان کورت کدام باغ مطبّق است؟ در کجاست؟
۰/۵	۱۷	بناهای بومی چه نوع بناهایی هستند؟
۱	۱۸	هدف از ساختن برج های کبوترخان را بنویسید.
۱	۱۹	هر آب انبار از چند قسمت تشکیل می شد؟ فقط ۴ مورد را نام ببرید.
۰/۵	۲۰	تصاویر مقابل متعلق به کدام بناها است؟
		

۰/۵		<p>پلان مقابل متعلق به کدام بنا است؟</p>	۲۱
۰/۵		<p>بنای مقابل چه کاربری داشته است؟</p>	۲۲
۱		<p>تصاویر مقابل بخشی از کدام بناها می باشد؟</p> 	۲۳
۱		<p>پلان مقابل مربوط به کدام بنا؟ و چه دوره ایی است؟</p>	۲۴
۱		<p>کاربری بناهای مقابل را بنویسید؟</p> 	۲۵

موفق باشید - آبانگاه

جواب ها در پاسخنامه نوشته شوند