


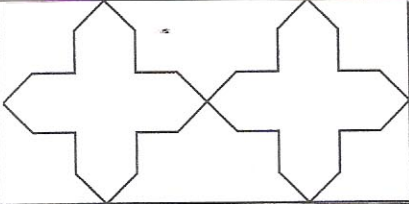


۰.۲۵		نام تصویر مقابل کدام گزینه است . ۱. پنج پری ۲. چهارلنگه ۳. ستاره ایرانی ۴. شمسه	۱
۰.۲۵		مربع های کوچک تر در کادر به صورت مورب و با زاویه ۴۵ درجه ترسیم میشوند . ۱. شبکه مربع مورب ۲. شبکه لوزی ۳. شبکه مثلث ۴. شبکه مربع	۲
۰.۲۵		تصویر مقابل به چه روشی قرینه سازی شده است ؟ ۱. دورانی ۲. انتقالی ۳. انعکاسی ۴. مرکب	۳
۰.۲۵		نام آلت گره مقابل کدام است ؟ ۱. سلی ۲. پایزی ۳. ابابیل ۴. کشتی	۴
۰.۲۵		نام گره مقابل چیست ؟ ۱. ستاره و صلیب ۲. هشت و چلیپا ۳. هشت و بازوبند ۴. همه موارد	۵
۰.۲۵		چنانچه مقدار زاویه داخلی یک آلت بیشتر از ۹۰ درجه باشد آن را گویند .	۶
۰.۵		هندسه در قدیم علم بوده است .	۷
۰.۵		از کاربرد های نقوش هندسی در زمینه های مختلف ۲ مورد نام ببرید .	۸
۰.۷۵		واگیره را تعریف کنید .	۹
۰.۷۵		هدف از گسترش نقوش هندسی در یک سطح وسیع چیست ؟ بنویسید .	۱۰