

بسمه تعالی

طراح: سید محمد شیخی


کاربرگ تابستانه چهارم به پنجم

نام و نام خانوادگی:


ردیف	« سوالات »	ردیف																											
	<p>به حروف و عدد بنویسید.</p> <p>(الف) ۴۷۲۳۴ :</p> <p>(ب) نود و میلیون و صد و بیست و پنج :</p>	۱																											
	<p>درستی و نادرسی جملات زیر را مشخص کنید.</p> <p>(الف) مربع ضلع مساوی دارد. <input type="checkbox"/> درست <input type="checkbox"/> نادرست</p> <p>(ب) وسیله اندازه گیری زاویه گونیا است. <input type="checkbox"/> درست <input type="checkbox"/> نادرست</p> <p>(ج) زاویه نیم صفحه برابر با ۱۸۰ درجه است. <input type="checkbox"/> درست <input type="checkbox"/> نادرست</p> <p>(د) عدد ۹۹۹، نه رقم دارد. <input type="checkbox"/> درست <input type="checkbox"/> نادرست</p>	۲																											
	<p>حاصل ضرب اعداد زیر را بدست آورید.</p> $\begin{array}{r} 1467 \\ \times 4 \\ \hline \end{array}$ $\begin{array}{r} 436 \\ \times 75 \\ \hline \end{array}$	۳																											
	<p>عدد مقابل را در جدول ارزش مکانی قرار دهید</p> <p><u>۷۶۵۴۲۷۰۳</u></p> <table border="1" data-bbox="140 1675 1214 2033"> <tr> <td colspan="3">میلیون</td> <td colspan="3">هزار</td> <td colspan="3"></td> </tr> <tr> <td>ص</td> <td>د</td> <td>ی</td> <td>ص</td> <td>د</td> <td>ی</td> <td>ص</td> <td>د</td> <td>ی</td> </tr> <tr> <td></td> <td></td> <td></td> <td></td> <td></td> <td></td> <td></td> <td></td> <td></td> </tr> </table>	میلیون			هزار						ص	د	ی	ص	د	ی	ص	د	ی										۴
میلیون			هزار																										
ص	د	ی	ص	د	ی	ص	د	ی																					

کسر های داده شده را روی شکل نشان بده .

۵



$$\frac{1}{6}$$



$$\frac{1}{2}$$

الگو های زیر را ادامه دهید.

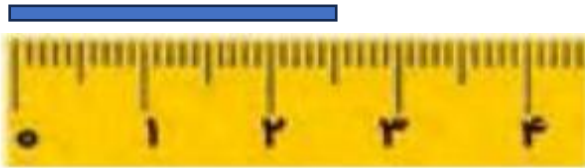
۶

۳ , ۹ , ۱۵ , ۲۴ , , ,

۲ , ۱۲ , ۲۲ , ۳۲ , ,

اندازه طول نوار کاغذی را به دو صورت مخلوط و اعشاری بنویس.

۵۷



اعشاری : عدد مخلوط :

حاصل را به دست آورید را بدست آورید.

۸

$$\frac{1}{3} + \frac{2}{3} =$$

$$\frac{7}{10} + \frac{2}{10} =$$

پیروز و سربلند باشید.

ارزیابی:

سید محمد شیخی