


تاریخ:

آموزگار:

آموزشگاه:

نام و نام خانوادگی:

برای هر نشانه چهار کلمه بنویس. 

ث ث

پ پ

ب ب


|  |
|--|
|  |
|  |
|  |
|  |



|  |
|--|
|  |
|  |
|  |
|  |



|  |
|--|
|  |
|  |
|  |
|  |

نام تصاویر زیر را بنویس. 




|  |
|--|
|  |
|--|

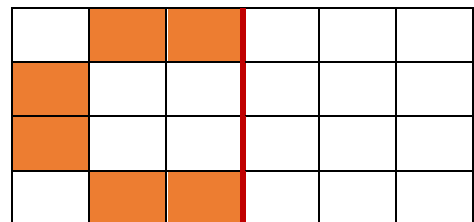

|  |
|--|
|  |
|--|


|  |
|--|
|  |
|--|

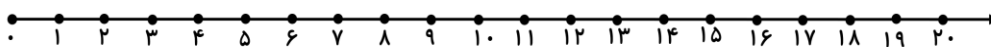
|  |
|--|
|  |
|--|

|  |
|--|
|  |
|--|

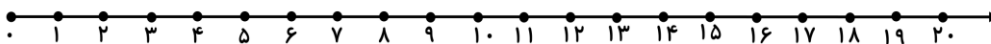
شکل را طوری رنگ کن که دو طرف آن مثل هم باشد. 




با کمک محور جمع یا تفریق کن. 



$$2 + 4 + 5 =$$




$$20 - 10 - 2 =$$

کدام یک روی آب می ماند؟ علامت بزن. 



www.tarahisoal.ir


جاهای خالی را با نوشتن عدد مناسب کامل کن. 



۴۷ برابر است با ..... دسته ده تایی و ..... یکی.

۵۸ برابر است با ..... دسته ده تایی و ..... یکی.


۳۰ برابر است با ..... دسته ده تایی و ..... یکی.

برای عددهای داده شده چوب خط بکش. 

۱۲



۱۷

هر تصویر را به کلمه خودش وصل کن. 



نقاش



نجار



پلیس

باز خورد آموزگار:

