



قرآن ۱ تا ۲۰

هدیه ۱ تا ۲۰

فارسی ۱ تا ۶۰

اجتماعی ۱ تا ۸۰

علوم ۱ تا ۱۰۰

فناوری ۱ تا ۱۲۰

زمان ۱۲۰ دقیقه

کتابخانه دیجیتال
دانشگاه تهران

از سون

کتابخانه

کتابخانه مرکزی
فردوسی

نام و نام خانوادگی

.....

قرآن

۱. قرآن معجزه کدام پیامبر خدا می باشد
 (۱) حضرت نوح (۲) حضرت محمد (۳) حضرت عیسی (۴) حضرت موسی
۲. آیه **وَلَا تَلْمِزُوا أَنْفُسَكُمْ وَلَا تَنَابَزُوا بِالْأَلْقَابِ**
 (۱) به خواندن نماز سر وقت (۲) به قرآن خواندن فراوان
 (۳) به چیزی اشاره دارد. (۴) احترام به بزرگترها
۳. معنی کلمه قرآنی جنود چیست
 (۱) لشکریان (۲) بهشتیان (۳) جهنمیان (۴) فرشتگان
۴. در قرآن چند نوع صدا داریم، نام ببرید
 (۱) دونوع - بلند و آهسته (۲) سه نوع - فتحه، کسره، ضمه (۳) چهار نوع کوتاه، کشیده، بلند، کوتاه (۴) دونوع کوتاه و بلند
۵. قرآن دارای جزء و حزب و سوره می باشد.
 (۱) ۱۱۴-۱۹-۲۵ (۲) ۱۱۸-۲۶-۳۰ (۳) ۱۱۴-۱۲۰-۳۰ (۴) ۱۱۴-۳۰-۱۲۰
۶. معنی پیام قرآنی رو برو چیست؟
 (۱) نماز به پا دارید (۲) قطعاً پیروزی بزرگی نصیب شما خواهد شد (۳) هر شخصی به نتیجه عمل خود می رسد (۴) زکات بدهید
۷. قرآن دارای آیه می باشد
 (۱) ۵۸۹۶ آیه (۲) ۶۲۳۹ آیه (۳) ۷۷۸۰۷ آیه (۴) ۶۲۳۶ آیه
۸. آیه **أَيُّهَا الَّذِينَ آمَنُوا لَا تَتْلُوا كِتَابَ اللَّهِ جَهْدًا وَلَا حَوْلًا وَلَا حِسَابًا** چند بار در سوره الرحمن تکرار شده است؟
 (۱) ۳۰ بار (۲) ۳۱ بار (۳) ۳۲ بار (۴) ۳۴ بار
۹. آیه **لَا يَمَسُّهُ إِلَّا الْمُطَهَّرُونَ** با معنی **با وضو و پاکیزگی به قرآن دست می زنند** در کجای قرآن است؟
 (۱) آیه ۱ سوره واقعه (۲) آیه ۱۶ سوره واقعه (۳) آیه ۱۱۸ سوره الرحمن (۴) آیه ۷۹ سوره واقعه
۱۰. معنی کلمه **آمَنُوا** در قرآن چیست؟
 (۱) ایمان آورید (۲) ایمان آوردند (۳) ایمان بیاورید (۴) ایمان آورد
۱۱. سوره بعنوان قلب قرآن لقب گرفته است.
 (۱) سوره الرحمن (۲) سوره حمد (۳) سوره یس (۴) سوره توبه
۱۲. در آیه **وَأَنْفِقُوا فِي سَبِيلِ اللَّهِ وَاتَّقُوا اللَّهَ** و **اتفاق کنید در ...** در جای خالی چه نوشته می شود
 (۱) راه خدا (۲) خدای عزیز (۳) پروردگار (۴) عمل صالح
۱۳. در قرآن حروف مقطعه وجود دارد که در سوره آمده است.
 (۱) ۲۹-۱۴ (۲) ۲۹-۱۹ (۳) ۳۵-۱۴ (۴) ۳۲-۱۲
۱۴. نام دزدی که با گوش فرا دادن به قرآن عارف شد که بود؟
 (۱) فضیل بن عمران (۲) فضیل بن عیاض (۳) کمیل بن زیاد (۴) سلمان فارسی

۱۵. مفهوم حدیث پیامبر که می فرماید (دهانهای خود را مساوی بزنید که دهان شما گذرگاه قرآن است) کدام آیه قرآنی می باشد

(۱) آیه ۱۵ سوره حدید (۲) آیه ۳۴ سوره الرحمن (۳) آیه ۲۸ سوره بقره (۴) آیه ۷۹ سوره واقعه

۱۶. کلمه وسط سوره حمد کدام است.

(۱) نستعین (۲) ایاک (۳) مالک (۴) یوم الدین

۱۷. معنی آیه **اللَّهُ خَالِقُ كُلِّ شَيْءٍ** کدام گزینه می باشد.

(۱) خدا خالق همه چیز است (۲) خدا با همه مهربان است (۳) خدا قادر و توانا است (۴) پروردگار جبار است

۱۸. پایه های همزه در قرآن کدامند

(۱) و-ی-ا-ن (۲) و-د-س-ا (۳) و-ا-ل-ی (۴) و-پ

۱۹. حروف ناخوانا در قرآن کدامند

(۱) و-ا-ل-ب (۲) ش-و-د-ه (۳) و-ا-ل-ی (۴) گ-چ-پ-ژ

۲۰. معنی آیه قرآنی **إِنَّمَا الْمُؤْمِنُونَ إِخْوَةٌ** کدام گزینه می باشد.

(۱) مومنان برادران یکدیگرند (۲) مومنان نماز می خوانند (۳) مومنان دوست هم هستند (۴) مومنان با ایمانند

هدیه های آسمان

۲۱. ((لَوْ كَانَ فِيهِمَا آلَاءُ اللَّهِ لَفَسَدَتَا)) یعنی؟؟

(۱) اگر در آسمان خدای دیگری بود آسمان بهم می ریخت (۲) اگر در آسمان خدای دیگری جز الله بود زمین از هم می پاشید

(۳) اگر خدایان دیگری بود آسمان و زمین بهم می ریخت (۴) اگر خدایان دیگری باشد زمین و آسمان بهم می ریزد

۲۲. این سخن از کیست ((پسر عزیزم ، بدان اگر پروردگار تو شریکی داشت پیامبران او نزد تو می آمدند))

(۱) امام حسین (ع) (۲) امام حسن (ع) (۳) امام سجاد (ع) (۴) امام علی (ع)

۲۳. در پی پیشنهاد مشرکان که به پیامبر گفتند ((یک سال ما خدای تو را می پرستیم و یک سال تو خدای ما را پرست)) کدام

سوره بر پیامبر نازل شد؟

(۱) سوره کافرون (۲) سوره حمد (۳) سوره توحید (۴) سوره بقره

۲۴. وظیفه ما در برابر نعمت های خدا چیست؟

(۱) دعا کردن (۲) اطاعت از خدا (۳) قرآن خواندن (۴) امر به معروف و نهی از منکر

۲۵. خداوند در قرآن چه کسی را بعنوان پدر خدا پرستان نامیده است؟

۱) حضرت علی (ع) ۲) حضرت محمد (ص) ۳) حضرت ابراهیم (ع) ۴) حضرت عیسی (ع)

۲۶. جای خالی آیه مقابل با کدام کلمه پر می شود ((لَكُمْ وَلِيَّ الدِّينِ))

۱) أَنْتُمْ ۲) عَبْدُكَ ۳) دِينَكُمْ ۴) عَبْدُ

۲۷) خداوند در کدام سوره از روز قیامت به عنوان ((یوم الدین)) یاد کرده است؟

۱) سوره بقره ۲) سوره کوثر ۳) سوره حمد ۴) سوره قیامت

۲۸. روز مبارزه با استکبار نمایان گر کدام مورد زیر است .

۱) تولی ۲) تبری ۳) توحید ۴) معاد

۲۹. ((همانا من برای قیام کردم.)) این سخن از کیست و با کدام واژه کامل می شود .

۱) امام حسین، امر به معروف (۲) امام حسین، اصلاح امت جدم (۳) امام علی، اصلاح امت جدم (۴) امام حسن، امر به معروف

۳۰. پیام آور کربلا لقب کیست؟

۱) امام حسین ۲) امام علی ۳) حضرت زینب ۴) حضرت عباس

۳۱. در حال حاضر بعنوان جانشینان امام زمان (عج) شناخته می شوند .

۱) عالمان و روحانیون ۲) ولایت فقیه ۳) مراجع تقلید ۴) همه موارد

۳۲. این سخن از کیست ((مومن قوی و نیرومند، بهتر از مومن ضعیف و ناتوان است))

۱) امام علی ۲) امام حسن ۳) امام کاظم ۴) پیامبر اکرم

۳۳. دانش آموزی که به خدا و جهان آخرت ایمان دارد در برخورد با دیگران چگونه است؟

۱) هر چه دیگران گفتند او چشم می گوید ۲) خود را بالاتر می داند و به همه امر به معروف و نهی از منکر می کند

۳) با دیگران بر اساس دستورات خدا عمل می کند ۴) همه موارد

۳۴. صفوان از یاران کدام امام بود؟

۱) امام هادی ۲) امام کاظم ۳) امام جعفر صادق ۴) امام حسین

۳۵. وقتی مسافر نماز خود را شکسته می خواند که مدت مسافرت آن کمتر از روز باشد و فاصله تا محل سکونتش بیشتر از

..... کیلومتر باشد .

۱) ۱۲ روز - ۲۰ کیلومتر ۲) ۱۲ روز - ۲۰ کیلومتر ۳) ۱۲ روز - ۲۰ کیلومتر ۴) ۱۰ روز - ۲۲ کیلومتر

۳۶. اگر روزه دار بعد از ظهر مسافرت کند روزه اش و اگر قبل از ظهر مسافرت کند روزه اش است.

(۱) باطل - صحیح (۲) صحیح - باطل (۳) باطل - باطل (۴) صحیح - صحیح

۳۷. پس از ماه رمضان عید است و در روزی مسلمانان قربانی می دهند عید است.

(۱) فطر - قربان (۲) فطر - نوروز (۳) قربان - فطر (۴) نوروز - قربان

۳۸. کدام جمله درباره بیت روبرو درست است نابرده رنج گنج میسر نمی شود مزد آن گرفت جان برادر که کار کرد

(۱) با تلاش می توان به موفقیت رسید (۲) باید مزد کار خود را به برادر خود داد (۳) بی تلاش هر می توان موفق شد (۴) همه موارد

۳۹. کدام گزینه بعنوان محرم ما نمی باشد.

(۱) عم - (۲) مادر بزرگ (۳) خاله (۴) شوهر عمه

۴۰. آیه روبرو درباره کدام کار زشت تذکر می دهد **إِنَّمَا النَّجْوَى مِنَ الشَّيْطَانِ**

(۱) دزدی کردن (۲) شوخی های بی جا (۳) غیبت کردن (۴) درگوشی صحبت کردن

فارسی

۴۱. به سخنی که دو مفهوم دور یا نزدیک دارد و منظور ما معنی دور آن است چه می گویند؟

(۱) کنایه (۲) تشبیه (۳) مبالغه (۴) تلمیح

۴۲. عطار نیشابوری کدام کتاب خود را به مولانا هدیه داد؟

(۱) بوستان (۲) مثنوی (۳) اسرار نامه (۴) سیاست نامه

۴۳. کدام گزینه برای جای خالی مناسب می باشد؟

((دادند دو گوش و یکی زبانت ، یعنی که بشنو و بیش مگوی))

(۱) یکی - دو (۲) دو - یکی (۳) سه - دو (۴) یکی - یکی

۴۴. با توجه به بیت مقابل کدام مورد صحیح می باشد. ((علم چندان که بیشتر خوانی چون عمل در تو نیست نادانی))

(۱) علم باید همراه عمل باشد (۲) عمل به تنهایی کافی نیست (۳) علم و عمل ارتباطی با هم ندارند (۴) موارد ۱ و ۲

۴۵. آرامگاه دهخدا در کجاست؟

(۱) شهری (۲) همدان (۳) شیراز (۴) میناب

۴۶. با توجه به بیت مقابل کدام گزینه درست است ((برگ درختان سبز در نظر هوشیار هر ورقش دفتریست معرفت کردگار))

(۱) زیبایی خداوند (۲) قدرت خداوند (۳) شناخت خداوند (۴) شکوه و جلال خدا

۴۶. از آداب غذا خوردن کدام گزینه درست می باشد؟

- ۱) تا جا دارد باید بخورد ۲) سهر دیگران هم می توان خورد ۳) لقمه بزرگ نگیرد و فراخ باز نکند ۴) همه موارد
۴۷. یادداشت کردن رویدادهای روزانه و نوشتن خاطرات را می گویند .

- ۱) خاطره نویسی ۲) شرح حال نویسی ۳) خلاصه نویسی ۴) چیستان
۴۸. کدام واژه درست معنی نشده است .

- ۱) برهه : مقطع ۲) احیا : بازگرداندن ۳) پار : پارچه ۴) تعلل : درنگ کردن

۴۹. کدام کلمه جمع نیست ؟ ۱) ملائک ۲) ازدها ۳) وحوش ۴) درختان

۵۰. کدام یک مفرد است ؟ ۱) لون ۲) اسرار ۳) ایلات ۴) حواس

۵۱. کدام گزینه موصوف و صفت است؟ ۱) اندیشه ی قوی ۲) توان مرد ۳) انتخاب دوست ۴) درس مشورت

۵۲. در این عبارت چند غلط املایی وجود دارد (یکی از بچه های مکتب درخواست و گفت: او چه نعمتی است، جز، پرگویی و عدعا و دررینختگی زاهر) ۱) یک غلط ۲) دو غلط ۳) سه غلط ۴) چهار غلط

۵۳. متضاد کلمه ((طلوع)) کدام گزینه است ۱) فروغ ۲) مغرب ۳) طلپعه ۴) غروب

۵۴. در جمله ((مجید پیری فرد معلم کلاس ششم دبستان قدس بهمی است)) نهاد و گزاره به چه صورت می باشد .

- ۱) مجید، کلاس ششم ۲) ششم، دبستان بهمی ۳) مجید پیری فرد، معلم کلاس ششم دبستان قدس بهمی است ۴) گزینه ۱ و ۲

۵۵. منظور از ((مرد بی برادر باشد به گه بی دوست)) چیست ؟

- ۱) بی برادر بودن خوب است ۲) بی دوست بودن خوب است ۳) بی دوست، بهتر از بی برادر است ۴) بی برادر، بهتر از بی دوست است

۵۶. از دیدگاه امام محمد غزالی در کیمیای سعادت: مردم از سه جنس اند: بعضی...

- ۱) چون غذا بعضی چون دارو و بعضی مانند بیماری هستند. ۳) چون دوست بعضی چون برادر و بعضی چون نفس اند.

- ۲) چون جسم بعضی چون روح و بعضی مانند روانند. ۴) چون خوبان بعضی میانه و بقیه بد فرجامند.

۵۷. مترادف و هم خانواده کلمات (فراخ- غافل) به ترتیب کدام گزینه می شود.

- ۱) باز، غافل ۲) گسترده، غفلت ۳) باز، غفیله ۴) پریشان، غفلت

۵۸. جمله (خیز و غنیمت شمار جنبش باد ربیع) چگونه جمله ای است ؟

- ۱) پرسشی ۲) خبری ۳) عاطفی ۴) امری

۵۹. کدام یک از کلمات مترادف (هم معنی) هستند .

- ۱) تفاوت - شباهت ۲) پیوستگی - اتحاد ۳) شجاع - ترسو ۴) مفید - مضر

۶۰. در بیت ((بزد تیغ و بنداخت از برش فروریخت چون رود خون از برش)) کدام مورد بکار رفته است؟

(۱) تشبیه (۲) مبالغه (۳) کنایه (۴) استعاره

اجتماعی

۶۱. کدام یک از فعالیت های زیر در کشاورزی باغداری به حساب می آید؟

(۱) کشت گندم (۲) درخت انار (۳) گوجه فرنگی (۴) هویج

۶۲. کدام یک سوخت فسیلی است؟ (۱) نفت (۲) برق (۳) چوب (۴) کاغذ

۶۳. انرژی هسته ای از شکافتن هسته ی بعضی عناصر مثل بدست می آید.

(۱) آهن (۲) مس (۳) اورانیوم (۴) آلومنیوم

۶۴. کدام یک انرژی تجد ناپذیر است؟ (۱) باد (۲) آب (۳) خورشید (۴) گاز

۶۵. نخستین گام در تصمیم گیری است.

(۱) خوب فکر کردن (۲) انتخاب بهترین راه (۳) پیش بینی نتایج (۴) بررسی راه حل ها

۶۶. اولین چاه نفت ایران در کدام استان حفر شده است؟ (۱) تهران (۲) هرمزگان (۳) خوزستان (۴) بوشهر

۶۷. از کدام یک می توان انرژی الکتریکی بدست آورد؟ (۱) سوخت فسیلی (۲) انرژی هسته ای (۳) باد (۴) همه موارد

۶۸. کدام یک از موارد زیر باعث پیشرفت علمی مسلمانان است؟

(۱) تعالیم دین اسلام (۲) حمایت فرمانروایان (۳) نیازهای جوامع مسلمان (۴) همه موارد

۶۹. ((کشاورزی و درختکاری کنید، به خدا قسم هیچ کاری برای مردم، حلال تر و پاکیزه تر از آن نیست)) این سخن از کیست؟

(۱) امام جعفر صادق (ع) (۲) امام حسن عسکری (ع) (۳) امام علی (ع) (۴) امام محمد تقی (ع)

۷۰. در برجسپ انرژی کدامیک بهترین است؟ (۱) B (۲) C (۳) F (۴) A

۷۱. به ساعت شب پیک یا اوج مصرف برق می گویند

(۱) ۱۰ تا ۱۱ (۲) ۷ تا ۱۱ (۳) ۷ تا ۸ (۴) ۹ تا ۱۱

۷۲. مدارس بود که عده ی در آنجا درس می خواندند و همانجا زندگی می کردند و دولت خرج آنها را می داد.

(۱) رصد خانه (۲) چاپارخانه (۳) نظامیه (۴) کتاب خانه ها

۷۳. مسلمانان با چه وسیله ای موقعیت ستارگان را مطالعه می کردند؟

(۱) قطب نما (۲) اسطرلاب (۳) علم ریاضی (۴) ستاره قطبی

۷۴. ساعت شمعی از اختراعات کدام دانشمند مسلمان است؟ (۱) زکریای رازی (۲) اسمعیل جزری (۳) ابن سینا (۴) خیام

۷۵. کدام یک در گلخانه ها با دستگاههای مختلف تنظیم می شود؟

(۱) رطوبت (۲) نور و گرما (۳) آب و هوا (۴) همه موارد

۷۶. کدام یک از نشانه های معماری اسلامی است؟ (۱) گنبد (۲) میدان (۳) ستون (۴) ایوان

۷۷. نام یکی از خطاطان معروف دوره صفوی..... بود.

(۱) حسین ناصری (۲) غلام رضا عباسی (۳) محمد حامدی (۴) علیرضا عباسی

۷۸. برنج گیاهی..... است که در نواحی..... و..... بدست می آید.

(۱) یک ساله، مرطوب و خشک (۲) دوساله، مرطوب و خشک (۳) یکساله، مرطوب و نسبتاً معتدل (۴) دوساله، مرطوب و آفتابی

۷۹. بزرگترین تجارت امروز در جهان چیست؟

(۱) تولید برق (۲) پرورش گیاهان گلخانه ای (۳) تولید ماشین آلات صنعتی (۴) واردات و صادرات نفت

۸۰. به زمانی که پس از انجام کاریا تکالیف درسی فرصت می کنیم فعالیت های دیگر انجام دهیم چه می گویند؟

(۱) اوقات تلف شده (۲) اوقات فراغت (۳) اوقات بی حالی (۴) اوقات سخت

علوم

۸۱. در کدام مورد زیر هر دو مانده طبیعی هستند

(۱) الماس و طلا (۲) الماس و کاغذ (۳) کاغذ و بنزین (۴) پشم و شیشه

۸۲. چرا بادکنک های مالش داده شده به موها به دیوار نمی چسبند؟

(۱) دیوار خیس است (۲) موها خیس است (۳) پنکه کلاس روشن است (۴) همه موارد

۸۳. مواد تشکیل دهند کاغذ چیست؟

(۱) چوب، پلاستیک، گچ (۲) چوب، روغن، رب گوجه (۳) رنگ، نشاسته، کلر (۴) موارد ۱ و ۳

۸۴. وقتی سنگ گره بر اثر نیروهای داخل زمین می شکند چه اتفاقی می افتد؟

(۱) آتش فشان (۲) تشکیل گوه (۳) سنگ گره درخشان می شود (۴) زمین لرزه

۸۵. ((وایتکس)) نام دیگر کدام یک از گزینه ها می باشد؟

(۱) آب اکسیژنه (۲) آب ژاول (۳) پتاسیم پرمنگنات (۴) پتاسیم کلرید

۸۶. از فلز..... در ساخت قطعات و وسایل کارخانه کاغذ سازی استفاده می شود.

(۱) آلومنیوم (۲) مس (۳) آهن (۴) جیوه

۸۷. اسیدهای خوراکی چه مزه ای دارند؟ (۱) شیرین (۲) ترش (۳) شور (۴) تلخ
۸۸. کدام یک از موارد به یادگیری بیشتر کمک می کند. (۱) مشاهده (۲) یادداشت برداری (۳) نتیجه گیری (۴) اندازه گیری
۸۹. راه شناسایی اسیدها کدام است؟ (۱) چشیدن (۲) لمس کردن (۳) بویدن (۴) کاغذ پی اچ
۹۰. جنس هسته زمین از چیست؟ (۱) آهن (۲) آهن و نیکل (۳) آهن و نیکل و کروم (۴) هیچکدام
۹۱. تاثیر مستقیم دو جسم مانند هل دادن برای جلوگیری از بسته شدن در را می گویند.

(۱) کار (۲) توان (۳) انرژی (۴) نیرو

۹۲. کدام یک جزء فواید آتشفشانها است؟

(۱) تشکیل سرزمین ها و جزایر (۲) جریان گدازه (۳) تشکیل معادن (۴) موارد ۱ و ۳

۹۳. پیشنهاد راه حل های احتمالی برای انجام یکی مسئله کدام گزینه است؟ (۱) فرضیه (۲) مشاهده (۳) نظریه (۴) آزمایش

۹۴. برای آهن زنگ نزن، آهن را با چه عنصری مخلوط می کنند؟

(۱) کروم (۲) هیدروژن (۳) آلومنیوم (۴) جیوه

۹۵. از کدام قسمت درخت نمی توان کاغذ تهیه کرد؟ (۱) ساقه (۲) تنه درخت (۳) شاخه درخت (۴) برگ درخت

۹۶. امروزه اطلاعات را چگونه نگهداری می کنند؟ (۱) روی دیوار غارها (۲) روی تنه درختان (۳) روی سنگ ها (۴) هیچکدام

۹۷. کدام قسمت از زمین گرمای بیشتری دارد؟ (۱) گوشته (۲) هسته خارجی (۳) خمیر کره (۴) هسته داخلی

۹۸. مسلمانان حدود چند سال پیش به دانش کاغذ دست یافتند؟ (۱) ۱۳۱۲ (۲) ۱۲۹۸ (۳) ۸۰۰ (۴) ۷۰۰

۹۹. مهم ترین گازهای تولید شده از دهانه های آتشفشان کدام می باشد؟

(۱) بخار آب و کربن دی اکسید (۲) کربن دی اکسید و نیتروژن (۳) کربن دی اکسید و نیکل (۴) بخار آب و آکسیژن

۱۰۰. کدام یک از آتشفشانها نیمه فعال می باشد؟ (۱) سهند (۲) سبلان (۳) دماوند (۴) هاوایی

فناوری

۱۰۱. یک صفحه کلید شامل کدامیک از کلید های زیر می شود؟

(۱) کلیدهای حرفی (۲) کلیدهای اعداد (۳) کلید فاصله (۴) همه موارد

۱۰۲. بعد از روشن شدن رایانه، صفحه ای نمایان می شود که به آن می گوئیم.

(۱) ویندوز (Windows) (۲) نماد (Icon) (۳) میز کار (Desktop) (۴) صفحه نمایش (Monitor)

۱۰۳. با حرکت دادن ماوس، علامت فلشی روی صفحه نمایش حرکت می کند به این علامت می گوئیم.

(۱) نماد (Icon) (۲) کلیک (Click) (۳) اشاره گر (pointer) (۴) میز کار (Desktop)


۱۰۴. در هنگام کار کردن با رایانه باید به چه نکات بهداشتی توجه کرد؟


۱) فاصله صفحه نمایش از چشم (۲) تنظیم تکیه گاه پشت (۳) تنظیم ارتفاع صندلی (متناسب با قد) (۴) همه موارد

۱۰۵. به تصاویر کوچکی که در میز کار رایانه قرار دارند چه می گوئیم؟


۱) اشاره گر (pointer) (۲) ویندوز (Windows) (۳) نماد (Icon) (۴) دکمه شروع

۱۰۶. برنامه نقاشی از کدام مسیر زیر اجرا می شود؟

۱)  ← همه برنامه ها ← نقاشی

۲)  ← همه برنامه ها ← لوازم جانبی ← نقاشی

۳) روشن (power) ← همه برنامه ها ← لوازم جانبی ← نقاشی

۴)  ← لوازم جانبی ← نقاشی



۱۰۷. کدامیک از موارد زیر از اجزاء سخت افزار رایانه محسوب نمی شود؟

۱) صفحه نمایش (Monitor) (۲) کاز (Case) (۳) ویندوز (Windows) (۴) چاپگر (Printer)

۱۰۸. با روشن شدن رایانه، برنامه ای به نام اجرا می شود.

۱) میز کار (Desktop) (۲) ورد (Microsoft Word) (۳) ویندوز (Windows) (۴) نقاشی (Paint)

۱۰۹. برای نوشتن متن در صفحه نقاشی از کدام ابزار زیر استفاده می کنیم؟

۱)  (۱)  (۲)  (۳)  (۴)

۱۱۰. برای تغییر رنگ داخل شکل های بسته تو خالی از کدام ابزار زیر استفاده می کنیم؟

۱)  (۱)  (۲)  (۳)  (۴)

۱۱۱. در صورتی که حرفی را در برنامه واژه پرداز ورد اشتباه نوشتیم، با کدام کلید آن را پاک کنیم؟

۱) کلید های جهت (۲) کلید Delet (۳) کلید پس بر (BackSpace) (۴) کلید فاصله

۱۱۲. با پایین نگه داشتن کلید Alt و فشردن کدام کلید زیر تغییر زبان صورت می گیرد؟

۱) Ctrl (۲) Tab (۳) shift (۴) Caps Lock





۱۱۳. کدام حافظه زیر اطلاعات را به صورت دائمی ذخیره می کند؟

۱) لوح فشرده (DVD) (۲) دیسک سخت (Hard Disk) (۳) حافظه اصلی (۴) گزینه الف و ب

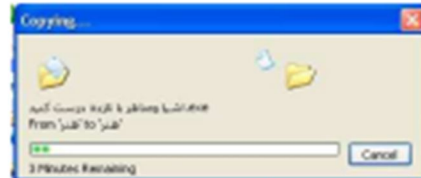
۱۱۴. کدامیک از گزینه های زیر از نوع حافظه پایدار است و در درون رایانه قرار دارد؟

۱) حافظه اصلی (۲) حافظه فلش (۳) دیسک سخت (Hard Disk) (۴) لوح فشرده (CD)


۱۱۵. بعد از عمل حذف، پرونده یا پوشه در داخل قرار می گیرد.

- (۱) - دیسک محلی  ○ (۲) - کتابخانه ها 
- (۳) - سطل زباله  ○ (۴) - نماد رایانه 





۱۱۶. شکل زیر مربوط به کدام گزینه می باشد؟







- (۱) - کپی ○ (۲) حذف ○ (۳) ج- بازیابی ○ (۴) انتخاب
۱۱۷. کدام یک از گزینه های زیر حافظه ناپایدار می باشد؟

- (۱) - لوح فشرده (DVD)  ○ (۲) - دیسک سخت (Hard Disk) 
- (۳) - حافظه ی (Memory)  ○ (۴) فلش 

۱۱۸. کلیک کردن روی یک پرونده یا پوشه را می گوئیم.

- (۱) - انتخاب (select)  ○ (۲) - copy 
- (۳) - جی کشوری  ○ (۴) بازیابی 

۱۱۹. کدامیک از اشکال زیر پرونده نیست؟

- (۱) -  ○ (۲)  ○ (۳) -  ○ (۴) 

۱۲۰. برای تغییر نوع قلم بر روی کدامیک از شکل های زیر کلیک می کنید؟

- (۱) -  ○ (۲)  ○ (۳)  ○ (۴) 

به نام الله

آزمون علمی کلاس ششم دبستان قدس بهمین

بهمین ماه ۹۱

نام و نام خانوادگی..... تعداد صحیح..... تعداد غلط..... امتیاز با نمره منفی.....

توجه: فقط برای هر سوال یک خانه را با مداد پررنگ می کنید. هر سه جواب غلط یک نمره منفی دارد

سوال	زینه ها				سوال	زینه ها				سوال	زینه ها			
۱	۱	۲	۳	۴	۴۱	۱	۲	۳	۴	۸۱	۱	۲	۳	۴
۲	۱	۲	۳	۴	۴۲	۱	۲	۳	۴	۸۲	۱	۲	۳	۴
۳	۱	۲	۳	۴	۴۳	۱	۲	۳	۴	۸۳	۱	۲	۳	۴
۴	۱	۲	۳	۴	۴۴	۱	۲	۳	۴	۸۴	۱	۲	۳	۴
۵	۱	۲	۳	۴	۴۵	۱	۲	۳	۴	۸۵	۱	۲	۳	۴
۶	۱	۲	۳	۴	۴۶	۱	۲	۳	۴	۸۶	۱	۲	۳	۴
۷	۱	۲	۳	۴	۴۷	۱	۲	۳	۴	۸۷	۱	۲	۳	۴
۸	۱	۲	۳	۴	۴۸	۱	۲	۳	۴	۸۸	۱	۲	۳	۴
۹	۱	۲	۳	۴	۴۹	۱	۲	۳	۴	۸۹	۱	۲	۳	۴
۱۰	۱	۲	۳	۴	۵۰	۱	۲	۳	۴	۹۰	۱	۲	۳	۴
۱۱	۱	۲	۳	۴	۵۱	۱	۲	۳	۴	۹۱	۱	۲	۳	۴
۱۲	۱	۲	۳	۴	۵۲	۱	۲	۳	۴	۹۲	۱	۲	۳	۴
۱۳	۱	۲	۳	۴	۵۳	۱	۲	۳	۴	۹۳	۱	۲	۳	۴
۱۴	۱	۲	۳	۴	۵۴	۱	۲	۳	۴	۹۴	۱	۲	۳	۴
۱۵	۱	۲	۳	۴	۵۵	۱	۲	۳	۴	۹۵	۱	۲	۳	۴
۱۶	۱	۲	۳	۴	۵۶	۱	۲	۳	۴	۹۶	۱	۲	۳	۴
۱۷	۱	۲	۳	۴	۵۷	۱	۲	۳	۴	۹۷	۱	۲	۳	۴
۱۸	۱	۲	۳	۴	۵۸	۱	۲	۳	۴	۹۸	۱	۲	۳	۴
۱۹	۱	۲	۳	۴	۵۹	۱	۲	۳	۴	۹۹	۱	۲	۳	۴
۲۰	۱	۲	۳	۴	۶۰	۱	۲	۳	۴	۱۰۰	۱	۲	۳	۴
۲۱	۱	۲	۳	۴	۶۱	۱	۲	۳	۴	۱۰۱	۱	۲	۳	۴
۲۲	۱	۲	۳	۴	۶۲	۱	۲	۳	۴	۱۰۲	۱	۲	۳	۴
۲۳	۱	۲	۳	۴	۶۳	۱	۲	۳	۴	۱۰۳	۱	۲	۳	۴
۲۴	۱	۲	۳	۴	۶۴	۱	۲	۳	۴	۱۰۴	۱	۲	۳	۴
۲۵	۱	۲	۳	۴	۶۵	۱	۲	۳	۴	۱۰۵	۱	۲	۳	۴
۲۶	۱	۲	۳	۴	۶۶	۱	۲	۳	۴	۱۰۶	۱	۲	۳	۴
۲۷	۱	۲	۳	۴	۶۷	۱	۲	۳	۴	۱۰۷	۱	۲	۳	۴
۲۸	۱	۲	۳	۴	۶۸	۱	۲	۳	۴	۱۰۸	۱	۲	۳	۴
۲۹	۱	۲	۳	۴	۶۹	۱	۲	۳	۴	۱۰۹	۱	۲	۳	۴
۳۰	۱	۲	۳	۴	۷۰	۱	۲	۳	۴	۱۱۰	۱	۲	۳	۴
۳۱	۱	۲	۳	۴	۷۱	۱	۲	۳	۴	۱۱۱	۱	۲	۳	۴
۳۲	۱	۲	۳	۴	۷۲	۱	۲	۳	۴	۱۱۲	۱	۲	۳	۴
۳۳	۱	۲	۳	۴	۷۳	۱	۲	۳	۴	۱۱۳	۱	۲	۳	۴
۳۴	۱	۲	۳	۴	۷۴	۱	۲	۳	۴	۱۱۴	۱	۲	۳	۴
۳۵	۱	۲	۳	۴	۷۵	۱	۲	۳	۴	۱۱۵	۱	۲	۳	۴
۳۶	۱	۲	۳	۴	۷۶	۱	۲	۳	۴	۱۱۶	۱	۲	۳	۴
۳۷	۱	۲	۳	۴	۷۷	۱	۲	۳	۴	۱۱۷	۱	۲	۳	۴
۳۸	۱	۲	۳	۴	۷۸	۱	۲	۳	۴	۱۱۸	۱	۲	۳	۴
۳۹	۱	۲	۳	۴	۷۹	۱	۲	۳	۴	۱۱۹	۱	۲	۳	۴
۴۰	۱	۲	۳	۴	۸۰	۱	۲	۳	۴	۱۲۰	۱	۲	۳	۴

فناوری

علوم

اجتماعی

فارسی

هدیه

قرآن

..... صحیح

..... صحیح

..... صحیح

..... صحیح

..... صحیح

..... صحیح

..... غلط

..... غلط

..... غلط

..... غلط

..... غلط

..... غلط

..... نمره

..... نمره

..... نمره

..... نمره

..... نمره

..... نمره

