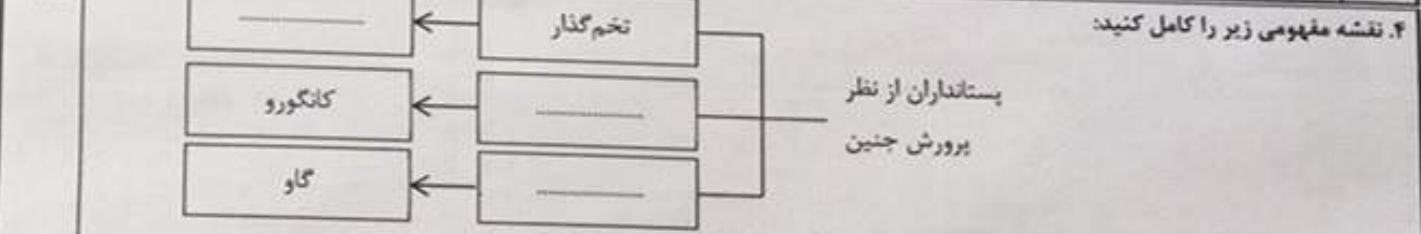


محل مهر آموزشگاه:	باسمه تعالی	شماره داوطلبی:
	اداره کل آموزش و پرورش خراسان شمالی	نام و نام خانوادگی:
تاریخ امتحان: ۹۸/۰۳/۱۱	سؤالات امتحان هماهنگ پایه نهم	نام آموزشگاه:
ساعت برگزاری: ۱۰:۳۰ صبح	نام درس: علوم تجربی	شهرستان منطقه:
مدت امتحان: ۸۰ دقیقه	نوبت: خرداد	
تعداد صفحه: ۳		
بارم		ردیف

	الف) جملات صحیح را با علامت (ص) و جملات غلط را با علامت (غ) مشخص کنید:	
۰/۲۵	۱. اکثر جانوران بی‌مهره‌اند و از گروه‌های متنوعی تشکیل شده‌اند. ()	
۰/۲۵	۲. جهت یابی با استفاده از ستارگان منحصر به شب است. ()	
۰/۲۵	۳. خرس‌ها بر اساس رژیم غذایی در گروه جانوران گوشتخوار قرار می‌گیرند. ()	
۰/۲۵	۴. بیشتر شهاب‌سنگ‌ها در خشکی سقوط می‌کنند. ()	
	ب) هر یک از جملات زیر را با کلمه‌های مناسب داخل پرانتز کامل کنید.	
۰/۲۵	۱. خزها مانند سرخس‌ها با تکثیر می‌شوند (دانه - هاگ)	
۰/۲۵	۲. در پیوند اتم‌ها به جای داد و ستد الکترون یا یکدیگر الکترون به اشتراک می‌گذارند (کووالانسی - یونی)	
۰/۲۵	۳. به آب و مواد معدنی که در آوندهای چوبی جریان می‌یابند می‌گویند. (شیره‌ی خام - شیره‌ی پرورده)	
۰/۲۵	۴. سمندرها در گروه دوزیستان قرار می‌گیرند. (دم دار - بی‌دم)	
	پ) گزینه مناسب را انتخاب کنید:	
۰/۲۵	۱. در اثر برخورد ورقه عربستان با ورقه‌ی ایران، کدام پدیده زمین‌شناسی به وجود آمده است؟ الف) رشته کوه زاگرس <input type="checkbox"/> ب) رشته کوه البرز <input type="checkbox"/> ج) گسترش بستر خلیج فارس <input type="checkbox"/> د) پوسته جدید در خلیج فارس <input type="checkbox"/>	
۰/۲۵	۲. گازی که از نفت خام جدا می‌شود و برای تبدیل میوه‌های نارس به رسیده استفاده می‌شود: الف) متان <input type="checkbox"/> ب) بوتان <input type="checkbox"/> ج) اتن <input type="checkbox"/> د) هگزان <input type="checkbox"/>	
۰/۲۵	۳. در پالایشگاه‌های نفت، اجزای نفت خام را بر اساس چه ویژگی آن‌ها، جدا می‌کنند؟ الف) نقطه‌ی ذوب <input type="checkbox"/> ب) نقطه‌ی جوش <input type="checkbox"/> ج) نقطه‌ی انجماد <input type="checkbox"/> د) حالت مواد <input type="checkbox"/>	
۰/۲۵	۴. کدام سیاره منظومه شمسی جزو سیارات سنگی (درونی) محسوب می‌شود؟ الف) ناهید <input type="checkbox"/> ب) مشتری <input type="checkbox"/> ج) اورانوس <input type="checkbox"/> د) کیوان <input type="checkbox"/>	
	ت) به سؤالات زیر پاسخ کوتاه بدهید:	
۰/۲۵	۱. الف) فسیل‌هایی که برای بررسی حوادث گذشته مناسب‌اند، چه نامیده می‌شود؟	
۰/۲۵	ب) از ماهی‌های استخوانی یک مثال بزنید:	
۰/۱۵	۲. چرا امروزه فلز مس کاربردهای گسترده‌ای در زندگی روزمره ما دارد؟ (دو دلیل بنویسید)	
۰/۱۷۵	۳. برای هر یک از سؤالات زیر یک پاسخ کوتاه بنویسید: الف) چه عاملی سبب برقراری جریان الکتریکی در محلول‌ها می‌شود؟ ب) علت حرکت ورقه‌های سنگ کره چیست؟ ج) کشف ذخایر زغال سنگ در یک منطقه بیانگر چه وضعیت آب و هوایی در گذشته آن منطقه است؟	

محل مهر آموزشگاه:	باسمه تعالی	شماره داوطلبی:
	اداره کل آموزش و پرورش خراسان شمالی	نام و نام خانوادگی:
تاریخ امتحان: ۹۸۰۳/۱۱	سؤالات امتحان هماهنگ پایه نهم	نام آموزشگاه:
ساعت برگزاری: ۱۰:۳۰ صبح	نام درس: علوم تجربی	شهرستان استمقله:
مدت امتحان: ۸۰ دقیقه	نوبت: خرداد	
تعداد صفحه: ۳		

بارم ردیف



۵. الف) یکی از انواع ارتباط بین جانداران در هر بوم سازگان همزیستی است که به سه شکل همسفرگی، همیاری و انگلی وجود دارد. شما تفاوت همسفرگی با همیاری را بنویسید:

ب) چه زمانی بین جانداران رقابت ایجاد می شود؟


۶. مهدی مسافت ۱۰۰ متری مسابقه را در ۲۰ ثانیه طی کرده است. تندی متوسط او را به دست آورید (نوشتن فرمول الزامی است)

۷. در متن زیر دو غلط علمی وجود دارد. آن‌ها را پیدا کرده و درست آن‌ها را بنویسید:
 «طبق قانون سوم نیوتن، هرگاه جسمی به جسم دیگر نیرو وارد کند، جسم اول نیرویی بیشتر و در همان جهت وارد می کند»


۸. جعبه‌ای به وزن ۱۲۰۰۰ نیوتن که مساحت سطحش با زمین ۳ مترمربع است، چه فشاری روی زمین وارد می کند؟ (نوشتن فرمول الزامی است)

۹. به نظر شما آیا زندگی در عطارد و مشتری امکان پذیر است؟

۱۰. مطابق شکل زیر در یک استخر پر از آب، سه نقطه‌ی فرضی در نظر گرفته شده است. فشار آب در کدام نقطه بیشتر است؟ توضیح دهید.



۱۱. با توجه به شکل، گشتاور نیروی F_1 چند نیوتن متر است؟ (از وزن اهرم صرف نظر شده و اهرم در حالت تعادل قرار دارد)



محل مهر آموزشگاه:	باسمه تعالی	
	شماره داوطلبی:	اداره کل آموزش و پرورش خراسان شمالی
	نام و نام خانوادگی:	سوالات امتحان هماهنگ پایه نهم
	نام آموزشگاه:	نام درس: علوم تجربی
شهرستان منطقه:	نوبت: خرداد	تاریخ امتحان: ۹۸/۰۳/۱۱
		ساعت برگزاری: ۱۰:۳۰ صبح
		مدت امتحان: ۸۰ دقیقه
		تعداد صفحه: ۳
بارم		
ردیف		
۱		۱۲. شناخته شده ترین گروه آغازیان چه نام دارند؟ امروزه چه استفاده هایی از آن ها می شود؟
۱/۲۵		۱۳. الف) چرا بیشتر بندپایان پوست اندازی می کنند؟ ب) سه مورد از اهمیت حشرات در دنیای ما را بنویسید:
۰/۷۵		۱۴. ماشین ساده به چه وسیله ای گفته می شود؟ یک ماشین ساده بنویسید:
۰/۷۵		۱۵. برای این که تعدادی جانور را در گروهی به نام « گونه » قرار دهیم باید چه ویژگی هایی داشته باشند؟
۰/۷۵		۱۶. در مورد گیاهان به سوالات زیر پاسخ دهید: الف) رشته های ظریفی که روی ریشه قرار دارند و می توانند آب و مواد معدنی را از خاک جذب کنند چه نام دارند؟ ب) گیاه سرخس آوند (دارد- ندارد) و با (دانه- هاگ) تولید مثل می کند.
	موفق باشید	جمع بارم: ۱۵ نمره