

مهر آموزشگاه	مدت آزمون : ۷۰ دقیقه	آموزش و پرورش شهرستان اشنویه سئوالات درس : مطالعات اجتماعی دی ماه ۱۳۹۶ پایه : نهم	نام و نام خانوادگی :
	ساعت برگزاری : ۱۰ : ۳۰		شعبه ی کلاس :
	تعداد صفحه : ۳		نام آموزشگاه :
	تعداد سؤال : ۲۰		تاریخ امتحان : ۱۳ / ۱۰ / ۱۳۹۶

دست نگه دارید . (اول هر کاری را با نام و یاد خدا شروع کنیم) 

دانش آموز باهوش : از میان گزینه های داده شده گزینه درست را انتخاب کنید.

۱

(A) مدت زمان واقعی یک دور کامل گردش زمین به دور خورشید چقدر است ؟
 الف (۳۶۶ روز) ب (۳۶۵ روز) ج (۳۶۵ روز و ۶ ساعت) د (۳۶۶ روز و ۵ ساعت)
 (B) کدام یک از موارد زیر از عوامل گسترش تجارت در عصر صفوی **نیست** ؟
 الف (پیشرفت های علمی و فرهنگی) ب (نظم و امنیت در سراسر کشور)
 ج (یکپارچه بودن سرزمین ایران) د (ایجاد راهها و کاروان سراها)

دانش آموز گرامی : صحیح یا غلط بودن گزینه های زیر را مشخص نمایید .

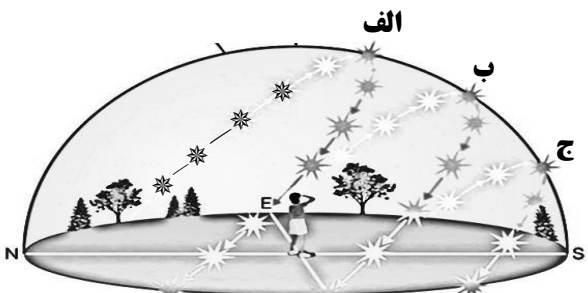
۱/۵

عبارت	صحیح	غلط
بیشترین میزان عاج قاچاق جهان را کشورهای چین و تایلند وارد می کنند .		
رشد جمعیت در همه کشورهای جهان یکسان نیست .		
در نواحی مرتفع دمای هوا از نواحی پست سردتر است .		

۲

کدام یک از موارد شکل زیر حرکت ظاهری خورشید در فصل تابستان را نشان می دهد ؟

۰/۵



۳

ایران بخش های زیادی از خاک خود را مانند گرجستان ، داغستان ، باکو ، گنجه و سرزمین های شمالی رود ارس را در زمان قاجاریه از دست داد .

دانش آموز گرامی : این سرزمین ها در کدام عهدنامه ها از ایران جدا شدند ؟ نام ببرید .

۱

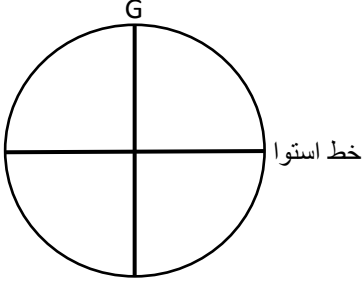

۴

دانش آموز باهوش : جدول زیر را با توجه به سئوالات داده شده کامل کنید .

۲

				ش	در رأس حکومت صفوی چه کسی قرار داشت ؟
				آ	پهناورترین اقیانوس جهان کدام اقیانوس است ؟
				س	این زیست بوم دارای دو فصل خشک و بارانی است ؟
				ا	پر سودترین کالای صادراتی ، در زمان صفویه چه بود ؟

۵

۰/۵	<p>۶ فرض کنید در استرالیا به سر می برید و در آن زمان خورشید بر مدار رأس السرطان عمود است . دانش آموز زرنگ : حدس بزن در استرالیا چه فصلی است ؟</p>	۶
۱	<p>۷ بر روی شکل زیر یک مدار و یک نصف النهار رسم کنید . مدار را با (A) و نصف النهار را با (B) مشخص نمایید .</p> 	۷
۱	<p>۸ اغلب شهرهای بزرگ جهان با چه مشکلاتی روبرو هستند ؟ دو مورد .</p>	۸
۰/۵	<p>۹ در نقشه زیر مناطق مشخص شده دارای زمستان های طولانی و سرمای آن بسیار شدید است . دانش آموز باهوش : بنویسید مناطق رنگی مشخص شده کدام زیست بوم را نشان می دهد ؟</p> 	۹
۱	<p>۱۰ مؤسس سلسله زندیه کریم خان زند نام داشت . او حاضر نبود لقب پادشاه را برای خود انتخاب کند بلکه خود را وکیل الرعایا یعنی وکیل و نماینده مردم نامید . دانش آموز گرامی : اگر روزی شما پست و مقامی بدست بیاورید آیا حاضرید به جای القاب و عناوین مختلف ، خود را خدمتگزار ، وکیل و ... مردم بخوانید. نظر خود را درباره این موضوع بیان کنید .</p>	۱۰
۱	<p>۱۱ دو مورد از اهمیت و ارزش جنگل های بارانی استوایی را نام ببرید .</p> <p>۱- ۲-</p>	۱۱
۱	<p>۱۲ مشخص نمائید مهاجرت افراد زیر چه نوع مهاجرتی است . (اجباری ، اختیاری ، داخلی ، خارجی) الف) من زانیار هستم . در شهر ثلاث باباجانی (استان کرمانشاه) زندگی می کردم . اما با وقوع زلزله خانه ما خراب شد و به علت نبود امکانات و سرمای زیاد به شهر پاره خانه یکی از فامیل های خود مهاجرت کردیم . (.....) ب) من محمد هستم . در کشور میانمار زندگی می کردم . اما با شروع آزار توسط بودایی ها به کشور همسایه خود بنگلادش رفتیم . (.....)</p>	۱۲

مهر آموزشگاه	مدت آزمون : ۷۰ دقیقه	آموزش و پرورش شهرستان اشنویه سئوالات درس : مطالعات اجتماعی دی ماه ۱۳۹۶ پایه : نهم	نام و نام خانوادگی :
	ساعت برگزاری : ۱۰ : ۳۰		شعبه ی کلاس :
	تعداد صفحه : ۳		نام آموزشگاه :
	تعداد سؤال : ۲۰		تاریخ امتحان : ۱۳ / ۱۰ / ۱۳۹۶
<u>۱/۵</u>	حرکت آب دریاها و اقیانوس ها به چند صورت است ؟ نام ببرید .		۱۳
<u>۱</u>	دو مورد از عوامل مؤثر بر آب و هوای جهان را نام ببرید . ۱- ۲-		۱۴
<u>۱</u>	کولبرانی که از اشنویه به عراق می روند باید ساعت خود را به جلو بکشند یا به عقب ؟ چرا		۱۵
<u>۰/۵</u>	در دوره قاجاریه امتیازات اقتصادی زیادی به بیگانگان داده شد و هر جا مردم در صحنه بودند و مقاومت می کردند این امتیازات لغو می شد . دانش آموز با هوش : نام یکی از این امتیازها که با حضور و مقاومت مردم و فتوای میرزا حسن شیرازی لغو شد را نام ببرید .		۱۶
<u>۱</u>	زیست بوم را تعریف کنید .		۱۷
<u>۱</u>	ما امسال در کتاب مطالعات در بخش تاریخ با سلسله های (قاجاریه - صفویه - افشاریه - زندیه) آشنا شدیم و آن ها را مطالعه کردیم . دانش آموز با هوش : نام این سلسله ها را به ترتیب زمانی بنویس .		۱۸
<u>۱</u>	پادشاهان صفوی پایتخت های خود را از تبریز به قزوین و از قزوین به اصفهان تغییر دادند . دلیل تغییر پایتخت صفویان را توضیح دهید .		۱۹
<u>۱</u>	علل و عوامل نابرابری در جهان به دو دسته داخلی و خارجی تقسیم می شوند . دانش آموز گرامی : برای هر کدام از علّت ها به یک مورد اشاره کنید . علّت داخلی : علّت خارجی :		۲۰
۲۰	جمع بارم	🌸 گروه مطالعات شهرستان اشنویه 🌸	😊 بخند بزن و لذت ببر . باهمه توان تلاش کن