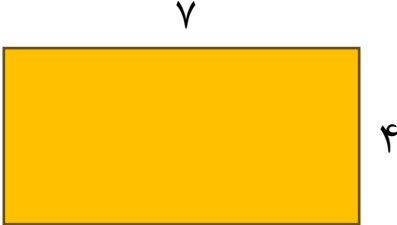
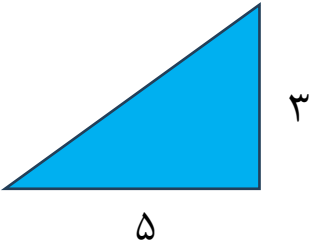



ردیف	« سوالات »	نمره
۱	<p>به حروف و عدد بنویسید.</p> <p>(الف) ۴۳۲۱۲۳۴ :</p> <p>(ب) سیصد و نود هزار و پنجاه و سه :</p>	
۲	<p>محیط و مساحت شکل های زیر را محاسب کنید.</p> <div style="display: flex; justify-content: space-around; align-items: center;"> <div style="text-align: center;">  <p>۷ ۴</p> </div> <div style="text-align: center;">  <p>۳ ۵</p> </div> </div>	
۳	<p>محمد در ساعت " ۱۲:۲۵ به مدرسه رفت و ساعت ۱۷:۳۰ از مدرسه تعطیل شد محمد چه مدت در مدرسه بوده است ؟</p>	
	<p>حجم مکعب روبیکی به ضلع ۵ سانتی متر چند است ؟</p> <div style="text-align: center;">  </div>	
۴	<p>کسر های زیر را به عدد اعشاری بنویسید .</p> <div style="display: flex; justify-content: space-around; align-items: center;"> <div style="text-align: center;"> $\frac{2}{10} =$ </div> <div style="text-align: center;"> $1\frac{4}{100} =$ </div> <div style="text-align: center;"> $7\frac{3}{5} =$ </div> </div>	

۵ عملیات های محاسباتی زیر را انجام دهید .

$$\begin{array}{r} 3 \text{ میلیارد} \\ - 250 \text{ میلیون} \\ \hline \end{array}$$

$$\begin{array}{r} 9'' \\ - 4'' \quad 5'' \quad 15'' \\ \hline \end{array}$$

۶ حاصل را به دست آورید را بدست آورید.

$$\frac{3}{5} \times \frac{2}{7} =$$

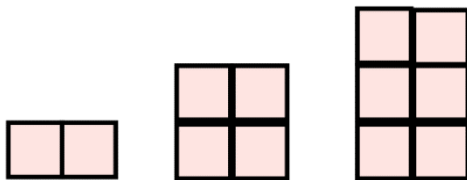
$$1\frac{1}{3} + 1\frac{3}{4} =$$

$$\frac{1}{2} \div 1\frac{3}{4} =$$

$$\frac{3}{5} - \frac{1}{6} =$$

۷ کسر $\frac{2}{25}$ معادل چند درصد است؟

۸ شکل بعدی هر یک از الگوهای زیر را رسم کنید.



بیروز و سربلند باشید.

ارزیابی: