



آزمون فصل هفتم ریاضی پایه دوم دبستان

نام زیبای من:

آموزشگاه:

تاریخ:

آموزگار:

جاهای خالی را با عدد مناسب کامل کنید.


عدد ۱۷ را می توانیم به صورت ده تایی و قسمت از ۱۰ قسمت بیان کنیم.

عدد ۷۸ را می توانیم به صورت ده تایی و قسمت از ۱۰ قسمت بیان کنیم.

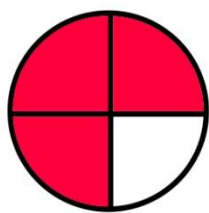
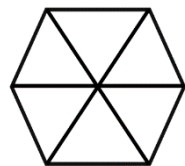
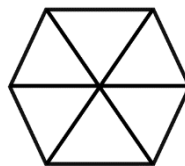
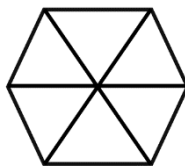
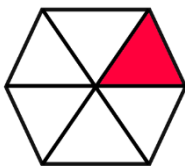
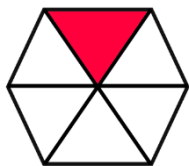
عدد ۲۵ را می توانیم به صورت ده تایی و قسمت از ۱۰ قسمت بیان کنیم.

عدد ۵۵ را می توانیم به صورت ده تایی و قسمت از ۱۰ قسمت بیان کنیم.

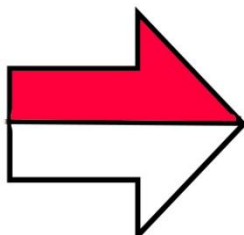
شکل های زیر را به قسمت های مساوی تقسیم کن.



الگوی شکل ها را با رنگ زدن ادامه بده.



... قسمت از ... قسمت مساوی



... قسمت از ... قسمت مساوی



... قسمت از ... قسمت مساوی



www.tarahisoal.ir


tarahisoal.ir



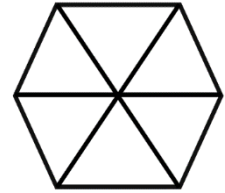
با توجه به عبارت ها، شکل ها را رنگ بزن.



۳ قسمت از ۴ قسمت مساوی



۱ قسمت از ۲ قسمت مساوی

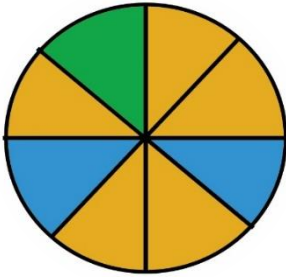


۶ قسمت از ۶ قسمت مساوی

برای هر عبارت شکل بکش و قسمت کن.

۷ قسمت از ۱۰ قسمت مساوی رنگ شود.

۲ قسمت از ۶ قسمت مساوی رنگ شود.



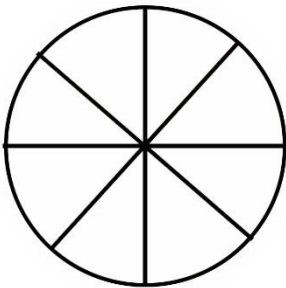
با توجه به صفحه چرخنده به سوالات پاسخ بده.

چند قسمت از چرخنده زرد است؟

چند قسمت از چرخنده آبی است؟

چند قسمت از چرخنده سبز است؟

اگر چرخنده را بچرخانیم احتمال ایستادن عقربه روی کدام رنگ بیشتر است؟
روی کدام رنگ کمتر است؟



صفحه چرخنده را به صورت زیر رنگ آمیزی کن.

۵ قسمت از ۸ قسمت مساوی آبی

۱ قسمت از ۸ قسمت مساوی زرد

۲ قسمت از ۸ قسمت مساوی زرد

احتمال ایستادن عقربه روی کدام رنگ بیشتر است؟



www.tarahisoal.ir

tarahisoal.ir



برای عبارت های زیر شکل بکش.



۵ دسته ۳ تایی



۲ دسته ۴ تایی



۳ دسته ۴ تایی

ماهیگیری با قایق خود به دریا رفت او در بار اول ۱۲۵ ماهی گرفت، بار دوم ۵۷ ماهی گرفت، او چند ماهی گرفته است؟

در یک جعبه ۱۵ میوه وجود دارد. ۵ تا از این میوه ها موز هستند. ۶ تا از آن ها پرتقال و ۴ تا از آن ها آناناس، با توجه به میوه ها جمله ها را کامل کن.

..... میوه از میوه، موز است.

..... میوه از میوه، پرتقال است.

..... میوه از میوه، آناناس است.

باز خورد آموزگار:

نظر والدین محترم:



www.tarahisoal.ir

 [tarahisoal.ir](https://www.instagram.com/tarahisoal.ir)