

جمهوری اسلامی ایران
وزارت آموزش و پرورش
اداره کل آموزش و پرورش خراسان رضوی
معاون آموزش متوسطه
اداره سنجش آموزش و پرورش



دفترچه سؤالات آزمون ورودی دبیرستان‌های متوسطه‌ی دوره‌ی اول نمونه دولتی سال تحصیلی ۹۷-۱۳۹۶

| ماده امتحانی | تعداد سوال | از شماره | تا شماره |
|----------------------------------|------------|----------|----------|
| آموزش قرآن و هدیه‌های آسمانی | ۱۰ | ۱ | ۱۰ |
| علوم تجربی | ۲۰ | ۱۱ | ۳۰ |
| فارسی (مهارت‌های خواندن و نوشتن) | ۲۰ | ۳۱ | ۵۰ |
| ریاضیات | ۲۰ | ۵۱ | ۷۰ |
| مطالعات اجتماعی | ۱۰ | ۷۱ | ۸۰ |

تاریخ برگزاری: جمعه ۱۳۹۶/۴/۰۹

ساعت: ۹ صبح

مدت پاسخ‌گویی: ۱۰۰ دقیقه

پرتگاه
۱۳۹۶

آزمون نمره منفی دارد.



****درست‌ترین پاسخ را از میان گزینه‌های پیشنهاد شده انتخاب و شماره‌ی آن را در پاسخ نامه، با مداد سیاه پر کنید.**

آموزش قرآن و هدیه‌های آسمانی (از سؤال ۱ تا ۱۰)

- ۱- در عبارت قرآنی روبرو، معنای کلمه‌ی مشخص شده چیست؟
 (۱) انفاق کردند (۲) انفاق کنید (۳) انفاق کن (۴) انفاق می کردند
- ۲- داستان « فاتحان بی سپاه» برگرفته از کدام سوره و آیه‌ی قرآن می باشد؟
 (۱) آل عمران، ۶۱ (۲) حدید، ۲۵
 (۳) حدید، ۱۵ (۴) آل عمران، ۱۶
- ۳- سخن ژرژگاموف دانشمند روسی در کتاب « جهان آفرینش» با کدام عبارت قرآنی ارتباط بیشتری دارد؟
 (۱) إِنْ كُلُّ شَيْءٍ خَلْقْنَاهُ بِقَدَرٍ (۲) يَسْأَلُهُ مَنْ فِي السَّمَاوَاتِ وَالْأَرْضِ كُلَّ يَوْمٍ هُوَ فِي شَأْنٍ
 (۳) وَالسَّمَاءَ بَنَيْنَاهَا بِأَيْدٍ وَإِنَّا لَمُوسِعُونَ (۴) إِنْ اسْتَطَعْتُمْ أَنْ تَنْفُذُوا مِنْ أَقْطَارِ السَّمَاوَاتِ وَالْأَرْضِ
- ۴- کدام مورد از پیام‌های قرآنی زیر با مفهوم آن متناسب نیست؟
 (۱) وَهُوَ مَعَكُمْ أَيْنَ مَا كُنْتُمْ (وخدایی که در این نزدیکی است).
 (۲) لِمَ تَقُولُونَ مَا لَا تَفْعَلُونَ (رطب خورده منع رطب کی کند)
 (۳) كُلُّ امْرَأٍ بِهَا كَسَبٌ رَهِيْنٌ (نظم در آفرینش)
 (۴) لَا يَمَسُّهُ إِلَّا الْمُطَهَّرُونَ (آشنایی با آداب تلاوت قرآن)
- ۵- در کدام عبارت قرآنی ویژگی افراد با تقوا بیان شده است؟
 (۱) كَذَلِكَ يُبَيِّنُ اللَّهُ آيَاتِهِ لِلنَّاسِ لَعَلَّهُمْ يَتَّقُونَ
 (۲) وَفِي أَمْوَالِهِمْ حَقٌّ لِّلسَّائِلِ وَالمَحْرُومِ
 (۳) لَوْ كُنَّا جَعَلْنَاهُ أَجَاجًا فَلَوْلَا تَشْكُرُونَ
 (۴) وَذَكَرْ فَإِنَّ الذِّكْرَى تَنْفَعُ الْمُؤْمِنِينَ
- ۶- رسول اکرم(ص) می فرمایند: «دو نعمت است که ارزش آنها نزد مردم ناشناخته است.» آن دو نعمت کدام است؟
 (۱) تقویت ایمان و سلامتی (۲) سلامتی و امنیت
 (۳) امنیت و اخلاق (۴) تقویت ایمان و اخلاق
- ۷- عنوان کدام یک از درس‌های زیر با اصول دین ارتباط ندارد؟
 (۱) بهترین راهنمایان (۲) یکتا
 (۳) باغ سری (۴) جهان دیگر
- ۸- طبق گفته‌ی آقای شکیبیا در چه تاریخی بسیاری از انقلابیون در میدان ژاله‌ی سابق به شهادت رسیدند؟
 (۱) ۱۷ شهریور سال ۱۳۵۷ (۲) ۲۲ بهمن سال ۱۳۵۷
 (۳) ۱۲ بهمن سال ۱۳۵۷ (۴) ۱۰ دی سال ۱۳۵۷
- ۹- آیه‌ی «أَنْتُمْ أَشَدُّ خَلْقًا أَم السَّمَاءُ بِنَاهَا» با کدام یک از اصول اعتقادی ما مسلمانان ارتباط دارد؟
 (۱) توحید (۲) عدل
 (۳) نبوت (۴) معاد
- ۱۰- بیت « نابرده رنج، گنج میسر نمی شود مزد آن گرفت جان برادر که کار کرد» با کدام عبارت قرآنی ارتباط دارد؟
 (۱) وَلَقَدْ يَسَّرْنَا الْقُرْآنَ لِلذِّكْرِ
 (۲) ذَلِكُمْ خَيْرٌ لَّكُمْ إِنْ كُنْتُمْ تَعْلَمُونَ
 (۳) وَأَنْ لَيْسَ لِلْإِنْسَانِ إِلَّا مَا سَعَى
 (۴) عَسَى أَنْ يَكُونُوا خَيْرًا مِنْهُمْ



س
ا
ه
د
و



****درست‌ترین پاسخ را از میان گزینه‌های پیشنهاد شده انتخاب و شماره‌ی آن را در پاسخ نامه، با مداد سیاه پر کنید.**

علوم تجربی (از سؤال ۱۱ تا ۳۰)

۱۱- سه تیله‌ی هم اندازه به رنگ‌های قرمز، آبی و سبز داریم. ابتدا آن‌ها را در روغن مایع انداختیم و مشاهده کردیم که تیله‌ی قرمز روی روغن شناور ماند. سپس هر سه تیله را در آب انداختیم و تیله‌ی سبز به ته آب رفت. کدام گزینه در مورد سنگینی آنها صحیح است؟

- (۱) آبی < سبز < قرمز (۲) سبز < آبی < قرمز (۳) قرمز < آبی < سبز (۴) سبز < قرمز < آبی

۱۲- دو چرخ دنده‌ی مشابه داریم، در صورت اتصال در کدام حالت، جهت چرخش آن‌ها مخالف هم است؟

- (۱) با تسمه به یکدیگر متصل شوند. (۲) با زنجیر به یکدیگر متصل شوند.
(۳) با یک چرخ واسطه به هم متصل شوند. (۴) به صورت مستقیم دنده‌های دو چرخ با هم درگیر شوند.

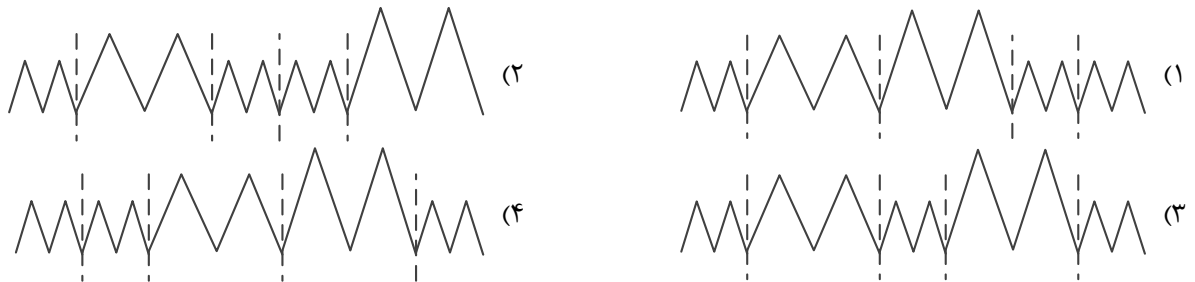
۱۳- آزمایشی برای رنگبری به صورت زیر ترتیب دادیم:

- (الف) در یک بشر ۱۰۰ میلی لیتر آب ریختیم. (ب) ۱۰ گرم بلور پتاسیم پرمنگنات به آن اضافه کردیم.
(پ) یک قاشق سرکه به مواد داخل بشر افزودیم. (ت) ۸ تا ۶ میلی لیتر آب اکسیژنه به آرامی اضافه کردیم.
اما نتوانستیم رنگ محلول را به طور کامل از بین ببریم. این اشکال ممکن است به علت زیاد بودن باشد.

- (۱) آب (۲) سرکه

- (۳) آب اکسیژنه (۴) پتاسیم پرمنگنات

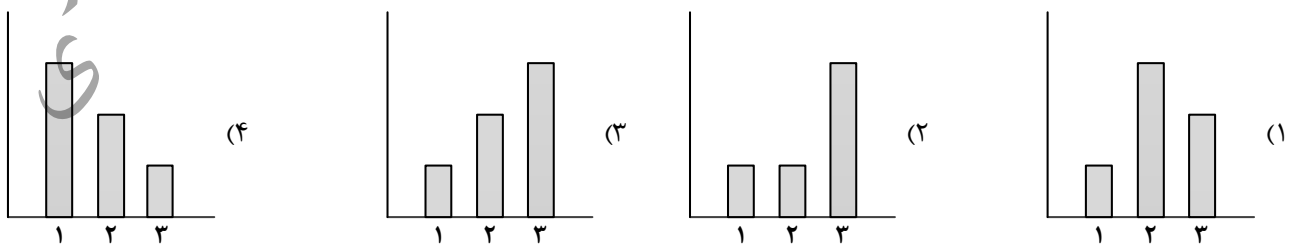
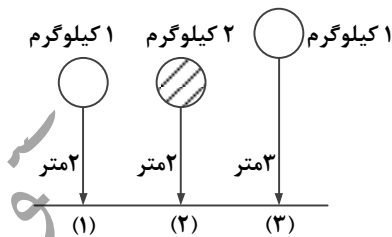
۱۴- امواج لرزه‌ای هرگاه از لایه‌های کم تراکم بگذرند به صورت امواجی با فاصله‌ی بیشتر و طول بلندتر و هرگاه از لایه‌های متراکم بگذرند با فاصله‌ی کمتر و طول کوتاه‌تر ثبت می‌شوند. در صورتی که زلزله‌ای در لایه‌ی سطحی زمین اتفاق افتاده و امواج آن تا عمق زمین برسد. در این صورت کدام گزینه به صورت فرضی عبور این امواج از لایه‌های زمین را نشان می‌دهد؟



۱۵- کدام یک در هنگام زلزله حتماً اتفاق می‌افتد؟

- (۱) خسارت‌های ساختمانی (۲) شکستگی در پوسته (۳) آسیب‌های اجتماعی (۴) تغییر در سطح پوسته

۱۶- با توجه به شکل روبرو، پس از رها کردن اجسام، کدام نمودار نیروی وارد شده به زمین توسط جسم ۱ و ۲ را نشان می‌دهد؟



۱۷- با آویختن کدام وزنه به یک فنر، انرژی بیشتری در آن ذخیره می‌شود؟

- (۱) ۱ نیوتن (۲) ۱ کیلوگرم (۳) ۹ نیوتن (۴) ۱۰۵۰ گرم



****درست‌ترین پاسخ را از میان گزینه‌های پیشنهاد شده انتخاب و شماره‌ی آن را در پاسخ نامه، با مداد سیاه پر کنید.**

۱۸- کدام عبارت در باره‌ی نیروی اصطکاک درست است؟

- (۱) بدون اصطکاک حرکت به وجود نمی‌آید.
- (۲) بر اجسام شناور در آب نیروی اصطکاک وارد نمی‌شود.
- (۳) نیروی اصطکاک می‌تواند تماسی مانند حرکت در هوا باشد.
- (۴) ممکن است نیروی اصطکاک سرعت حرکت جسم را افزایش دهد.

۱۹- اگر یک ورزشکار از بطری شیری استفاده کند که برچسب اطلاعات آن مانند نمونه‌ی روبرو باشد، چند دقیقه می‌تواند با انرژی تولید شده از همین منبع بدود؟

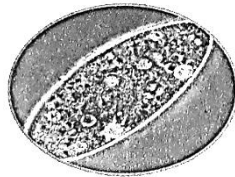
| |
|---------------------------|
| انواع ویتامین ۲ گرم |
| مقدار آب ۷۵ درصد |
| مقدار پروتئین ۲۰ گرم |
| مقدار چربی ۳ درصد |
| مقدار انرژی ۳۵۰ کیلوکالری |

- | | |
|--------|--------|
| ۱۵ (۱) | ۳۰ (۲) |
| ۴۵ (۳) | ۶۰ (۴) |


۲۰- در کدام مورد زیر هنگام تهیه‌ی نمونه، باید آن را روی لامل گسترش داد؟

- (۱) یاخته‌های نگهبان روزنه‌ی برگ
- (۲) گلبولهای قرمز
- (۳) اندام‌های حشرات
- (۴) پوست پیاز

۲۱- با توجه به تصاویر داده شده کدام یک با جوانه زدن تکثیر می‌شوند؟




(۲)



(۱)



(۴)



(۳)

۲۲- نیتروژن ماده‌ای است که گیاهان برای ساختن مواد مورد نیاز خود از آن استفاده می‌کنند. ترکیبات این ماده از طریق ریشه

همراه با آب از خاک جذب می‌شود. کدام نتیجه‌گیری درست نیست؟

- (۱) در خاک‌هایی که کمبود نیتروژن دارند، گیاهان کمی می‌رویند.
- (۲) عملکرد برگ گیاهان در خاک‌های کم نیتروژن، تغییر یافته است.
- (۳) فتوسنتز بدون نیاز به نیتروژن انجام می‌شود.
- (۴) می‌توانیم نیتروژن را از طریق کود وارد خاک کنیم.

۲۳- برخی ویژگی‌های گیاهان، آن‌ها را مناسب‌ترین انتخاب برای کاشت در یک منطقه به عنوان (درختان بومی) می‌کند. با توجه

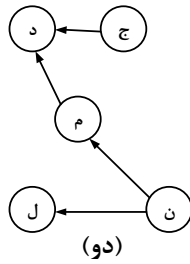
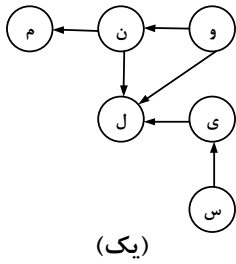
به این عبارت کدام گزینه نادرست است؟

- (۱) سازگاری بهتر با شرایط آب و هوایی و نوع خاک منطقه از ویژگی‌های درختان بومی است.
- (۲) درخت کاج اگر بومی منطقه‌ای شود با ترشح نوعی مواد از ریشه‌اش در خاک، مانع رشد سایر گونه‌های جانوری می‌شود.
- (۳) توجه به ویژگی‌های بومی و محلی گیاهان، هزینه‌های اضافی ناشی از کاشت سایر گیاهان را کاهش می‌دهد.
- (۴) رژیم غذایی برخی از جانوران بر اساس ویژگی‌های درختان بومی همان منطقه، سازگاری یافته است.





****درست‌ترین پاسخ را از میان گزینه‌های پیشنهاد شده انتخاب و شماره‌ی آن را در پاسخ نامه، با مداد سیاه پر کنید.**



۲۴- دو زنجیره‌ی غذایی مقابل را در نظر بگیرید. اگر موجود (س) از زنجیره‌ی (یک) به زنجیره‌ی (دو) برود، کدام گزینه صحیح است؟

- ۱) جمعیت موجود (ی) در زنجیره‌ی (یک)، بیشتر می‌شود.
- ۲) موجود (ی) نیز ممکن است، از زنجیره‌ی (یک) به (دو) بروند.
- ۳) موجود (ل) در زنجیره‌ی (دو) مجبور به تقسیم غذای خود با موجود (س) می‌شود.
- ۴) در زنجیره‌ی (یک) موجود (ل) منقرض می‌شود.

۲۵- «باغبانان در فصل پاییز که موسم بارندگی است، برگ‌ها را زیر لایه‌ای از خاک قرار می‌دهند و پس از گذشت چند ماه با مخلوط کردن انواع خاک با این فرآورده، خاکی سرشار از مواد مورد نیاز برای گیاهان خود فراهم می‌کنند.» با توجه به متن کدام گزینه نا درست است؟

- ۱) در موسم باران‌های بهاری نیز می‌توان اقدام به تهیه‌ی این خاک کرد.
- ۲) زنجیره‌ی غذایی در این مجموعه (تولید کننده ← تجزیه کننده) است.
- ۳) قارچ‌ها، باکتری‌ها و ویروس‌ها نقش اساسی در تشکیل این خاک دارند.
- ۴) لایه‌ی خاک به ایجاد محیط مرطوب، تاریک و گرم کمک می‌کند.

۲۶- مهمترین عامل حفظ سلامت کدام است؟

- ۱) رعایت بهداشت فردی
- ۲) حفظ بهداشت محیط
- ۳) داشتن رفتارهای سالم
- ۴) تغییر در عادات غذایی

۲۷- محققان سعی می‌کنند با تولید آنتی بیوتیک‌های جدید که توانایی گزینش میکروبها را به طور اختصاصی و در اندام‌های خاص دارند، سریعتر و مفیدتر به درمان بیماری‌ها بپردازند. این کار چه مزیت دیگری دارد؟

- ۱) افزایش مقاومت بدن در برابر میکروبها
- ۲) کنترل بهتر بیماری‌های واگیر و غیر واگیر
- ۳) سرکوب ناقل بیماری‌ها در داخل بدن
- ۴) محافظت از باکتری‌های مفید درون بدن

۲۸- با توجه به شکل مقابل با فوت کردن به سمت کاغذ چه اتفاقی رخ می‌دهد؟


- ۱) سرعت و فشار هوا بر روی آن زیاد شده، برگ کاغذ به سمت بالا می‌آید.
- ۲) سرعت هوا زیاد شده و نیروی گرانشی زمین را کاهش می‌دهد.
- ۳) سرعت و فشار هوا در زیر آن زیاد شده، برگ کاغذ به سمت بالا می‌آید.
- ۴) فشار هوا در زیر کاغذ زیاد شده و بر نیروی گرانش زمین غلبه می‌کند.

۲۹- کدام بیماری به وسیله‌ی ناقل سرایت نمی‌کند؟

- ۱) هاری
- ۲) سالک
- ۳) دیابت
- ۴) مالاریا

۳۰- در تصویر مقابل یک چوب را در سه موقعیت مشاهده می‌کنید. کدام گزینه در مورد این چوب درست است؟

- ۱) چوب در موقعیت الف دارای بیشترین انرژی ذخیره‌ای است.
- ۲) مقدار نیروی گرانشی زمین که بر چوب در موقعیت الف وارد می‌شود از ج بیشتر است.
- ۳) با ارتفاع گرفتن چوب از سطح زمین وزن آن نیز افزایش می‌یابد.
- ۴) بیشترین انرژی جنبشی موجود در چوب در موقعیت الف وجود دارد.





****درست‌ترین پاسخ را از میان گزینه‌های پیشنهاد شده انتخاب و شماره‌ی آن را در پاسخ نامه، با مداد سیاه پر کنید.**

فارسی (مهارت های خواندن و نوشتن) (از سؤال ۳۱ تا ۵۰)

۳۱- املای کدام گروه از کلمات با توجه به معنی، درست است؟

- ۱) سزاوار (لایق)- صیف (تابستان)- تصلی (آرامش دادن) - خوان (مرحله)
- ۲) خوار (پست)- خوان (سفره)- ثواب (کارخوب)- هک (تراشیدن)
- ۳) صواب (شایسته)- سزاوار (لایق)- خواست (بلند شد)- خوان (مرحله)
- ۴) بصر (بینایی)- خوار (پست)- برخاست (بلندشد)- ثواب (کارپسندیده)

۳۲- رابطه‌ی کدام دسته از کلمات به ترتیب، درست بیان شده است؟

- ۱) شتا (تابستان)- معلوم (علم)- آیین (روش) ← متضاد- مفرد- مترادف
- ۲) لاف (گزارف)- احسان (حسن)- حواس (حس) ← مترادف- هم خانواده- مفرد
- ۳) ژرف (عمیق)- زار (توانا)- اعضا (عضو) ← متضاد- متضاد- مفرد
- ۴) سهل (سخت)- طبع (طبیعت)- مور (موران) ← مترادف- هم خانواده- جمع

۳۳- بیت زیر با کدام مصراع کامل می شود؟

درس حبّ الوطن، همی خوانیم»

«.....»

- ۱) چون که حبّ وطن ز ایمان است
- ۲) گر رسد دشمنی برای وطن
- ۳) شکر داریم کز طفولیت
- ۴) ما که اطفال این دبستانیم

۳۴- در کدام گزینه «آرایه‌ی تناسب» به کار رفته است؟

- ۱) در خاک طلب بذر دعا کاشته ام
- ۲) شهید داستانی است پس از حادثه و زیبایی
- ۳) علی آن شیر خدا شاه عرب الفتی داشته با این دل شب
- ۴) گشته ام در جهان و آخر کار دلبری برگزیده ام که مپرس

۳۵- متنی که در آن نویسنده به «زمان و محل تولد، محل زندگی، ویژگی خلقی و جسمی، وقایع مهم زندگی و ...» توجه می کند،

چه نام دارد؟

- ۱) گزارش
- ۲) شرح حال
- ۳) خلاصه نویسی
- ۴) بازسازی

۳۶- در کدام بیت «ادات تشبیه» حذف شده است؟

- ۱) دریا قلی! به وسعت دریاست نام تو
- ۲) چو رستم بدیدش برانگیخت اسب
- ۳) بینداخت چون باد، خمّ کمند
- ۴) کلماتی چو دُر آویزه‌ی گوش

۳۷- در کدام گزینه ترکیب وصفی به کار رفته است؟

- ۱) وطن ما به جای مادر ماست
- ۲) درد عشقی کشیده ام که مپرس
- ۳) هر گل و برگی که هست یاد خدا می کند
- ۴) خیز و غنیمت شمار، جنبش باد ربیع

۳۸- کدام جمله برگرفته از کتاب مشخص شده، نیست؟

- ۱) مردمان تا زنده اند از دوستان ناگزیرند که مرد اگر بی برادر باشد به که بی دوست. ← قابوس نامه
- ۲) نیکویی گویند و نیکوکاری کنید که خدای عزّ وجل که شما را آفرید برای نیکی آفرید. ← تاریخ بلعمی
- ۳) مشورت ناکردن در کارها، ضعیف رایی باشد و هیچ شغلی بی مشورت، نیکو نیاید. ← سیاست نامه
- ۴) نظم در قصّه خوانی چون نمک است در دیگ؛ اگر کم باشد، طعام بی مزه و اگر بسیار گردد شور شود. ← فتوّت نامه سلطانی





****درست‌ترین پاسخ را از میان گزینه‌های پیشنهاد شده انتخاب و شماره‌ی آن را در پاسخ نامه، با مداد سیاه پر کنید.**



۳۹- در کدام بیت، تعداد کلمات کوتاه شده (مخفف) بیشتر است؟

- ۱) آسان گذرد گر شب و روز و مه و سالت
- ۲) ز بهر نیایش، سروتن بشست
- ۳) خروشید و جوشید بر کند خاک
- ۴) فردا اگر درنگ کنی کوچه های شهر
- روز عمل و مزد، بود کار تو دشوار
- یکی پاک جای پرستش بجست
- ز ستمش زمین شد همه چاک چاک
- میدان جنگ تن به تن و تانک باتن است

۴۰- کدام گزینه به مفهوم ضرب المثل، به درستی اشاره نکرده است؟

- ۱) نوش دارو بعد از مرگ سهراب (از دست رفتن زمان)
- ۲) تو نیکی می کن و در دجله انداز (نتیجه‌ی عمل خوب)
- ۳) تا پول داری رفیقتم، قربان بند کیفیتم (امانت داری در دوستی)
- ۴) کار نیکو کردن از پر کردن است (ممارست در انجام کار)

۴۱- کدام گزینه می تواند بیت اول «قطعه» باشد؟

- ۱) باد بهاری وزید از طرف مرغزار
- ۲) ای مادر عزیز که جانم فدای تو
- ۳) با اینکه سخن به لطف آب است
- ۴) آن قصه شنیدید که در باغ، یکی روز
- باز به گردون رسید ناله هر مرغ زار
- قربان مهربانی و لطف و صفای تو
- کم گفتن هر سخن، صواب است
- از جور تیر، زار بنالید سپیدار

۴۲- مفهوم عبارت روبرو در کدام گزینه درست تر است؟ «اگر روزگار یابم، نخست کسی من باشم که بدو گروم»

- ۱) اگر روزگار را پیدا کنم اولین کسی که به سمت او بروم من هستم.
- ۲) اگر روزگار بر وفق مراد من باشد اولین کسی باشم که مطیع او می شوم.
- ۳) اگر عمر من تا آن زمان ادامه داشته باشد اولین فردی باشم که با او سخن بگویم.
- ۴) اگر زنده بمانم من نخستین فردی باشم که به او ایمان آورم.

۴۳- در کدام گزینه منادا حذف شده است؟

- ۱) خداوندا به فریاد دلم رس
- ۲) ای نام تو روییده به گلدان لبم
- ۳) شیخ خندید و بگفتش ای سلیم
- ۴) خدایا جهان پادشاهی تو راست
- کس بی کس تویی من مانده بی کس
- در مرحمت تو غوطه ور روز و شبم
- این درخت علم باشد ای علیم
- زما خدمت آید، خدایی تو راست

۴۴- ترتیب گذاشتن نشانه های نگارشی در متن زیر، در کدام گزینه درست نوشته شده است؟ (از راست به چپ)

- افلاطون چون این سخن بشنید سر فرو برد و بگریست و سخت دلتنگ شد این مرد گفت
- «ای حکیم از من چه رنج آمد تو را که چنین تنگدل گشتی »

۲) ؟ ، : ، .

۱) ؟ ! : . ، .

۴) ! ؟ . . ، .

۳) ؟ : ، . ! .

۴۵- «نهاد» در کدام گزینه درست مشخص شده است؟

- ۱) از نظر سن و سال من از شما بزرگتر هستم.
- ۲) یکی از زیبا ترین بخش های شاهنامه، هفت خان رستم است
- ۳) دام و تور و تله، برای مرغ زیبا و خوش آواز است.
- ۴) آن گاه با خدای خود به راز و نیاز می پردازد.

۴۶- تعداد جمله های کدام بیت بیشتر است؟

- ۱) جز دانش و حکمت نبود میوه ی انسان
- ۲) گفتش تیر آهسته که جرم تو همین بس
- ۳) به دست آهن تفته کردن خمیر
- ۴) ای شکم خیره به نانی بساز
- ای میوه فروش هنر، این دگه و بازار
- کاین موسم حاصل بود و نیست تو را بار
- به از دست بر سینه پیش امیر
- تا نکنی پشت به خدمت دوتا



****درست‌ترین پاسخ را از میان گزینه‌های پیشنهاد شده انتخاب و شماره‌ی آن را در پاسخ نامه، با مداد سیاه پر کنید.**



۴۷- در کدام بیت نقش دستوری «را» با بقیه متفاوت است؟

- (۱) گر بود اختیار جهانی به دست من
می ریختم تمام جهان را به پای تو
- (۲) ای مادر عزیز که جان داده ای مرا
سهل است اگر که جان دهم اکنون برای تو
- (۳) اگر آن سبز قامت، رو نماید
در باغ خدا را می گشاید
- (۴) آوخ که شدم هیزم و آتشگر گیتی
اندام مرا سوخت چنین ز آتش ادبار

۴۸- بیت زیر از چه نوع جمله‌هایی تشکیل شده است؟ (به ترتیب از راست به چپ)

«از گفته ی ناکرده و بیهوده چه حاصل کردار نکو کن که نه سودی ست ز گفتار»

- (۱) خبری - امری - پرسشی
(۲) امری - خبری - پرسشی
- (۳) پرسشی - امری - خبری
(۴) پرسشی - خبری - امری

۴۹- در کدام یک از گزینه های زیر، کلمه ها از لحاظ تعداد هجا به طور صحیح در یک گروه قرار گرفته اند؟

- (۱) رفتن - دل دار - سربازی
(۲) رفتنی - دلی دار - دیدی
- (۳) رفتنی - دل داری - گل کاری
(۴) رفتن - سرباز - دل داری

۵۰- کلمات کدام گزینه از نظر ساخت واژه، همگی در یک گروه قرار می گیرند؟

- (۱) زیارت نامه - نغمه خوان - دلشاد - گران بها
(۲) دل نشین - نسیم - درویش - گفت وگو
- (۳) بهمنیار - جست وجو - برادر - مهربان
(۴) شست وشو - بزرگی - باغ - شاهنامه

ریاضیات (از سؤال ۵۱ تا ۷۰)

۵۱- «به عددهای «.....و ۳ و ۲ و ۱ و ۰» اعداد حسابی گفته می شود.»

$$\frac{3}{4} \times \square < \frac{1}{3}$$

با توجه به عبارت بالا چند عدد حسابی می توان در جای خالی قرار داد تا رابطه ی مقابل درست باشد؟

- (۱) یک
(۲) صفر
(۳) ده
(۴) بی نهایت

$$\frac{0.084 \div 0.002 \div 0.03 \div 7}{0.02 \div 10}$$

۵۲- حاصل عبارت مقابل، در کدام گزینه آمده است؟

- (۱) ۰/۰۰۰۰۱ (۲) ۰/۰۰۱ (۳) ۱ (۴) ۱۰۰۰۰۰۰



۵۳- شکل مقابل را چند درجه بچرخانیم تا روی خودش قرار گیرد؟

- (۱) ۶۰ (۲) ۹۰ (۳) ۱۵۰ (۴) ۱۸۰

۵۴- کشاورزی روز اول $\frac{2}{5}$ محصول خود را فروخت. روز دوم ۱۴۰۰ کیلوگرم از مانده ی آن را به فروش رساند. روز سوم $\frac{3}{7}$ باقی مانده

را فروخت. اگر مانده ی محصول ۴۰۰ کیلوگرم باشد. کل محصول چند تن بوده است؟

- (۱) $\frac{1}{6}$ (۲) $\frac{3}{5}$
(۳) $\frac{4}{6}$ (۴) $\frac{5}{5}$

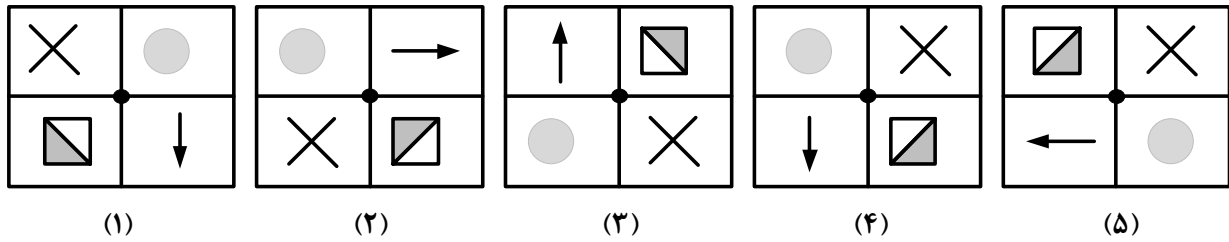
۵۵- اگر خارج قسمت عبارت $0.6 \div 0.33 \div 4$ را تا دو رقم اعشار ادامه دهیم باقی مانده کدام گزینه است؟

- (۱) ۰/۰۴ (۲) ۰/۰۱۰ (۳) ۰/۰۰۴ (۴) ۰/۱



****درست‌ترین پاسخ را از میان گزینه‌های پیشنهاد شده انتخاب و شماره‌ی آن را در پاسخ نامه، با مداد سیاه پر کنید.**

۵۶- با توجه به شکل های داده شده، کدام گزینه صحیح است؟ (دوران ها حول نقطه ی مرکزی)



- (۱) شکل (۱) نتیجه ی دوران 180° درجه ی شکل (۳) است.
 (۲) شکل (۴) از دوران 180° درجه ی شکل (۲) حاصل می شود.
 (۳) با دوران 90° درجه ی شکل (۲)، شکل (۱) به دست می آید.
 (۴) از دوران 270° درجه شکل (۳)، شکل (۵) به دست می آید.

۵۷- عدد 63 را به نسبت $\frac{1}{3}$ به $\frac{2}{3}$ تقسیم کرده ایم. اگر عدد کوچکتر را با تقریب کمتر از 10 گرد کنیم چه عددی به دست می آید؟

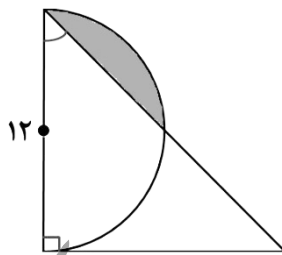
(۱) ۲۵ (۲) ۳۰ (۳) ۳۵ (۴) ۴۰

۵۸- ۳ عدد چهار وجهی منتظم یکسان داریم. می خواهیم با چسباندن وجه های آن ها به هم، یک کاردستی درست کنیم طوری که دو وجهی که به هم می چسبند کاملاً همدیگر را ببوشانند. چند جسم متفاوت با این روش می توانیم بسازیم؟

(۱) ۱ (۲) ۲ (۳) ۳ (۴) ۴

۵۹- سه لیوان متفاوت (آ)، (ب)، (ج) با $\frac{1}{9}$ لیتر شربت پرتقال پر می شود. اگر گنجایش لیوان (آ) $\frac{1}{3}$ لیوان (ب) و گنجایش لیوان (ج) ۲۵ درصد لیوان (ب) باشد، ظرفیت لیوان (آ) چند لیتر است؟

(۱) $\frac{0}{3}$ (۲) $\frac{1}{2}$ (۳) $\frac{0}{9}$ (۴) $\frac{0}{4}$



۶۰- در شکل مقابل، مثلث قائم الزاویه متساوی الساقین است. مساحت قسمت رنگی چند سانتی متر مربع است؟ (عدد پی = ۳)

- (۱) ۱۸ (۲) ۱۳ (۳) ۹ (۴) ۴

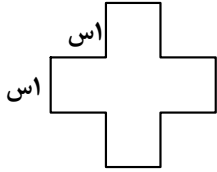
محل انجام محاسبات:





****درست‌ترین پاسخ را از میان گزینه‌های پیشنهاد شده انتخاب و شماره‌ی آن را در پاسخ نامه، با مداد سیاه پر کنید.**

۶۱- از وسط یک وجه مکعبی به طول ضلع ۴ سانتی متر سوراخی مانند شکل مقابل ایجاد کردیم به صورتی که از طرف مقابل آن خارج شد. چند سانتی متر مکعب از حجم اولیه کاسته شده است؟



۴۸ (۴)

۴۴ (۳)

۲۰ (۲)

۱۶ (۱)

۶۲- قیمت کالایی که ۱۰۰۰۰ تومان بود بعد از افزایش چند درصد مالیات و پس از ۱۵٪ تخفیف به قیمت ۸۸۴۰ تومان فروخته شد. مقدار مالیات چند درصد بوده است؟

۴ (۴)

۶ (۳)

۸ (۲)

۱۰ (۱)

۶۳- اگر $\frac{1}{3} = 0.\overline{3333}$ باشد. $\frac{1}{30}$ کدام است؟

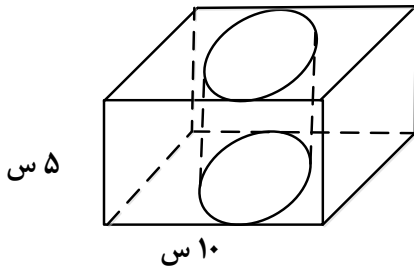
$\frac{3}{3333}$ (۴)

$0.\overline{3030}$ (۳)

$0.\overline{033}$ (۲)

$0.\overline{3333}$ (۱)

۶۴- از یک مکعب مستطیل توپُر، استوانه‌ای به قطر قاعده‌ی ۸ سانتی متر بیرون آورده ایم. مساحت کل شکل چند سانتی متر مربع است؟ (عدد پی را با تقریب کمتر از یک در نظر بگیرید.)



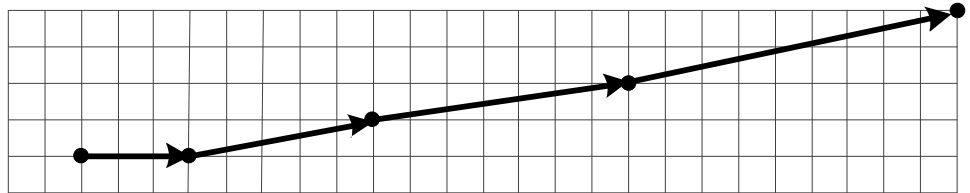
۲۴۴ (۴)

۳۴۰ (۳)

۳۶۴ (۲)

۴۶۰ (۱)

۶۵- هر پیکان الگوی حرکتی یک مورچه را نشان می‌دهد. در پایان حرکت هشتم، مورچه در چه نقطه‌ای قرار می‌گیرد؟



$\begin{bmatrix} 65 \\ 12 \end{bmatrix}$ (۴)

$\begin{bmatrix} 65 \\ 21 \end{bmatrix}$ (۳)

$\begin{bmatrix} 12 \\ 34 \end{bmatrix}$ (۲)

$\begin{bmatrix} 34 \\ 55 \end{bmatrix}$ (۱)

محل انجام محاسبات:





****درست‌ترین پاسخ را از میان گزینه‌های پیشنهاد شده انتخاب و شماره‌ی آن را در پاسخ نامه، با مداد سیاه پر کنید.**

۶۶- شکلی به مختصات $\begin{bmatrix} 3 \\ 6 \end{bmatrix}$ $\begin{bmatrix} 7 \\ 6 \end{bmatrix}$ $\begin{bmatrix} 9 \\ 2 \end{bmatrix}$ $\begin{bmatrix} 1 \\ 2 \end{bmatrix}$ را رسم و سطح آن را رنگ کردیم. قرینه‌ی شکل را نسبت به نقطه‌ی $\begin{bmatrix} 5 \\ 4 \end{bmatrix}$ رسم کرده و

سطح آن را رنگ زدیم. مساحت کل قسمت‌های رنگ شده چند سانتی متر مربع است؟

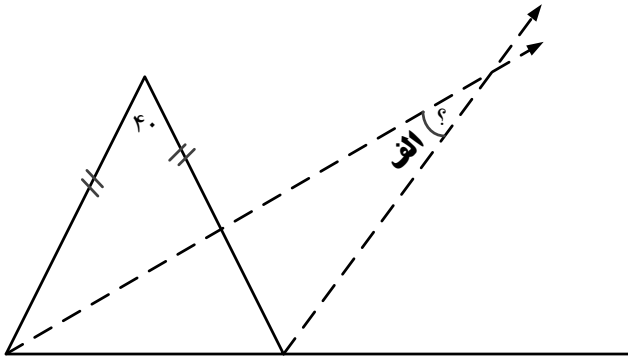
۲۴ (۴)

۲۸ (۳)

۳۲ (۲)

۳۵ (۱)

۶۷- زاویه الف چند درجه است؟ (خط چین‌ها نیمساز هستند)



۱۵ (۴)

۲۵ (۳)

۱۰ (۲)

۲۰ (۱)

$$\frac{\frac{6}{8} \times \frac{5}{8} + 1 \div \frac{4}{5} - 1}{11 + 4 \div 6 \times 12}$$

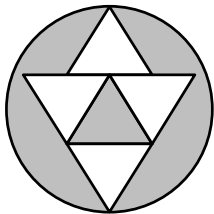
۶۸- پاسخ گرد شده‌ی عبارت مقابل با تقریب کمتر ۰/۰۱ کدام است؟

۰/۰۳ (۴)

۰/۰۲ (۳)

۰/۰۱ (۲)

۰ (۱)



۶۹- محیط دایره ۹/۴۲ سانتی متر و محیط هر مثلث متساوی الاضلاع ۳۶ میلی متر است.

مساحت قسمت رنگی چند سانتی متر مربع است؟

۹/۱۸ (۴)

۴/۶۶۵ (۳)

۳/۸۲ (۲)

۲/۲۶۵ (۱)

۷۰- آقای هاشمی ۳ فرزند پسر و دو فرزند دختر دارد، او هر ماه مبلغ دومیلیون و صد هزار تومان به بچه‌ها و همسرش می‌پردازد.

اگر سهم هر دختر ۱/۵ برابر پسر و مادر سه برابر یک دختر باشد، سهم همسر او در ماه چند تومان است؟

۱/۳۵۰/۰۰۰ (۴)

۹۰۰/۰۰۰ (۳)

۶۵۰/۰۰۰ (۲)

۳۰۰/۰۰۰ (۱)

محل انجام محاسبات:





****درست‌ترین پاسخ را از میان گزینه‌های پیشنهاد شده انتخاب و شماره‌ی آن را در پاسخ نامه، با مداد سیاه پر کنید.**

مطالعات اجتماعی (از سؤال ۷۱ تا ۸۰)

۷۱- توصیه‌ی «اگر دوستان کاراشتباهی انجام داده است و عذر می‌خواهد، او را ببخشیم» مربوط به کدام مورد از آداب دوستی می‌باشد؟

- (۱) حد و مرز دوستی
(۲) انتخاب دوست
(۳) حفظ و نگهداری دوستی
(۴) مهارت نه گفتن

۷۲- کدام گزینه کمترین منبع تأمین انرژی در کشور ما را نشان می‌دهد؟

- (۱) نفت
(۲) گاز
(۳) اورانیوم
(۴) آب

۷۳- با توجه به عوامل موثر در کشاورزی کدام گروه با بقیه متفاوت است؟

- (۱) خاک، آب، پول، بذر
(۲) خاک، کشاورز، آب و هوا، بیل
(۳) کشاورز، بیل، پول، کود
(۴) آب و هوا، خاک، کود، پول

۷۴- در کدام گزینه زمان رخ داده‌های تاریخی درست است؟

- (۱) آغاز حکومت شاه عباس اول ← ۹۹۰ هجری
(۲) انتخاب اصفهان به پایتختی ← ۱۰۰۸ هجری
(۳) تاسیس سلسله‌ی صفویه توسط شاه اسماعیل اول ← ۹۰۰ هجری
(۴) طراحی مجموعه‌ی میدان نقش جهان ← ۱۰۲۸ هجری

۷۵- کدام گزینه درباره مسجد امام (جامع عباسی) درست است؟

- (۱) ساختن مسجد حدود ۱۸ سال طول کشید.
(۲) کتیبه‌هایی روی گنبد، محراب و مناره‌ها دیده می‌شود.
(۳) هریک از مناره‌های مسجد کمتر از ۴۰ متر ارتفاع دارد.
(۴) این مسجد به فرمان شاه عباس ساخته شد.

۷۶- در کدام مورد، روابط علت و معلولی در رخ داده‌های زیر نادرست است؟ (علت ← معلول)

- (۱) انتقال علوم و فنون از جهان اسلام - رونق تجارت - پیشرفت علوم و هنر - اکتشافات جدید جغرافیایی) ← قدرتمندی اروپا
(۲) حکومت قدرتمند و یکپارچه - رونق تجارت - برقراری امنیت در راهها - حمایت از هنرمندان) ← گسترش هنر و معماری در دوره صفویه
(۳) قطع منافع استعمارگران از ایران - حمایت ایران از مردم فلسطین - سوء استفاده از شرایط داخلی ایران) ← حمله نظامی عراق به ایران
(۴) (برقراری امنیت در راه‌ها و شهرها - حکومت قدرتمند و یکپارچه - کاغذ سازی) ← گسترش علوم و فنون در دوره اسلامی

۷۷- اگر شما قصد داشته باشید در انتخابات شورای دانش آموزی مدرسه شرکت کنید، با توجه به مراحل تصمیم‌گیری اولین مرحله کار شما چیست؟

- (۱) پیش‌بینی فعالیت‌های آینده شورا
(۲) تفکر و جمع‌آوری اطلاعات درباره‌ی شوراها
(۳) ارائه راهکارهای مناسب بر اساس اهداف شورا
(۴) تصمیم‌گیری بر اساس صلاحیت‌ها و توانایی‌های خود

۷۸- کدام یک از عبارات‌های زیر در مورد دریای خزر درست نیست؟

- (۱) عمق آن در نواحی شمالی بسیار کم است.
(۲) میزان شوری آب آن از دیگر دریاها کمتر است.
(۳) در کناره‌های آن بریدگی‌هایی وجود دارد که خور گفته می‌شود.
(۴) یکی از نام‌های قدیمی آن، دریای قزوین بوده است.

۷۹- کدام یک از برنامه‌های زیر متعادل تر است؟

- (۱) تفریح - دعا کردن - ارتباط با دوستان - درس خواندن
(۲) نماز خواندن - ارتباط با دوستان - درس خواندن - قرآن خواندن
(۳) خواب - سرگرمی - درس خواندن - عبادت کردن
(۴) درس خواندن - انجام تکالیف - استراحت - دعا کردن

۸۰- یکی از مقاوم‌ترین شهرهای ایران در هشت سال دفاع مقدس کدام شهر بود؟

- (۱) اهواز
(۲) آبادان
(۳) دزفول
(۴) اندیمشک

۱۰۹۵

با آرزوی موفقیت برای شاعران



اداره کل آموزش و پرورش خراسان رضوی
 آزمون ورودی دبیرستان های نمونه دولتی
 پایه هفتم - سال تحصیلی ۹۷-۹۶

حوزه:

کد داوطلب:

نام داوطلب:

نام خانوادگی:

نام پدر:

نام آموزشگاه:

داوطلب گرامی: نام و نام خانوادگی خود را بصورت خوانا در این کادر نوشته و امضا نمایید.

نام: _____ نام خانوادگی: _____ نام پدر: _____ امضا: _____

استان خراسان رضوی /

هر گونه تغییر در این کادر باعث عدم صدور کارنامه خواهد شد

«کتاب اولیه»

آزمون ورودی دبیرستان های نمونه دولتی متوسطه دوره اول
 سال تحصیلی ۹۷-۹۶

اصلاح
نام

غیبت



| ردیف | ۱ الف | ۲ ب | ۳ ج | ۴ د |
|------|-------------------------------------|-------------------------------------|-------------------------------------|-------------------------------------|
| ۱ | <input type="checkbox"/> | <input checked="" type="checkbox"/> | <input type="checkbox"/> | <input type="checkbox"/> |
| ۲ | <input checked="" type="checkbox"/> | <input type="checkbox"/> | <input type="checkbox"/> | <input type="checkbox"/> |
| ۳ | <input type="checkbox"/> | <input type="checkbox"/> | <input checked="" type="checkbox"/> | <input type="checkbox"/> |
| ۴ | <input type="checkbox"/> | <input type="checkbox"/> | <input checked="" type="checkbox"/> | <input type="checkbox"/> |
| ۵ | <input type="checkbox"/> | <input checked="" type="checkbox"/> | <input type="checkbox"/> | <input type="checkbox"/> |
| ۶ | <input type="checkbox"/> | <input checked="" type="checkbox"/> | <input type="checkbox"/> | <input type="checkbox"/> |
| ۷ | <input type="checkbox"/> | <input type="checkbox"/> | <input checked="" type="checkbox"/> | <input type="checkbox"/> |
| ۸ | <input checked="" type="checkbox"/> | <input type="checkbox"/> | <input type="checkbox"/> | <input type="checkbox"/> |
| ۹ | <input type="checkbox"/> | <input type="checkbox"/> | <input type="checkbox"/> | <input checked="" type="checkbox"/> |
| ۱۰ | <input type="checkbox"/> | <input type="checkbox"/> | <input checked="" type="checkbox"/> | <input type="checkbox"/> |
| ۱۱ | <input type="checkbox"/> | <input checked="" type="checkbox"/> | <input type="checkbox"/> | <input type="checkbox"/> |
| ۱۲ | <input type="checkbox"/> | <input type="checkbox"/> | <input type="checkbox"/> | <input checked="" type="checkbox"/> |
| ۱۳ | <input type="checkbox"/> | <input type="checkbox"/> | <input type="checkbox"/> | <input checked="" type="checkbox"/> |
| ۱۴ | <input type="checkbox"/> | <input type="checkbox"/> | <input checked="" type="checkbox"/> | <input type="checkbox"/> |
| ۱۵ | <input type="checkbox"/> | <input checked="" type="checkbox"/> | <input type="checkbox"/> | <input type="checkbox"/> |
| ۱۶ | <input checked="" type="checkbox"/> | <input type="checkbox"/> | <input type="checkbox"/> | <input type="checkbox"/> |
| ۱۷ | <input type="checkbox"/> | <input type="checkbox"/> | <input checked="" type="checkbox"/> | <input type="checkbox"/> |
| ۱۸ | <input type="checkbox"/> | <input type="checkbox"/> | <input type="checkbox"/> | <input checked="" type="checkbox"/> |
| ۱۹ | <input type="checkbox"/> | <input type="checkbox"/> | <input type="checkbox"/> | <input checked="" type="checkbox"/> |
| ۲۰ | <input type="checkbox"/> | <input type="checkbox"/> | <input checked="" type="checkbox"/> | <input type="checkbox"/> |
| ۲۱ | <input checked="" type="checkbox"/> | <input type="checkbox"/> | <input type="checkbox"/> | <input type="checkbox"/> |
| ۲۲ | <input type="checkbox"/> | <input type="checkbox"/> | <input checked="" type="checkbox"/> | <input type="checkbox"/> |
| ۲۳ | <input type="checkbox"/> | <input checked="" type="checkbox"/> | <input type="checkbox"/> | <input type="checkbox"/> |
| ۲۴ | <input type="checkbox"/> | <input checked="" type="checkbox"/> | <input type="checkbox"/> | <input type="checkbox"/> |
| ۲۵ | <input checked="" type="checkbox"/> | <input type="checkbox"/> | <input type="checkbox"/> | <input type="checkbox"/> |
| ۲۶ | <input type="checkbox"/> | <input type="checkbox"/> | <input checked="" type="checkbox"/> | <input type="checkbox"/> |
| ۲۷ | <input type="checkbox"/> | <input type="checkbox"/> | <input type="checkbox"/> | <input checked="" type="checkbox"/> |
| ۲۸ | <input type="checkbox"/> | <input type="checkbox"/> | <input type="checkbox"/> | <input checked="" type="checkbox"/> |
| ۲۹ | <input type="checkbox"/> | <input type="checkbox"/> | <input checked="" type="checkbox"/> | <input type="checkbox"/> |
| ۳۰ | <input checked="" type="checkbox"/> | <input type="checkbox"/> | <input type="checkbox"/> | <input type="checkbox"/> |
| ۳۱ | <input type="checkbox"/> | <input type="checkbox"/> | <input type="checkbox"/> | <input checked="" type="checkbox"/> |
| ۳۲ | <input type="checkbox"/> | <input checked="" type="checkbox"/> | <input type="checkbox"/> | <input type="checkbox"/> |
| ۳۳ | <input type="checkbox"/> | <input type="checkbox"/> | <input checked="" type="checkbox"/> | <input type="checkbox"/> |
| ۳۴ | <input checked="" type="checkbox"/> | <input type="checkbox"/> | <input type="checkbox"/> | <input type="checkbox"/> |
| ۳۵ | <input type="checkbox"/> | <input checked="" type="checkbox"/> | <input type="checkbox"/> | <input type="checkbox"/> |
| ۳۶ | <input checked="" type="checkbox"/> | <input type="checkbox"/> | <input type="checkbox"/> | <input type="checkbox"/> |
| ۳۷ | <input type="checkbox"/> | <input type="checkbox"/> | <input checked="" type="checkbox"/> | <input type="checkbox"/> |
| ۳۸ | <input type="checkbox"/> | <input checked="" type="checkbox"/> | <input type="checkbox"/> | <input type="checkbox"/> |
| ۳۹ | <input checked="" type="checkbox"/> | <input type="checkbox"/> | <input type="checkbox"/> | <input type="checkbox"/> |
| ۴۰ | <input type="checkbox"/> | <input type="checkbox"/> | <input checked="" type="checkbox"/> | <input type="checkbox"/> |
| ۴۱ | <input type="checkbox"/> | <input type="checkbox"/> | <input type="checkbox"/> | <input checked="" type="checkbox"/> |
| ۴۲ | <input type="checkbox"/> | <input type="checkbox"/> | <input checked="" type="checkbox"/> | <input type="checkbox"/> |
| ۴۳ | <input type="checkbox"/> | <input checked="" type="checkbox"/> | <input type="checkbox"/> | <input type="checkbox"/> |
| ۴۴ | <input checked="" type="checkbox"/> | <input type="checkbox"/> | <input type="checkbox"/> | <input type="checkbox"/> |
| ۴۵ | <input checked="" type="checkbox"/> | <input type="checkbox"/> | <input type="checkbox"/> | <input type="checkbox"/> |
| ۴۶ | <input type="checkbox"/> | <input checked="" type="checkbox"/> | <input type="checkbox"/> | <input type="checkbox"/> |
| ۴۷ | <input type="checkbox"/> | <input type="checkbox"/> | <input checked="" type="checkbox"/> | <input type="checkbox"/> |
| ۴۸ | <input type="checkbox"/> | <input type="checkbox"/> | <input type="checkbox"/> | <input checked="" type="checkbox"/> |
| ۴۹ | <input type="checkbox"/> | <input type="checkbox"/> | <input type="checkbox"/> | <input checked="" type="checkbox"/> |
| ۵۰ | <input checked="" type="checkbox"/> | <input type="checkbox"/> | <input type="checkbox"/> | <input type="checkbox"/> |
| ۵۱ | <input checked="" type="checkbox"/> | <input type="checkbox"/> | <input type="checkbox"/> | <input type="checkbox"/> |
| ۵۲ | <input type="checkbox"/> | <input type="checkbox"/> | <input type="checkbox"/> | <input checked="" type="checkbox"/> |
| ۵۳ | <input type="checkbox"/> | <input type="checkbox"/> | <input type="checkbox"/> | <input checked="" type="checkbox"/> |
| ۵۴ | <input type="checkbox"/> | <input checked="" type="checkbox"/> | <input type="checkbox"/> | <input type="checkbox"/> |
| ۵۵ | <input type="checkbox"/> | <input type="checkbox"/> | <input type="checkbox"/> | <input checked="" type="checkbox"/> |
| ۵۶ | <input checked="" type="checkbox"/> | <input type="checkbox"/> | <input type="checkbox"/> | <input type="checkbox"/> |
| ۵۷ | <input type="checkbox"/> | <input checked="" type="checkbox"/> | <input type="checkbox"/> | <input type="checkbox"/> |
| ۵۸ | <input checked="" type="checkbox"/> | <input type="checkbox"/> | <input type="checkbox"/> | <input type="checkbox"/> |
| ۵۹ | <input type="checkbox"/> | <input type="checkbox"/> | <input type="checkbox"/> | <input checked="" type="checkbox"/> |
| ۶۰ | <input type="checkbox"/> | <input type="checkbox"/> | <input checked="" type="checkbox"/> | <input type="checkbox"/> |
| ۶۱ | <input type="checkbox"/> | <input checked="" type="checkbox"/> | <input type="checkbox"/> | <input type="checkbox"/> |
| ۶۲ | <input type="checkbox"/> | <input type="checkbox"/> | <input checked="" type="checkbox"/> | <input type="checkbox"/> |
| ۶۳ | <input checked="" type="checkbox"/> | <input type="checkbox"/> | <input type="checkbox"/> | <input type="checkbox"/> |
| ۶۴ | <input type="checkbox"/> | <input type="checkbox"/> | <input checked="" type="checkbox"/> | <input type="checkbox"/> |
| ۶۵ | <input checked="" type="checkbox"/> | <input type="checkbox"/> | <input type="checkbox"/> | <input type="checkbox"/> |
| ۶۶ | <input type="checkbox"/> | <input type="checkbox"/> | <input checked="" type="checkbox"/> | <input type="checkbox"/> |
| ۶۷ | <input checked="" type="checkbox"/> | <input type="checkbox"/> | <input type="checkbox"/> | <input type="checkbox"/> |
| ۶۸ | <input type="checkbox"/> | <input type="checkbox"/> | <input type="checkbox"/> | <input checked="" type="checkbox"/> |
| ۶۹ | <input type="checkbox"/> | <input type="checkbox"/> | <input type="checkbox"/> | <input checked="" type="checkbox"/> |
| ۷۰ | <input type="checkbox"/> | <input type="checkbox"/> | <input checked="" type="checkbox"/> | <input type="checkbox"/> |
| ۷۱ | <input type="checkbox"/> | <input type="checkbox"/> | <input checked="" type="checkbox"/> | <input type="checkbox"/> |
| ۷۲ | <input type="checkbox"/> | <input type="checkbox"/> | <input type="checkbox"/> | <input checked="" type="checkbox"/> |
| ۷۳ | <input type="checkbox"/> | <input type="checkbox"/> | <input type="checkbox"/> | <input checked="" type="checkbox"/> |
| ۷۴ | <input type="checkbox"/> | <input type="checkbox"/> | <input checked="" type="checkbox"/> | <input type="checkbox"/> |
| ۷۵ | <input type="checkbox"/> | <input checked="" type="checkbox"/> | <input type="checkbox"/> | <input type="checkbox"/> |
| ۷۶ | <input type="checkbox"/> | <input type="checkbox"/> | <input type="checkbox"/> | <input checked="" type="checkbox"/> |
| ۷۷ | <input type="checkbox"/> | <input checked="" type="checkbox"/> | <input type="checkbox"/> | <input type="checkbox"/> |
| ۷۸ | <input type="checkbox"/> | <input type="checkbox"/> | <input type="checkbox"/> | <input checked="" type="checkbox"/> |
| ۷۹ | <input type="checkbox"/> | <input type="checkbox"/> | <input type="checkbox"/> | <input checked="" type="checkbox"/> |
| ۸۰ | <input type="checkbox"/> | <input type="checkbox"/> | <input checked="" type="checkbox"/> | <input type="checkbox"/> |
| ۸۱ | <input type="checkbox"/> | <input type="checkbox"/> | <input type="checkbox"/> | <input type="checkbox"/> |
| ۸۲ | <input type="checkbox"/> | <input type="checkbox"/> | <input type="checkbox"/> | <input type="checkbox"/> |
| ۸۳ | <input type="checkbox"/> | <input type="checkbox"/> | <input type="checkbox"/> | <input type="checkbox"/> |
| ۸۴ | <input type="checkbox"/> | <input type="checkbox"/> | <input type="checkbox"/> | <input type="checkbox"/> |
| ۸۵ | <input type="checkbox"/> | <input type="checkbox"/> | <input type="checkbox"/> | <input type="checkbox"/> |
| ۸۶ | <input type="checkbox"/> | <input type="checkbox"/> | <input type="checkbox"/> | <input type="checkbox"/> |
| ۸۷ | <input type="checkbox"/> | <input type="checkbox"/> | <input type="checkbox"/> | <input type="checkbox"/> |
| ۸۸ | <input type="checkbox"/> | <input type="checkbox"/> | <input type="checkbox"/> | <input type="checkbox"/> |
| ۸۹ | <input type="checkbox"/> | <input type="checkbox"/> | <input type="checkbox"/> | <input type="checkbox"/> |
| ۹۰ | <input type="checkbox"/> | <input type="checkbox"/> | <input type="checkbox"/> | <input type="checkbox"/> |
| ۱۱۱ | <input type="checkbox"/> | <input type="checkbox"/> | <input type="checkbox"/> | <input type="checkbox"/> |
| ۱۱۲ | <input type="checkbox"/> | <input type="checkbox"/> | <input type="checkbox"/> | <input type="checkbox"/> |
| ۱۱۳ | <input type="checkbox"/> | <input type="checkbox"/> | <input type="checkbox"/> | <input type="checkbox"/> |
| ۱۱۴ | <input type="checkbox"/> | <input type="checkbox"/> | <input type="checkbox"/> | <input type="checkbox"/> |
| ۱۱۵ | <input type="checkbox"/> | <input type="checkbox"/> | <input type="checkbox"/> | <input type="checkbox"/> |
| ۱۱۶ | <input type="checkbox"/> | <input type="checkbox"/> | <input type="checkbox"/> | <input type="checkbox"/> |
| ۱۱۷ | <input type="checkbox"/> | <input type="checkbox"/> | <input type="checkbox"/> | <input type="checkbox"/> |
| ۱۱۸ | <input type="checkbox"/> | <input type="checkbox"/> | <input type="checkbox"/> | <input type="checkbox"/> |
| ۱۱۹ | <input type="checkbox"/> | <input type="checkbox"/> | <input type="checkbox"/> | <input type="checkbox"/> |
| ۱۲۰ | <input type="checkbox"/> | <input type="checkbox"/> | <input type="checkbox"/> | <input type="checkbox"/> |