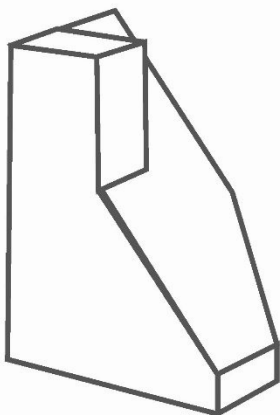
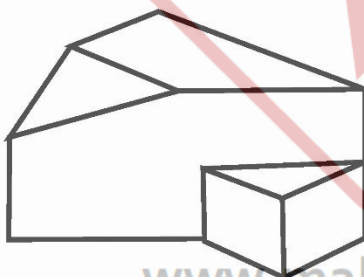


کدام یک از شکل های زیر می تواند
همان شکل جسم مقابل باشد؟



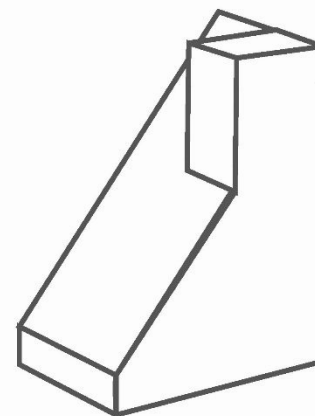
۱



۲




۳



۴

www.maktabesaei.ir
@maktabesaei
مکتب ساعی

تصاویر روبه رو که از سه جهت
نمای یک جسم را نشان می دهد؛
مربوط به کدام گزینه است؟



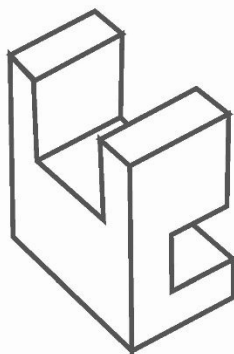
بالا



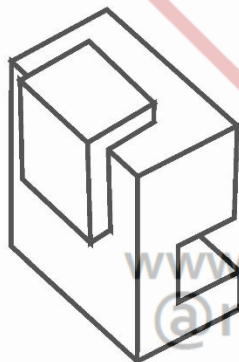
رو به رو



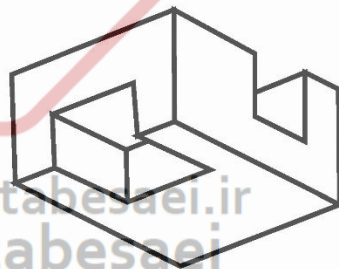
کنار



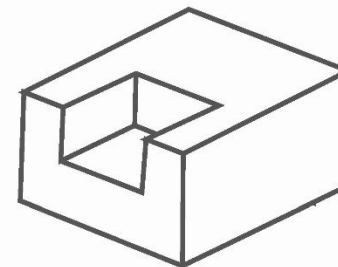
۱



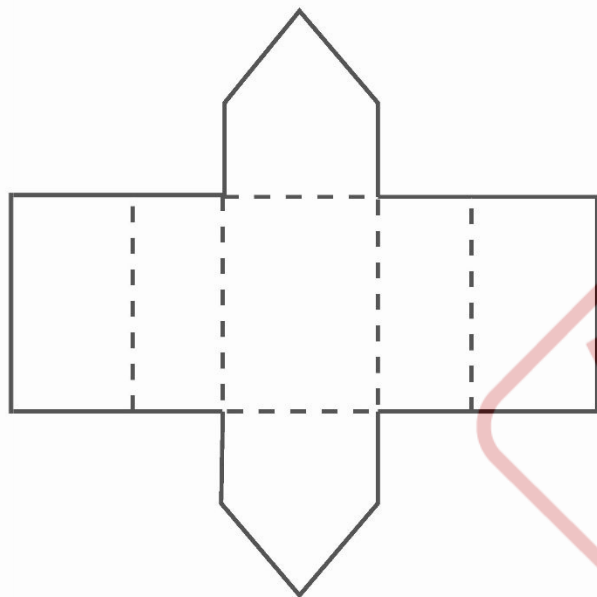
۲



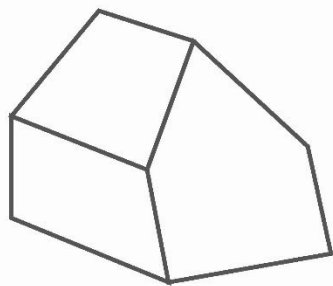
۳



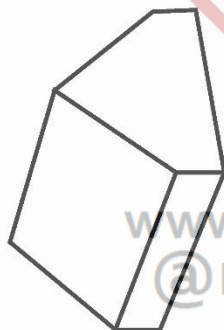
۴



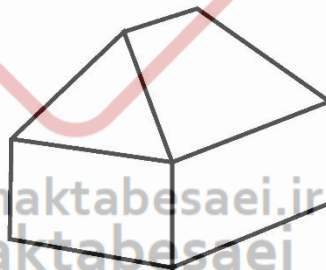
شکل روبه رو گسترده ی کدام
گزینه است؟



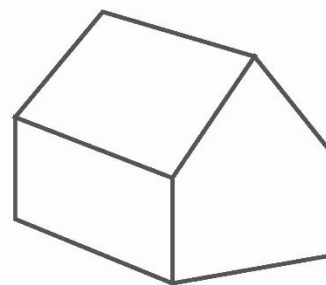
۱



۲




۳

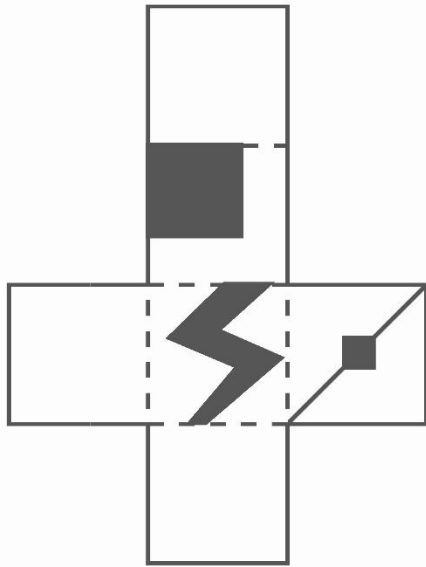


۴


www.maktabesaei.ir
@maktabesaei
مکتب ساعی



کدام گزینه گسترده ی شکل روبه روست؟



۱



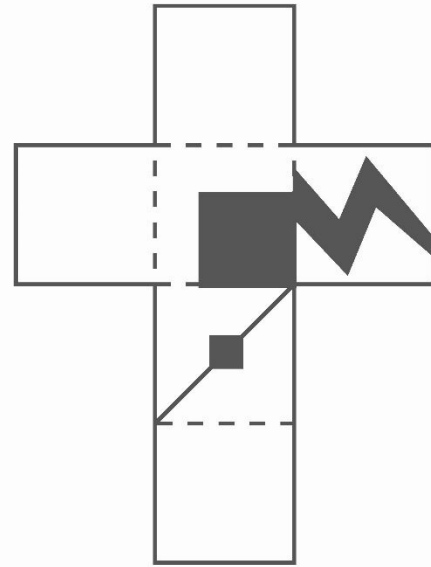
www.maktabesaei.ir

@maktabesaei


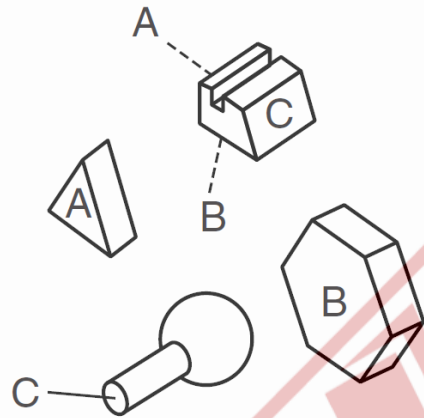
۲

مکتب ساعی


۳



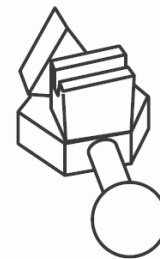
۴




۲




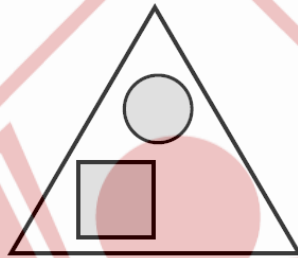
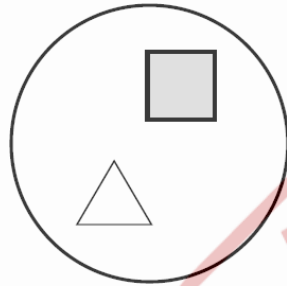
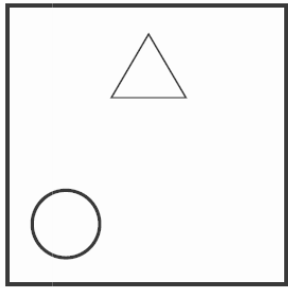
۳



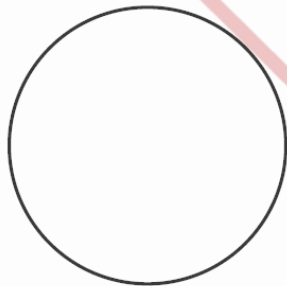
۴



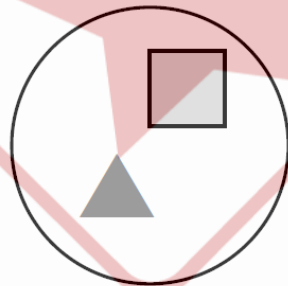
www.maktabesaei.ir
@maktabesaei
مکتب ساعی



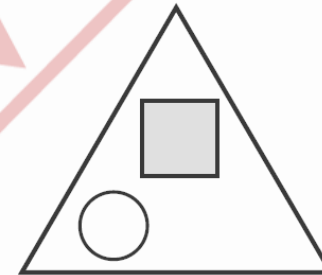
۱



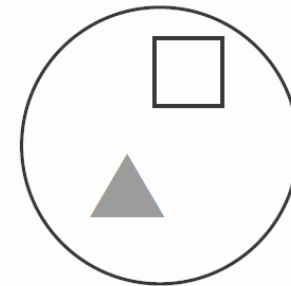
۲



۳




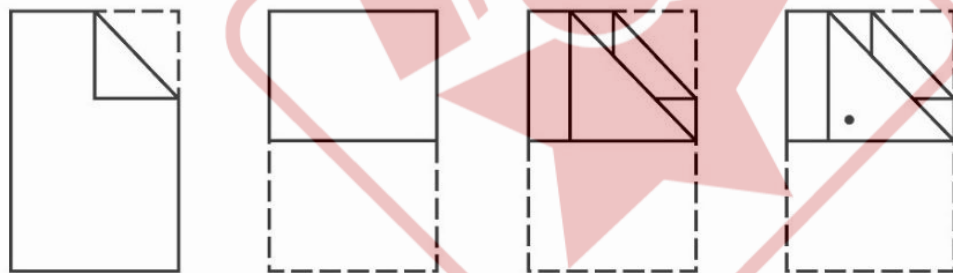
۴



۵

www.maktabesaei.ir
@maktabesaei
مکتب ساعی

کاغذی را مطابق شکل زیر چند بار تا می کنیم
سپس در محل مشخص شده سوراخی ایجاد
می کنیم. پس از باز کردن تا ها محل قرار
گرفتن سوراخ ها کدام خواهد شد؟



۴



۳



۲



۱

www.maktabesaei.ir
@maktabesaei
مکتب ساعی



www.maktabesaei.ir
@maktabesaei
مکتب ساعی

۱

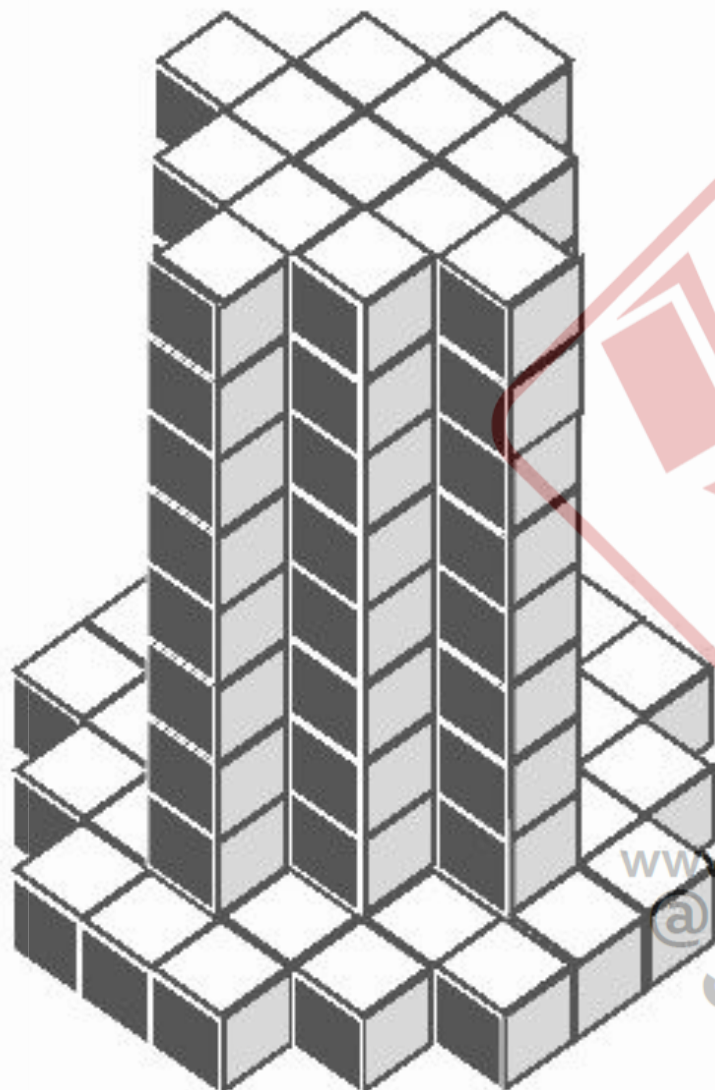
۲

۳

۴

۵

?



در شکل مقابل چند مکعب کوچک
هم اندازه وجود دارد؟

۱ (۱۴۱

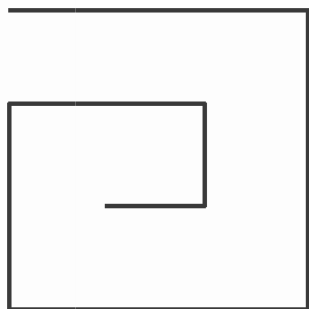
۲ (۱۴۲

۳ (۱۴۳

۴ (۱۴۵

www.maktabesaei.ir
@maktabesaei
مکتب ساعی

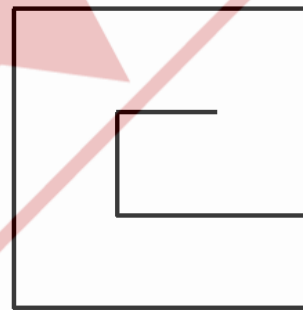
متفاوت ترین گزینه کدام است؟



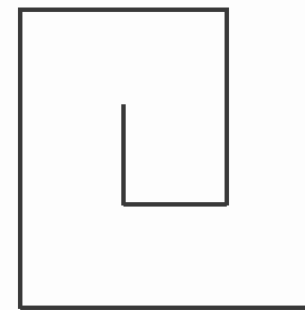
۱



۲



۳



۴

www.maktabesaei.ir
@maktabesaei
مکتب ساعی