

سؤالات امتحان نهایی درس : املاي فارسي		سوم راهنمائي		ساعت شروع : ۱۰ صبح		مدت امتحان : ۲۰ دقیقه	
دانش آموزان و داوطلبان آزاد سراسر استان در شهریور ماه سال ۱۳۹۱				تاریخ امتحان : ۱۳۹۱ / ۶ / ۶			
نام و نام خانوادگی:				نام آموزشگاه:			
اداره سنجش آموزش و پرورش استان آذربایجان شرقی							
ردیف		سؤالات املاي فارسي					
۱-		صحیح یا غلط بودن گزینه های زیر را مشخص کنید. الف) در نوشتن املا به صدا و حروف پایانی کلمات به ویژه افعال، باید توجه داشت. ص <input type="checkbox"/> غ <input type="checkbox"/> ب) « خسوار » به معنی پست و ذلیل و « خار » به معنی تیغ است. ص <input type="checkbox"/> غ <input type="checkbox"/>					
۲-		املاي کدام کلمه با توجه به معنی نادرست است؟ الف) حاجت : نیاز ب) نظاره : تماشا ج) معارج : نردبان ها د) قنسی : بی نیاز					
۳-		مشخص کنید کدام گزینه از نظر املاي صحیح می باشد؟ الف: تعمیر هم نشین ب: سخته ی جانبازی ج: خط مرزی د: کلبه ی اهزان					
۴-		حرف مناسب را برای جاهای خالی انتخاب کنید. الف: امیدوارم به پرنده ای دانه بدهی و به آواز مرغ س.....ری گوش کنی. ( ح. ه ) ب: آینده را با سه چیز می توان ساخت: «تحصیل»، «ورزش»، و «ته.....پ». ( ظ، ز، ذ )					
۵-		املاي صحیح واژه های مشخص شده را بنویسید. الف: نام تو رخصت رویش است و تراوت ..... ب: کربلا قرارگاه اُشاق است. ....					
۶-		با حروف به هم ریخته در پرانتز واژه ی جدید بسازید. الف: (ظ، ح، ف، ا)..... ب: (ا، ز، د، ا، ه).....					
۷-		در کلمه ها و ترکیب های داده شده تشدید را در جای مناسب بگذارید. الف: متوقف ب: ادبیات ایران ج: شعار جمعیت د: توقع					
۸-		در متن زیر متن زیر واژه های نادرست را پیدا کرده و شکل صحیح آن ها را بنویسید. بر این سرزمین، تندبادها و طوفان ها وزیده اند. رویدادها و شکست ها همسایه ی پیروزی ها و کامرانی ها، چهره نشان داده اند، اما در همه ی این نشیب و فراز ها ایران و ایرانی مانده اند و به سراقازی علوند و دماوند و صهندباروحی به ضلالتی خزر و خلیج فارس و قستر دگی و سمیمیت کویرها بالیده اند.					
۳		۱-		۳-		۳-	
		۴-		۵-		۶-	
موفق باشید							

متن املائی تقریری امتحان نهایی	سوم راهنمائی	ساعت شروع: ۱۰ صبح	مدت امتحان: ۴۰ دقیقه
دانش آموزان و داوطلبان آزاد سراسر استان در شهریور ماه سال ۱۳۹۱	نام آموزشگاه:	اداره سنجش آموزش و پرورش استان آذربایجان شرقی	تاریخ امتحان: ۱۳۹۱ / ۶ / ۶
نام و نام خانوادگی:			

### املائی تقریری

آن چه به ما در شناخت افراد یاری می رساند، مشورت با پدر و مادر، معلمان دلسوز و مربیان با تجربه است که مارا از دام و چاه این راه آگاه می سازد و آسیب های این مسیر را نشان می دهد.

چه بسیارند کسانی که لاف دوستی می زنند اما در حقیقت گرگانی در جامه ی میشان اند.

اکنون نیاز های جدید، چاره جویی های تازه ای می طلبد و این نیازمند آن است که دختران و پسرانی که برای تحویل گرفتن کشور آماده می شوند، توانایی راهبرد آن را داشته باشند.

بزرگ و والا کسی است که در حادثه ها و تلخ کامی ها نشکند. و راه گم نکند. و هنرمند تر از او کسی است که از حادثه ها و دشواری ها پلی بسازد برای رفتن و به مقصد رسیدن.

جنگ برپا شد تا مردترین مردان در حسرت قافله ی کربلایی عشق نمانند. در پس این ویرانی ها معارжі به سال ۶۱ هجری قمری وجود داشت و برفراز آن، امام عشق، حسین بن علی (ع)، آغوش برگشوده بود. رزم آوران از این منظر آسمانی به جنگ می تگریستند که: «در هر وجه از این خاک شهیدی به معراج رفته است با وضو وارد شوید».

نام:

نام خانوادگی:

نام حوزه امتحانی:

باسمه تعالی

وزارت آموزش و پرورش

اداره کل آموزش و پرورش استان آذربایجان شرقی

شماره داوطلب:

نام آموزشگاه:

ناحیه منطقه:

سؤالات امتحان هماهنگ درس تعلیمات دینی پایه ی سوم

تاریخ امتحان

۹۱/۰۴/۰۷ مدت امتحان:

۶۰ دقیقه







ساعت شروع: ۱۰ صبح

تعداد صفحه: ۲

صفحه: ۱

بارم	ردیف	سؤال	نمره
	۱	۱- نمره : باعدد باحروف	
۲	۱	آیات شریفه ی زیر را ترجمه کنید. (الف) « وَوَصَّيْنَا الْإِنْسَانَ بِوَالِدَيْهِ إِحْسَانًا » ..... (ب) « وَاعْتَصِمُوا بِحَبْلِ اللَّهِ جَمِيعًا وَلَا تَفَرَّقُوا » .....	نام و نام خانوادگی: امضاء
۰/۵	۲	ارتباط پیامبران با خدا از طریق ..... بوده است.	
۰/۵	۳	ارتباط مخصوصی که میان علت و معلول برقرار است، ..... نام دارد.	
۰/۵	۴	اگر انسان موجودی با فکر و انتخابگر نبود، هدایت او ..... بود. (الف) اجباری <input type="radio"/> (ب) اختیاری <input type="radio"/>	۲- تجدیدنظر: (پس از رسیدگی به اعتراضات) باعدد باحروف
۱	۵	بهترین توشه برای انسان در روز قیامت، ..... است و اولین چیزی که مورد محاسبه قرار می گیرد، ..... است.	نام و نام خانوادگی: امضاء
۰/۵	۶	برترین و بالاترین نعمت بهشتی که همان سعادت بزرگی است، کدام است؟ (الف) همشینی با فرشتگان <input type="radio"/> (ب) گفت و گو با پیامبران <input type="radio"/> (ج) رضایت و خشنودی خدا <input type="radio"/>	
۱	۷	بهترین هجرت ها هجرت از ..... و بالاترین جهادها، جهاد با ..... است.	
۰/۵	۸	رهبری و ولایت امت اسلام را در زمان غیبت، چه کسی بر عهده می گیرد؟ (الف) مجتهد اسلام شناس <input type="radio"/> (ب) مرجع تقلید <input type="radio"/> (ج) ولی فقیه <input type="radio"/>	
۰/۵	۹	اگر انسان ببیند کسی چیز نجس می خورد یا با لباس نجس نماز می خواند و از نجاست آن اطلاع ندارد، ..... (الف) لازم نیست به او بگوید <input type="radio"/> (ب) حتماً باید به او اطلاع دهد <input type="radio"/>	
۱/۲۵	۱۰	در دومین پیمان عقبه چه کسانی با پیامبر دیدار کردند؟ نتیجه ی این پیمان چه بود؟	

۱	۱۱	جهاد در لغت به چه معناست؟ در فرهنگ اسلامی به چه معناست؟
۲	۱۲	خشم پیامبر چگونه بود؟ ایشان برای چه اموری خشمگین می شدند؟
۱	۱۳	چه کسانی از رفتار امیرالمومنین در تقسیم بیت المال ناراحت شدند؟
۱	۱۴	حجاب و عفت زنان چه آثاری را به دنبال دارد؟
۰/۷۵	۱۵	معارف غنی و فقه متین شیعه از سه منبع مهم سرچشمه می گیرد. این سه منبع کدامند؟
۱	۱۶	دو مسئولیت اساسی پیامبر را بیان کنید.
۱/۵	۱۷	برهان نظم را بیان کنید.
۱	۱۸	غسل ترتیبی را چگونه انجام می دهند؟ (۱) ..... (۲) ..... (۳) ..... (۴) .....
۱	۱۹	تیمم بر چه چیزهایی صحیح است؟ (۴ مورد)
۱	۲۰	از شرایط لباس نمازگزار چهار مورد را بدون ذکر مسائل بنویسید.
۰/۵	۲۱	احادیث را باید با توجه به چه مسائلی تفسیر کرد؟
«موفق باشید»		

بارم	املاء ( spelling 6 points )	ردیف	۱- نمره :
۲	۱. املاي کلمات را با توجه به تصاویر کامل کنید.     1. che – se      2. sw – m      3. p – st      4. wal – et ۲. املاي کلمات ناقص را در این جملات کامل کنید 5. I <u>of</u> – <u>en</u> help my mother. 6. He <u>en</u> – <u>yed</u> the cartoons very much. 7. We went <u>shop</u> – <u>ing</u> last Friday. 8. I woke up before <u>s</u> – <u>n</u> rise yesterday. 9. She washed the <u>d</u> – <u>rt</u> y dishes. 10. He plays <u>ten</u> – <u>is</u> well. 11. I study <u>ph</u> – <u>sics</u> on Mondays. 12. He is a good <u>dr</u> – <u>ver</u> .	A	با عدد باحروف  نام و نام خانوادگی:  امضاء
۴	واژگان: (Vocabulary 10 points ) ۳. زیر کلمه ی ناهماهنگ از نظر معنی خط بکشید. 13. easily – usually – carelessly – badly 14. tea – water – coffee – money 15. writer – player – summer – worker 16. bookshop – baker's – butcher's – hospital ۴. جملات زیر را با استفاده از کلمات داده شده کامل کنید. (یک کلمه اضافی است) parent – airplane – bus stop – dictionary – neighbour 17. We wait for the bus at the ..... 18. The teacher lives in our street. He's our..... 19. My mother is my ..... 20. There are a lot of words in a .....	B	۲- تجدیدنظر: (پس از رسیدگی به اعتراضات) با عدد باحروف  نام و نام خانوادگی:  امضاء
۲	ادامه در صفحه ی دوم		

۵. جملات زیر را با استفاده از معلومات خود کامل کنید.

ردیف

21. This ruler is long but that one is .....

22. Onions are vegetables and apples are.....

23. This car is not expensive. It is .....

24. There are many clouds in the .....

۶. کلمات ستون A رابطه ی با عبارت های ستون B دارند آنها را پیدا کرده و بنویسید.

ستون A	ستون B
25. wild animals : .....	a. in the kitchen.
26. eat lunch : .....	b. in the zoo.
27. have a difficult life : .....	c. in a big city.
28. wash the dishes : .....	d. in the restaurant.

۷. با توجه به تصاویر در جاهای خالی کلمات مناسب بنویسید.



29. His.....is bad. 30. This is the .....of the bicycle.

۸. در جاهای خالی کلمات مناسب بنویسید. ( اولین حرف کلمه داده شده است )

31. We listened to the n.....yesterday.

32. He's a fast r..... . He runs fast

نکات دستوری : ( structure 1 points )

۹. جملات ناقص را با دانش گرامری خود کامل کنید.

33. Did you go to bed at 10? No, I .....

34. Where .....you go tomorrow? We'll go to the country.

35. This is the wall .....the house.

36. A hard worker works.....





۱۰. با استفاده از تصاویر به سوالات زیر پاسخ کامل بدهید.

37. What did she do?



38. Can he ride the bicycle?



ردیف	پارم	ردیف
۱۱	با کلمات به هم ریخته ی زیر هر ردیف یک جمله درست بسازید.	
۳۹	can – well – speak – we – English	
۴۰	he – what – doing – is – ?	
۱۲	پاسخ صحیح را انتخاب کنید و در جای خالی بنویسید.	
۴۱	She'll.....in the library.(study – studying – studies)	
۴۲	We didn't.....TV yesterday. ( watch – watches – watched)	
۴۳	She is .....woman. ( old – a old – an old)	
۴۴	I ..... to bed late. ( never goes – go never – never go )	
۴۵	May I .....the classroom now? ( leave – leaves – leaving )	
۴۶	Do you wash your hands every morning? Yes, I wash.....every morning. ( it – they – them )	
۱۳	جملات زیر را با استفاده از کلمات داخل پرانتز تغییر دهید.	
۴۷	We get up at 6 every morning. (yesterday)	
۴۸	They play ping pong on Fridays. ( next Friday)	
(Conversation 4 points ) مکالمه		D
۱۴	مکالمه ی به هم ریخته ی زیر را کامل کنید.	
۴۹.A:	a. He's in hospital.	
۵۰.B:	b. He had a car accident.	
۵۱.A:	C. Why?	
۵۲.B:	d. Where is Hamid today?	
۱۵	مکالمه زیر را کامل کنید.	
۵۳	Were there many boys in class? Yes, .....many boys in class	
۵۴	A: When.....you .....home ? B: I got home at 12:45.	
( comprehension 8 points ) درک مطلب		E
۱۶	حرف زیر هر تصویر را مقابل جمله مربوطه بنویسید.	
a		
b		
c		
d		
۵۵	She looked at the pictures.( )	
۵۶	She phoned her sister.( )	
۵۷	She made some tea.( )	
۵۸	She put on her dress.( )	
ادامه در صفحه ی چهارم		

ردیف	بارم	
		<p>متن زیر را به دقت خوانده و به سوالات خواسته شده پاسخ دهید.</p> <p>Mr Karimi is a teacher. He's tall and thin and has black hair. He is about 40 years old. He has two children. They are Mina and Maryam. Their mother is a nurse. She works in a hospital. They live in Tabriz.</p> <p>Last summer, Maryam went to Tehran by train. She stayed there for two weeks. Her uncle lives in Tehran. She stayed in her uncle's house.</p> <p>۱۷. با توجه به متن بالا جملات را با کلمات مناسب کامل کنید.</p> <p>59. Mrs Karimi works in a .....</p> <p>۲ 60. Maryam went to Tehran by .....</p> <p>61. Maryam's .....lives in Tehran.</p> <p>62. Mr Karimi is about .....years old.</p> <p>۱۸. با توجه به متن بالا در مقابل جمله درست True و در مقابل جمله غلط False بنویسید.</p> <p>63. There are four people in his family. (.....)</p> <p>۱/۵ 64. Mr Karimi is a nurse. (.....)</p> <p>65. Maryam stayed in her grandfather's house. (.....)</p> <p>۱۹. با توجه به متن بالا پاسخ درست را انتخاب کنید.</p> <p>۰/۵ 66. She stayed in Tehran ..... two weeks. ( in – for – at )</p> <p>۲۰. با توجه به متن بالا به سوالات زیر پاسخ کامل بدهید.</p> <p>67. What does Mr Karimi look like?</p> <p>۲ 68. Did Maryam go to Mashhad last summer?</p>
		<p>( Pronunciation 1 point) تلفظ</p> <p>۲۱. در هر گروه از کلمات داده شده زیر کلمه ناهماهنگ از نظر تلفظ خط بکشید.</p> <p>۱ 69. <u>y</u>oung – ab<u>o</u>ut – gr<u>o</u>und - h<u>o</u>use</p> <p>70. b<u>y</u> – m<u>y</u> – wh<u>y</u> – re<u>a</u>dy</p> <p>Good luck</p>



نام:

نام خانوادگی:

نام حوزه امتحانی:

پسره نامی:

وزارت آموزش و پرورش

اداره کل آموزش و پرورش استان آذربایجان شرقی

شماره داوطلب:

نام آموزشگاه:

ناحیه / منطقه:

سئوالات امتحان هماهنگ درس آمادگی دفاعی دفتاران پایه ی سوم راهنمایی

ساعت شروع: ۱۰ صبح تاریخ امتحان: ۹۱/۰۶/۱۵ مدت امتحان: ۶۰ دقیقه تعداد صفحه: ۲ صفحه: ۱

ردیف	صحيح يا غلط بودن جملات زیر را مشخص کنید.	بارم
۱	<p>الف- تمام موجودات زنده از دفاع غریزی که خداوند در وجود آنها قرار داده است بهره مندند. ص <input type="checkbox"/> غ <input type="checkbox"/></p> <p>ب- پیروزی انقلاب اسلامی با شعار "نه شرقی، نه غربی" به وقوع پیوست. ص <input type="checkbox"/> غ <input type="checkbox"/></p> <p>ج- "خرمشهر را خدا آزاد کرد." این سخن از امام خمینی (ره) می باشد. ص <input type="checkbox"/> غ <input type="checkbox"/></p> <p>د- بشر با دانش کنونی خود قادر به پیش بینی زمان دقیق وقوع زلزله می باشد. ص <input type="checkbox"/> غ <input type="checkbox"/></p>	۱
۲	<p>جاهای خالی را با کلمات مناسب پر کنید.</p> <p>الف- انسان برای حفظ سرزمین و ..... خود نیز حاضر به دفاع و فداکاری می باشد.</p> <p>ب- مجموعه ای از مردان و زنان مومن و توانمند جامعه اسلامی که قادر به دفاع از دستاوردهای انقلاب اسلامی هستند ..... نام دارد.</p> <p>ج- حفظ جان انسان ها از اهداف ..... می باشد.</p> <p>د- مشارکت همه ی افراد برای دست یابی به ایمنی ..... نام دارد.</p>	۱
۳	<p>پاسخ صحیح را انتخاب کنید.</p> <p>الف- کدام گزینه نشان میدهد که کشور های بیگانه در کنار رژیم بعثی عراق با کشور مادر جنگ بودند ؟</p> <p>۱-ارسال تجهیزات جنگی <input type="checkbox"/> ۲- کمک های نقدی <input type="checkbox"/> ۳- اعزام افراد نظامی <input type="checkbox"/> ۴- همه ی موارد <input type="checkbox"/></p> <p>ب-در آخرین روز شهریور سال ۱۳۵۹ چه اتفاقی افتاد ؟</p> <p>۱- آغاز جنگ تحمیلی <input type="checkbox"/> ۲- پیروزی انقلاب اسلامی <input type="checkbox"/> ۳- تشکیل بسیج <input type="checkbox"/> ۴- پایان جنگ تحمیلی <input type="checkbox"/></p> <p>ج- این جمله از کیست ؟ "بسیج لشکر مخلص خداست که دفتر تشکل آن را همه ی مجاهدان از اول تا آخرین نفر امضا نموده اند."</p> <p>۱-عقلم معظم رهبری <input type="checkbox"/> ۲- امام خمینی (ره) <input type="checkbox"/> ۳- شهید بهشتی <input type="checkbox"/> ۴- شهید رجایی <input type="checkbox"/></p> <p>د-اولین زنی که به پیامبر رحمت (ص) ایمان آورد چه کسی بود ؟</p> <p>۱-حمیه <input type="checkbox"/> ۲-امیه <input type="checkbox"/> ۳- تمیبه <input type="checkbox"/> ۴- حضرت خدیجه <input type="checkbox"/></p>	۱
۴	<p>پاسخ کوتاه دهید.</p> <p>الف-- یکی از عوامل شکست در مقابل تهاجم دشمنان را نام ببرید ؟</p> <p>ب-- هر یک از موارد زیر به کدام اصل پدافند غیر عامل مربوط می شود در مقابل آن بنویسید ؟</p> <p>۱- مخفی شدن در شیار کوه ها - ۲- ساخت ماکت -</p> <p>ج- هر کدام از این اقدامات مربوط به کدام گروه شورای ایمنی در برابر زلزله می باشد ؟</p> <p>۱- بررسی ساختمان از نظر احتمال آتش سوزی - ۲- ایمن سازی محیط مدرسه -</p> <p>د- اگر به هنگام وقوع زلزله در هر کدام از مکان های زیر باشید چه اقدامی انجام می دهید ؟</p> <p>۱- کلاس درس - ۲- راهرو -</p> <p>ه- بعد از وقوع زلزله: ۱- ...از دست زدن به ..... ۲- .....</p>	<p>۱۵</p> <p>۱۵</p> <p>۱۵</p> <p>۱۵</p> <p>۱۵</p> <p>۱۵</p>

۱- نمره :

با عدد باحروف

نام و نام خانوادگی:

امضاء

۲- تجدید نظر:

(پس از رسیدگی به اعتراضات)

با عدد باحروف

نام و نام خانوادگی:

امضاء

\*\*\*

درس: آمادگی دفاعی (دفکدان) (شهریور - ۹۱)

صفحه: ۲

ردیف	انواع روشهای جنگ روانی مربوط به موارد زیر را معلوم کنید . (تبلیغات - شایعه - تفرقه افکنی - تهدید)	بارم
۵	۱- انتقال مطالب و اخباری که درستی یا نادرستی آن معلوم نیست = ۲- ایجاد اختلافات قومی به منظور ضعیف شدن اتحاد و یکپارچگی =	۱/۵
۶	هر یک از فعالیت های ستون "الف" را با کشیدن خطی به زمینه ی مربوط به خود در ستون "ب" وصل کنید . (در ستون ب ۱ مورد اضافی است .)	۱
۷	الف- گسترش مشارکت مردم در امور سیاسی جامعه ○ ب- معرفی و تشویق مخترعان و مبتکران متعهد کشور ○ ج- فعالیت در زمینه ی احیای فریضه ی امر به معروف و نهی از منکر ○ د- تقویت ورزش قهرمانی ○	۱
۸	چرا کشور ما همواره در معرض تهدید کشورهای سلطه گر قرار داشته است ؟ (ذکر عناوین کافی است)	۱
۹	- خرمشهر در چه تاریخی و در کدام عملیات رزمندگان اسلام فتح شد ؟	۱
۱۰	- زنان صدر اسلام از چه راههایی در دفاع از اسلام مشارکت داشتند ؟ دو مورد	۱
۱۱	- از اهداف جنگ روانی دو مورد را بنویسید .	۱
	"موفق باشید"	

نام:

نام خانوادگی:

نام حوزه امتحانی:

نام آموزشگاه:

پسته تمی:

وزارت آموزش و پرورش

اداره کل آموزش و پرورش استان آذربایجان شرقی

شماره داوطلب:

ناحیه/منطقه:

سنځوات امتحان هماهنگ درس جغرافیای پایه سوم راهنمایی

شروع امتحان: ۱۰ صبح

تاریخ امتحان ۹۱/۰۴/۱۴ مدت امتحان: ۴۰ دقیقه

تعداد صفحه: ۲ صفحه: ۱

ردیف	نام قسمت سوم سیلاب "آبراهه" است . <input type="checkbox"/> ص <input type="checkbox"/> غ	بارم
۱	نام و نام خانوادگی: ۱- تصحیح اول: باعدد باحروف	۰/۵
۲	۲- تجدید نظر نهائی (پس از رسیدگی به اعتراضات) باعدد باحروف	۰/۵
۳	نام و نام خانوادگی: امضاء	۰/۵
۴	۴- تجدید نظر نهائی (پس از رسیدگی به اعتراضات) باعدد باحروف	۰/۵
۵	نام و نام خانوادگی: امضاء	۰/۵
۶	نام و نام خانوادگی: امضاء	۰/۵
۷	نام و نام خانوادگی: امضاء	۰/۵
۸	نام و نام خانوادگی: امضاء	۰/۵
۹	نام و نام خانوادگی: امضاء	۰/۵
۱۰	نام و نام خانوادگی: امضاء	۱
۱۱	نام و نام خانوادگی: امضاء	۱
۱۲	نام و نام خانوادگی: امضاء	۱
۱۳	نام و نام خانوادگی: امضاء	۱

\*\*\*

ردیف	حرکت وضعی زمین را تعریف کنید ؟	بارم
۱۴		۱
۱۵	باد چیست ؟	۱
۱۶	عکس های ماهواره ای چه اطلاعاتی به ما می دهند؟	۱
۱۷	عوامل موثر در تغییر شکل کوهستان ها را نام ببرید ؟ ۴مورد.	۱
۱۸	از حرکت انتقالی زمین چه نتایجی پدیدار می شود ؟ آن ها را بنویسید.	۱
۱۹	از وجود چه نشانه هایی به آتشفشان نیمه فعال یا غیر فعال پی می بریم؟	۱/۵
۲۰	پیدایش و توسعه ی هر یک از شهرهای زیر تحت تاثیر چه عاملی بوده است . اصفهان ..... مشهد ..... تهران .....	۱/۵
۲۱	امروزه زیست بوم ها چگونه مورد تجاوز انسان ها قرار گرفته اند ؟	۱/۵
۲۲	برای جلوگیری از خطر سیلاب ها چه کارهایی می توان کرد ؟ ۴مورد بنویسید.	۲
«موفق باشید»		

سؤالات امتحان شهرپور درس : حرفه و فن	سوم راهنمائی	ساعت شروع : ۱۰ صبح	مدت امتحان : ۵۰ دقیقه
نام و نام خانوادگی:	تاریخ امتحان : ۱۳۹۱ / ۶ / ۱۳		
دانش آموزان و داوطلبان آزاد سراسر استان شهرپور ماه ۱۳۹۱	اداره سنجش آموزش و پرورش استان آذربایجان شرقی		

ردیف	سؤالات	نمره
۱۲	عدم توجه ساختمان سازان به نکات ایمنی همواره تلفات جانی و خسارت های..... در پی دارد.	۰/۲۵
۱۳	مادر زهرا برای اینکه لباس پشمی حالت نمدی به خود نگیرد هنگام آب کشی از چه موادی استفاده می کند ؟	۰/۵
۱۴	لکه گیری را تعریف کنید.	۰/۵
۱۵	کدام یک از جملات زیر غلط می باشد ؟ الف) آرام غذا خوردن و خوب جویدن ب) آشامیدن آب در بین غذا ج) اجتناب از خوردن غذاهای آبکی به مقدار زیاد د) استفاده از سالاد و سبزی همراه با غذا	۰/۲۵
۱۶	در کدام یک از روش های آبیاری آب به هد ر رفته زیاد است ؟ الف) تحت فشار      ب) تشتکی      ج) کرسی      د) قطره ای	۰/۲۵
۱۷	کرم ابریشم به منظور تولید..... جهت استفاده در صنعت ابریشم کشی پرورش داده می شود.	۰/۲۵
۱۸	هضم گوشت ماهی از سایر گوشت ها..... و میزان جذب..... آن بیش از ۹۰٪ است.	۰/۵
۱۹	روش های خشک کردن میوه و سبزی را نام ببرید.	۰/۵
۲۰	معمولاً فاصله ی درختان در باغ ها به..... و..... تاج آن ها و وضعیت ریشه ها در دل خاک بستگی دارد.	۰/۵

نمره با عدد:

نمره با حروف:

موفق و پیروز باشید

امضا:

مدت امتحان : ۵۰ دقیقه	ساعت شروع : ۱۰ صبح	سوم راهنمایی	سوالات امتحان شهريور درس : حرفه و فن
تاریخ امتحان : ۱۳۹۱ / ۶ / ۱۳		نام و نام خانوادگی :	
اداره سنجش آموزش و پرورش استان آذربایجان شرقی		دانش آموزان و داوطلبان آزاد سراسر استان شهريور ماه ۱۳۹۱	
نمره	سوالات	ردیف	
۰/۷۵	قسمت های اصلي بنده ي دوچرخه را نام ببريد.	۱	
۰/۲۵	به قسمت های گردان یک موتور الکتریکی استاتور گفته می شود. ○ غلط ○ صحیح	۲	
۰/۵	از کاربردهای سلف در الکترونیک <u>دو مورد</u> بنویسید.	۳	
۰/۵	شیر مادر نیا زهای رشد.....و.....کودک را برطرف می سازد واز بسیاری بیماری ها جلوگیری می کند.	۴	
۰/۲۵	این بیماری نه واکسن و نه درمان قطعی دارد. الف) آبله ○ ب) ایدز ○ ج) فلج اطفال ○ د) هپاتیت ○	۵	
۰/۵	از عوامل بیولوژیکی تخریب کننده ی چوب <u>دو مورد</u> نام ببرید.	۶	
۰/۲۵	کاغذ ساخته شده از سوزنی برگان دارای مقاومت های بهتر است . ○ غلط ○ صحیح	۷	
۰/۵	اجزای شیر دنباله کوتاه را نام ببرید.	۸	
۰/۲۵	وسیله ای هستم در خودرو که دستگاه قطع و وصل قدرت محسوب می شوم و امکان تعویض دنده را فراهم می کنم نام من چیست ؟	۹	
۰/۲۵	کار این قسمت در خودرو خنثی کردن نوسانات است تا ضربه به اتاق خودرو و سرنشینان آن منتقل نشود. الف) فنربندی و تطبیق ○ ب) چرخ و ترمز ○ ج) هدایت و فرمان ○ د) بننه و شاسی ○	۱۰	
۰/۵	منظور از خاک برداری در راه سازی چیست ؟	۱۱	

ردیف	سوال	بارم
۱۵	دو مورد از عوامل مؤثر در ایجاد اختلاف میان رهبران و اعضای نهضت ملی شدن نفت را بنویسید؟	۱
۱۶	علل قیام مردم در زمان مظفر الدین شاه چه بود؟	۱/۵
۱۷	رهبران مردم در زمان احمد شاه که خواهان استقلال کشور و اصلاح امور بودند و بر علیه بیگانگان دست به قیام زدند چه کسانی بودند؟	۱/۵
۱۸	مبارزات مردم پس از سرکوبی قیام پانزدهم خرداد به چه شکلی هایی ادامه یافت؟ الف)..... ب)..... ج).....	۱/۵
۱۹	شرایط ساواک برای سخنرانان مذهبی در محرم سال ۱۳۴۲ چه بود؟ الف)..... ب)..... ج).....	۱/۵
۲۰	گزینه های مربوط به هم را به یکدیگر وصل کنید؟ مزدوران بیگانه      لشکر کشی به هرات محمد شاه      گروهک آیت اله مدرس      رضا شاه	۱/۵
«موفق باشید»		

نام:

نام خانوادگی:

نام حوزه امتحانی:

پله نعلی

وزارت آموزش و پرورش

اداره کل آموزش و پرورش استان آذربایجان شرقی

شماره داوطلب:

نام آموزشگاه:

ناحیه/منطقه:

سئوالات امتحان هماهنگ درس تاریخ پایه ی سوم راهنمایی

تعداد صفحه: ۲ صفحه: ۱

مدت امتحان: ۹۱/۴/۱۷ ۶۰ دقیقه ساعت شروع: ۱۰ صبح

تاریخ امتحان

ردیف	بارم	نمره : با عدد باحروف
۱	خرمشهر به موجب عملیات بیت المقدس آزاد شد. <input type="checkbox"/> غلط <input type="checkbox"/> صحیح	۱- نمره : با عدد باحروف
۲	یکی از اقدامات زشت و ننگین فاتحان تهران اعدام آیت الله شیخ فضل الله نوری بود. <input type="checkbox"/> غلط <input type="checkbox"/> صحیح	نام و نام خانوادگی: امضاء
۳	جنگ چالدران بین کدام کشورها روی داد؟ (الف) ایران و هند <input type="checkbox"/> (ب) ایران و عثمانی <input type="checkbox"/> (ج) روسیه و فرانسه <input type="checkbox"/> (د) ایران و فرانسه <input type="checkbox"/>	نام و نام خانوادگی: امضاء
۴	وکیل الرعایا لقب کدامیک از پادشاهان زیر بود؟ (الف) شاه عباس <input type="checkbox"/> (ب) شاه اسماعیل <input type="checkbox"/> (ج) کریم خان زند <input type="checkbox"/> (د) آقا محمد خان <input type="checkbox"/>	نام و نام خانوادگی: امضاء
۵	از اقدامات امیر کبیر ایجاد مدرسه ..... و انتشار روزنامه ..... بود.	۲- نمره تجدید نظر : با عدد باحروف
۶	نماز عید فطر سال ۵۷ به امامت ..... و با سخنرانی ..... برگزار شد.	نام و نام خانوادگی: امضاء
۷	اولین کشور های استعمارگر در جهان ..... و ..... بودند.	
۸	رهبر قیام ۳۰ تیر چه کسی بود؟	
۹	از دانشمندان و فیلسوفان بزرگ دوره صفویه ۲ مورد نام ببرید.	
۱۰	دولتهای متفقین در جنگ جهانی دوم را نام ببرید.	
۱۱	تعهدات ایران و انگلستان در عهدنامه مفصل چه بود؟	
۱۲	دو مورد از ویژگی های حکومت پهلوی را نام ببرید.	
۱۳	هدف اصلی نهضت اسلامی به رهبری امام خمینی چه بود؟	
۱۴	قرارداد ۱۹۱۹ چه پیامدی برای ایران داشت؟	



نام:

نام خانوادگی:

نام حوزه امتحانی:

آموزشگاه:

ناحیه منطقه:

باسمه تعالی

وزارت آموزش و پرورش

اداره کل آموزش و پرورش استان آذربایجان شرقی

شماره داوطلب:

سئوالات امتحان هماهنگ درس اجتماعی پایه ی سوم (اهنمایی) - شهر یوزماه ۹۱

تعداد صفحه: ۲ صفحه: ۱

تاریخ امتحان ۱۹ / ۴ / ۹۱ مدت امتحان: ۶۰ دقیقه - ساعت: ۱۰:۰۰ صبح

صفحه ۱

ردیف	بارم	۱- نمره :
۱	قوه مقننه وظیفه قانون گذاری را بر عهده دارد. <input type="radio"/> درست <input type="radio"/> نادرست	باعدد باحروف
۲	رئیس جمهور بارای مستقیم مردم برای مدت چهار سال انتخاب می شود. <input type="radio"/> درست <input type="radio"/> نادرست	
۳	کدام یک از موارد زیر از وظایف قوه قضائیه نمی باشد الف: رسیدگی به شکایت های مردم <input type="radio"/> ب: نظارت بر حسن اجرای قوانین <input type="radio"/> ج: گسترش عدالت و آزادی های مشروع <input type="radio"/> د: تعیین جهت کلی نظام جمهوری اسلامی <input type="radio"/>	نام و نام خانوادگی: امضاء
۴	مهمترین رکن حکومت اسلامی چیست؟ الف: رهبری <input type="radio"/> ب: قوه مجریه <input type="radio"/> ج: مجلس خبرگان <input type="radio"/> د: قوه قضائیه <input type="radio"/>	۲- تجدیدنظر: (پس از رسیدگی به اعتراضات) باعدد باحروف
۵	به باید ها و نباید هایی که به رفتار ما در زندگی جهت می دهد..... می گویند. (هنما) - قانون	نام و نام خانوادگی: امضاء
۶	امام جمعه هر منطقه از طرف..... منصوب می شود. (رهبر - مردم)	
۷	تعداد نمایندگان هر شهر به چه عواملی بستگی دارد؟	
۸	تنوع حکومت ها به چه عواملی بستگی دارد؟ (نومورد)	
۹	دومونه از قوانینی که در مدرسه رعایت می کنید را نام ببرید؟	
۱۰	دو مورد از وظایف و اختیارات مجلس شورای اسلامی را نام ببرید؟	

« ادامه در صفحه بعد »



ردیف	دو مورد از کمیون های مجلس شورای اسلامی را نام ببرید؟	بارم
۱۱		۱
۱۲	از وظایف رئیس جمهور سه مورد را بیان کنید؟	۱/۵
۱۳	با ذکر مثال توضیح دهید که اگر موسسه ای وظایف خود را به انجام ندهد چه مشکلاتی پیش می آید؟	۱/۵
۱۴	برای ایجاد نظم و هماهنگی در جامعه مردم و موسسات چه وظایفی بر عهده دارند؟	۱/۵
۱۵	در یک جامعه وظایف موسسات گوناگون به چه وسیله ای هماهنگ می شود؟ چگونه؟	۱/۵
۱۶	قاضی برای رسیدگی به شکایت چه کارهایی باید انجام دهد؟	۱/۵
۱۷	اگر کسی برای بهبود کار وزارت خانه ای پیشنهادی داشته باشد چگونه می تواند آن را ارائه دهد؟	۱/۵
۱۸	چگونه در یک جامعه اسلامی با وجود اندیشه های متفاوت می توان وحدت به وجود آورد؟	۱/۵
۱۹	حکومت ولایت فقیه چه نوع حکومتی است؟ توضیح دهید	۱/۵
۲۰	آنکه کردار به سخاوت بیاراید و گفتار به راستی در این دنیا نیکبخت است	
«موفق و سربلند باشید»		

نام:

نام خانوادگی:

نام حوزه امتحانی:

پایه نهم

وزارت آموزش و پرورش

اداره کل آموزش و پرورش استان آذربایجان شرقی

شماره داوطلب:

نام آموزشگاه:

ناحیه منطقه:

سئوالات امتحان هماهنگ درس عربی پایه نهم (اهتمامی)

تاریخ امتحان

۹۱/۰۶/۱۸ مدت امتحان: ۴۰ دقیقه ساعت: ۱۰ صبح

تعداد صفحه: ۲ صفحه: ۱

ردیف	بارم	سؤال						
۱	۰/۵	لغات زیر را ترجمه کنید. عائلة ( )      گرسنه ( )						
۲	۵	جملات زیر را به فارسی ترجمه کنید. الف) إجعلاً حقاً للسائل والمحروم. ب) عملت حتى مطلع الفجر. ج) المتباد غزم على الذهاب. د) جفنا الليل والنهار آتيتين. هـ) هذه فكرة جيدة.						
۳	۱	عبارت زیر را به عربی ترجمه کنید. آیا به خانه می روی؟ (مؤثث)						
۴	۰/۵	نوع فعل های زیر را مشخص کنید. تأخذن ( )      كسبتم ( )						
۵	۰/۵	جمله ی مثبت را به منفی و جمله ی منفی را به مثبت تبدیل کنید. - هم لا يسمعون قول الحق. - سألت المعلمة عن النبا العظيم.						
۶	۰/۵	جدول زیر را کامل کنید. <table border="1"> <tr> <td>کلمه</td><td>وزن</td><td>حروف اصلی</td></tr> <tr> <td>مخرج</td><td>.....</td><td>.....</td></tr> </table>	کلمه	وزن	حروف اصلی	مخرج	.....	.....
کلمه	وزن	حروف اصلی						
مخرج	.....	.....						
۷	۰/۲۵	کدام گزینه فعل « امر » می باشد؟ <input type="checkbox"/> اغسلوا <input type="checkbox"/> اذهب <input type="checkbox"/> امر <input type="checkbox"/> تفرس						
۸	۰/۵	فعل های داده شده را به فعل نهی تبدیل کنید. تجلسون ( )      تشرب ( )						
۹	۰/۲۵	از فعل های زیر امر بسازید. تجفل ( )      تسمعین ( )      تحملن ( )						
۱۰	۰/۵	دو جزء اصلی جمله ی فعلیه « ..... و ..... » هستند.						
۱۱	۰/۵	برای هریک از کلمات زیر یک هم خانواده بنویسید. خکیم ( )      حافظ ( )						

رقم سوال		نوع سوال	
۱	۱	<input type="checkbox"/> (الف) ... <input type="checkbox"/> (ب) ... <input type="checkbox"/> (ج) ... <input type="checkbox"/> (د) ...	<p>۱. ...</p> <p>۲. ...</p> <p>۳. ...</p> <p>۴. ...</p>
۲	۲	<input type="checkbox"/> (الف) ... <input type="checkbox"/> (ب) ... <input type="checkbox"/> (ج) ... <input type="checkbox"/> (د) ...	<p>۱. ...</p> <p>۲. ...</p> <p>۳. ...</p> <p>۴. ...</p>
۳	۳	<input type="checkbox"/> (الف) ... <input type="checkbox"/> (ب) ... <input type="checkbox"/> (ج) ... <input type="checkbox"/> (د) ...	<p>۱. ...</p> <p>۲. ...</p> <p>۳. ...</p> <p>۴. ...</p>
۴	۴	<input type="checkbox"/> (الف) ... <input type="checkbox"/> (ب) ... <input type="checkbox"/> (ج) ... <input type="checkbox"/> (د) ...	<p>۱. ...</p> <p>۲. ...</p> <p>۳. ...</p> <p>۴. ...</p>
۵	۵	<input type="checkbox"/> (الف) ... <input type="checkbox"/> (ب) ... <input type="checkbox"/> (ج) ... <input type="checkbox"/> (د) ...	<p>۱. ...</p> <p>۲. ...</p> <p>۳. ...</p> <p>۴. ...</p>
۶	۶	<input type="checkbox"/> (الف) ... <input type="checkbox"/> (ب) ... <input type="checkbox"/> (ج) ... <input type="checkbox"/> (د) ...	<p>۱. ...</p> <p>۲. ...</p> <p>۳. ...</p> <p>۴. ...</p>
۷	۷	<input type="checkbox"/> (الف) ... <input type="checkbox"/> (ب) ... <input type="checkbox"/> (ج) ... <input type="checkbox"/> (د) ...	<p>۱. ...</p> <p>۲. ...</p> <p>۳. ...</p> <p>۴. ...</p>
۸	۸	<input type="checkbox"/> (الف) ... <input type="checkbox"/> (ب) ... <input type="checkbox"/> (ج) ... <input type="checkbox"/> (د) ...	<p>۱. ...</p> <p>۲. ...</p> <p>۳. ...</p> <p>۴. ...</p>
۹	۹	<input type="checkbox"/> (الف) ... <input type="checkbox"/> (ب) ... <input type="checkbox"/> (ج) ... <input type="checkbox"/> (د) ...	<p>۱. ...</p> <p>۲. ...</p> <p>۳. ...</p> <p>۴. ...</p>
۱۰	۱۰	<input type="checkbox"/> (الف) ... <input type="checkbox"/> (ب) ... <input type="checkbox"/> (ج) ... <input type="checkbox"/> (د) ...	<p>۱. ...</p> <p>۲. ...</p> <p>۳. ...</p> <p>۴. ...</p>

نام:

نام خانوادگی:

نام حوزه امتحانی:

بسمه تعالی

وزارت آموزش و پرورش

اداره کل آموزش و پرورش استان آذربایجان شرقی

شماره داوطلب:

نام آموزشگاه:

ناحیه/منطقه:

سئوالات امتحان هماهنگ درس قرآن پایه ی سوم (اهلمایی)

تاریخ امتحان

۹۱/۰۶/۰۱

ساعت شروع: ۱۰ صبح مدت امتحان: ۴۵ دقیقه

تعداد صفحه: ۱ صفحه: ۱

ردیف	معنای کلمات داده شده را بنویسید.	بارم
۱	فُرْقَان: حَسَن: أَنْصَار: أَخَات:	۱
۲	ترکیبات و عبارات قرآنی را ترجمه کنید. الف: فَتَكُونُ طَيْرًا بِأَذْنِي. پس ..... به اجازه من. ج: وَ تَنْهَوْنَ عَنِ الْمُنْكَرِ. ..... از ..... ه: مَا أَوْاهُمْ جَهَنَّمَ. ..... شان ..... است. ب: وَ شَهِدُوا عَلَى أَنْفُسِهِمْ. و ..... به ضرر ..... شان. د: اِسْتَغْفِرُوا رَبَّكُمْ. ..... از ..... تان. و: حَسْبُنَا اللَّهُ. ..... خداوند.	۳
۳	ترجمه عبارت قرآنی را کامل کنید. إِنَّ الصَّلَاةَ تَنْهَى عَنِ الْفَحْشَاءِ وَالْمُنْكَرِ. قطعا ..... باز می‌دارد از کار زشت و .....	۰/۵
۴	ترجمه صحیح را علامت بزنید. (عَلَيْهِ تَوَكَّلْتُ) الف: بر او توکل کن. ب: بر او توکل کردم.	۰/۵
۵	معنی فعل های مشخص شده را بنویسید. تَعْلَمُ مَا فِي نَفْسِي وَ لَا أَعْلَمُ مَا فِي نَفْسِكَ.	۰/۵
۶	با توجه به معنی (مِنْ) در مثال زیر عبارت قرآنی را ترجمه کنید. (هَلْ مِنْ خَالِقٍ غَيْرِ اللَّهِ). آیا هیچ خالق غیر از خدا وجود دارد؟ (وَمَا لِلظَّالِمِينَ مِنْ أَنْصَارٍ) .....	۰/۵
۷	آیات و عبارات قرآنی را ترجمه کنید. الف: إِنَّ أَوَّلَ بَيْتٍ وُضِعَ لِلنَّاسِ. ..... بنا شد برای ..... ب: وَ مَنْ يُقْفِرِ الذَّنْبَ إِلَّا اللَّهُ. و چه کسی ..... ؟ ج: وَ أَنَّ اللَّهَ لَا يَضِيعُ أَجْرُ الْمُؤْمِنِينَ. و ..... خداوند ..... د: رَبَّنَا مَا خَلَقْتَ هَذَا بَاطِلًا.	۴

۱- نمره:

باعدد باحروف

نام و نام خانوادگی:

امضاء

۲- تجدید نظر:

(پس از رسیدگی به اعتراضات)

باعدد باحروف

نام و نام خانوادگی:

امضاء

نام:

نام خانوادگی:

نام حوزه امتحانی:

نام آموزشگاه:

ناحیه منطقه:

باسمه تعالی

وزارت آموزش و پرورش

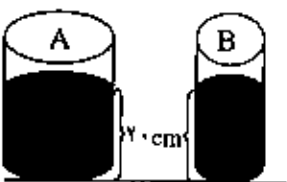
اداره کل آموزش و پرورش استان آذربایجان شرقی


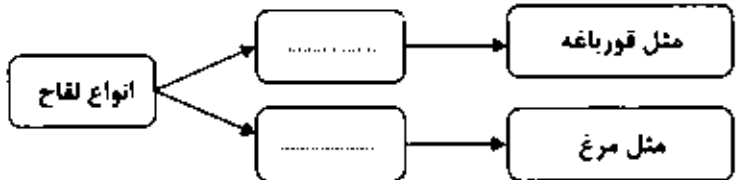

شماره داوطلب:

**سئوالات امتحان هماهنگ درس علوم تجربی پایه ی سوم راهنمایی**

تاریخ امتحان: ۹۶/۶/۰۵ مدت امتحان: ۹۰ دقیقه ساعت: ۱۰ صبح تعداد صفحه: ۳ صفحه: ۱

ردیف	۱- تصحیح اول نمره : باعدد باحروف	نام و نام خانوادگی: امضاء										
۱	۲- تجدید نظر: (پس از رسیدگی به اعتراضات) باعدد باحروف	نام و نام خانوادگی: امضاء										
۱	<p>هر یک از جمله های زیر را با استفاده از کلمه های علمی مناسب داخل پاراتز کامل کنید .</p> <p>الف) به روشی که در آن وجود یک فرد در بوجود آمدن جاندار جدید کافی است . تولید مثل ..... می گویند . ( جنسی ، غیر جنسی )</p> <p>ب) به قطعه سنگ های بزرگی که از آتشفشان زمین می گذرند و بر روی زمین می افتند ..... می گویند . ( شهاب سنگ ، شهاب ، سیارک )</p> <p>ج) در یک ماشین هر چه طول بازوی محرک بیشتر شود مزیت مکانیکی آن ..... می شود . ( کم تر - بیشتر )</p> <p>د) نسبت دادن صفاتی به خود ، که در واقع فاقد آن ها هستیم ..... نام دارد ( خیالبافی ، انکار ، جبران نقص )</p>											
۲	<p>گزینه ی صحیح را با علامت (X) مشخص نمایید .</p> <p>الف) در هسته ی کدام یک از اتم های زیر ۸ نوترون وجود دارد ؟  <math>^{12}_6X</math> (۱)    <math>^{14}_6X</math> (۲)    <math>^{16}_8X</math> (۳)    <math>^{18}_{10}X</math> (۴)</p> <p>ب) کدام یک از اتم های زیر با اتم <math>^{12}_6X</math> ایزوتوپ نیست ؟  <math>^{12}_6X</math> (۱)    <math>^{14}_6X</math> (۲)    <math>^{16}_8X</math> (۳)    <math>^{18}_{10}X</math> (۴)</p> <p>ج) اگر PH آب کم تر از ۵/۵ باشد ، معنی آن این است که درصد ..... در هوا زیاد شده است .          ۱) نیتروژن دی اکسید    ۲) کربن دی اکسید    ۳) گوگرد دی اکسید    ۴) اوزون</p> <p>د) در گل ، بخش های تولید کننده ی گامت ماده ، ..... است .          ۱) پرچم    ۲) بساک    ۳) مادگی    ۴) نهج</p>											
۳	<p>در هر یک از جمله های زیر یک غلط علمی وجود دارد ، آن را اصلاح کنید .</p> <p>الف- به مجموع تعداد پروتون های یک اتم ، عدد اتمی می گویند و جرم هر اتم به مجموع جرم الکترون و پروتون های آن بستگی دارد .</p> <p>ب) شدت جریان هر مدار با وسیله ای به نام آمپرسنج اندازه گیری می شود که در مدار به شکل موازی با بقیه ی اجزای مدار قرار می گیرد .</p>											
۴	<p>مشخص کنید هر یک از نظریه های زیر ، مربوط به کدام یک از دانشمندان زیر است ؟ ( داروین ، دووریس ، ویسمن ، لامارک )</p> <p>الف- صفاتی که به طور ناگهانی در یک فرد ایجاد می شود ، ارثی اند .</p> <p>ب) هر اندامی که زیاد استفاده شود ، قوی تر می شود و این صفت می تواند به ارث برسد .</p>											
۵	<p>جدول روپرو را تکمیل کنید .</p> <table border="1"> <tr> <th colspan="2">آمونیاک (<math>NH_3</math>)</th> </tr> <tr> <td>نوع پیوند شیمیایی</td> <td></td> </tr> <tr> <td>نوع ترکیب شیمیایی</td> <td></td> </tr> <tr> <td>تعداد اتم ها</td> <td></td> </tr> <tr> <td>تعداد عنصر ها</td> <td></td> </tr> </table>	آمونیاک ( $NH_3$ )		نوع پیوند شیمیایی		نوع ترکیب شیمیایی		تعداد اتم ها		تعداد عنصر ها		
آمونیاک ( $NH_3$ )												
نوع پیوند شیمیایی												
نوع ترکیب شیمیایی												
تعداد اتم ها												
تعداد عنصر ها												
۶	<p>در کدام نوع حرکت ورقه های سنگ کره ، فقط زلزله به وجود می آید ؟</p>											

ردیف	از فسیل ها استفاده های زیادی می شود دو مورد از آنها را بنویسید .	بارم
۷		۰/۵
۸	چرا هرچه تعداد زلزله های کوچک در یک منطقه بیش تر باشد، بهتر است ؟	۰/۵
۹	ستاره ی A پرنورتر از ستاره ی B به نظر می رسد دلیل آن چیست ؟	۰/۵
۱۰	در مورد سیارات منظومه شمسی به سوالات زیر پاسخ دهید ؟ الف- بزرگترین سیاره ی منظومه شمسی چه نام دارد ؟ ب) کدام سیاره ی منظومه شمسی در تقسیم بندی سیارات به دو دسته ی داخلی و خارجی جای ندارد ؟	۰/۵
۱۱	هر یک از تعاریف زیر مربوط به کدام یک از مفاهیم است؟ عبارت مورد نظر را پیدا کرده و شماره ی آن را داخل کادر بنویسید . الف) به نسبت کارمفید به کل کار، در یک ماشین گفته می شود . <input type="checkbox"/> ب) در این نوع اهرم همیشه نیروی مقاوم بین نیروی محرک و تکیه گاه قرار دارد . <input type="checkbox"/> ج) ماشین ساده ای که مزیت مکانیکی آن همیشه کمتر از یک است . <input type="checkbox"/> (۱) اهرم نوع دوم (۲) اهرم نوع سوم (۳) بازده (۴) توان	۰/۷۵
۱۲	درون هر یک از دو ظرف شکل زیر، یک نوع مایع وجود دارد، فشار وارد شده بر کف کدام ظرف بیشتر است ؟ چرا؟ 	۰/۵
۱۳	علی به سه روش زیر آهن ربا ساخته است، در هر مورد از کدام روش ساخت آهن ربا استفاده کرده است ؟ الف- به کمک یک آهن ربای دائمی میله ی AB را آهن ربا کرده است . ب) با استفاده از مقداری سیم نازک برق و تعدادی باتری ، یک میخ آهنی را به آهن ربا تبدیل کرده است . ج) با کمک یک آهن ربا و مقداری سنجاق توانست یک زنجیره ی مغناطیسی درست کند .	۰/۷۵
۱۴	زهرایک میله ی شیشه ای را با یک پارچه پلاستیکی باردار کرده و مطابق شکل زیر در نزدیکی کلاهک یک الکتروسکوپ خنثی نگه داشته است . به نظر شما در این حالت میله ی شیشه ای <input type="checkbox"/> به سمت میله ی شیشه ای می کشد . کلاهک و ورقه های الکتروسکوپ دارای چه نوع بار الکتریکی می شوند ؟ بار میله ی شیشه ای : ..... بار کلاهک : ..... بار ورقه های الکتروسکوپ : .....	۰/۷۵
۱۵	دو مورد از وظایف استخوان ها را بنویسید .	۰/۵
۱۶	هر یک از مفصل های زیر، در کدام قسمت های بدن وجود دارند ؟ (از هر کدام یک مورد) الف- ثابت : ..... ب) نیمه متحرک : .....	۰/۵

بارم	ردیف	پدر رضا به دیابت (مرض قند) مبتلا شده است، پزشک برای کاهش قند خون او، یک نوع هورمون را تجویز کرد
۰/۷۵	۱۷	الف - به نظر شما چه نوع هورمونی به وی تجویز شده است ؟ ب) اندام هدف این هورمون چیست ؟ ج) کدام غده ی این بیمار دچار اختلال شده است ؟
۰/۷۵	۱۸	قسمت های مشخص شده را روی شکل نام گذاری کنید -  (۱) ..... (۲) ..... (۳) .....
۰/۷۵	۱۹	الف - بازیافت چیست ؟ ب) یک مورد از فواید بازیافت را بنویسید .
۰/۵	۲۰	نمودار مقابل را کامل کنید . 
توجه : ((در حل مسائل زیر نوشتن فرمول الزامی است))		
۱	۲۱	رضا جعبه ای به وزن ۵۰۰ نیوتن را با نیروی ۴۰۰ نیوتن به اندازه ی ۸ متر روی زمین افقی جابه جا می کند، مقدار کار انجام شده در هر یک از موارد زیر را حساب کنید. الف - کار نیروی افقی ب) کار نیروی وزن
۰/۵	۲۲	با توجه به شکل مقابل، اگر مزیت مکانیکی سطح شیبدار ۴ باشد، وزن جعبه چند نیوتن است ؟ (از اصطکاک صرف نظر می شود) 
۰/۷۵	۲۳	مکعب مستطیلی به وزن ۱۲۰ نیوتن و به ابعاد $1\text{ cm} \times 2\text{ cm} \times 3\text{ cm}$ ، اگر بزرگترین سطح قاعده ی آن با سطح میز در تماس باشد، مقدار فشار وارد شده بر سطح میز، چند نیوتن بر سانتی متر مربع خواهد بود ؟
جمع بarm ۱۵		
«موفق باشید»		



سؤالات امتحان نهایی درس : نگارش و انشای فارسی	سوم راهنمائی	ساعت شروع : ۱۰ صبح	مدت امتحان : ۶۰ دقیقه
دانش آموزان و داوطلبان آزاد سراسر استان در شهریور ماه سال ۱۳۹۱		تاریخ امتحان : ۱۳۹۱ / ۶ / ۱۱	
نام و نام خانوادگی:	نام آموزشگاه:	اداره سنجش آموزش و پرورش استان آذربایجان شرقی	

ردیف	نگارش و انشای فارسی	نمره
------	---------------------	------

از دو موضوع زیر یکی را انتخاب کرده و درباره آن انشایی بنویسید . ۱۰ نمره

\*\*\*\*\*

۱- بهترین آرزوهای خودتان را در قالب انشایی بیان کنید.

۲- درباره ی آداب سخن گفتن انشایی بنویسید . (عایت گلپه ی نکات نگارشی الزامی است)

.....

.....

.....

.....

.....

.....

.....

.....

.....

.....

.....

.....

موفقیت و شادکامی را برای شما از درگاه ذات احدیت خواهیم .

سؤالات امتحان نهایی درس : نگارش و انشای فارسی		سوم راهنمایی		ساعت شروع : ۱۰ صبح		مدت امتحان : ۶۰ دقیقه	
نام و نام خانوادگی:				دانش آموزان و داوطلبان آزاد سراسر استان در شهریور ماه سال ۱۳۹۱			
نام آموزشگاه:				اداره سنجش آموزش و پرورش استان آذربایجان شرقی			
ردیف		نگارش و انشای فارسی					
نمره							
۱	درست یا نادرست بودن گزینه های زیر را مشخص کنید. الف) مرزبان نامه یکی از مشهورترین فابل های ادبیات فارسی است. <input type="checkbox"/> درست <input type="checkbox"/> نادرست ب) ارزش انشا به بلندی آن نیست ، انشای خوب آن است که گویا ، رسا و زیبا باشد. درست <input type="checkbox"/> نادرست <input type="checkbox"/>	۱					
۲	به آوردن بیت یا سخن مشهوری ، در ضمن کلام خود بدون ذکر نام شاعر یا نویسنده ..... می گویند. الف) تضمین پنهان      ب) تضمین آشکار      ج) تخلص      د) تلمیح	۱					
۳	واژه های زیر را در جاهای خالی مناسب قرار دهید (یک واژه اضافی است). الف) هدف از اشعار ..... رسیدن به سعادت و زندگی بهتر است. ب) دامنه ی شبکه ی معنایی گسترده تر از ..... است. " تعلیمی ، داستان ، مراعات نظیر "	۲					
۴	از ویژگی های رمان (داستان بلند) یک مورد بنویسید .	۱					
۵	برای تشبیه مثالی ذکر کنید.	۱					
۶	مفهوم بیت زیر را بنویسید. خبرت هست که مرغان سحر می گویند      آخرای خفته ، سراز خواب جهالت بردار؟	۱					
۷	با گروه کلمات (دوست ، آینه ، آینده) جمله ی زیبایی بنویسید.	۱					
۸	عبارت ناتمام زیر را با دو جمله کامل کنید. پدر و مادرم .....	۲					

بسمه تعالی

شماره داوطلب:

وزارت آموزش و پرورش

اداره کل آموزش و پرورش استان آذربایجان شرقی

نام آموزشگاه:

نام: .....

نام خانوادگی: .....

سوالات امتحان هماهنگ درس ریاضیات پایه سوم

ناحیه / منطقه:

پایه: سوم راهنمایی تاریخ امتحان: ۱۳۹۱/۶/۴ مدت امتحان: ۹۰ دقیقه ساعت: ۱۰ صبح تعداد صفحه: ۴

ردیف	صفحه اول	بارم
۱	<p>درستی یا نادرستی عبارتهای زیر را مشخص کنید</p> <p>(الف) ۱۰۵ عددی مرکب است.</p> <p>(ب) همه ی اعداد طبیعی فقط یک مقسوم علیه اول دارند.</p> <p>(ج) <math>\sqrt{7}</math> عضو مجموعه اعداد طبیعی است.</p> <p>(د) جمله <math>5x^2y</math> با جمله <math>7xy^2</math> متشابه است.</p>	<p>درست <input type="checkbox"/> نادرست <input type="checkbox"/></p> <p><input type="checkbox"/> <input type="checkbox"/></p> <p><input type="checkbox"/> <input type="checkbox"/></p> <p><input type="checkbox"/> <input type="checkbox"/></p>
۲	<p>جمله های زیر را با توجه به کلمات داخل پرانتز کامل کنید ( شعاع - ۹۰° - قطر - دو - ۶۰° - سه )</p> <p>(الف) بزرگترین وتر دایره ..... نامیده می شود.</p> <p>(ب) عبارت <math>5x^2 - 8xy + 3</math> یک ..... جمله ای است</p> <p>(ج) اگر خطی بر یک دایره مماس باشد، فاصله مرکز دایره از آن خط برابر با ..... دایره است.</p> <p>(د) اندازه هر زاویه داخلی چهار ضلعی منتظم ..... درجه است.</p>	
۳	<p>گزینه صحیح را با علامت X مشخص کنید.</p> <p>بردارهای <math>\vec{a} = \begin{bmatrix} 2 \\ -2 \end{bmatrix}</math> و <math>\vec{b} = \begin{bmatrix} -5 \\ 4 \end{bmatrix}</math> هستند. بردار حاصل جمع <math>\vec{c} = \vec{a} + \vec{b}</math> برابر با کدام گزینه است؟</p> <p>(الف) <math>\begin{bmatrix} -8 \\ +6 \end{bmatrix}</math> (ب) <math>\begin{bmatrix} -2 \\ 2 \end{bmatrix}</math> (ج) <math>\begin{bmatrix} 2 \\ -2 \end{bmatrix}</math> (د) <math>\begin{bmatrix} -2 \\ -6 \end{bmatrix}</math></p> <p>عدد <math>\sqrt{73}</math> بین دو عدد صحیح ..... و ..... قرار دارد.</p> <p>(الف) ۶ و ۵ (ب) ۷ و ۶ (ج) ۸ و ۷ (د) ۹ و ۸</p> <p>معرفی از مبدأ و شیب خط <math>y = +\frac{5}{7}x + 8</math> به ترتیب برابر است با.....</p> <p>(الف) <math>+\frac{5}{7}</math> و ۸ (ب) ۸ و <math>-\frac{5}{7}</math> (ج) <math>+\frac{5}{7}</math> و ۸ (د) <math>-\frac{5}{7}</math> و ۸</p> <p>معادله خطی که با خط <math>y = +7x - 4</math> موازی بوده و از نقطه <math>\begin{bmatrix} 1 \\ +3 \end{bmatrix}</math> بگذرد، برابر است با .....</p> <p>(الف) <math>y = -7x + 3</math> (ب) <math>y = -7x - 3</math> (ج) <math>5y = 7x + 6</math> (د) <math>y = 7x + 3</math></p>	

بسمه تعالی

شماره داوطلب:

وزارت آموزش و پرورش

نام: .....

اداره کل آموزش و پرورش استان آذربایجان شرقی

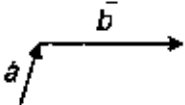
نام خانوادگی: .....

نام آموزشگاه:

سئوالات امتحان هماهنگ درس ریاضیات پایه ی سوم

ناحیه / منطقه:

پایه: سوم راهنمایی تاریخ امتحان: ۱۳۹۱/۰۶/۴ مدت امتحان: ۹۰ دقیقه ساعت: ۱۰ صبح تعداد صفحه: ۴

ردیف	صفحه دوم	بارم
۴	عبارت مقابل را بصورت یک عدد تواندار بنویسید $\frac{۷^۶ \times ۲^۶}{۱۴^۲ \times ۱۴^۳} =$	۰/۷۵
۵	جذر عدد $۵۳/۵$ را تا یک رقم اعشار محاسبه کرده و باقی مانده آن را مشخص کنید باقی مانده: <input type="text"/> : جذر: <input type="text"/>	۱
۶	مجموعه A را با علامت ریاضی بنویسید. $A = \{-۴, -۳, -۲, -۱, ۰, ۱\}$	۰/۵
۷	حاصل عبارتهای زیر را بدست آورید $-۱۳/۹۸ + ۹/۵۳ =$ $\left(\frac{۱۳}{۲۵} - \frac{۲}{۵}\right) \div \left(\frac{۲}{۱۰}\right) =$	۱/۲۵
۸	الف) بردار حاصل جمع دو بردار $\vec{a}$ و $\vec{b}$ را رسم کنید.  ب) تساوی مقابل را کامل کنید. $\begin{bmatrix} -۲ \\ \square \end{bmatrix} + \begin{bmatrix} \square \\ ۳ \end{bmatrix} = \begin{bmatrix} -۷ \\ ۹ \end{bmatrix}$ ج) بردار $\vec{a}$ را بر حسب مختصات بنویسید. $\vec{a} = -۳\vec{i} + ۵\vec{j} = \begin{bmatrix} \square \\ \square \end{bmatrix}$	۱/۲۵
۹	الف) عبارت های جبری مقابل را ساده کنید. $۲(ab + ۳a) - ۳ab =$ $۵xy - ۱۲x^۲ + ۳xy + ۱۲x^۲ =$ ب) مقدار عبارت جبری زیر را به ازای مقادیر داده شده بدست آورید $\begin{cases} a = -۲ \\ b = ۵ \end{cases} \Rightarrow a^۲ + ۳b =$	۲
۱۰	معادله مقابل را حل کنید $۱۷x + ۶ = ۱۵x$	۱

شماره داوطلب:

بسمه تعالی

وزارت آموزش و پرورش

نام: .....

نام آموزشگاه:

اداره کل آموزش و پرورش استان آذربایجان شرقی

نام خانوادگی: .....

ناحیه / منطقه:

سئوالات امتحان هماهنگ درس ریاضات پایه ی سوم

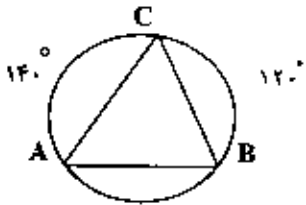
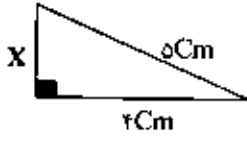
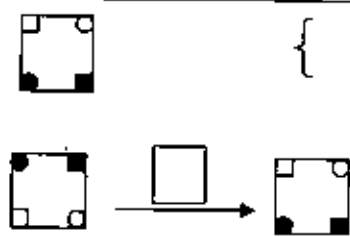
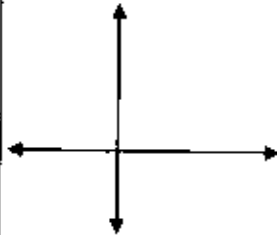
تعداد صفحه: ۴

ساعت: ۱۰ صبح

مدت امتحان: ۹۰ دقیقه

تاریخ امتحان: ۱۳۹۱/۰۶/۴

پایه: سوم راهنمائی

ردیف	صفحه سوم	بارم									
۱۱	<p>با توجه به شکل مقابل اندازه کمان و زاویه های خواسته شده را بنویسید</p> <p style="text-align: center;"> <math>\widehat{AB} =</math>      <math>\hat{B} =</math>      <math>\hat{A} =</math>      <math>\hat{C} =</math> </p> 	۱									
۱۲	<p>در شکل مقابل، مقدار X را حساب کنید.</p> 	۰/۷۵									
۱۳	<p>الف) مجموعه دوران های شکل مقابل را بنویسید.</p> <p>ب) با توجه به شکل مقابل، در جای خالی نماد مناسب قرار دهید.</p> 	۰/۵۰									
۱۴	<p>الف) نمرات احمد در چهار درس به ترتیب ۱۶/۷۵، ۱۵/۵۰، ۱۷/۷۵ و ۱۸ می باشد. میانگین نمرات احمد را حساب کنید؟</p> <p>میانگین نمرات احمد = _____</p> <p>ب) جدول مقابل را کامل کنید.</p> <table border="1" style="width: 100%; text-align: center;"> <tr> <th>دسته</th><th>خط نشان</th><th>فراوانی</th><th>متوسط هر دسته</th></tr> <tr> <td>۱۴-۱۰</td><td>////</td><td></td><td></td></tr> </table>	دسته	خط نشان	فراوانی	متوسط هر دسته	۱۴-۱۰	////			۱	
دسته	خط نشان	فراوانی	متوسط هر دسته								
۱۴-۱۰	////										
۱۵	<p>الف) خط d به معادله <math>y = 2x + 1</math> را رسم کنید.</p> <p>ب) معادله خطی را بنویسید که از نقاط <math>A = \begin{bmatrix} -1 \\ -3 \end{bmatrix}</math> و <math>B = \begin{bmatrix} -1 \\ 5 \end{bmatrix}</math> بگذرد.</p> <p>معادله خط .....</p>  <table border="1" style="margin-left: auto; margin-right: auto;"> <tr> <td>X</td><td>0</td><td>1</td></tr> <tr> <td>Y</td><td></td><td></td></tr> <tr> <td><math>\begin{bmatrix} X \\ Y \end{bmatrix}</math></td><td></td><td></td></tr> </table>	X	0	1	Y			$\begin{bmatrix} X \\ Y \end{bmatrix}$			۱/۵
X	0	1									
Y											
$\begin{bmatrix} X \\ Y \end{bmatrix}$											
۱۶	<p>دستگاه مقابل را حل کنید.</p> $\begin{cases} 2x + 2y = 4 \\ 2x - 2y = 10 \end{cases}$	۱									

شماره داوطلب:

بسمه تعالی

وزارت آموزش و پرورش

نام: .....

نام آموزشگاه:

اداره کل آموزش و پرورش استان آذربایجان شرقی

نام خانوادگی: .....

ناحیه / منطقه:

سوالات امتحان مساتک درس ریاضیات پایه سوم

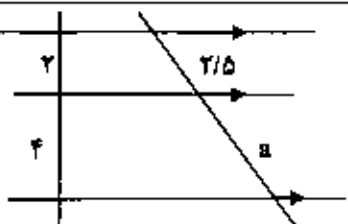
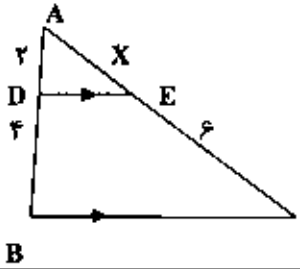
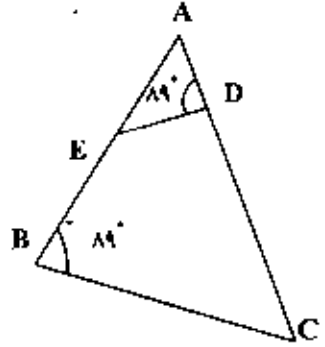
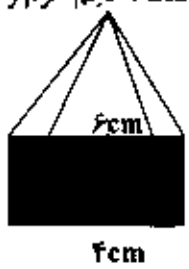
تعداد صفحه: ۴

ساعت: ۱۰ صبح

مدت امتحان: ۹۰ دقیقه

تاریخ امتحان: ۱۳۹۱/۰۶/۴

پایه: سوم راهنمایی

ردیف	صفحه چهارم	بازم
۱۷	در شکل مقابل مقدار $a$ را حساب کنید. 	۰/۵
۱۸	در شکل زیر $DE$ با $BC$ موازی است. مقدار $x$ را حساب کنید. 	۱
۱۹	الف) با توجه به شکل مقابل، دلیل تشابه دو مثلث $ABC$ و $ADE$ را بنویسید.  دلیل تشابه { $\rightarrow \triangle ABC \sim \triangle ADE$ ب) حالت تشابه: ..... ج) تناسب بین اضلاع متناظر را کامل کنید. $\frac{AE}{AC} = \frac{\square}{BC}$	۱
۲۰	در شکل مقابل، قاعده هرم، مستطیلی به اضلاع ۴ و ۲ سانتی متر و ارتفاع هرم ۶ سانتی متر است، حجم هرم را حساب کنید.  (نوشتن فرمول الزامی است) مساحت قاعده = حجم هرم =	۱
۱- نمره:	باعدد بাহروف	۲- تجدیدنظر: (پس از رسیدگی به اعتراضات) نمره:
نام و نام خانوادگی:	امضاء	نام و نام خانوادگی:
امضاء		امضاء

«اولین چیزی که (از وظایف دینی در قیامت) به حسابش رسیدگی می شود نماز است.»

حضرت محمد (ص)