






۷- ارزش هر دسته از اسکناس ها یا سکه های زیر را به تومان بنویسید.

 ۵۰۰۰۰۰ تومان = ۵۰۰۰۰۰۰ ریال	 تومان = ریال	 تومان = ریال
 تومان = ریال	 تومان = ریال	 تومان = ریال

۸- ابتدا قیمت تقریبی هریک از وسایل زیر را نوشته و سپس به سوالات پاسخ دهید.



..... ریال معادل تومان ریال معادل تومان ریال معادل تومان ریال معادل تومان

- تفاضل قیمت یک ال سی دی و یک دوچرخه تقریباً چند تومان است؟

- برای خرید یک دستگاه سمند و یک دستگاه سایه بای سایه چند ریال باید پردازیم؟

۹- اعداد زیر را به صورت گسترده بنویسید و سپس مانند نمونه آن ها را با یکدیگر مقایسه کنید.

$4586 < 4591$ $4000 + 500 + 80 + 6$ $<$ $4000 + 500 + 90 + 1$	$3584 > 2795$ $3000 + 500 + 80 + 4 > 2000 + 700 + 90 + 5$
--	--

۵۹۹۷۹ <input type="checkbox"/> ۵۹۹۸۱ <input type="checkbox"/>	۶۴۳۸۵ <input type="checkbox"/> ۶۴۳۹۰ <input type="checkbox"/>
۵۴۸۳ <input type="checkbox"/> ۵۴۸۵ <input type="checkbox"/>	۷۶۶۵۹۹ <input type="checkbox"/> ۷۶۷۰۰۱ <input type="checkbox"/>

۱۰- بزرگ و کوچک ترین عدد ۹ رقمی را بنویسید.

بزرگ ترین = کوچک ترین =

۱۱- کوچک ترین عدد هشت رقمی را بنویسید که دهگان هزارش ۲، دهگان میلیونش ۴ برابر دهگان هزارش، دهگانش نصف دهگان میلیونش، یکانش ۱ و بقیه ی ارقامش نیز غیر تکراری باشند.

۱۲- آرمین می خواهد کاپشن پائیزه ای بخرد که قیمت آن ۷۰۰۰۰۰ ریال می باشد، او در کیفش ۴ قطعه اسکناس ۱۰۰۰۰۰ ریالی، دو قطعه اسکناس ۵۰۰۰۰ ریالی، ۸ قطعه اسکناس ۲۰۰۰۰ ریالی و ۲ سکه ۵۰۰۰ ریالی

دارد؟

- آرمین چند ریال پول دارد؟

- پول آرمین معادل چند تومان می باشد؟

- قیمت این کاپشن چند تومان است؟

- برای خریدن این کاپشن آرمین چند تومان کم دارد؟

۱۳- سی میلیون ریال قیمت تقریبی کدام یک از موارد زیر می تواند باشد؟

- یک دستگاه اتومبیل رانا یک واحد مسکونی
 یک عدد لپ تاپ سونی یک عدد کولر رومیزی

۱۴- یک میلیون ریال برابر است با یک باند ۱۰۰ عددی اسکناس تومانی.

- ۱۰۰۰ تومانی ۱۰۰۰۰ تومانی ۱۰۰ تومانی هیچ کدام