

اداره کل آموزش و پرورش استان اصفهان
معاونت آموزش متوسطه
گروه آموزش متوسطه‌ی اول

پایه‌ی سوم راهنمایی

مرحله‌ی اول

زمان : ۸۰ دقیقه

آزمون نمره‌ی منفی دارد

| ردیف | نام درسی | تعداد سوال | از شماره | تا شماره |
|------|----------------|------------|----------|----------|
| ۱ | قرآن | ۵ | ۱ | ۵ |
| ۲ | پیام‌های آسمان | ۵ | ۶ | ۱۰ |
| ۳ | عربی | ۵ | ۱۱ | ۱۵ |
| ۴ | ادبیات فارسی | ۱۰ | ۱۶ | ۲۵ |
| ۵ | تاریخ | ۴ | ۲۶ | ۲۹ |
| ۶ | جغرافیا | ۴ | ۳۰ | ۳۳ |
| ۷ | اجتماعی | ۴ | ۳۴ | ۳۷ |
| ۸ | ریاضی | ۱۱ | ۳۸ | ۴۸ |
| ۹ | علوم تجربی | ۱۱ | ۴۹ | ۵۹ |
| ۱۰ | حرفه‌وفن | ۵ | ۶۰ | ۶۴ |
| ۱۱ | زبان انگلیسی | ۱۱ | ۶۵ | ۷۵ |

بهمن‌ماه ۱۳۹۲

دوازدهمین دوره‌ی مسابقات علم دانش‌آموزان دوره‌ی اول متوسطه استان اصفهان

قرآن

۱- کدام گزینه ترجمه صحیح کلمات «نَزَلَ، أَنْزَلَ، أَنْزِلَ» می‌باشد؟

- (الف) فرو فرستاد، نازل می‌کند، نازل شد
(ب) نازل کرد، نازل می‌کنم، نازل شد
(ج) نازل شد، نازل می‌کنم، نازل کرد
(د) نازل کرد، فرو فرستاد، نازل شد

۲- ترجمه صحیح آیهی شریفه «قُلْ إِنْ كُنْتُمْ تُحِبُّونَ اللَّهَ فَاتَّبِعُونِي» کدام است؟

- (الف) بگو هر کس دوست دارد خدا را، پس مرا اطاعت کند. (ب) بگو کسانی که دوست دارند خدا را، پس مرا پیروی کردند.
(ج) بگو اگر دوست دارید خدا را، پس مرا پیروی کنید. (د) بگو اگر دوستدار خدا هستید، پس از من اطاعت کنید.

۳- چند مورد از آیات زیر صحیح ترجمه شده‌اند؟

* وَاذْكُرُوا اللَّهَ كَثِيرًا لَعَلَّكُمْ تُفْلِحُونَ: و خدا را بسیار یاد کردند به امید آن که رستگار شوند.

* أَأَنْتُمْ تَخْلُقُونَهُ أَمْ نَحْنُ الْخَالِقُونَ: آیا شما آن را می‌آفرینید یا ما آفریننده هستیم؟

* وَشَهِدُوا عَلَىٰ أَنفُسِهِمْ: و به نفع خودشان شهادت دادند.

* فَلَا أَعْبُدُ الَّذِينَ تَعْبُدُونَ مِن دُونِ اللَّهِ: پس عبادت نمی‌کنم کسانی را که به جای خدا می‌پرستید.

- (الف) ۱ (ب) ۲ (ج) ۳ (د) ۴

۴- در کدام گزینه جملهی پرسشی وجود ندارد؟

- (الف) وَ مَن يُؤْمِن بِاللَّهِ يَهْدِ اللَّهُ قَلْبَهُ
(ب) يَا أَيُّهَا الَّذِينَ آمَنُوا لِمَ تَقُولُونَ مَا لَا تَفْعَلُونَ
(ج) مَن يَرْزُقْكُمْ مِنَ السَّمَاوَاتِ وَالْأَرْضِ
(د) إِذْ قَالَ لِأَبِيهِ وَقَوْمِهِ مَا تَعْبُدُونَ

۵- کدام آیه شریفه‌ی زیر بیانگر هدف آفرینش ما می‌باشد؟

- (الف) اللَّهُ الَّذِي خَلَقَكُمْ ثُمَّ رَزَقَكُمْ .
(ب) آتَىٰ أَخْلُقُ لَكُمْ مِنَ الطِّينِ كَهَيْئَةِ الطَّيْرِ .
(ج) وَ مَا خَلَقْتُ الْجِنَّ وَالْإِنْسَ إِلَّا لِيَعْبُدُونِ .
(د) خَلَقْتَنِي مِن نَّارٍ وَ خَلَقْتَهُ مِن طِينٍ .

پیام‌های آسمان

۶- خداوند حکمت تفاوت‌های انسان‌ها را چه چیزی بیان می‌کند؟

- (الف) ظرفیت‌های یکسان
(ب) آزمایش الهی
(ج) مسئولیت‌های مختلف
(د) برتری انسان

۷- با توجه به فرمایش امیرالمومنین (ع) چه کسی نزدیک است فرشته‌ای از فرشته‌ها شود؟

- (الف) انسان پاکدامن (ب) جوان شاداب (ج) مومن مجاهد (د) اهل گذشت

۸- کدام مورد از اصلی‌ترین نقشه‌های دشمنان در زمان حاضر نیست؟

- (الف) عادی سازی روابط نادرست بین دختران و پسران
(ب) ترویج بی‌عفتی و آلوده کردن جوانان
(ج) کم‌اهمیت جلوه دادن حجاب و ترویج بی‌حجابی
(د) تلاش برای جنگ داخلی و تحریم اقتصادی

۹- روزی که انسان‌ها از یکدیگر جدا می‌شوند، چه نام دارد؟

- (الف) روز حساب (ب) روز فصل (ج) روز جزا (د) روز بزرگ

۱۰- کدام گزینه صحیح می‌باشد؟

- (الف) همه انسان‌ها باید در اصول دین از یک متخصص تقلید کنند.
(ب) بی‌اطلاعی از احکام مبطلات نماز باعث باطل شدن نماز می‌شود.
(ج) اگر ندانیم آبی نجس است و با آن وضو بگیریم، وضوی ماصحیح است.
(د) کسی که همه نشانه‌های بلوغ شرعی در او ظاهر شود به بلوغ رسیده است.

عربی

۱۱- ترجمه واژه‌های «مَمْرَد، جِذع، قِیادَة» کدام مورد است؟

- (الف) شورش، تنه‌ها، فرماندهی
(ب) شورش، تنه، فرماندهی
(ج) سخن‌چین، تنه، فرماندهی
(د) سرکش، تنه، نزدیکی

۱۲- مفرد کدام یک از جمع‌های زیر، بر یک وزن است؟

- (الف) ذُئوب، أصنام (ب) اولیاء، خَدَم
(ج) بُؤساء، خَدَم (د) اغنام، بُؤساء

۱۳- ترجمه کدام عبارت، صحیح است؟

- (الف) اَبْدًا اَعْمَالِي بِذِكْرِ اللَّهِ : کارها را با یاد خدا شروع می‌کنم.
(ب) مَا تَرَكْتُمُ التَّعَجَّةَ : میش را رها نکردند.
(ج) اَيُّهَا السَّادَةُ! مَعْنَوِيَاتِي ضَعِيفَةٌ : ای فرماندهان، روحیات من ضعیف است.
(د) كَيْفَ سَيَهْرُبُونَ مِن هُنَا؟ چگونه از اینجا فرار خواهند کرد؟

۱۴- عبارت «اَيُّهَا الْاِخْوَانُ و اَنَا غَدًا» با کدام گزینه کامل می‌شود؟

- (الف) اِرْجِعُوا - اَذْهَبْ (ب) اِرْجِعَا - اَذْهَبْ
(ج) اِرْجِعَا - سَأَذْهَبْ (د) اِرْجِعُوا - سَوَفْ ذَهَبْتُ

۱۵- علائم فعل ماضی در صیغه‌های «مفرد مؤنث مخاطب، مفرد مؤنث غائب و مفرد مذکر مخاطب» کدام گزینه است؟

- (الف) ت، ت، ت (ب) ت، ت، ت
(ج) ت، ت، ت (د) ت، ت، ت

ادبیات فارسی

۱۶- در ترکیبات زیر چند غلط املائی به کار رفته است؟

«طرز دید، مظهر ماندن، التفاظ، حزم و دور اندیشی، نیکو خسال، سریر ملک»

- (الف) یک (ب) دو (ج) سه (د) چهار

۱۷- معنای واژه‌های تمام گزینه‌ها درست است، مگر گزینه . . .

- (الف) کاهل وار: با سستی
(ب) قوس قزح: رنگین کمان
(ج) سلاله: بزرگوار
(د) عاید گشتن: به دست آمدن

۱۸- با توجه به عبارت «تاریخ و فرهنگ ادبی این سرزمین، سرشار از آموزه‌های اخلاقی، دینی و حکمی و آیین زندگی

است.» چند واژه‌ی جمع، آمده است؟

- (الف) سه (ب) چهار (ج) یک (د) دو

۱۹- قافیه در بیت اول همی قالب‌های شعری زیر یکسان است به جز . . .

- (الف) قطعه (ب) مثنوی
(ج) غزل (د) قصیده

۲۰- نثر علمی فارسی با کدام کتاب آغاز می‌شود؟

- (الف) کلیله و دمنه (ب) تاریخ بیهقی
(ج) کیمیای سعادت (د) الابنیه عن حقایق الادویه

۲۱- با توجه به جایگاه درست اجزای سخن، کدام گزینه در بازگردانی به نثر، نیاز به جابه‌جایی اجزای سخن دارد؟

- (الف) میلاد گل و بهار جان آمد
(ب) بر جان جهان دوباره جان آمد
(ج) ریگ‌های بیابان تو را می‌شناسند
(د) گلزار ز عیش لاله باران شد

۲۲- در کدام گزینه، جملات غیر ساده از نظر معنایی به یکدیگر وابسته هستند؟

- (الف) با برادر مسلمانان قهر نکن و او را آزار نده. (ب) خدایا، به شناخت تو زندگانیم و به نصرت تو شادانیم.
(ج) اگر خواهی به درجه‌ی مورچه قناعت کنی، می‌باش. (د) سخنان بیهوده مگوی و به اندازه‌ی نیاز سخن بگوی.

۲۳- گزینه‌ی درست درباره‌ی عبارت زیر کدام است؟

«خویشتن را به پای آن دیوار افکندند و نهفتی جستند و بیار امیدند و هم خطا بود که برگذر سیل بودند.»

(الف) سه فعل ربطی (اسنادی)

(ب) یک فعل ماضی استمراری قدیم

(ج) یک فعل مضارع (حال)

(د) پنج فعل ماضی ساده

۲۴- در کدام گزینه، آرایه‌ی ادبی تشبیه بیشتری به کار رفته است؟

(الف) بنی آدم اعضای یک پیکرند

(ب) علم بال است مرغ جانت را

(ج) دل بی علم چشم بی نورست

(د) تاکی آخر چو بنفشه سر غفلت در پیش

۲۵- مفهوم مصرع «گوه و دریا و درختان همه در تسبیح اند» با کدام گزینه متناسب است؟

(الف) وَ إِن مِّن شَیْءٍ إِلَّا یُسَبِّحُ بِحَمْدِهِ

(ب) مَن عَرَفَ نَفْسَهُ فَقَدْ عَرَفَ رَبَّهُ

(ج) مَا أَكْثَرَ الْعَبْرَ وَ أَقَلَّ الْأَعْتَابِرَ

(د) أَلْمُؤْمِنُ مِرَاتُ الْمُؤْمِنِ

تاریخ

۲۶- کدام گزینه مهم‌ترین اقدام شاه اسماعیل صفوی است؟

(الف) یکسان کردن واحدهای اندازه‌گیری

(ب) رسمیت بخشیدن به مذهب تشیع

(ج) بیرون راندن پرتغالی‌ها از جزیره‌ی هرمز

(د) شکست دولت عثمانی در جنگ چالدران

۲۷- قرون جدید در اروپا با کدام دوره‌های تاریخی در ایران هم‌زمان است؟

(الف) قاجار، پهلوی، صفویه

(ب) افشاریه، قاجار، زندیه

(ج) صفویه، افشاریه، زندیه

(د) قاجار، صفویه، افشاریه

۲۸- کدام گزینه جزء تحولات سیاسی و اجتماعی در قرون جدید است؟

(الف) برقراری سلطنت استبدادی در انگلستان

(ب) روی کار آمدن لوئی شانزدهم در فرانسه

(ج) استقلال آمریکا

(د) قدرت گرفتن کلیسا و پاپ

۲۹- عهد نامه مفصل بین ایران و کدام کشور اروپائی بسته شد؟

(الف) فرانسه

(ب) انگلستان

(ج) روسیه

(د) آمریکا

جغرافیا

۳۰- کتابی که مجموعه‌ای از نقشه‌ها در آن جمع‌آوری شده باشد را می‌گویند.

(الف) دایرة المعارف جغرافیایی

(ب) فرهنگ‌نامه جغرافیایی

(ج) اطلس

(د) فرهنگ‌نامه مصور جغرافیایی

۳۱- ناهمواری شرق آفریقا حاصل کدام پدیده است؟

(الف) گسل

(ب) آتشفشان

(ج) فشار لایه‌های رسوبی

(د) ناودیس و تاقدیس

۳۲- میزان نفوذ پذیری آب در زمین به بستگی دارد.

(الف) شدت و نوع بارش

(ب) شیب زمین و جنس خاک

(ج) رسوب و رسوب گذاری

(د) پوشش گیاهی و میزان بارش

۳۳- برای تهیه نقشه از استفاده می‌شود.

(الف) عکس‌های معمولی

(ب) عکس‌های ماهواره‌ای

(ج) عکس‌های افقی

(د) عکس‌های زمینی

اجتماعی

۳۴- یکی از مهمترین ملاک‌های طبقه‌بندی حکومت‌ها :

- (الف) میزان مشارکت مردم در اداره‌ی کشور
 (ج) تفاوت در دین، فرهنگ و تاریخ هر کشور است.
 (ب) میزان توجه آنها به قوانین الهی است
 (د) میزان توجه مردم به نیازهای مادی است

۳۵- کدام مورد از ارکان حکومت ما نیست؟

- (الف) رهبری
 (ب) قوه مجریه
 (ب) مجمع تشخیص مصلحت نظام
 (د) مجلس خبرگان

۳۶- وظیفه اصلی مجلس شورای اسلامی است.

- (الف) دادن رای اعتماد (ب) سوال از رئیس جمهور (ج) استیضاح وزیران (د) وضع قوانین

۳۷- رهبر از چه راهی بر کار قوهی مقننه نظارت دارد؟

- (الف) عزل و نصب رئیس قوهی مقننه
 (ج) عزل و نصب فقهای شورای نگهبان
 (ب) امضاء حکم رئیس جمهوری
 (د) عزل و نصب نمایندگان مجلس

ریاضی

۳۸- در روش غربال اراتستن برای تعیین اعداد اول ۱ تا n به عدد ۲۹ که رسیده‌ایم مراحل تمام شده است، n حداقل چه عددی است؟

- (الف) ۸۴۰ (ب) ۸۴۱ (ج) ۵۲۹ (د) ۵۲۸
 ۳۹- به ۳۰ لیتر اسید ۶۰٪ چند لیتر آب اضافه کنیم تا اسید ۴۰٪ حاصل شود؟
 (الف) ۴۵ لیتر (ب) ۳۰ لیتر (ج) ۱۵ لیتر (د) ۱۰ لیتر
 ۴۰- مجموع مجذورات دو عدد اول ۱۱۸۸۵ است، مجموع دو عدد کدامست؟
 (الف) ۱۰۹ (ب) ۱۱۱ (ج) ۱۲۹ (د) ۱۱۵

۴۱- اگر $3^{18} = 3^{87} * 20489 * \text{چه رقمی است؟}$

- (الف) ۳ (ب) ۴ (ج) ۹ (د) ۷
 ۴۲- مجموع کوچک‌ترین و بزرگ‌ترین عضو مجموعه A کدام است؟ $A = \{x | x \in \mathbb{N} - 7 < x < 7\}$

- (الف) ۰ (ب) ۶ (ج) ۷ (د) ۸
 ۴۳- مجموع دو عدد، ۱۰ و حاصلضرب همان دو عدد ۲۰ می باشد، مجموع معکوسهای دو عدد کدام است؟

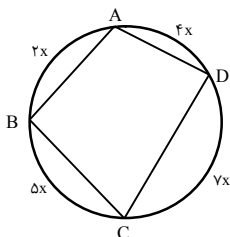
- (الف) $\frac{2}{3}$ (ب) $\frac{3}{2}$ (ج) $\frac{1}{2}$ (د) ۲
 ۴۴- به ازای چه مقدار برای a نقطه $A = \left[\frac{4a-7}{3a+21} \right]$ از دو محور به یک فاصله است؟
 (الف) -۲۸ (ب) ۲ (ج) -۲ (د) هیچکدام

۴۵- نقطه ی $A = \left[\frac{6}{8} \right]$ و مبدأ مختصات دو رأس روبروی یک مربع هستند مساحت مربع کدامست؟

- (الف) ۴۸ (ب) ۲۴ (ج) ۵۰ (د) ۱۰۰

۴۶- در شکل مقابل زاویه ی \hat{A} کدام است؟

- (الف) ۱۰۰ (ب) ۱۱۰ (ج) ۱۲۰ (د) ۱۳۰



۴۷- اگر $(4x - 20)^2 + (6x + 10y)^4 = 0$ باشد، مقدار عددی عبارت $\sqrt{x^2 - y^2}$ کدامست؟

الف) ۲ ب) ۴ ج) ۶ د) ۵

۴۸- در یک مستطیل، طول ۲ برابر عرض است. اگر قطر مستطیل ۵ سانتی متر باشد، مساحت مستطیل کدامست؟

الف) ۱۰ ب) ۲۰

ج) ۱۵ د) ۱۲

علوم تجربی

۴۹- کدام یک از مواد زیر غیر الکترولیت می‌باشد؟

الف) محلول سدیم کلرید

ب) محلول کلسیم کربنات

ج) سرکه

د) محلول جوش شیرین

۵۰- PH محلول A برابر ۴ و PH محلول B برابر ۱۰ می‌باشد. معرف لیتموس در محلول A رنگ و در محلول B رنگ است.

الف) قرمز - قرمز ب) قرمز - آبی ج) آبی - آبی د) آبی - قرمز

۵۱- اختلاف الکترون و نوترون در اتم های ${}_{17}^{35}Cl^-$ ، ${}_{11}^{23}Na^+$ ، ${}_{3}^6Li$ به ترتیب از راست به چپ چقدر است؟

الف) ۱، ۱، ۱ ب) ۰، ۲، ۱ ج) ۰، ۲، ۱ د) ۰، ۲، ۲

۵۲- در کشور فیلیپین جزایر زیادی وجود دارد. همگی این جزیره‌ها در اقیانوس آرام قرار دارند. اکثر این جزیره‌ها منشاء آتشفشانی دارند و در بیشتر اوقات در آن جا زلزله رخ می‌دهد. در محدوده‌ی این کشور کدام نوع حرکت ورقه‌های سنگ کره مشاهده می‌شود؟

الف) دو ورقه‌ی اقیانوسی از هم دور می‌شوند.

ب) یک ورقه‌ی اقیانوسی زیر ورقه‌ی قاره‌ای فرو می‌رود.

ج) یک ورقه‌ی اقیانوسی زیر ورقه‌ی اقیانوسی دیگر فرو می‌رود.

د) یک ورقه‌ی اقیانوسی در امتداد یک ورقه‌ی قاره‌ای می‌لغزد.

۵۳- به عقیده‌ی داروین، علت بلند بودن ریشه‌ی گیاهان بیابانی چیست؟

الف) رشد ریشه گیاه برای جذب آب از مناطق عمیق خاک

ب) دوام گیاهانی که ریشه‌ی بلندتری نسبت به بقیه داشته‌اند

ج) استفاده کردن بیشتر از ریشه

د) پیدایش جهش در این گیاهان

۵۴- اگر ستاره‌ی A در آسمان کم نورتر از ستاره‌ی B باشد به این معناست که :

الف) ستاره‌ی A به زمین نزدیک تر است ب) ستاره‌ی A جرم بیشتری دارد

ج) ستاره‌ی B به زمین نزدیک تر است د) موارد «الف» و «ب»

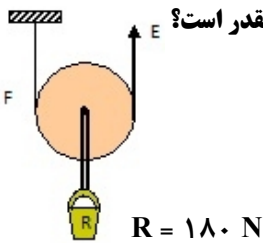
۵۵- فراوانی پستانداران - پیدایش آغازیان - اولین گیاهان گل دار، به ترتیب مربوط به کدام دوران بوده‌اند؟

الف) سنوزوئیک - پر کامبرین - مزوزوئیک ب) سنوزوئیک - پالئوزوئیک - سنوزوئیک

ج) مزوزوئیک - پر کامبرین - سنوزوئیک د) مزوزوئیک - پالئوزوئیک - مزوزوئیک

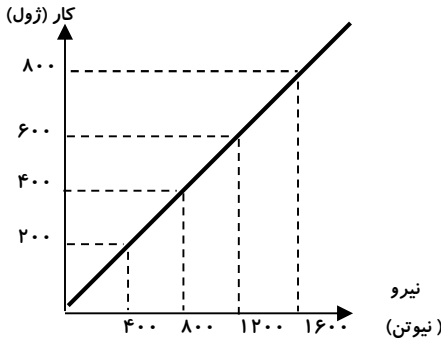
۵۶- وزنه برداری وزنه ۱۵۰ کیلوگرمی را در مدت ۳ ثانیه به اندازه ۲ متر بالا می‌برد و ۵ ثانیه بالای سر نگه می‌دارد. توان وزنه بردار چند کیلو وات است؟

الف) ۱ ب) ۰/۱ ج) ۰/۶ د) صفر



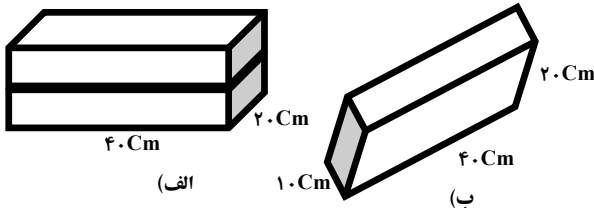
- الف) ۱۸۰ نیوتن
 ب) ۳۶۰ نیوتن
 ج) ۴۵ نیوتن
 د) ۹۰ نیوتن

۵۸- با توجه به نمودار مقدار جابه جایی چقدر می‌باشد؟



- الف) ۲ متر
 ب) ۱۰۰ سانتی متر
 ج) ۴ متر
 د) ۵/۰ متر

۵۹- سه مکعب فلزی با جرم، جنس و ابعاد یکسان داریم. چنانچه یکی از مکعب‌ها مانند شکل «ب» و دو مکعب دیگر مانند شکل «الف» (روی هم) روی سطح زمین قرار گیرند، فشار در حالت «الف» نسبت به حالت «ب» چه تغییری کرده است؟



- الف) تغییر نمی‌کند
 ب) نصف می‌شود
 ج) دو برابر می‌شود
 د) چهار برابر می‌شود

حرفه و فن

۶۰- برای تولید محصول فناوری باید چه چیزهای داشته باشیم تا بتوانیم مراحل کار خود را با موفقیت طی کنیم؟

- الف) مواد و ابزار، پول، فکر نو
 ب) مهارت، تجهیزات، فکر نو
 ج) دانش، مهارت، فکر نو
 د) فناوری نانو، زیست فناوری، فکرنو

۶۱- زمان قطع و وصل ترانزیستورها در مدار چشمک زن چگونه تغییر می‌کند؟

- الف) تغییر دادن لامپ های LED
 ب) تغییر دادن مقدار خازن
 ج) تغییر دادن پایه ترانزیستورها
 د) تغییر دادن ولتاژ

۶۲- برادر علی به تازگی به دنیا آمده است به نظر شما او در چند ماهگی دیدن چیزهای متحرک رادوست دارد؟

- الف) یک ماهگی
 ب) دو ماهگی
 ج) سه ماهگی
 د) چهار ماهگی

۶۳- تخلخل زیاد و سبک بودن از ویژگیهای کدام فرآورده چوبی می‌باشد؟

- الف) پانلهای چوب سیمان و گچ
 ب) تخته فیبر (MDF)
 ج) تخته مرکب
 د) صفحات عایق صدا

۶۴- از شاخصی، برای بازدید خودرو استفاده می‌شود.

- الف) روغن ترمز
 ب) روغن موتور
 ج) آب رادیاتور
 د) ضد یخ رادیاتور

زبان انگلیسی

65. A : What does George look like ? B :
 a) He's a policeman . b) He likes books with pictures .
 c) He's short and thin . d) He teaches us English .
66. The day before yesterday was The day after tomorrow is Tuesday .
 a) Sunday b) Friday c) Saturday d) Thursday
67. My brother every morning .
 a) often get up late b) gets up often late
 c) often gets up late d) get up often late
68. A : Where do you do your homework ? B : I do at home .
 a) it b) them c) their d) they
69. A : Did Mrs. Linton ask you a lot of questions ?
 B : No , she asked me questions.
 a) many b) a few c) much d) a little
70. Mr. Wilkins go to school by bus. He walked there.
 a) doesn't b) wasn't c) isn't d) didn't
71. How many do you see in the zoo?
 a) people b) lion c) animal d) man
72. Betty's book isn't hard. It's
 a) early b) enjoy c) easy d) ready
- ۷۳ - دیکته : حروف کدام گزینه، کلمه‌ی مورد نظر را کامل می‌کند؟
 Our n _ _ ghb _ ur has a famous guest.
 a) e i o b) a i o c) a e i d) i e a
۷۴. واژگان : کدام کلمه از نظر معنایی با بقیه کلمات هماهنگ نیست؟
 a) garden b) kitchen c) near d) store
۷۵. تلفظ : کدام کلمه از نظر تلفظ حرف (c) با بقیه کلمات متفاوت است؟
 a) cross b) face c) ticket d) Islamic

* دانش آموز عزیز!

شماره‌ی داوطلبی و رمز کارنامه‌ی خود را از روی پاس‌نامه ببینید و در جدول روبه‌رو یادداشت کنید! شما می‌توانید با داشتن این دو کد، و مراجعه به سامانه‌ی اینترنتی www.natiye.ir نتیجه‌ی آزمون خود را مشاهده کنید. همچنین دریافت دفترچه سوالات و کلید آزمون و تبادل نظر پیرامون سوالات از امشب، در بخش «سامانه گفتگوی دانش‌آموزی» در همین سایت، امکان‌پذیر می‌باشد.

شماره

داوطلبی

رمز

کارنامه

اگر پاسخنامه منطبق با شما نیست، مسئول جلسه را مطلع نمایید.
 پاسخ صحیح را با عدد مشخصی از برگه مانند نمونه گنجانده می‌باشد.



در نگهداری از پاسخنامه دقت کنید تا به هیچ عنوان تا و کثیف نشود.
 در هنگام پاسخ‌گویی، پاسخ صحیح را با عدد مشخصی از برگه مانند نمونه گنجانده می‌باشد.

| | | | | | | | | | | | | | | | | | | | |
|----|-----|---|---|---|----|-----|---|---|---|----|-----|---|---|---|-----|-----|---|---|---|
| ۱ | الف | ب | ج | د | ۲۶ | الف | ب | ج | د | ۵۱ | الف | ب | ج | د | ۷۶ | الف | ب | ج | د |
| ۲ | الف | ب | ج | د | ۲۷ | الف | ب | ج | د | ۵۲ | الف | ب | ج | د | ۷۷ | الف | ب | ج | د |
| ۳ | الف | ب | ج | د | ۲۸ | الف | ب | ج | د | ۵۳ | الف | ب | ج | د | ۷۸ | الف | ب | ج | د |
| ۴ | الف | ب | ج | د | ۲۹ | الف | ب | ج | د | ۵۴ | الف | ب | ج | د | ۷۹ | الف | ب | ج | د |
| ۵ | الف | ب | ج | د | ۳۰ | الف | ب | ج | د | ۵۵ | الف | ب | ج | د | ۸۰ | الف | ب | ج | د |
| ۶ | الف | ب | ج | د | ۳۱ | الف | ب | ج | د | ۵۶ | الف | ب | ج | د | ۸۱ | الف | ب | ج | د |
| ۷ | الف | ب | ج | د | ۳۲ | الف | ب | ج | د | ۵۷ | الف | ب | ج | د | ۸۲ | الف | ب | ج | د |
| ۸ | الف | ب | ج | د | ۳۳ | الف | ب | ج | د | ۵۸ | الف | ب | ج | د | ۸۳ | الف | ب | ج | د |
| ۹ | الف | ب | ج | د | ۳۴ | الف | ب | ج | د | ۵۹ | الف | ب | ج | د | ۸۴ | الف | ب | ج | د |
| ۱۰ | الف | ب | ج | د | ۳۵ | الف | ب | ج | د | ۶۰ | الف | ب | ج | د | ۸۵ | الف | ب | ج | د |
| ۱۱ | الف | ب | ج | د | ۳۶ | الف | ب | ج | د | ۶۱ | الف | ب | ج | د | ۸۶ | الف | ب | ج | د |
| ۱۲ | الف | ب | ج | د | ۳۷ | الف | ب | ج | د | ۶۲ | الف | ب | ج | د | ۸۷ | الف | ب | ج | د |
| ۱۳ | الف | ب | ج | د | ۳۸ | الف | ب | ج | د | ۶۳ | الف | ب | ج | د | ۸۸ | الف | ب | ج | د |
| ۱۴ | الف | ب | ج | د | ۳۹ | الف | ب | ج | د | ۶۴ | الف | ب | ج | د | ۸۹ | الف | ب | ج | د |
| ۱۵ | الف | ب | ج | د | ۴۰ | الف | ب | ج | د | ۶۵ | الف | ب | ج | د | ۹۰ | الف | ب | ج | د |
| ۱۶ | الف | ب | ج | د | ۴۱ | الف | ب | ج | د | ۶۶ | الف | ب | ج | د | ۹۱ | الف | ب | ج | د |
| ۱۷ | الف | ب | ج | د | ۴۲ | الف | ب | ج | د | ۶۷ | الف | ب | ج | د | ۹۲ | الف | ب | ج | د |
| ۱۸ | الف | ب | ج | د | ۴۳ | الف | ب | ج | د | ۶۸ | الف | ب | ج | د | ۹۳ | الف | ب | ج | د |
| ۱۹ | الف | ب | ج | د | ۴۴ | الف | ب | ج | د | ۶۹ | الف | ب | ج | د | ۹۴ | الف | ب | ج | د |
| ۲۰ | الف | ب | ج | د | ۴۵ | الف | ب | ج | د | ۷۰ | الف | ب | ج | د | ۹۵ | الف | ب | ج | د |
| ۲۱ | الف | ب | ج | د | ۴۶ | الف | ب | ج | د | ۷۱ | الف | ب | ج | د | ۹۶ | الف | ب | ج | د |
| ۲۲ | الف | ب | ج | د | ۴۷ | الف | ب | ج | د | ۷۲ | الف | ب | ج | د | ۹۷ | الف | ب | ج | د |
| ۲۳ | الف | ب | ج | د | ۴۸ | الف | ب | ج | د | ۷۳ | الف | ب | ج | د | ۹۸ | الف | ب | ج | د |
| ۲۴ | الف | ب | ج | د | ۴۹ | الف | ب | ج | د | ۷۴ | الف | ب | ج | د | ۹۹ | الف | ب | ج | د |
| ۲۵ | الف | ب | ج | د | ۵۰ | الف | ب | ج | د | ۷۵ | الف | ب | ج | د | ۱۰۰ | الف | ب | ج | د |