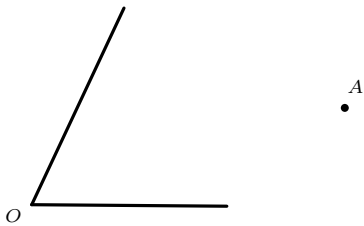


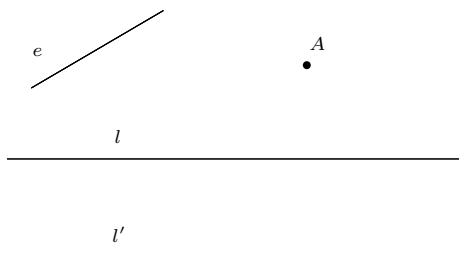
۱. از نقطه‌ی  $A$  خطی رسم کنید که با دو ضلع زاویه  $O$  زاویه‌های برابر بسازد.



شرح روش ترسیم:

درستی روش ترسیم خود را اثبات کنید.

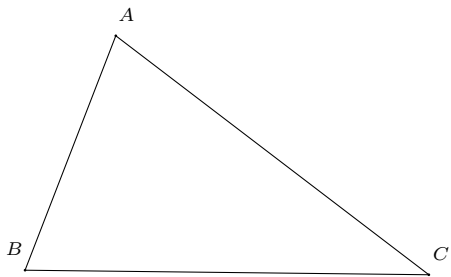
۲. از نقطه  $A$  خطی رسم کنید که دو خط موازی  $l$  و  $l'$  روی آن پاره‌خطی با طول  $e$  جدا کنند.



شرح روش ترسیم:

درستی روش ترسیم خود را اثبات کنید.

۳. بر روی ضلع‌های  $AB$  و  $AC$  از مثلث  $ABC$  (یا بر روی امتداد آنها) دو نقطه  $D$  و  $E$  را طوری تعیین کنید که پاره‌خط‌های  $AD$ ،  $DE$  و  $EC$  برابر باشند.



شرح روش ترسیم:

درستی روش ترسیم خود را اثبات کنید.