

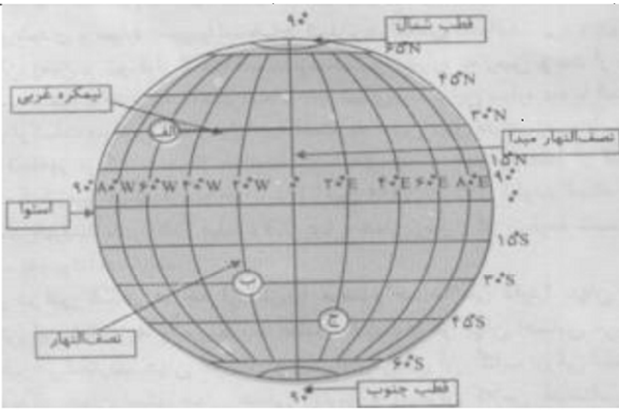


تاریخ امتحان: مدت امتحان: ۵۰ دقیقه ماده درسی: مطالعات اقتصاد مقاومتی: تولید- اشتغال	 مرکز ملی پرورش استعدادهای درخشان دوازدهم پروانه جوان	به نام خدا وزارت آموزش و پرورش اداره کل آموزش و پرورش استان آذربایجان غربی آموزش و پرورش ماکو دبیرستان استعدادهای درخشان فرزندگان (اول متوسطه)	 جمهوری اسلامی ایران وزارت آموزش و پرورش	نام و نام خانوادگی: پایه: نهم
				نوبت اول دی ماه ۹۶

بار م	سوالات	ردیف
	فصل ۱	
۰.۵	زمین در هر ۲۴ ساعت یک بار به دور محور خود می چرخد که به آن حرکت ..... می گویند.	۱
۰.۵	دو موقع از سال یعنی اول بهار و اول پاییز درازای روز و شب برابر می شود به این دو زمان ..... می گویند.	۲
۱/۵	<p>با توجه به شکل به سوالات خواسته شده پاسخ دهید؟</p> <p>الف) مختصات نقطه الف را بنویسید؟</p> <p>ب) طول جغرافیایی نقطه ج را مشخص کنید؟</p>	۳
		
	ج) نقطه ای را مشخص کنید که طول و عرض جغرافیایی آن صفر باشد؟ و آن را نام گذاری کنید.	
۱	مبنای زمان واقعی چیست و در زندگی روزانه چه کاربردی دارد؟	۴
	فصل ۲	
۰.۵	اگر در ارتفاع ۱۵۰۰ متری دمای هوا ۱۲ درجه باشد دمای هوا در ارتفاع ۴۵۰۰ متری چقدر است؟ الف) ۹- درجه      ب) ۳ درجه      ج) ۳- درجه      د) ۶- درجه	۵
۱	از اهمیت اقیانوسها برای انسان دو مورد بنویسید؟	۶
۱	گرم شدن کره زمین چه پیامدهای ناخوشایندی دارد. دو مورد بنویسید؟	۷
۱	فلات چیست و بلندترین فلات چه نام دارد؟	۸
	فصل ۳	
۰.۵	بخش عمده ای از بیابانهای گرم و خشک جهان در مجاورت مدار راس السرطان و راس الجدی واقع شده اند. ص ( ) غ ( )	۹

۱۰	کدام زیست بوم بعنوان ریه های زمین نامیده شده است ؟ الف) توندرا      ب) تایگا      ج) بیابان      د) جنگل های بارانی استوایی	۰.۷۵
۱۱	تنوع زیست بومها به چه عواملی بستگی دارد ؟ ۳ مورد بنویسید .	۰.۷۵
۱۲	گزینه های مرتبط به هم را به یکدیگر وصل کنید . الف) درختان بائوباب از گونه های مشهور این زیست بوم است. ب) به داشتن جنگل های مخروطیان و سوزنی برگها معروف است ج) فقط گیاهانی چون خزه و گل سنگ می توانند برویند.	۰.۷۵
۱۳	در پنجاه سال کدام عوامل موجب تخریب جنگلهای بارانی استوایی شده است؟	۱
	فصل ۴	
۱۴	کدام یک از عوامل زیر جزء عوامل خارجی نابرابری جهانی محسوب می شود. الف) فرهنگ و باورهای غلط      ب) استعمار      ج) نبودن وحدت و مشارکت      د) بیسوادی و ناآگاهی مردم	۰.۷۵
۱۵	کدام یک از عوامل زیر جزء عوامل انسانی جذب جمعیت یک مکان محسوب می شود؟ الف) آب و هوا      ب) معادن و ذخایر      ج) وسایل ارتباطی      د) جلگه ها و دشت ها	۰.۷۵
۱۶	در این نوع مهاجرت افراد جهت زندگی بهتر و استفاده از امکانات علمی و آموزشی دست به مهاجرت می زنند. الف) اختیاری      ب) اجباری      ج) داخلی      د) خارجی	۰.۷۵
۱۷	در دو قرن اخیر کدام عوامل موجب کاهش چشمگیر مرگ و میرها شده است؟	۰.۷۵
۱۸	ملاکهای توسعه انسانی را بنویسید؟	۰.۷۵
۱۹	به نظر شما چگونه می توان مانع مهاجرت روستائیان به شهرها شد . سه پیشنهاد بنویسید؟	۰.۷۵
	فصل ۵	
۲۰	سلسله صفوی را ..... بنیان گذاری کرد و ..... تثبیت و تحکیم کرد در زمان ..... حکومت صفوی به اوج قدرت خود رسید.	۰.۷۵
۲۱	پایتخت های صفویان را بنویسید؟	۰.۷۵
۲۲	سه عامل گسترش تجارت در دوره صفویه را بنویسید؟	۰.۷۵
۲۳	سه منبع عمده درآمد حکومت صفوی را بنویسید؟	۰.۷۵
	فصل ۶	
۲۴	دو مورد از اقدامات امیر کبیر را در زمینه حقوق شهروندی را بنویسید؟	۰.۷۵
۲۵	براساس قرارداد ترکمن چای ایران متعهد به انجام چه کارهایی شد؟	۰.۷۵
۲۶	موفقیت نهضت تنباکو از نظر سیاسی و اجتماعی چه اهمیتی داشت؟	۰.۷۵
۲۷	عباس میرزا برای پیشرفت ایران چه کارهایی انجام داد؟	۱
۲۰	موفق باشید محمودی	