

باسمه تعالی

سئوالات امتحان هماهنگ استانی درس: مطالعات اجتماعی		ساعت شروع : ۸ صبح	مدت امتحان : ۷۰ دقیقه
نام و نام خانوادگی :	دوره اول متوسطه	پایه تحصیلی : نهم	تاریخ امتحان : ۱۳۹۵/۳/۸
دانش آموزان روزانه و داوطلبان آزاد سراسر استان نوبت خردادماه سال ۱۳۹۵		اداره سنجش و ارزشیابی اداره کل آموزش و پرورش استان بوشهر	

ردیف	بخش اجباری : دانش آموز عزیز لطفا به تمام سوالات فصل هفتم تا دوازدهم پاسخ دهید	نمره
------	-------------------------------------------------------------------------------	------

فصل هفتم	۱ - انقلاب مشروطیت که باعث شد نظام پادشاهی مشروطه جایگزین نظام پادشاهی استبدادی شود در دوره حکومت کدام پادشاه قاجار اتفاق افتاد . الف - محمد علی شاه <input type="radio"/> ب - مظفرالدین شاه <input type="radio"/> ج - ناصرالدین شاه <input type="radio"/> د - احمد شاه <input type="radio"/>	۱۵
	۲ - عبارت صحیح و غلط را با علامت * مشخص کنید . الف - هدف انقلاب مشروطیت برقراری حکومت قانون و رها شدن کشور از چنگ استبداد داخلی و سلطه ی خارجی بود . ب - براساس ((قرارداد ۱۹۱۹)) اداره ی امور مالی و نظامی ایران در اختیار کارشناسان نظامی و مالی آمریکایی ها قرار می گرفت . صحیح <input type="radio"/> غلط <input type="radio"/>	۲۵
	۳ - روسیه و انگلستان در قرار داد ۱۹۰۷ چه تصمیمی درباره ایران گرفتند ؟ صحیح <input type="radio"/> غلط <input type="radio"/>	۲۵
	۴ - دو مورد از اقدامات رضاشاه که نتیجه ی آن تضعیف ارزش های اسلامی و تخریب فرهنگ ایرانی بود را بنویسید .	۱۵
		۱

فصل هشتم	۵ - مخالفت امام خمینی با کدام یک از اقدامات رژیم پهلوی سبب تبعید ایشان به ترکیه شد . الف - مخالفت با کاپیتولاسیون <input type="radio"/> ب - مخالفت با تصویب نامه ی انجمن های ایالتی و ولایتی <input type="radio"/> ج - مخالفت با رابطه ی رژیم پهلوی با اسرائیل <input type="radio"/> د - مخالفت با اصول شش گانه <input type="radio"/>	۱۵
	۶ - دلایل سیاسی نارضایتی مردم از حکومت شاه را بنویسید . یک مورد	۱۵
	۷ - خواسته اصلی و اساسی ملت ایران در جریان انقلاب اسلامی چه بود ؟	۱۵
	۸ - توطئه ها و دسیسه های دشمنان پس از پیروزی انقلاب اسلامی برای انحراف و نابودی نظام نوپای اسلامی را ذکر نمایید . دو مورد کافی است .	۱

باسمه تعالی

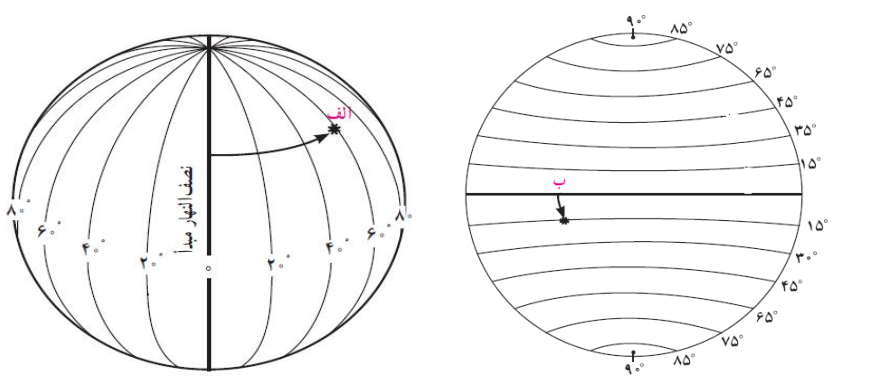
مدت امتحان : ۷۰ دقیقه		ساعت شروع : ۸ صبح		سئوالات امتحان هماهنگ استانی درس: مطالعات اجتماعی	
تعداد صفحه : ۶		تاریخ امتحان : ۱۳۹۵/۳/۸		نام و نام خانوادگی :	
		اداره سنجش و ارزشیابی اداره کل آموزش و پرورش استان بوشهر		دانش آموزان روزانه و داوطلبان آزاد سراسر استان نوبت خردادماه سال ۱۳۹۵	
				فصل نهم	
۱	هنجار هویت فرهنگ نماد ارزش	<p>۹ - جملات سمت راست رابه کلمه ی صحیح خود وصل کنید یا درون پرانتز بنویسید .</p> <p>الف - خوب وید؛ زشت وزیبا ومطلوب یا نامطلوب دانستن امور مختلف ()</p> <p>ب - نشانه یا نماینده یک پدیده ی دیگر است ودر جریان روابط اجتماعی ایجاد می شود ()</p> <p>ج - قواعد وشبوه های مورد قبول یک جامعه برای انجام دادن کارهای مختلف ()</p> <p>د - آگاهی واندیشه ی مشترک اعضای یک جامعه ()</p>			
۱۵		<p>۱۰ - برای ویژگی های انتسابی واکتسابی هویت، هر کدام یک مثال بزنید .</p>			
۱		<p>۱۱ - تصاویر زیر کدام یک از عناصر هویت ملی (ویژگی های مشترک جامعه ایرانی) ما را نشان می دهد .</p>			
					
		<p>(.....)</p> <p>(.....)</p> <p>(.....)</p> <p>(.....)</p>			
۱۵		<p>۱۲ - دو مورد از کارکرد های خانواده را نام ببرید .</p>			
۱۵		<p>۱۳ - به نظر شما دانش آموزان ، برای رفع ناسازگاری بین والدین وفرزندان چه اقداماتی می توان انجام داد ؟ دو راهکار یا پیشنهاد بنویسید .</p>			
۱		<p>۱۴ - فایده ی صله ی ارحام برای خانواده ها چیست ؟</p>			
۱۵		<p>۱۵ - خانواده ها به چه روش هایی اعضای خانواده را اجتماعی می کنند . دو مورد</p>			
ادامه در صفحه بعد		۲		فصل دهم	

باسمه تعالی

مدت امتحان : ۷۰ دقیقه		ساعت شروع : ۸ صبح		سئوالات امتحان هماهنگ استانی درس: مطالعات اجتماعی	
تعداد صفحه : ۶		تاریخ امتحان : ۱۳۹۵/۳/۸		نام و نام خانوادگی :	
		اداره سنجش و ارزشیابی اداره کل آموزش و پرورش استان بوشهر		دوره اول متوسطه	
				پایه تحصیلی : نهم	
				دانش آموزان روزانه و داوطلبان آزاد سراسر استان نوبت خردادماه سال ۱۳۹۵	

<p>۱۵</p> <p>۱۲۵</p> <p>۱۲۵</p> <p>۱</p> <p>۱۵</p>	<p>۱۶ - مهم ترین رکن حکومت جمهوری اسلامی کدام گزینه ی زیر است . الف - رهبری ○ ب - قوه مقننه ○ ج - مجلس خبرگان ○ د - قوه مجریه ○</p> <p>۱۷ - عبارت صحیح و غلط را با علامت * مشخص کنید .</p> <p>الف - انتخاب وکیل مدافع مربوط به حق برخورداری از عدالت قانونی شهروندان است . صحیح ○ غلط ○</p> <p>ب - حمایت از تشکیل خانواده و پاسداری از روابط خانوادگی مربوط به حقوق فرهنگی شهروندان است . صحیح ○ غلط ○</p> <p>۱۸ - پرداخت مالیات و عوارض از تکالیف شهروندان محسوب می شود . این دو (مالیات - عوارض) چه تفاوتی با هم دارند ؟</p> <p>۱۹ - یکی از حقوق شهروندی ((حق مشارکت سیاسی)) است . با ذکر دو مثال این حق را توضیح دهید .</p>	<p>فصل یازدهم</p>
<p>۱۵</p> <p>۱۵</p> <p>۱</p> <p>۱۵</p>	<p>۲۰ - زوج جوانی قصد دارند جشن عروسی ساده ای با حداقل هزینه برپا کنند . اگر قرار باشد از شما کمک فکری بگیرند چه طرح یا پیشنهادی به آنها می دهید ؟ یک مورد</p> <p>۲۱ - راهکارهای مهم برای افزایش بهره وری در زندگی چیست ؟ یک مورد</p> <p>۲۲ - در آغاز سال نو رهبر انقلاب در فرمایشات نوروزی خود سال ۱۳۹۵ را ((سال اقتصاد مقاومتی ، اقدام و عمل)) نام گذاری کردند . اگر شما دانش آموزان بخواهید اقتصاد مقاومتی را برای دوستان خود توضیح دهید چه مطالبی را بیان می کنید .</p> <p>۲۳ - بهره وری سبز یعنی الف - افزایش تولید با هدف کیفیت مرغوبتر ○ ب - افزایش تولید با هدف کسب سود بیشتر ○ ج - افزایش تولید با حداقل هزینه مصرفی ○ د - افزایش تولید با حفظ محیط زیست ○</p> <p>ادامه در صفحه بعد</p>	<p>فصل دوازدهم</p>

سئوالات امتحان هماهنگ استانی درس: مطالعات اجتماعی		ساعت شروع : ۸ صبح		مدت امتحان : ۷۰ دقیقه	
نام و نام خانوادگی :		دوره اول متوسطه		پایه تحصیلی : نهم	
تعداد صفحات : ۶		تاریخ امتحان : ۱۳۹۵/۳/۸		اداره سنجش و ارزشیابی اداره کل آموزش و پرورش استان بوشهر	
دانش آموزان روزانه و داوطلبان آزاد سراسر استان نوبت خردادماه سال ۱۳۹۵					

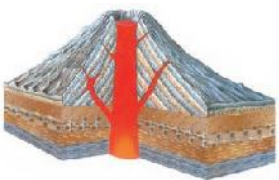
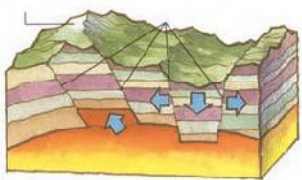
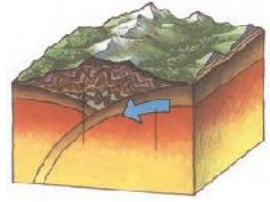
ردیف	(بخش اختیاری) دانش آموز عزیز لطفا در این بخش فقط دو فصل را انتخاب کنید و به سوالات همان دو فصل پاسخ دهید.	نمره
	۱- کدام گزینه ی زیر صحیح بیان شده است . الف - سیاره های درونی از گاز های مختلف تشکیل شده اند <input type="radio"/> ب - در سیاره های درونی ، تعداد قمرها بیشتر است <input type="radio"/> ج - سیاره های بیرونی سطح سنگی و جامد دارند <input type="radio"/> د - زمین جزء سیارات درونی محسوب می شود <input type="radio"/>	۱۵
	۲- اگر میانگین سرعت گردش زمین به دور خورشید در یک ثانیه ۳۰ کیلومتر باشد ، سرعت حرکت زمین به دور خورشید در یک ساعت چقدر است ؟	۱۵
	۳- عبارت صحیح و غلط را با علامت * مشخص کنید . الف - سال رسمی ۳۶۵ روز است که ۶ ساعت از سال خورشیدی کوتاه تر است . ب - پدید آمدن شبانه روز و فصل ها از نتایج حرکت وضعی زمین است . ج - صحیح <input type="radio"/> غلط <input type="radio"/> د - صحیح <input type="radio"/> غلط <input type="radio"/>	۲۵
	۴- در زندگی روزانه ساعت واقعی چه کاربردی دارد ؟ یک مورد	۱۵
	۵- با توجه به شکل مقابل موقعیت نقاط الف و ب (طول و عرض جغرافیایی) را بنویسید . الف : ب :	۱۵
		
	۶- در کدام یک از ناهمواری های کف اقیانوس ، نفت و گاز استخراج می شود . الف - ایوان خشکی <input type="radio"/> ب - شیب قاره <input type="radio"/> ج - گودال اقیانوسی <input type="radio"/> د - دشت اقیانوسی <input type="radio"/>	۱۵
	۷- پیشنهاد شما دانش آموزان ، برای حفاظت از اقیانوس ها (که یکی از منابع تامین غذای انسان است) چیست ؟ یک مورد	۱۵
	۸- چرا سفر به اعماق اقیانوس ها دشوارتر از صعود به قله ها است ؟ سه دلیل بیاورید .	۱۷۵
	ادامه در صفحه بعد	۴

فصل اول

فصل دوم

باسمه تعالی

سئوالات امتحان هماهنگ استانی درس: مطالعات اجتماعی		ساعت شروع: ۸ صبح	مدت امتحان: ۷۰ دقیقه
نام و نام خانوادگی:	دوره اول متوسطه	پایه تحصیلی: نهم	تاریخ امتحان: ۱۳۹۵/۳/۸
دانش آموزان روزانه و داوطلبان آزاد سراسر استان نوبت خردادماه سال ۱۳۹۵		اداره سنجش و ارزشیابی اداره کل آموزش و پرورش استان بوشهر	

۱۷۵	<p>۹- با کمک گرفتن از شکل‌ها و نامگذاری صحیح آن، عوامل درونی که سبب پیدایش ناهمواری‌ها می‌شود را مشخص نمایید.</p> <div style="display: flex; justify-content: space-around; align-items: center;">    </div> <p>(.....)</p>	فصل دوم
۱	<p>۱۰- جمله‌ی سمت راست را با گزینه‌ی صحیح آن در سمت چپ وصل کنید.</p> <p>الف - در این زیست بوم درختانی مانند سرو و کاج همیشه سبز و برگ ریزان ندارند. (بیابان)</p> <p>ب - در این زیست بوم دو فصل خشک و مرطوب وجود دارد و تنوع جانوری بسیار فراوان است. (تایگا)</p> <p>ج - این زیست بوم در مجاورت مدار راس السرطان و مدار راس الجدی واقع شده‌اند. (ساوان)</p> <p>د - این زیست بوم بیشترین تنوع زیستی جهان را دارد و بامبو یکی از گیاهان این ناحیه است. (توندرا)</p> <p>۱۱ - برزیل و اندونزی دو کشوری هستند که در آنها تخریب جنگل‌های استوایی بسیار گسترش یافته است. راهکار خردمندانه شما دانش آموزان برای حفاظت از این جنگل‌ها چیست؟ یک مورد</p> <p>۱۲ - کدام عناصر آب و هوایی بیشترین تاثیر را بر میزان پوشش گیاهی یک منطقه دارند؟ نام ببرید.</p> <p>۱۳ - در کشور کنیا شکار گسترده‌ی فیل صورت می‌گیرد و این امر سبب شده این گونه‌ی جانوری در خطر انقراض قرار گیرد. پیشنهاد شما دانش آموزان به مسئولین این کشور برای حفظ نسل این جانور چیست؟ یک مورد</p>	فصل سوم
۱	<p>۱۴ - میزان ثروت مادی و رشد اقتصادی کشورها را با چه معیارهایی اندازه‌گیری می‌کنند؟</p> <p>۱۵ - مهاجرت اختیاری چه تفاوتی با مهاجرت اجباری دارد؟ برای هر کدام یک مثال بزنید.</p> <p>۱۶ - به نظر شما دانش آموزان چرا قاره آفریقا بیشترین کشورهای دارای متوسط طول عمر پایین را دارد. دو دلیل بیاورید.</p> <p>۱۷ - امروزه برخی از کشورها با کاهش رشد جمعیت مواجه شده‌اند. پیشنهاد شما دانش آموزان به این دولت‌ها برای تشویق خانواده‌ها به فرزندآوری چیست؟ دو مورد</p>	فصل چهارم

باسمه تعالی

سئوالات امتحان هماهنگ استانی درس: مطالعات اجتماعی		ساعت شروع : ۸ صبح	مدت امتحان : ۷۰ دقیقه
نام و نام خانوادگی :	دوره اول متوسطه	پایه تحصیلی : نهم	تاریخ امتحان : ۱۳۹۵/۳/۸
دانش آموزان روزانه و داوطلبان آزاد سراسر استان نوبت خردادماه سال ۱۳۹۵		اداره سنجش و ارزشیابی اداره کل آموزش و پرورش استان بوشهر	

/۷۵	<p>۱۸- عبارت صحیح و غلط را با علامت * مشخص کنید .</p> <p>الف - در دوره صفوی بعد از شاه ،وزیر بزرگ قرار داشت که مسئول امور اداری ومالی بود . <input type="radio"/> صحیح <input type="radio"/> غلط</p> <p>ب - در دوره ی صفوی پادشاهان نسبت به علم تاریخ کم توجه بودند واین رشته رونق زیادی نداشت . <input type="radio"/> صحیح <input type="radio"/> غلط</p> <p>ج - شاه اسماعیل صفوی مذهب شیعه را در سراسر حکومت خود رسمی اعلام کرد . <input type="radio"/> صحیح <input type="radio"/> غلط</p> <p>۱۹- با ذکر سه دلیل علت گسترش ورونق تجارت داخلی وخارجی در دوره صفوی را بنویسید ؟</p> <p>۲۰- هدف سیاسی واقتصادی اروپاییان از ارتباط با ایران در دوره صفوی چه بود ؟</p> <p>سیاسی :</p> <p>اقتصادی:</p>	فصل پنجم
/۵	<p>۲۱- انگلستان در دوران کدام پادشاهان قاجار به خلیج فارس وجزایر وبنادر ایران لشکرکشی کرد .</p> <p>الف - محمد شاه - ناصرالدین شاه <input type="radio"/> ب - ناصرالدین شاه - محمد علی شاه <input type="radio"/> ج - محمدشاه - مظفرالدین شاه <input type="radio"/> د - ناصرالدین شاه - مظفرالدین شاه <input type="radio"/></p> <p>۲۲- چرا ناصرالدین شاه مجبور شد امتیاز تنباکو را که به شرکت انگلیسی واگذار کرده بود لغو کند . توضیح دهید ؟</p> <p>۲۳- هدف دولت انگلستان از جدا کردن افغانستان وبخش شرقی سیستان وبلوچستان از ایران چه بود ؟</p> <p>۲۴- من کیستم ؟</p>	فصل ششم
/۵	<div style="border: 1px solid black; padding: 10px; margin: 10px auto; width: 80%;"> <p>پس از برقرار کردن امنیت وآرامش ،اقدامات اصلاحی گسترده ای را برای نوسازی وکارآمدی تشکیلات حکومت ومبارزه با مفاسد اداری واقتصادی آغاز کردم ودر سیاست خارجی ،توجه ویژه ای به حفظ استقلال کشور داشتم و.....</p> </div> <p>(.....)</p>	
	<p>نمره با عدد : نام ونام خانوادگی دبیر :</p> <p>نمره با حروف : تاریخ وامضاء</p>	

موفق باشید

باسمه تعالی

مدت امتحان : ۷۰ دقیقه		ساعت شروع : ۸ صبح		سئوالات امتحان هماهنگ استانی درس: مطالعات اجتماعی	
تعداد صفحه : ۶	تاریخ امتحان : ۱۳۹۵/۳/۸	پایه تحصیلی : نهم	دوره اول متوسطه	نام و نام خواادگی :	
اداره سنجش و ارزشیابی اداره کل آموزش و پرورش استان بوشهر		دانش آموزان روزانه و داوطلبان آزاد سراسر استان نوبت خردادماه سال ۱۳۹۵			
(ادامه سئوالات در صفحه دوم)					