

آزمون نوبت اول ریاضی پایه اول



تاریخ:

آموزگار:

دبستان:

نام و نام خانوادگی:






زنبور سمت چپ گل را زرد کن.



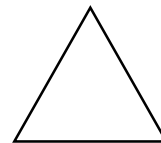
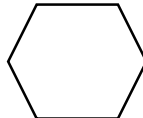

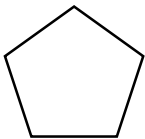
به تعداد شکل های سمت چپ از شکل های سمت راست را رنگ بزن.



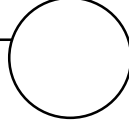
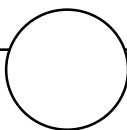
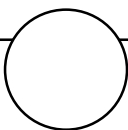



به تعداد شکل های هر قسمت چوب خط بکش.




کدام یک گوشه بیشتری دارد، آن را رنگ بزن.




عدد هر دسته را بنویس.




دور عدد مناسب خط بکش.




۳ ۵ ۴



۱ ۶ ۳



۶ ۵ ۲



۷ ۶ ۸

مربع شگفت انگیز را کامل کن.

۱		۳	۴	۵	۶
۴	۵		۳	۲	
۲	۴	۵		۱	۳
۳	۶			۴	۵
۵	۳		۱		۲
۶	۱	۲	۵	۳	



در جای خالی علامت مناسب <=> بگذار.

۴ ۸

۵ ۲

۸ ۸

۳ ۳

۸ ۷

۱ ۲

۶ ۵

۲ ۴

www.tarahisoal.ir

حاصل هر جمع را بنویس.

$۲ + ۱ =$

$۴ + ۲ =$

$۵ + ۱ =$

$۳ + ۳ =$

$۳ + ۲ =$

$۳ + ۱ =$

www.tarahisoal.ir

نظر آموزگار:.....
