



به نام خدا
پیش دبستانی و دبستان غیردولتی پسرانه سما
موضوع: آزمون هفتاد کاغذی ریاضی





زمان:

تاریخ:

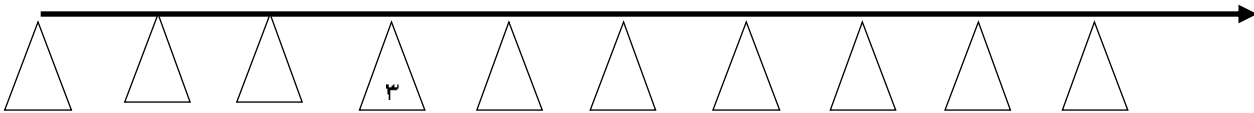
نام و نام خانوادگی:

نظر نهایی آموزگار:

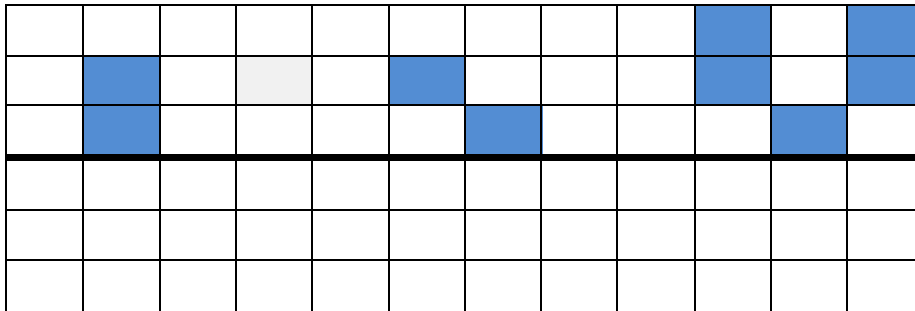
۱ عدد مربوط به هر دسته را بنویس.



۲ خانه های خالی را کامل کن.



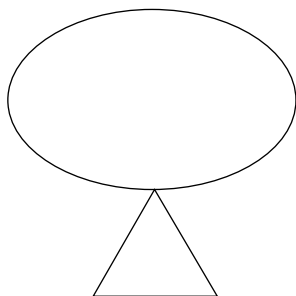
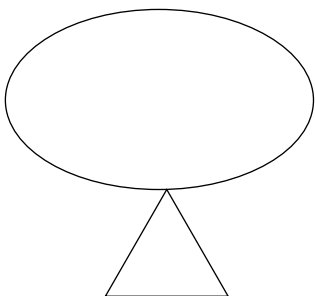
۳ شکل را به گونه ای کامل کن که هر دو طرف خط تقارن شبیه هم باشد.



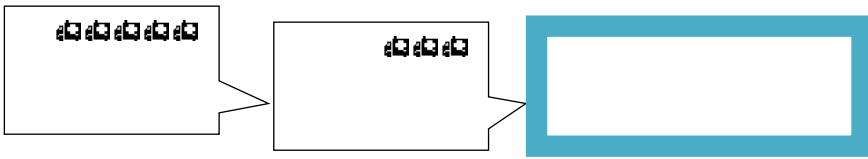
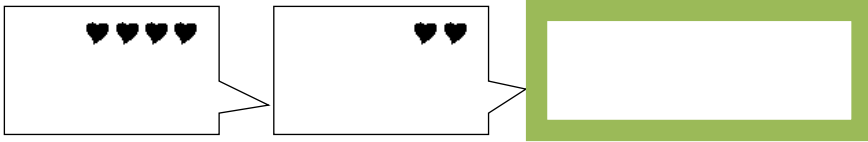
۴ جدول زیر را کامل کن.

	۳	۲	۴
۲		۱	
۴	۲		۱
۳		۴	۲

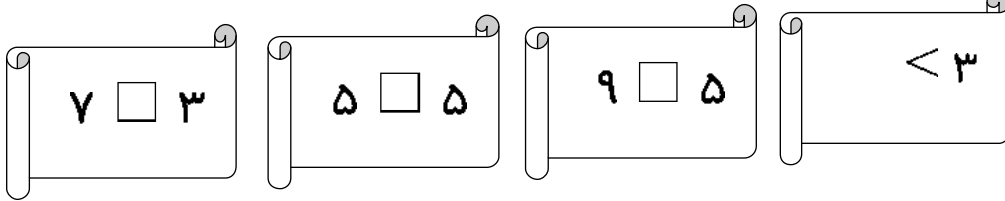
۵ شکل زیر را طوری کامل کن که عبارت نوشته شده درست باشد.



شکل های سمت راست و چپ را با هم جمع و برای آن چوب خط بکش.



جاهای خالی را با عدد یا علامت مناسب پر کن.

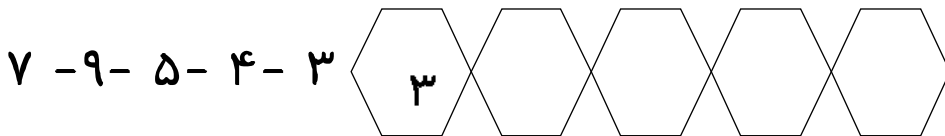


شکل زیر را مطابق الگوی داده شده با شابلون ادامه بده.



جدول زیر را کامل کن.

اعداد زیر را به ترتیب از کوچک به بزرگ مرتب کن.



اعداد زیر را به ترتیب با خط کش و مدادهای رنگی به همدیگر وصل کن.

۷

۸

۹

۱۰

۱۱

۱۲

