

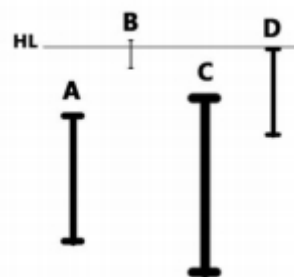
خودسنجی ۳۳ اش

زهرا جوکار: مدرس، مشاور و برنامه ریز کنکور هنر

۱- یک شی به سرعت ثابت روی محور اصلی یک آینه محدب از آن دور می شود. تصویر آن چگونه حرکت می کند؟

- ۱- با سرعت ثابت از آینه دور می شود. ۲- با سرعت ثابت به آینه نزدیک می شود.
۳- با سرعت کندشونده از آینه دور می شود. ۴- با سرعت کندشونده به آینه نزدیک می شود.

۲- اگر تمامی میله ها روی زمین قرار داشته باشند، کدام میله از همه بلند تر است؟



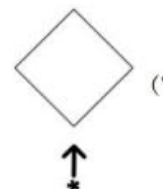
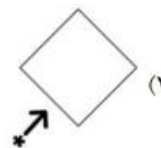
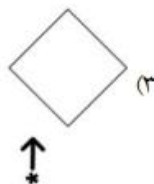
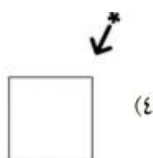
D-۴

C-۳

B-۲

A-۱

۳- با توجه به پرسپکتیو داده شده، نمای افقی صحیح ناظر و حجم کدام است؟



۴- وجه اشتراک دو پوستر مقابل چیست؟



۲- ساده سازی طرح

۱- اغراق در اندازه

۴- تضاد شکل و زمینه

۳- استفاده از ریتم افقی

۵- نام کدام قهرمان افسان های و ملی ایران، در سوگنامه "یادگار زیران" آمده است؟

۴- شغاد

۳- زال

۲- اسفندیار

۱- رستم

۶- در اسطوره های ایرانی نژاد ایرانیان از کدام فرد به وجود آمده است؟

۴- کیومرث

۳- رستم

۲- جمشید

۱- فریدون

۷- کدام یک از ویژگی های سینمایی "آنتونیونی" است؟

۱- نئورئالیست غنایی - عرفانی - تخیلی و ایهام

۲- خشونت - تدوین پرتحرک - طنز

۳- نمایش سکوت و خال - توجه به اشیا صحنه - پایان باز

۴- توجه به توده ها به عنوان قهرمان - شکار بی خبر زندگی

۸- کوک سیم های قیچک آلتو به ترتیب از بم به زیر کدام است؟

۲ - می - لا - می - لا

۱- می - لا - ر - سل

۳ - لا - ر - سل - دو

۴) دو - سل - ر - لا

۹- کدام ساز دارای ۱۰ سیم جفتی است که دو به دو با هم کوک می شوند؟

۱-عود

۲-قانون

۳-سنتور

۴-رباب

۱۰- کدام چسب در آب و آمونیاک حل می شود؟

۱-گلوتن

۲-باکلیت

۳-سرتوس

۴-پلی وینیل الکل