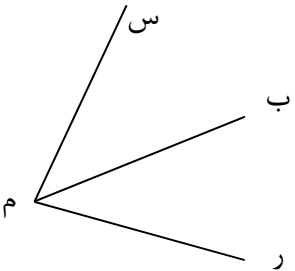
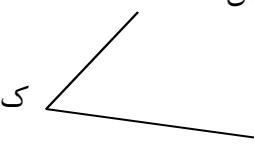
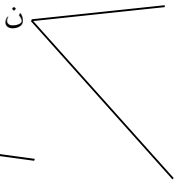
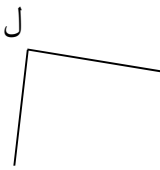

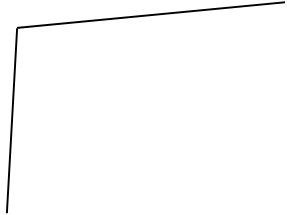
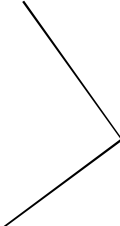
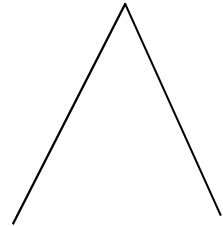


آزمون ریاضی پایه چهارم (فصل چهارم) دبستان گلستان

نام و نام خانوادگی :

شماره کلاسی :

تاریخ آزمون :

سوالات	ردیف
<p>به زاویه هایی که از زاویه ی راست کوچک تر باشند ، و به زاویه های بزرگ تر از زاویه ی راست می گویند .</p>	۱
<p>در شکل زیر چند زاویه وجود دارد ؟ آن ها را نام ببرید :</p> 	۲
<p>زاویه های زیر را با هم مقایسه کنید و علامت (< = >) بگذارید .</p> <div style="display: flex; justify-content: space-around; align-items: flex-start;"> <div style="text-align: center;">  <p>زاویه « ک » <input type="radio"/></p> </div> <div style="text-align: center;">  <p>زاویه « ن » <input type="radio"/></p> </div> </div> <div style="display: flex; justify-content: space-around; align-items: flex-start; margin-top: 20px;"> <div style="text-align: center;">  <p>زاویه « ل » <input type="radio"/></p> </div> <div style="text-align: center;">  <p>زاویه « ش » <input type="radio"/></p> </div> </div>	۳
<p>زاویه های زیر را با نقاله اندازه بگیرید .</p> <div style="display: flex; justify-content: space-around; align-items: center;">    </div>	۴
<p>زاویه های ۴۵ و ۸۰ و ۱۳۵ درجه را رسم کنید .</p>	۵