

بسمه تعالی

نام و نام خانوادگی: آزمون مداد کاغذی جغرافی تا آخر درس ۷
کلاس پنجم - خانم خدابخشی دبستان غیر انتفاعی دخترانه کیهانه

تاریخ: نامیده می شود.
زمان: می گویند.

دخترم امتحان را با نام و یاد خدا آغاز کن

۱- جاهای خالی را با کلمات مناسب پر کنید.

- الف) بزرگترین و پر جمعیت ترین شهر هر استان نامیده می شود.
ب) کشور ایران دارای استان است.
پ) به مجموعه افرادی که در یک جا زندگی می کنند می گویند.
ت) و و پر جمعیت ترین شهر های ایران در کوهپایه ها هستند.
ث) دامپروری کار اصلی و است.
ج) و از صنایع مادر هستند.
چ) پایتخت کشور ترکمنستان شهر است.
ح) ترکمنستان دارای منابع و است.
خ) بیابان وسیع ترکمنستان نام دارد.

۲- به سوالات زیر پاسخ کوتاه بدهید.

- الف) اصفهان در نزدیکی کدام دشت قرار دارد؟
ب) مهاجرت یعنی چه ؟
ت) انسان غذای خود را از چه چیز هایی به دست می آورد؟
ث) مهم ترین محصولات کشاورزی ایران را نام ببرید؟
ج) بیشترین برنج ایران در کدام استان ها کشت می شود؟ نام ببرید
چ) کدام نواحی ایران برای کشت دیم مناسب نیستند؟ چرا؟
ح) مهم ترین پالایشگاه ایران چه نام دارد؟

۳- به سوالات زیر با دقت پاسخ دهید.

الف) صنایع مصرفی را تعریف کنید و چند کارخانه مصرفی را نام ببرید؟

ب) اولین کارخانه ذوب آهن در کجا قرار دارد و این کارخانه سنگ آهن مورد نیاز خود را از کجا استخراج می کند؟

ت) وظیفه کارخانه پتروشیمی چیست؟

ث) نام رود مهم ترکمنستان چیست و از کجا سرچشمه می گیرد و به کجا می ریزد؟

ج) در مورد وضع اقتصادی کشور ترکمنستان توضیح دهید؟




دختر گلم با توجه به نقشه ایران به سوالات زیر پاسخ دهید.

الف) همسایگان کشور ایران را نام ببرید؟


ب) در شمال و جنوب ایران چه دریاهایی قرار دارند؟

ج) کشور ما تقریباً ۲ برابر کدام کشور ها وسعت دارد؟


نیاز به تلاش بیشتر




قابل قبول



خوب



خیلی خوب



باز خورد معلم:

باز خورد والدین:

موفق باشید