

### ۱- درستی یا نادرستی جملات زیر را مشخص کنید.

- (۱) خداوند همدلی و انسان دوستی را در سرشت انسان ها قرار داده است.  
(۲) در جامعه ی امروز همدلی و همیاری شکل های جدیدی پیدا کرده است.  
(۳) امدادگران هلال احمر در هنگام وقوع حوادث به مجروحین کمک های اولیه می رسانند.  
(۴) ما فقط در حوادث بزرگ به یاری دیگران می پردازیم.  
(۵) همیاری یعنی پس از درک احساس فرد حادثه دیده، به کمک او بشتابیم.  
(۶) جمعیت هلال احمر بخشی به نام سازمان جوانان احمر دارد.

### ۲- جاهای خالی را با واژگان مناسب پر کنید.

- (۱) سازمان جوانان هلال احمر بخشی از ..... می باشد.  
(۲) امروزه با گسترش ..... و ..... همه به سرعت می توانند از اخبار حوادث آگاه شوند.  
(۳) وقتی ما خود را به جای فرد حادثه دیده بگذاریم در واقع با او ..... کرده ایم.  
(۴) ..... هیچ گاه خبر نمی کند!  
(۵) خداوند ..... و ..... را در سرشت ما انسان ها قرار داده است.

### ۳- بهترین گزینه به صورت ■ پر شود.

(۱) مفهوم این جمله که «پس از درک احساس فرد حادثه دیده به کمک او بشتابیم» چیست؟

- الف) همدلی  ب) یاری رساندن  ج) همیاری  د) موارد ب و ج

(۲) مفهوم این جمله که «خود را به جای فردی که دچار حادثه شده بگذاریم و احساسات و شرایط او را درک کنیم» چیست؟

- الف) همدلی  ب) یاری رساندن  ج) همیاری  د) موارد ب و ج

(۳) جمعیت هلال احمر در شرایط عادی در چه زمینه ای تلاش می کنند؟

- الف) دادن کمک های اولیه به مجروحین  ب) صلح و دوستی  ج) حفظ محیط زیست  د) موارد ب و ج

(۴) امروزه چه عاملی موجب انتقال سریع اخبار و حوادث در مناطق مختلف شده است؟

- الف) افزایش جمعیت  ب) افزایش سازمان ها  ج) گسترش شهرنشینی  د) گسترش وسایل ارتباطی

(۵) کدام مورد از وظایف هلال احمر نیست؟ الف) حفظ پاکیزگی  ب) کمک کردن به صلح جهانی

پ) جمع آوری کمک های مردمی  ت) دادن کمک های اولیه به مجروحین

(۶) بیت «چو عضوی به درد آورد روزگار / دگر عضوها را نماند قرار» بیانگر کدام مفهوم است؟

- الف) همدلی  ب) از خود گذشتگی  ج) همکاری  د) احساس مسئولیت

(۷) کدام یک از نهادهای زیر در کشورمان زمان وقوع حوادث و بلایای طبیعی به یاری مردم می شتابند؟

- الف) سازمان محیط زیست  ب) سازمان جنگل ها و مراتع  ج) جمعیت هلال احمر  د) سازمان صلیب سرخ

(۸) سازمان هلال احمر برای رفع نیاز ..... به وجود آمده است.

- الف) همدلی و همیاری  ب) ارتباطی  ج) معیشتی  د) نظم و امنیت

(۹) ندای امداد برای کمک به حادثه دیدگان کوهستان و جاده مربوط به کدام مؤسسه است و تلفن آن چیست؟

- الف) هلال احمر ۱۱۵  ب) اورژانس ۱۱۵  ج) هلال احمر ۱۱۲  د) آتش نشانی ۱۱۲

\* ادامه ی نمونه آزمون برای -درس پنجم(محیط زندگی خود را بشناسیم) مطالعات اجتماعی هفتم دبیر مطالعات اجتماعی(طاهره مسجدی)

۱۰) صلیب سرخ جهانی در کشورهای اسلامی با چه نامی فعالیت می کند؟

الف) کمیته بین المللی  ب) جمعیت هلال احمر  پ) سازمان جوانان  ت) ندای امداد

۱۱) این جمله از کیست؟ «هر کس اندوهی را از مؤمنی برطرف کند خداوند در روز قیامت اندوهش را برطرف خواهد کرد»

الف) امام علی(ع)  ب) امام حسین(ع)  پ) حضرت محمد(ص)  ت) امام رضا(ع)

۱۲) در جامعه ی امروز، همیاری و همدلی، شکل های جدیدی پیدا کرده و ..... مختلفی برای این امور پدید آمده اند.

الف) مؤسسات  ب) ادارات  پ) دانشگاه  ت) وزارتخانه ها

۱۳) کدام مؤسسه در زمان وقوع حوادث طبیعی یا جنگ ها به کمک مردم می شتابد؟

الف) بهزیستی  ب) جمعیت هلال احمر  پ) کمیته امداد  ت) تأمین اجتماعی

۱۴) در حوادث کوهستان و جاده و سیل و آوار و ... با گرفتن کدام شماره امدادگران هلال احمر به یاری ما می شتابند؟

الف) ۱۴۷  ب) ۱۱۵  پ) ۱۲۵  ت) ۱۱۲

#### ۴- رابطه ی بین گزینه های زیر را پیدا کنید و با خط به یکدیگر وصل کنید.

۱) گسترش وسایل ارتباطی  همدلی

۲) تلاش برای صلح و دوستی  اخبار سریع حوادث

۳) درک احساس فرد حادثه دیده  هلال احمر

#### ۵- به پرشی های زیر پاسخ دهید.

۱) حادثه هیچ گاه خبر نمی کند یعنی چه؟

۲) با وقوع حوادث چه مشکلاتی برای مردم به وجود می آید؟

۳) همدلی را تعریف کنید. (همدلی یعنی چه؟)

۴) خداوند در قرآن درباره ی همدلی و انسان دوستی چه می فرماید؟

۵) در چه مواقعی باید همدلی و همیاری کرد؟

۶) امام رضا(ع) درباره ی برطرف کردن اندوه مؤمنان(همدلی و همیاری) چه می فرماید؟

۷) کدام مؤسسات اجتماعی در حوادث به ما کمک می کنند؟ (شش مورد)

۸) جمعیت هلال احمر چگونه سازمانی(مؤسسه ای) است؟

۹) آیا در هنگام حوادث فقط به یاری هموطنان خود می شتابیم؟ توضیح دهید.

\* ادامه ی نمونه آزمون برای ← درس پنجم (محیط زندگی خود را بشناسیم) مطالعات اجتماعی هفتم دبیر مطالعات اجتماعی (طاهره مسجدی)

۱۰) فرض کنید از شما خواسته اند دو گروه برای کمک به آسیب دیدگان زلزله تشکیل دهید. یک گروه به منطقه ای اعزام می شوند و گروه دیگر باید از همان محل زندگی خود به زلزله زدگان کمک کنند. گروه اول بگویند قبل از رفتن چه آموزش هایی باید ببینند؟

۱۱) سازمان جوانان هلال احمر از چه کسانی تشکیل شده است؟

۱۲) شماره تلفن ندای امداد چیست؟

۱۳) آیا همدلی و همیاری فقط در حوادث بزرگ اتفاق می افتد؟ مثال بزنید.

۱۴) امروزه گسترش وسایل ارتباطی و حمل و نقل چه نقشی در همدلی و همیاری دارند؟

۱۵) جمعیت هلال احمر چه وظایفی بر عهده دارند؟ چهار مورد (جمعیت هلال احمر در هنگام حوادث چه کارهایی انجام می دهد؟)

۱۶) نمونه هایی از روحیه ی همدلی و همیاری مردم ایران را بیان کنید.

۱۷) همیاری یعنی چه؟

۱۸) چرا در هنگام وقوع حوادث با همنوعان، همدلی می کنیم؟

۱۹) در حوادث کوهستان و جاده و سیل و آوار و ... با گرفتن کدام شماره امدادگران هلال احمر به یاری ما می شتابند؟

۲۰) این شعر از کیست؟ معنای شعر را توضیح دهید.

۱- بنی آدم اعضای یک پیکرند/ که در آفرینش ز یک گوهرند ←

۲- چو عضوی به درد آورد روزگار/ دگر عضوها را نماند قرار ←

۳- تو کز محنت دیگران بی غمی/ نشاید که نامت نهند آدمی ←

۲۱) علامت مقابل بیانگر (نشانگر) کدام مؤسسه است؟ دو سطر (خط) درباره ی آن توضیح دهید.



۲۲) علامت مقابل بیانگر (نشانگر) کدام مؤسسه است؟ دو سطر (خط) درباره ی آن توضیح دهید



## ۱- درستی یا نادرستی جملات زیر را مشخص کنید.

- ۱) مؤسسه ی بیمه در قبال دریافت حق بیمه، خسارت های ناشی از حوادث معینی را جبران می کند.
- ۲) داشتن دفترچه ی بیمه درمان مربوط به بیمه از کارافتادگی می باشد.
- ۳) بیمه ی ایران قوانین را برای مؤسسات بیمه تدوین می کند. \* تدوین یعنی تهیه، گردآوری جمع کردن
- ۴) در آخر سال تحصیلی، والدین شما پولی را به مدرسه بابت بیمه ی دانش آموزی می پردازند.
- ۵) کلیه ی مؤسسات بیمه، زیر نظر بیمه ی مرکزی جمهوری اسلامی ایران فعالیت می کنند.
- ۶) شما بیمه شونده هستید و مؤسسه ای که شما را بیمه کرده است، بیمه گر نامیده می شود.
- ۷) استاندارد یعنی یک قرارداد بین بیمه گر (بیمه کننده) و بیمه شونده (بیمه گذار یا بیمه شده)
- ۸) بیمه گر همان بیمه کننده یا مؤسسه ای است که شما را بیمه کرده است.
- ۹) بیمه شونده همان فرد بیمه شده یا بیمه گذار است یعنی شما بیمه شونده هستید.
- ۱۰) در یک قرارداد بیمه، مؤسسه بیمه گر، تعهد می کند در قبال دریافت حق بیمه از بیمه شونده، خسارت های ناشی از حوادث معینی را جبران کند.

## ۲- جاهای خالی را با واژگان مناسب پر کنید.

- ۱) مؤسسات بیمه زیر نظر ..... فعالیت می کند.
- ۲) بیمه یک قرارداد بین ..... و ..... است.
- ۳) کلیه ی سازمان ها و صاحبان شرکت ها و کارخانه ها باید کارمندان و کارگران خود را در مقابل ..... بیمه کنند.
- ۴) مؤسسه ی بیمه برای جبران زیان های ..... و ..... به وجود آمده است.
- ۵) شما ..... هستید و مؤسسه ای که شما را بیمه کرده است، ..... نامیده می شود.
- ۶) کلیه ی مؤسسات بیمه زیر نظر ..... جمهوری اسلامی ایران فعالیت می کنند.
- ۷) در یک قرارداد بیمه، مؤسسه بیمه گر، تعهد می کند ..... از بیمه شونده، خسارت های ناشی از حوادث معینی را جبران کند.

## ۳- بهترین گزینه به صورت ■ پر شود.

- ۱) طبق قانون، افراد باید این بیمه را انجام دهند.
 

الف) بیمه اجباری <input type="checkbox"/>	ب) بیمه اختیاری <input type="checkbox"/>	پ) بیمه بیکاری <input type="checkbox"/>	ت) بیمه درمان <input type="checkbox"/>
---	--	---	--
- ۲) مؤسسه ای که شما را بیمه کرده است چه نامیده می شود؟
 

الف) بیمه گر <input type="checkbox"/>	ب) بیمه گذار <input type="checkbox"/>	پ) بیمه شونده <input type="checkbox"/>	ت) بیمه مرکزی <input type="checkbox"/>
---------------------------------------	---------------------------------------	--	--
- ۳) کدام یک از بیمه های زیر، جزء بیمه های اجباری است؟
 

الف) بیمه منازل مسکونی <input type="checkbox"/>	ب) بیمه آتش سوزی <input type="checkbox"/>	پ) بیمه بیکاری <input type="checkbox"/>	ت) بیمه شخص ثالث <input type="checkbox"/>
---	---	---	---
- ۴) بیمه روستائیان جزء کدام بیمه است؟
 

الف) بیمه اجباری <input type="checkbox"/>	ب) بیمه اختیاری <input type="checkbox"/>	پ) بیمه مرکزی <input type="checkbox"/>	ت) بیمه درمان <input type="checkbox"/>
---	--	--	--
- ۵) در داستان پیرمرد نصرانی (مسیحی) و امام علی (ع) به کدام نوع بیمه اشاره شده است؟
 

الف) بیمه بهداشت و درمان <input type="checkbox"/>	ب) بیمه عمر <input type="checkbox"/>	پ) بیمه از کار افتادگی <input type="checkbox"/>	ت) بیمه شخص ثالث <input type="checkbox"/>
---	--------------------------------------	---	---

**\* ادامه ی نمونه آزمون برای ← درس ششم (بیمه و مقابله با حوادث) مطالعات اجتماعی هفتم دبیر مطالعات اجتماعی (طاهره مسجدی)**

۶) طبق قانون کلیه ی سازمان ها و شرکت ها و کارفرمایان باید همه ی کارمندان و کارگران خود را در مقابل چه رویدادهایی بیمه کنند؟

الف) بیماری  ب) از کار افتادگی  پ) آتش سوزی  ت) حوادث ناشی از کار

۷) این مؤسسه برای جبران زیان های مالی و جانی به وجود آمده است.

الف) جمعیت هلال احمر  ب) بانک  پ) بیمه  ت) جوانان هلال احمر

۸) قرارداد بین بیمه گر و بیمه شونده را چه می گویند؟

الف) بیمه  ب) بیمه گذار  پ) بیمه اختیاری  ت) بیمه اجباری

۹) در کشور مؤسسات بیمه زیر نظر چه جایگاهی فعالیت می کنند؟

الف) هلال احمر  ب) صلیب سرخ  پ) بهداشت و درمان  ت) بیمه مرکزی

۱۰) داشتن دفترچه ی بیمه ی درمان، مربوط به کدام یک از انواع بیمه هاست؟

الف) بیمه ی عمر  ب) بیمه ی بیکاری  پ) بیمه ی از کار افتادگی  ت) بیمه ی بهداشت و درمان

**۴- رابطه ی بین گزینه های زیر را پیدا کنید و با خط به یکدیگر وصل کنید.**

- |   |                                       |
|---|---------------------------------------|
| ۱) بیمه شخص ثالث <input type="checkbox"/>                             | <input type="checkbox"/> بیمه مرکزی   |
| ۲) بیمه آتش سوزی <input type="checkbox"/>                             | <input type="checkbox"/> بیمه         |
| ۳) قرارداد بین بیمه گر و بیمه گذار <input type="checkbox"/>           | <input type="checkbox"/> بیمه اجباری  |
| ۴) تدوین کننده ی قوانین و مقررات مؤسسات بیمه <input type="checkbox"/> | <input type="checkbox"/> بیمه اختیاری |

**۵- به پرسش های زیر پاسخ دهید.**

۱) بیمه ی حوادث دانش آموزی چیست؟

۲) فایده ی بیمه ی دانش آموزی چیست؟ (بیمه ی دانش آموزی چه فایده ای دارد؟)

۳) منظور از بیمه شونده (بیمه گذار) و بیمه گر چیست؟ (بیمه گر و بیمه شونده یعنی چه؟)

۴) مؤسسه بیمه به چه منظوری به وجود آمده است؟

۵) بیمه چیست؟

۶) چه جایگاهی قوانین و مقررات لازم را برای مؤسسات بیمه تدوین می کند؟

۷) به چه منظور، بیمه مرکزی بر مؤسسات بیمه نظارت می کند؟

۸) انواع بیمه را نام ببرید، تعریف کنید و مثال بزنید.

۹) اعضای خانواده ی شما از کدام بیمه ها استفاده می کنند این بیمه ها چه فوایدی دارند؟

۱۰) اعضای خانواده ی شما تحت پوشش چه نوع بیمه هایی نیستند؟ چرا؟

(۱۱) انواع بیمه ها از نظر ارائه ی خدمات کدامند؟

(۱۲) سازمان تأمین اجتماعی چگونه می تواند هزینه ی انواع بیمه ها را بپردازد و تأمین کند؟

(۱۳) اگر بیمه نباشید در زندگی ما چه مشکلاتی به وجود می آید؟

(۱۴) دو نمونه از قوانین مربوط به بیمه را بیان کنید.

(۱۵) دفترچه بیمه درمان مربوط به کدام نوع بیمه است؟ توضیح دهید.

(۱۶) آیا پرداخت حق بیمه و بیمه شدن همه ی افراد موجب رفاه و آسایش برای همگان می شود؟ چرا؟

(۱۷) چرا افراد خودشان را بیمه می کنند؟

(۱۸) در یک قرارداد بیمه، بیمه گر و بیمه شونده هر کدام چه چیزی را بر عهده می گیرند؟ بیان کنید.

بیمه گر متعهد می شود ..... بیمه شونده متعهد می شود .....

(۱۹) وظیفه ی بیمه ی مرکزی چیست؟

(۲۰) چرا همه ی دارندگان وسایل نقلیه ی موتوری، باید سالیانه خودروی خود را برای حوادث جانی و مالی ناشی از تصادف بیمه کنند؟

(۲۱) در چه مواردی از دفترچه بیمه بهداشت و درمان استفاده می کنید؟

(۲۲) خانواده ها برای جبران خسارت های ناشی از حوادث احتمالی چون زلزله، سیل و آتش سوزی در محل زندگی خود بهتر است چه اقدامی انجام دهند؟

(۲۳) علامت مقابل بیانگر(نشانگر) کدام مؤسسه است؟ یک سطر(خط) درباره ی آن توضیح دهید.



۶- جدول(کامل کردن جدول) حرف های واژه ی مورد نظر را در جای مشخص شده در جدول بنویسید.

--	--	--	--	--	--	--	--

(۱) بیمه کارگران و کارمندان جزء این بیمه ها است.

--	--	--	--	--	--	--	--

(۲) دانش آموزان در ابتدای هر سال تحصیلی تحت پوشش این بیمه قرار می گیرند.

--	--	--	--

(۳) نام یکی از بیمه ها از نظر ارائه ی خدمات می باشد.

--	--	--	--	--	--	--	--

(۴) مبلغی که به عنوان کمک هزینه به فرد نیازمند پرداخت می شود.

## ۱- درستی یا نادرستی جملات زیر را مشخص کنید.

- ۱) مسجد جامع، دروازه ی ارگ و بازار از دیدنی های شهر سمنان است.
- ۲) گره ی جغرافیایی محل دقیق پدیده ها را بهتر نشان می دهد.
- ۳) عکس های معمولی با دوربین هایی که در هواپیما نصب شده اند گرفته می شود.
- ۴) جغرافی دانان از ابزار و وسایل مختلفی برای شناخت محیط استفاده می کنند.

## ۲- جاهای خالی را با واژگان مناسب پر کنید.

- ۱) از طریق وارد شدن به ..... می توان اطلاعات را به صورت متن، تصویر و فیلم به دست آورد.
- ۲) از عکس های ..... برای تهیه ی نقشه های جغرافیایی استفاده می شوند.
- ۳) چند شهر مهم از استان ..... عبارتند از: شاهرود، دامغان، سرخه، گرمسار، مهدیشهر و شهر ..... مرکز این استان است.
- ۴) روستای سامان در استان ..... واقع شده است.
- ۵) مهمترین محصولات کشاورزی روستای سامان عبارت است از: غلات، انگور، ..... و .....
- ۶) عکس های ..... با دوربین از مناظر طبیعی، شهرها، خانه ها و فعالیت های انسانی گرفته می شود.
- ۷) عکس ها نیز وسیله ی مهمی برای ..... و شناخت ..... هستند.

## ۳- بهترین گزینه به صورت ■ پر شود.

- ۱) «فعالیت های اقتصادی» مربوط به کدام یک از ویژگی های زیر است؟  
 (الف) طبیعی  (ب) سیاسی  (پ) اجتماعی  (ت) انسانی
- ۲) تصویر افقی از سطح زمین که به نسبت مورد نیاز کوچک شده است.  
 (الف) گره ی جغرافیایی  (ب) نقشه  (پ) مقیاس  (ت) اطلس
- ۳) با استفاده از آن می توانیم فاصله ی واقعی مکان ها را روی زمین محاسبه کنیم.  
 (الف) نقشه  (ب) اطلس  (پ) مقیاس خطی  (ت) رایانه
- ۴) از کدام مورد زیر برای تهیه ی نقش های جغرافیایی استفاده می شود؟  
 (الف) فرهنگ نامه جغرافیایی  (ب) گره ی جغرافیایی  (پ) عکس هوایی  (ت) عکس معمولی
- ۵) مقیاس خطی یک نقشه برابر با یک صد هزارم است. اگر فاصله ی دو نقطه روی نقشه ۳ سانتی متر باشد. فاصله ی واقعی آن ها روی زمین چند کیلومتر است؟ (الف) ۳  (ب) ۰/۳  (پ) ۳۰  (ت) ۳۰۰
- ۶) موقعیت جغرافیایی، نوع آب و هوا و ... جزء کدام ویژگی مکان ها هستند؟  
 (الف) طبیعی  (ب) انسانی  (پ) فرهنگی  (ت) سیاسی
- ۷) مهمترین عناصر آب و هوا کدام اند؟  
 (الف) ارتفاع، دما  (ب) دوری از دریا، ارتفاع  (پ) دما، بارش  (ت) بارش، ارتفاع
- ۸) به مجموعه ای از نقشه ها که در یک کتاب جمع آوری شده باشد ..... می گویند.  
 (الف) نقشه  (ب) گره ی جغرافیایی  (پ) اطلس  (ت) مقیاس خطی
- ۹) نمونه ی کوچکی از کره ی زمین است که می توان شکل واقعی بخش های مختلف سیاره ی زمین را روی آن مشاهده کرد.  
 (الف) نقشه  (ب) کره جغرافیایی  (پ) عکس  (ت) فرهنگ نامه

**\* نمونه آزمون برای - درس نهم (من گجا زندگی می کنم؟) مطالعات اجتماعی هفتم دبیر مطالعات اجتماعی (طاهره مسجدی)**

۱۰) محل دقیق پدیده های طبیعی مانند کوه، رود، جنگل و پدیده های انسانی مثل راه ها، پل ها، سدها و ... را نشان می دهد.

الف) نقشه  ب) کره جغرافیایی  پ) عکس ها  ت) کتاب ها و فرهنگ نامه ها

۱۱) در کدام نوع زندگی، افراد با دام هایشان برای یافتن چراگاه مناسب از جایی به جای دیگر کوچ می کنند؟

الف) زندگی عشایری  ب) زندگی شهری  پ) زندگی روستایی  ت) هیچ کدام

۱۲) برای تهیه ی نقشه ی جغرافیایی، از کدام یک از عکس های زیر استفاده می شود؟

الف) معمولی  ب) هوایی  پ) ماهواره ای  ت) دیجیتالی

۱۳) کدام مورد مربوط به ویژگی های «طبیعی» نیست؟

الف) موقعیت جغرافیایی - نوع آب و هوا  ب) ناهمواری ها - رودها   
پ) پوشش گیاهی - زندگی جانوری  ت) فعالیت های اقتصادی - تعداد جمعیت

۱۴) کدام مورد مربوط به ویژگی های «انسانی» نیست؟

الف) تعداد جمعیت - آثار تاریخی  ب) فعالیت های اقتصادی  پ) سواد - زبان  ت) موقعیت جغرافیایی

۱۵) کدام مورد مربوط به ویژگی های «طبیعی» است؟

الف) نوع آب و هوا  ب) فعالیت های اقتصادی  پ) سواد - زبان  ت) تعداد جمعیت

۱۶) کدام مورد مربوط به ویژگی های «انسانی» است؟

الف) موقعیت جغرافیایی  ب) ناهمواری ها  پ) پوشش گیاهی  ت) آثار تاریخی

۱۷) کدام مورد مربوط به ویژگی های «انسانی» است؟

الف) زندگی جانوری  ب) رودها  پ) ناهمواری ها  ت) سواد - زبان

۱۸) کدام مورد مربوط به ویژگی های «طبیعی» است؟

الف) تعداد جمعیت  ب) فعالیت های اقتصادی  پ) آثار تاریخی  ت) پوشش گیاهی

۱۹) عکس هایی که با دوربین از مناظر طبیعی، شهرها، خانه ها و فعالیت های انسانی گرفته می شود، چه نوع عکس هایی هستند؟

الف) عکس های معمولی  ب) عکس های هوایی  پ) تصاویر ماهواره ای  ت) عکس های اینترنتی

۲۰) از کدام عکس ها برای تهیه ی نقشه های جغرافیایی استفاده می شود؟

الف) عکس های معمولی  ب) عکس های هوایی  پ) تصاویر ماهواره ای  ت) عکس های اینترنتی

۲۱) ..... این نوع عکس ها با دوربین هایی که از هواپیما نصب می شود گرفته می شوند.

الف) عکس های معمولی  ب) عکس های هوایی  پ) تصاویر ماهواره ای  ت) عکس های اینترنتی

۲۲) کدام عکس ها توسط ماهواره ها تهیه و به زمین فرستاده می شود؟

الف) عکس های معمولی  ب) عکس های هوایی  پ) تصاویر ماهواره ای  ت) عکس های اینترنتی

۲۳) با مطالعه ی کدام وسایل، می توانیم با مکان های مختلف و شیوه های زندگی مردم در این مکان آشنا شویم؟

الف) نقشه  ب) عکس  پ) کتاب ها و فرهنگ نامه ها  ت) کره ی جغرافیایی

۲۴) امروزه از طریق ..... می توان اطلاعات را به صورت متن، تصویر، نقشه و حتی فیلم به دست آورد.

الف) وارد شدن به پایگاه های اینترنتی  ب) عکس  پ) کتاب ها و فرهنگ نامه ها  ت) کره ی جغرافیایی

۲۵) مجوزی که افراد برای ساختن خانه یا هر بنای دیگر باید از شهرداری بگیرند تا بر طبق اصول و مقررات لازم ساختمان را بسازند.

الف) پروانه ی ساختمان  ب) موقعیت جغرافیایی  پ) قبض عوارض نوسازی  ت) فرهنگ سرا



**۴- رابطه ی بین گزینه های زیر را پیدا کنید و با خط به یکدیگر وصل کنید.**

- |                     |                    |
|---------------------|--------------------|
| □ پوشش گیاهی        | □ ویژگی های انسانی |
| □ آثار تاریخی       | □ ویژگی های طبیعی  |
| □ شکل واقعی مکان ها | □ نقشه             |
| □ محل دقیق پدیده ها | □ کره ی جغرافیایی  |
| □ خطی در پایین نقشه | □ مقیاس خطی        |

**۵- به پرسش های زیر پاسخ دهید.**

۱) هر مکان چه ویژگی هایی دارد؟ (همراه با مثال توضیح دهید.)

۲) دانش جغرافیا چه کمکی به ما می کند؟

۳) جغرافی دان ها معمولاً کار خودشان را چگونه آغاز می کنند؟

۴) چه وسایلی به شناخت محیط زندگی ما کمک می کند؟ (هر پنج مورد وسایل مطالعه در جغرافیا را نام ببرید.)

۵) چند نمونه از انواع نقشه را نام ببرید. (چهار مورد)

۶) مقیاس خطی چیست؟ (منظور از مقیاس خطی چیست؟)

۷) انواع عکس های جغرافیایی را نام ببرید و توضیح دهید. (از وسایل مطالعه در جغرافیا، «انواع عکس» را نام ببرید.)

۸) کره ی جغرافیایی چیست؟

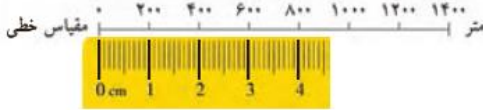
۹) رایانه و اینترنت در مطالعه ی جغرافیا، چه کمکی به ما می کنند؟ (از وسایل مطالعه در جغرافیا، رایانه و اینترنت را توضیح دهید.)

**\* ادامه ی نمونه آزمون برای ← درس نهم (من کجا زندگی می کنم؟) مطالعات اجتماعی هفتم دبیر مطالعات اجتماعی (طاهره مسجدی)**

۱۰) چند مورد از ویژگی های طبیعی و انسانی محل زندگی خود را بیان کنید.

۱۱) پرسش های جغرافیایی با چه کلماتی آغاز می شود؟ (برای شناخت یک مکان، چگونه پرسش هایی را مطرح می کنیم؟)

۱۲) اگر از میدان انقلاب تا چهار راه فلسطین روی نقشه ۳ سانتی متر است، این فاصله روی زمین چند متر است؟



۱۳) چرا نقشه، وسیله ی مهمی در جغرافیا است؟

۱۴) کتاب ها و فرهنگ نامه ها چه کمکی به ما می کنند؟ (از وسایل مطالعه در جغرافیا، کتاب ها و فرهنگ نامه ها را توضیح دهید.)

۱۵) از وسایل مطالعه در جغرافیا، «نقشه» را توضیح دهید.

۱۶) انواع نقشه کدام است و چگونه می توان از نقشه ها استفاده کرد؟

۱۷) نقشه را تعریف کنید.

۱۸) از وسایل مطالعه در جغرافیا، «عکس» را توضیح دهید.

۱۹) با توجه به وسایل مطالعه در جغرافیا، از انواع عکس، «عکس های معمولی» را توضیح دهید.

۲۰) با توجه به وسایل مطالعه در جغرافیا، از انواع عکس، «عکس های هوایی» را توضیح دهید.

۲۱) با توجه به وسایل مطالعه در جغرافیا، از انواع عکس، «تصاویر ماهواره ای» را توضیح دهید.

۲۲) ویژگی های طبیعی و انسانی را مشخص کنید. فعالیت های اقتصادی: .....

موقعیت جغرافیایی: ..... نوع آب و هوا: ..... ناهمواری ها: ..... رودها: ..... پوشش گیاهی: .....  
زندگی جانوری: ..... تعداد جمعیت: ..... سواد: ..... زبان: ..... آثار تاریخی: .....

**۶- جدول (کامل کردن جدول) حرف های واژه ی مورد نظر را در جای مشخص شده در جدول بنویسید.**

--	--	--

۱) از وسایل شناخت محیط زندگی

--	--	--	--	--	--	--	--

۲) دانشی برای شناخت ویژگی های طبیعی و انسانی مکان های مختلف.

--	--	--	--	--

۳) مجموعه ای از نقشه ها که در یک کتاب جمع آوری شده است.

**۱- درستی یا نادرستی جملات زیر را مشخص کنید.**

- ۱) ایران عزیز ما، دارای فرهنگ و تمدن چند هزار ساله و بسیار عمیق و ارزشمندی است.
- ۲) هر استان، به وسیله ی فرماندار اداره می شود.
- ۳) نظارت بر حمل و نقل عمومی برای رفت و آمد مردم از وظایف شهرداری است.
- ۴) شهرنشینان باید هر سال مبلغی را به عنوان مالیات نوسازی به شهرداری بپردازند.
- ۵) در سال ۱۳۹۰ کشور ما دارای ۷۵ میلیون نفر جمعیت بوده است.
- ۶) همه جای ایران از نظر پستی و بلندی یکسان نیست.
- ۷) جلگه ها زمین های حاصلخیز و مناسبی برای کشاورزی هستند.
- ۸) ایران در جنوب غربی قاره ی آسیا قرار دارد.
- ۹) در هر شهرستان، تعدادی شهر و روستا وجود دارد.
- ۱۰) کشور ما، ایران، ۱،۶۴۸،۱۹۵ کیلومتر مربع، وسعت دارد.

**۲- جاهای خالی را با واژگان مناسب پر کنید.**

- ۱) هر استان به چند ..... تقسیم می شود
- ۲) ایران در قسمت ..... آسیا واقع شده است.
- ۳) جهت رشته کوه زاگرس از شمال غربی به ..... است.
- ۴) از علفزارها به عنوان ..... استفاده می کنند.
- ۵) ایجاد فرهنگسراها و خانه های سلامت برای ترویج ..... و ..... مردم می باشد.
- ۶) در روستاها ..... بر بهتر شدن وضع روستا نظارت دارد.
- ۷) اگر بخواهیم ساختمانی برای محل سکونت یا کسب و کار خود بسازیم باید از ..... پروانه ی ساختمان بگیریم.
- ۸) در هر شهرستان تعدادی ..... و ..... وجود دارد.
- ۹) شهرها توسط ..... و ..... اداره می شود.
- ۱۰) نواحی پست و هموار ایران شامل ..... و ..... است.
- ۱۱) هر استان به وسیله ی ..... اداره می شود.

**۳- بهترین گزینه به صورت ■ پر شود.**

۱) ایجاد فرهنگسراها و خانه های سلامت بر عهده ی چه سازمانی است؟

- |   |                                       |                                       |   |
|---|---------------------------------------|---------------------------------------|---|
| الف) شهرداری <input type="checkbox"/>   | ب) محیط زیست <input type="checkbox"/> | پ) استانداری <input type="checkbox"/> | ت) خانه ی بهداشت <input type="checkbox"/> |
| ۲) کدام یک از قله های زیر در زاگرس وجود دارد؟ الف) دنا <input type="checkbox"/>                         | ب) دماوند <input type="checkbox"/>    | پ) تفتان <input type="checkbox"/>     | ت) سبلان <input type="checkbox"/>         |
| ۳) کوه های کرکس در کدام قسمت ایران قرار دارد؟ الف) شمال <input type="checkbox"/>                        | ب) غرب <input type="checkbox"/>       | پ) مرکز <input type="checkbox"/>      | ت) جنوب شرقی <input type="checkbox"/>     |
| ۴) کوهپایه ها از اطراف به کجا منتهی می شوند؟ الف) کوه، دشت <input type="checkbox"/>                     | ب) دشت، دشت <input type="checkbox"/>  | پ) دشت، دریا <input type="checkbox"/> | ت) دریا، کوه <input type="checkbox"/>     |
| ۵) رشته کوه ..... در شمال ایران واقع است و مانند دیواری دریای خزر را از قسمت های داخلی کشور جدا می کند. |                                       |                                       |   |
| الف) آذربایجان <input type="checkbox"/>   | ب) خراسان <input type="checkbox"/>    | پ) البرز <input type="checkbox"/>     | ت) زاگرس <input type="checkbox"/>         |

**\* ادامه ی نمونه آزمون برای ← درس دهم (ایران، خانه ی ما) مطالعات اجتماعی هفتم دبیر مطالعات اجتماعی (طاهره مسجدی)**

- ۶) استان از چه طریق اداره می شود؟ الف) شهردار  ب) شورای شهر  پ) فرماندار  ت) استاندار
- ۷) هر استان به چند ..... تقسیم می شود. الف) بخش  ب) ایالت  پ) روستا  ت) شهرستان
- ۸) نظارت بر حمل و نقل عمومی وظیفه ی کدام مؤسسه است؟  
الف) بخشداری  ب) فرمانداری  پ) استانداری  ت) شهرداری
- ۹) روستاها چگونه اداره می شوند؟  
الف) توسط استاندار  ب) توسط بخشداری  پ) توسط شورای روستا  ت) توسط فرماندار
- ۱۰) در کدام قسمت زاگرس باران و برف فراوانی می بارد؟  
الف) جنوب غربی  ب) جنوب شرقی  پ) شمال غربی  ت) شمال شرقی
- ۱۱) این کوه ها در شمال شرقی ایران قرار دارند. الف) زاگرس  ب) البرز  پ) آذربایجان  ت) خراسان
- ۱۲) جهت رشته کوه های زاگرس ..... است.  
الف) شرقی - غربی  ب) شمالی - جنوبی  پ) شمال غربی - جنوب شرقی  ت) شمال شرقی - جنوب غربی
- ۱۳) شیرکوه در کدام قسمت از کشور واقع شده است؟ الف) مرکز  ب) جنوب غربی  پ) شمال شرقی  ت) جنوب
- ۱۴) کدام مورد از کوه های آذربایجان می باشد؟ الف) هزار مسجد  ب) تفتان  پ) علم کوه  ت) سهند
- ۱۵) عوارض نوسازی به کدام یک از سازمان های زیر پرداخت می شود؟  
الف) وزارت کشور  ب) شهرداری  پ) استانداری  ت) شورای شهر
- ۱۶) کوه های ..... در شمال غربی ایران قرار گرفته اند. الف) آذربایجان  ب) خراسان  پ) البرز  ت) زاگرس
- ۱۷) رشته کوه ..... در غرب ایران کشیده شده است و جهت آن شمال غربی - جنوب شرقی (↘) است.  
الف) آذربایجان  ب) خراسان  پ) البرز  ت) زاگرس
- ۱۸) ایران در ..... قاره ی آسیا واقع شده است.  
الف) جنوب غربی  ب) جنوب شرقی  پ) جنوب  ت) غرب
- ۱۹) ایران در جنوب غربی قاره ی ..... واقع شده است. الف) آسیا  ب) آفریقا  پ) اروپا  ت) آمریکا
- ۲۰) کدام یک از موارد زیر، در فاصله ی بین شیب تند کوه و دشت قرار دارند؟  
الف) کوهپایه ها  ب) جلگه ها  پ) دشت ها  ت) کوه ها
- ۲۱) کدام قلّه در مرکز و جنوب شرقی ایران قرار ندارد؟  
الف) شیرکوه  ب) هزار  پ) تفتان  ت) بینالود
- ۲۲) قلّه ی سبلان جزء قلّه های کدام یک از کوه های ایران محسوب می شود؟  
الف) رشته کوه البرز  ب) کوه های آذربایجان  پ) کوه های شمال خراسان  ت) رشته کوه زاگرس
- ۲۳) بلندترین قلّه ی ایران چه نام دارد؟ الف) سبلان  ب) علم کوه  پ) دماوند  ت) بینالود
- ۲۴) کدام یک از گزینه های زیر جهت رشته کوه های زاگرس را نشان می دهد؟  
الف) شمال شرقی - شمال غربی  ب) شمال غربی - جنوب شرقی   
پ) شمال غربی - جنوب غربی  ت) شمال شرقی - جنوب شرقی
- ۲۵) کشور ما، ایران، در سال ۱۳۹۵ چند نفر جمعیت داشت؟  
الف) نزدیک ۸۰ میلیون نفر  ب) نزدیک ۶۰ میلیون نفر  پ) نزدیک ۵۰ میلیون نفر  ت) نزدیک ۱۰۰ میلیون نفر

۲۶) کدام یک از خدمات شهرداری نیست؟

- الف) نظارت بر رفت و آمد وسایل نقلیه  ب) ایجاد فضای سبز و کاشتن درخت   
پ) نصب علائم راهنمایی و رانندگی  ت) احداث و تعمیر خیابان ها و پل ها

۴- رابطه ی بین گزینه های زیر را پیدا کنید و با خط به یکدیگر وصل کنید.

- ۱) قله ی سهند  کوه های پراکنده مرکز   
۲) قله بینالود  رشته کوه البرز   
۳) قله توچال  کوه های آذربایجان   
۴) کرکس  کوه های خراسان   
۵) دنا  رشته کوه زاگرس

۵- رابطه ی بین گزینه های زیر را پیدا کنید و با خط به یکدیگر وصل کنید.

- ۱) کوه های آذربایجان  شمال غربی   
۲) کوههای آذربایجان  غرب

۶- به پرسش های زیر پاسخ دهید.

۱) دلایل طمع برخی کشورهای استعمارگر به کشور ما چیست؟

۲) وسعت کشور عزیزمان ایران چقدر می باشد؟

۳) جمعیت ایران در سال ۱۳۹۵ چقدر بوده است؟

۴) چرا کشور به استان ها تبدیل شده است؟ (به چه دلیلی، کشور را به استان های مختلفی تقسیم کرده اند؟)

۵) شهرها چگونه اداره می شوند؟

۶) خدمات شهرداری را نام ببرید. (هر شش مورد)

۷) شهرداری هزینه ی خدمات خود به مردم را چگونه تأمین می کند؟

۸) روستاها چگونه اداره می شوند؟

۹) شورای اسلامی روستا به چه منظور و از چه کسانی تشکیل می شود؟

(۱۰) برخی از اقدامات شورای اسلامی روستا را بیان کنید.

(۱۱) شما از چه راه هایی می توانید برای حفاظت از شهر یا روستای خود با شهرداری یا دهیاری همکاری کنید؟

(۱۲) ایران از نظر پستی و بلندی چگونه سرزمینی است؟

(۱۳) نواحی مرتفع و بلند ایران را نام ببرید.

(۱۴) قلّه های آتشفشانی کوه های آذربایجان کدام اند؟

(۱۵) قلّه های مهم رشته کوه البرز کدام اند؟

(۱۶) قلّه های بلند کوه های خراسان کدام اند؟

(۱۷) قلّه های بلند رشته کوه زاگرس کدام اند؟

(۱۸) کدام قسمت زاگرس برف و باران بیشتری دارد؟

(۱۹) قلّه های بلند و پراکنده ی نواحی مرکزی و جنوب شرقی ایران را نام ببرید.

(۲۰) نواحی پست و هموار ایران شامل چیست؟

(۲۱) دشت های وسیع ایران کدام اند؟ (دو دشت وسیع ایران کدامند؟)

(۲۲) کوهپایه چیست؟ (کوهپایه به کجا گفته می شود؟)

(۲۳) شهرداری چه (چگونه) مؤسسه ای است؟

(۲۴) نظارت بر ساخت و سازها به چه معنی است؟

(۲۵) دامنه ی شمالی و جنوبی رشته کوه البرز را با هم مقایسه کنید. (تفاوت دامنه ی شمالی و جنوبی را بگویید).

(۲۶) جلگه چگونه تشکیل می شود؟

(۲۷) تفاوت دشت و جلگه چیست؟

۲۸) چرا برخی از دشت ها حاصلخیزند؟

۲۹) اعضای شورای شهر، چگونه انتخاب می شوند؟

۳۰) استان را تعریف کنید.

**۷- جدول (کامل کردن جدول) حرف های واژه ی مورد نظر را در جای مشخص شده در جدول بنویسید.**

--	--	--	--	--	--

۱) شهرها توسط شورای اسلامی شهر و ..... اداره می شود.

--	--	--	--	--

۲) روستاها توسط شورای اسلامی روستا و ..... اداره می شود.

--	--	--	--	--

۳) ..... مانند دیواری دریای خزر را از قسمت های داخلی کشور جدا می کند.

--	--	--

۴) دشت ..... در استان تهران واقع شده است.

**۸- نقشه خوانی (آزمون نقشه) با توجه به نقشه، موارد خواسته شده را بنویسید.**

الف) روی نقشه، نام قاره های جهان را بنویسید.

ب) نام اقیانوس های جهان را بنویسید.

پ) نام بزرگ ترین مدار (استوا) را بنویسید.

ت) نام نصف النهار مبدأ را بنویسد.

ث) محل کشور ایران را با مداد رنگ آمیزی و مشخص کنید.

ج) ایران در کدام قاره قرار دارد؟

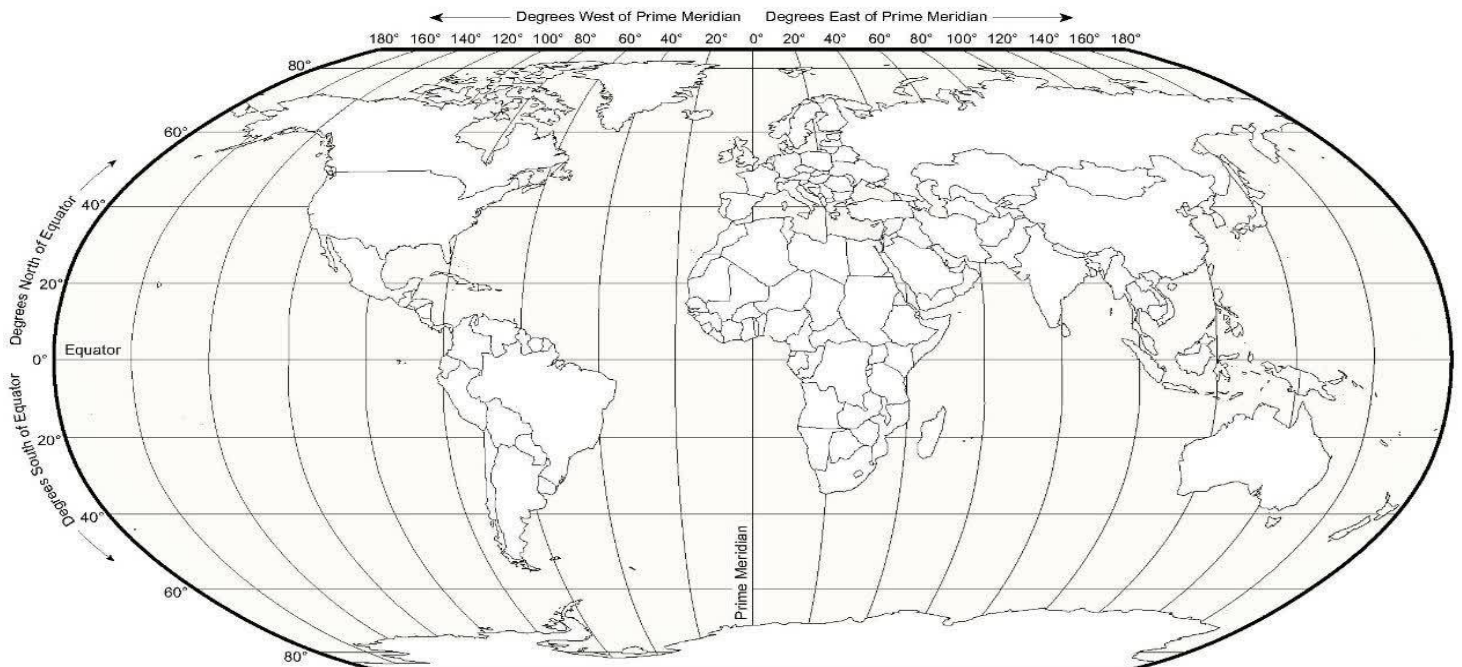
چ) ایران به کدام اقیانوس نزدیک تر است؟

ح) ایران در کدام نیمکره قرار دارد؟ شمالی یا جنوبی؟

خ) ایران در کدام نیمکره قرار دارد؟ شرقی یا غربی؟

د) نقشه را با سلیقه ی خود رنگ آمیزی کنید.

World



۹- نقشه خوانی (آزمون نقشه) با توجه به نقشه، موارد خواسته شده را بنویسید.

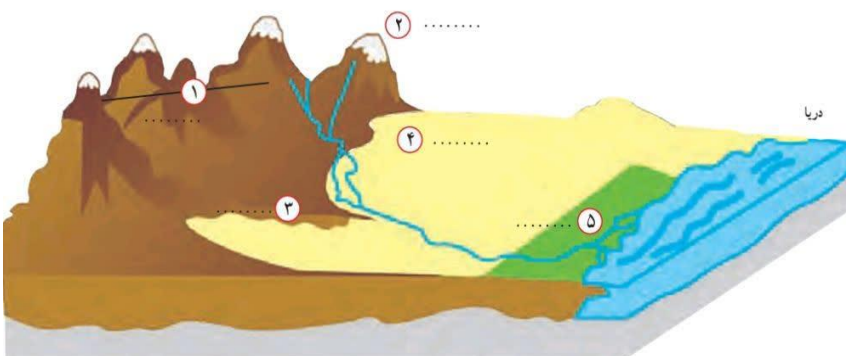
الف) با توجه به شماره های مشخص شده در نقشه، نام هر استان را در نقطه چین ها یا خود نقشه بنویسید.



- ۱- .....
- ۲- .....
- ۳- .....
- ۴- .....
- ۵- .....
- ۶- .....
- ۷- .....
- ۸- .....
- ۹- .....
- ۱۰- .....
- ۱۱- .....
- ۱۲- .....
- ۱۳- .....
- ۱۴- .....
- ۱۵- .....
- ۱۶- .....

ب) نام استان های زیر با نام مرکزشان مشابه نیست. لطفاً در نقطه چین نام مرکز هر استان را بنویسید.

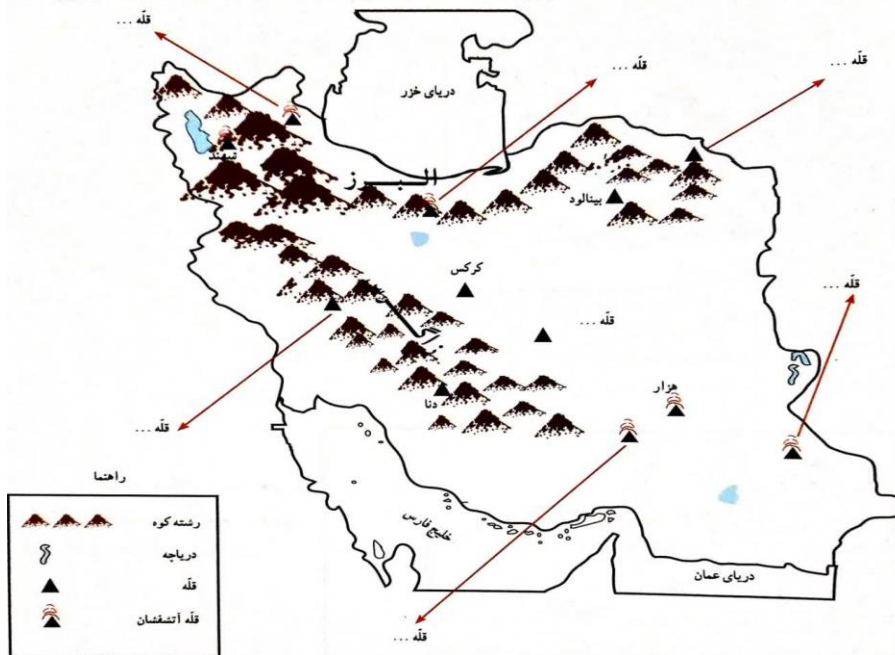
نام استان: آذربایجان غربی (نام مرکز این استان ← شهر .....	نام استان: گیلان (نام مرکز این استان ← شهر .....
نام استان: آذربایجان شرقی (نام مرکز این استان ← شهر .....	نام استان: کردستان (نام مرکز این استان ← شهر .....
نام استان: گلستان (نام مرکز این استان ← شهر .....	نام استان: البرز (نام مرکز این استان ← شهر .....
نام استان: چهارمحال و بختیاری (نام مرکز این استان ← شهر .....	نام استان: مرکزی (نام مرکز این استان ← شهر .....
نام استان: کهگیلویه و بویر احمد (نام مرکز این استان ← شهر .....	نام استان: لرستان (نام مرکز این استان ← شهر .....
نام استان: سیستان و بلوچستان (نام مرکز این استان ← شهر .....	نام استان: مازندران (نام مرکز این استان ← شهر .....
نام استان: خراسان رضوی (نام مرکز این استان ← شهر .....	نام استان: هرمزگان (نام مرکز این استان ← شهر .....
نام استان: خراسان شمالی (نام مرکز این استان ← شهر .....	نام استان: فارس (نام مرکز این استان ← شهر .....
نام استان: خراسان جنوبی (نام مرکز این استان ← شهر .....	نام استان: خوزستان (نام مرکز این استان ← شهر .....



پ) روی مُدل، کنار شماره ها، کلمه ی جلگه، دشت، کوهپایه، قله و رشته کوه را بنویسید.

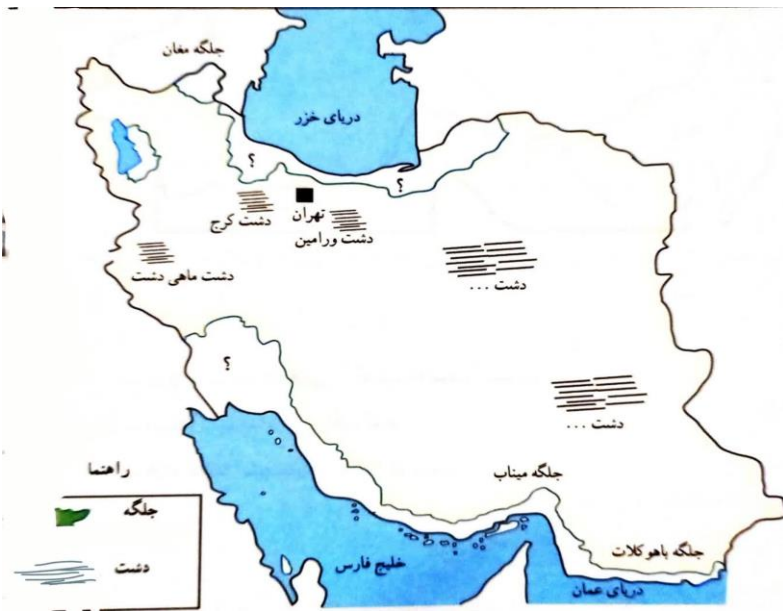


۱۰- نقشه خوانی (آزمون نقشه) با توجه به نقشه، موارد خواسته شده را بنویسید.



روی نقشه، نام قله هایی را که نوشته نشده است، بنویسید.

۱۱- نقشه خوانی (آزمون نقشه) با توجه به نقشه، موارد خواسته شده را بنویسید.



الف) روی نقشه، نام جلگه ها و دشت هایی را که نوشته نشده است، بنویسید.

ب) جلگه ها را با مداد سبز رنگ کنید.

۱۲- نقشه خوانی (آزمون نقشه) با توجه به نقشه، موارد خواسته شده را بنویسید.



\* با توجه به نقشه ی «استان اصفهان» موارد زیر کامل شود.

- الف) تعداد شهرستان های استان اصفهان: .....
- ب) مرکز استان اصفهان کدام شهر است؟ .....
- پ) بزرگ ترین شهرستان استان اصفهان: .....
- ت) کوچکترین شهرستان استان اصفهان: .....

**۱- درستی یا نادرستی جملات زیر را مشخص کنید.**

- (۱) تراکم جمعیت در کشورمان در سال ۱۳۹۵ معادل ۴۹ نفر در کیلومتر مربع بوده است.
- (۲) در کشورهایی که رشد جمعیت زیاد است، جمعیت کودکان و جوانان افزایش می یابد.
- (۳) در کشورهایی که رشد جمعیت کم است، جمعیت سالمندان افزایش می یابد.
- (۴) محاسبات نشان می دهد رشد جمعیت در وضعیت بعضی از کشورها زیاد و در بعضی از کشورها کاهش یافته است.
- (۵) در کشورهایی که تشکیل خانواده در آنها کمتر صورت می گیرد دارای رشد منفی در جمعیت نمی باشند.
- (۶) جمهوری اسلامی ایران در بین کشورهای همسایه خود کشور پرجمعیت است.
- (۷) با وارد شدن به پایگاه اینترنتی مرکز آمار ایران نمی توانیم اطلاعات مورد نظر در مورد جمعیت را به دست آوریم.
- (۸) در کشور ما، مرکز آمار ایران مسؤلیت سرشماری جمعیت را برعهده دارد.
- (۹) در بعضی مکان ها جمعیت کمتر و در برخی جاها جمعیت بیشتری زندگی می کنند.
- (۱۰) در برخی مناطق ایران، جمعیت زیادی متراکم شده اند اما بعضی از مناطق نیز خالی از جمعیت یا کم جمعیت است.
- (۱۱) ایران در بین کشورهای همسایه ی خود، کشوری نسبتاً پرجمعیت نیست.

**۲- جاهای خالی را با واژگان مناسب پر کنید.**

- (۱) اکنون کشور عزیز ما ایران بیش از ..... نفر جمعیت دارد.
- (۲) جمعیت ۲۶ تا ۶۵ سال را گروه ..... می نامند.
- (۳) در کشور ما ..... مسؤلیت سرشماری جمعیت را برعهده دارد.
- (۴) دشت لوت و ..... خالی از جمعیت است.
- (۵) دومین ناحیه ی پرتراکم جمعیتی کشور ..... می باشد.
- (۶) پرجمعیت ترین و پرتراکم ترین ناحیه ی کشور ما منطقه ی شهری ..... است.

**۳- بهترین گزینه به صورت ■ پر شود.**

- (۱) در کشور ما، سرشماری جمعیت هر چند سال یک بار انجام می شود؟ (الف) ۷سال □ (ب) ۵سال □ (پ) ۱۰سال □ (ت) ۴سال □
- (۲) پرجمعیت ترین و پرتراکم ترین ناحیه ی کشور ما چه نام دارد؟ (کجاست؟)
 

الف) مشهد □	ب) اصفهان □	پ) تهران □	ت) شیراز □
-------------	-------------	------------	------------
- (۳) کدام یک از نتایج رشد منفی جمعیت نیست؟
 

الف) افزایش جمعیت سالمندان □	ب) کاهش جمعیت جوان □	پ) کم شدن زاد و ولد □	ت) افزایش جمعیت شاغل □
------------------------------	----------------------	-----------------------	------------------------
- (۴) کدام مؤسسه، مسؤلیت سرشماری جمعیت را بر عهده دارد؟
 

الف) سازمان حفاظت از محیط زیست □	ب) بیمه □	پ) مرکز آمار ایران □	ت) شهرداری □
----------------------------------	-----------	----------------------	--------------
- (۵) به نسبت افرادی که در یک مکان زندگی می کنند، چه می گویند؟
 

الف) پراکندگی جمعیت □	ب) افزایش جمعیت □	پ) رشد منفی جمعیت □	ت) تراکم جمعیت □
-----------------------	-------------------	---------------------	------------------
- (۶) برای محاسبه ی چه چیزی، جمعیت یک منطقه را بر مساحت تقسیم می کنند؟
 

الف) تراکم جمعیت □	ب) افزایش جمعیت □	پ) کاهش جمعیت □	ت) رشد منفی جمعیت □
--------------------	-------------------	-----------------	---------------------

۷) چرا در ناحیه ی خوزستان، تراکم جمعیت زیاد است؟

- الف) خاک حاصلخیز  (ب) باران کافی  (پ) منابع نفت و گاز  (ت) خلیج فارس

۸) کدام مورد از علل مؤثر بر تراکم پایین جمعیت در نواحی داخلی ایران نیست؟

- الف) کمبود بارندگی  (ب) خاک های نامساعد  (پ) آب و هوای گرم و خشک  (ت) نبودن راه های ارتباطی

۹) چه زمانی جمعیت افزایش می یابد؟

الف) اگر تعداد افرادی که متولد می شود کم باشد.

ب) اگر تعداد افرادی که می میرند کم باشد.

پ) اگر تعداد افرادی که متولد می شوند بیشتر از افرادی که می میرند باشد.

ت) اگر تعداد افرادی که متولد می شوند کمتر از افرادی که می میرند باشد.

۱۰) طبق سرشماری سال ۱۳۹۰ کشور ما، ایران، ..... میلیون نفر جمعیت داشت.

- الف) ۶۵  (ب) ۷۰  (پ) ۷۵  (ت) ۸۰

۱۱) اگر تعداد افرادی که متولد می شوند بیشتر از افرادی که می میرند باشد، جمعیت ..... .

- الف) افزایش می یابد  (ب) کاهش می یابد  (پ) متعادل می شود  (ت) فرقی نمی کند

۱۲) اگر تعداد افرادی که متولد می شوند کمتر از افرادی که می میرند باشد، جمعیت ..... .

- الف) افزایش می یابد  (ب) کاهش می یابد  (پ) متعادل می شود  (ت) فرقی نمی کند

۱۳) کدام یک از کشورهای زیر با رشد منفی جمعیت روبرو هستند؟

- الف) ایران و پاکستان  (ب) سوریه و عراق  (پ) دانمارک و سوئیس  (ت) فرانسه و انگلستان

۱۴) با توجه به جدول گروه های سنی، ۲۵ تا ۶۵ سال جزء کدام گروه سنی هستند؟

- الف) کودکان و جوانان  (ب) بزرگسالان  (پ) جوانان  (ت) سالمندان

۱۵) تراکم جمعیت کشور ما در سال ۱۳۹۰ معادل ..... نفر در کیلومتر مربع بوده است.

- الف) ۴۸/۱  (ب) ۴۹/۱  (پ) ۴۸/۲  (ت) ۴۹/۲

۱۶) پرجمعیت ترین و پرتراکم ترین ناحیه ی کشور ما کدام یک از نواحی زیر است؟

- الف) منطقه ی شهری تهران  (ب) جلگه های کناره ی دریای خزر

- پ) ناحیه ی خوزستان  (ت) کوهپایه های البرز و زاگرس

۱۷) دومین ناحیه ی پرتراکم در کشور ما کجا است؟

- الف) منطقه ی شهری تهران  (ب) جلگه های کناره ی دریای خزر

- پ) ناحیه ی خوزستان  (ت) کوهپایه های البرز و زاگرس

۴- رابطه ی بین گزینه های زیر را پیدا کنید و با خط به یکدیگر وصل کنید.

۱) تهران  ۱) دومین ناحیه ی پرتراکم

۲) دشت لوت و دشت کویر  ۲) پرتراکم ترین ناحیه

۳) جلگه های کناره ی دریای خزر  ۳) خالی از جمعیت

۴) نسبت افراد در یک مکان  ۴) رشد منفی

۵) کاهش تعداد موالید  ۵) تراکم جمعیت

## ۵- به پرسش های زیر پاسخ دهید.

(۱) کشورهای همسایه ی ایران را از نظر جمعیت به ترتیب نام ببرید.

(۲) جمعیت چگونه افزایش می یابد؟

(۳) جمعیت چگونه کاهش می یابد؟

(۴) آیا رشد جمعیت در همه ی کشورها یکسان است؟ توضیح دهید

(۵) رشد منفی جمعیت یعنی چه؟

(۶) جمعیت را به چه گروه های سنی تقسیم می کنند؟ توضیح دهید.

(۷) رشد منفی جمعیت چه مشکلاتی را به وجود می آورد؟ (چهار مورد)

(۸) داشتن جمعیت جوان برای کشور ما چه مزایایی (خوبی هایی، فایده هایی) دارد؟

(۹) وظیفه ی مرکز آمار ایران چیست؟

(۱۰) تراکم جمعیت یک منطقه یعنی چه؟

(۱۱) تراکم جمعیت یک منطقه را چگونه محاسبه می کنند؟

(۱۲) در کدام مناطق ایران جمعیت کم است؟ دلایل آن را ذکر کنید.

(۱۳) پُر جمعیت ترین و پُرتراکم ترین ناحیه ی کشور کجاست؟ چرا؟

(۱۴) چرا جلگه های کناره ی دریای خزر دومین ناحیه ی پُرتراکم کشور است؟ (چرا جلگه های کناره ی دریای خزر دومین ناحیه ی

پرتراکم در کشور ما است؟)

(۱۵) چرا در ناحیه ی خوزستان تراکم زیاد است؟ (علت زیادی جمعیت در ناحیه ی خوزستان چیست؟)

۱۶) چرا در کوهپایه های البرز و زاگرس تراکم جمعیت زیاد است؟ (علت زیادی جمعیت در کوهپایه های البرز و زاگرس و دشت های حاصلخیز چیست؟)

۱۷) محاسبه ی رشد جمعیت کشورها چه چیزی را نشان می دهد؟

۱۸) چرا کشور ما، امکان افزایش جمعیت تا دو برابر را دارد و چگونه؟

۱۹) چه عواملی روی پراکندگی جمعیت تأثیر می گذارد؟ (۵ مورد)

۲۰) ایران در بین کشورهای همسایه، از نظر جمعیت در چه رتبه ای قرار دارد؟

۲۱) وقتی رشد جمعیت منفی می شود کشورها با چه مشکلاتی روبرو می شوند؟ (به نظر شما، اگر در کشور ما زاد و ولد کم شود در آینده با چه مشکلاتی روبرو می شویم؟) یا (داشتن جمعیت جوان برای کشور ما چه مزایایی دارد؟)

۲۲) در کشورهایی که رشد جمعیت زیاد است کدام گروه سنی افزایش می یابد؟

۲۳) جدول گروه های سنی را کامل کنید.

گروه ۱	گروه ۲	گروه ۳
۱ – ۲۵ سال	۲۶ – ۶۵ سال	بیشتر از ۶۵ سال
.....	.....	.....

۲۴) در کشور ما، مسئولیت سرشماری جمعیت بر عهده ی کدام مؤسسه است؟

۲۵) معنای تراکم جمعیت چیست؟

۲۶) تراکم جمعیت یک منطقه را چگونه محاسبه می کنند؟

۲۷) تراکم جمعیت در کدام مکان بیشتر است؟ چرا؟

۲۸) در سال ۱۳۹۰ تراکم جمعیت کشور ما، معادل ۴۹/۱ نفر در کیلومتر مربع بوده است. این تراکم چگونه محاسبه شده است؟

۲۹) در سال ۱۳۹۰ جمعیت کشور ما، ۷۵ میلیون نفر بوده است. با توجه به مساحت ایران، تراکم جمعیت را حساب کنید.

۳۰) چه عواملی روی پراکندگی جمعیت ایران اثر می گذارد؟ (جمعیت ایران چگونه در کشور پراکنده شده است و این پراکندگی به چه عواملی بستگی دارد؟)

۳۱) در کدام نواحی ایران جمعیت بسیار کمی زندگی می کنند؟ چرا؟

۳۲) چرا پرجمعیت ترین و پرتراکم ترین ناحیه ی کشور ما، منطقه ی شهری تهران است؟

۶- جدول (کامل کردن جدول) حرف های واژه ی مورد نظر را در جای مشخص شده در جدول بنویسید.


۱) افزایش مرگ و میرها نسبت به متولدین، کاهش ..... را نشان می دهد.

۲) پرجمعیت ترین کشور همسایه ی ایران ..... است.

۳) گروه های سنی جمعیت به ..... گروه تقسیم می شود.

۴) ایران در کشورهای همسایه از نظر جمعیت رتبه ..... را دارد.

۷- نقشه خوانی (آزمون نقشه) با توجه به نقشه، موارد خواسته شده را بنویسید.



الف) روی نقشه، نام رود مرزی ایران که نزدیک کشور ترکمنستان است چیست و همچنین نام رود مرزی بین ایران و ارمنستان چه نام دارد؟

ب) نام کشورهای همسایه ی ایران که علامت ؟ گذاشته شده را بنویسید.

### ۱- درستی یا نادرستی جملات زیر را مشخص کنید.

- ۱) رودهای پر آب ایران چون از شیب های تند کوهستانی جاری می شوند قابل کشتیرانی هستند.
- ۲) برای جلوگیری از کاهش یا به خطر افتادن منابع باید راه های استفاده ی صحیح از منابع را یاد بگیریم.
- ۳) برای آنکه یک سانتی متر خاک زراعی تشکیل شود صدها سال وقت لازم است.
- ۴) کشور ما دارای منابع آب محدود است.
- ۵) رودهای دائمی و پرآب ایران از کوه های البرز و زاگرس سرچشمه می گیرند.
- ۶) آب و خاک از منابع محدود هستند.
- ۷) کشور ما، دارای منابع محدود است.
- ۸) وقتی جمعیت یک ناحیه زیاد می شود مصرف منابع بیشتر می شود.
- ۹) برای آنکه یک سانتیمتر خاک زراعی تشکیل شود صدها سال وقت لازم است اما سالیانه، هزاران تن خاک در جهان از بین می رود.
- ۱۰) حفاظت از منابع وظیفه ی مهم ما است. انسان ها نیز منابع و سرمایه های یک کشور هستند.

### ۲- جاهای خالی را با واژگان مناسب پر کنید.

- ۱) دو منبع حیاتی انسان ..... و ..... می باشد.
- ۲) میانگین بارش سالیانه ی کشور ما حدود ..... است.
- ۳) در کشور ما سازمان ..... حفاظت از خاک را بر عهده دارد.
- ۴) رودهای ایران از جهت ..... به سه حوضه ی آبریز تقسیم می شوند.
- ۵) یکی از منابع مهم تأمین آب شهرنشینان و روستاییان، ..... است.
- ۶) اغلب رودهای دائمی و پرآب ایران از کوه های ..... و ..... سرچشمه می گیرند.

### ۳- بهترین گزینه به صورت ■ پر شود.

- ۱) کدام رود ایران قابل کشتیرانی است؟ الف) اترک  ب) ارس  پ) سفیدرود  ت) کارون
- ۲) چرا خاک برخی مناطق مرکزی، شرقی یا جنوبی ایران برای کشاورزی مناسب نیست؟  
الف) به علت وجود نمک و آهک در خاک  ب) به علت وسعت زیاد   
پ) به علت شرجی بودن هوا  ت) به علت کوه های بلند
- ۳) رودهای کدام حوضه ی آبریز، معمولاً موقتی یا فصلی هستند؟  
الف) دریای خزر  ب) خلیج فارس  پ) دریای عمان  ت) داخلی
- ۴) کدام مورد زیر جزء آب های زیرزمینی نیست؟ الف) رودها  ب) چشمه ها  پ) قنات  ت) چاه ها
- ۵) کدام مورد زیر، در نوع خاک یک منطقه تأثیر ندارد؟  
الف) موجودات زنده  ب) دمای هوا  پ) جنس سنگ ها  ت) نوع محصولات کاشته در آن
- ۶) خاک کدام منطقه از ایران، به علت خشکی هوا و کمبود بارندگی، گیاه خاک (هوموس) خاک بسیار کم است؟  
الف) جلگه ها و اطراف رودها و برخی کوهپایه ها  ب) جلگه های کناره ی دریای خزر   
پ) برخی از مناطق مرکزی، شرقی یا جنوبی  ت) منطقه ی شهری تهران و شهرهای کوچک و بزرگ اطراف آن
- ۷) یکی از منابع مهم تأمین آب شهرنشینان و روستاییان، کجاست؟ الف) رود  ب) چاه  پ) قنات  ت) دریاچه

**\* ادامه ی نمونه آزمون برای – درس چهاردهم(منابع خاک و آب) مطالعات اجتماعی هفتم دبیر مطالعات اجتماعی(طاهره مسجدی)**

۸) میانگین بارش سالانه ی کشور ما ..... میلی متر است. الف) ۲۳۰ (ب) ۸۰۰ (پ) ۱۵۰ (ت) ۲۵۰

۹) میزان متوسط بارندگی در دنیا ..... میلی متر است. الف) ۲۳۰ (ب) ۸۰۰ (پ) ۱۵۰ (ت) ۲۵۰

۱۰) میزان مُجاز مصرف آب برای یک فرد در شبانه روز، ..... لیتر است.

الف) ۱۳۰ (ب) ۲۳۰ (پ) ۳۶۰ (ت) ۱۵۰

۱۱) در ایران، متوسط مصرف آب برای یک فرد در شبانه روز، ..... لیتر است.

الف) ۲۵۰ تا ۳۰۰ (ب) ۱۰۰ تا ۱۵۰ (پ) ۱۵۰ تا ۲۵۰ (ت) ۱۵۰ تا ۲۰۰

۱۲) رودهای پرآبی که از کوه های البرز سرچشمه می گیرند به کدام یک از حوضه های آبریز می ریزند؟

الف) حوضه ی آبریز دریای خزر (ب) حوضه ی آبریز خلیج فارس و دریای عمان

پ) حوضه ی آبریز داخلی (ت) حوضه ی آبریز کناره ای

۱۳) اغلب رودهای دائمی و پرآب ایران، از کدام کوه ها سرچشمه می گیرند؟

الف) البرز و خراسان (ب) البرز و زاگرس (پ) زاگرس و خراسان (ت) زاگرس و آذربایجان

۱۴) کدام گزینه در مورد خاک نادرست است؟

الف) هر نوع خاک مواد معدنی خاصی دارد.

ب) خاک طی زمان کوتاه تشکیل می شود.

پ) خاک لایه ی نازکی است که از خُرد شدن سنگ ها پدید آمده است.

ت) عواملی چون آب، دمای هوا، سنگ و موجودات زنده در تشکیل خاک مؤثر هستند.

۱۵) کدام سازمان وظیفه ی حفاظت از خاک را بر عهده دارد؟

الف) سازمان جنگل ها و مراتع و آبخیزداری کشور (ب) سازمان تحقیقات کشاورزی

پ) سازمان حفاظت از محیط زیست (ت) سازمان استاندارد

۱۶) رودهای ایران بر چه اساسی می توان به سه حوضه ی آبریز تقسیم کرد؟

الف) موقعیت جغرافیایی (ب) سرعت آب (پ) مقدار آب (ت) جهت جریان

**۴- رابطه ی بین گزینه های زیر را پیدا کنید و با خط به یکدیگر وصل کنید.**

۱) زاینده رود (ب) دریاچه ارومیه

۲) هلیل رود (ب) دریاچه هامون

۳) رود هیرمند (ب) دریاچه جازموریان

۴) رود گُرد (ب) دریاچه بختگان

۵) زرینه رود (ب) باتلاق گاو خونی

۶) یکی از ابداعات ایران (ب) هوموس

۷) باقیمانده ی گیاهان و جانوران در خاک (ب) قنات

**۵- به پرسش های زیر پاسخ دهید.**

۱) از منابع موجود در یک ناحیه چه استفاده هایی می کنند؟

۲) به طور کلی آب مورد نیاز انسان از چه طریقی به دست می آید؟



۳) اغلب رودهای دائمی و پرآب ایران از کدام کوه ها سرچشمه می گیرند؟

۴) چرا روهای ایران قابل کشتیرانی نیستند؟

۵) حوضه های آبریز ایران کدامند؟ توضیح دهید. (رودهای ایران را از نظر جهت جریان آب یعنی جایی که به آن می ریزند می توان به چند حوضه ی آبریز تقسیم کرد؟)

۶) میزان مُجاز(مصرف سرانه ی) آب برای یک نفر در شبانه روز، چقدر تعیین شده است؟ در ایران این مصرف چقدر می باشد؟ (متوسط مصرف آب برای یک نفر در شبانه روز در ایران چقدر است؟)

۷) چرا مصرف آب، روز به روز بیشتر شده است؟

۸) با چه کارهایی می توان از آلوده کردن آب ها جلوگیری کرد؟ (دو راهکار یا دو مورد بگویید)

۹) انسان در طی سالیان دراز از خاک چه استفاده هایی کرده است؟ (همان چهار اهمیت و کارکرد خاک را بگویید)

۱۰) چرا خاک ها انواع مختلفی دارند؟

۱۱) در کدام مناطق کشور، خاک های حاصلخیز وجود دارد؟

۱۲) چرا در مناطق مرکزی و جنوبی هوموس خاک بسیار کم است؟

۱۳) شما برای از بین رفتن خاک چه توصیه هایی به کشاورزان می کنید؟ (دو مورد)

۱۴) وجود برخی چاه های آب غیرمُجاز چه آسیب هایی دارد؟

۱۵) چرا کشور ما با کمبود آب مواجه است؟

۱۶) وظیفه ی ما برای مصرف صحیح آب چیست؟ (برای درست مصرف کردن آب، دو راهکار یا دو مورد بگویید)

۱۷) خاک چگونه تشکیل می شود؟ عوامل مؤثر در تشکیل خاک کدامند؟

۱۸) چه عواملی موجب از بین رفتن خاک می شود؟ (چهار مورد)

**\* ادامه ی نمونه آزمون برای – درس چهاردهم(منابع خاک و آب) مطالعات اجتماعی هفتم دبیر مطالعات اجتماعی(طاهره مسجدی)**

۱۹) اگر ۱۰ دقیقه زمان دوش گرفتن در حمام طول بکشد چند لیتر آب (مُعادل چند لیوان) مصرف می شود؟

۲۰) برای جلوگیری از کاهش یا به خطر افتادن منابع چه باید کرد؟

۲۱) چرا با آنکه کشور ایران از شمال و جنوب به دریاهای بزرگی راه دارد با مشکل کمبود آب مواجه است؟

۲۲) چرا باید از خاک به عنوان یک منبع مهم حفاظت کرد؟

۲۳) چرا خاک برخی مناطق مرکزی، داخلی یا جنوبی کشور برای کشاورزی مناسب نیست؟

۲۴) در کشور ما کدام سازمان مسئولیت حفاظت از خاک را بر عهده دارد؟

۲۵) با توجه به شکل چرخه(گردش) آب در طبیعت، شماره ۱ تا ۵ را به ترتیب بیان کنید.

**۶- جدول(کامل کردن جدول) حرف های واژه ی مورد نظر را در جای مشخص شده در جدول بنویسید.**

--	--	--	--	--	--	--	--

۱) کشور ما از نظر منابع آب ..... است.

--	--

۲) از منابع حیاتی انسان می باشد.

--	--	--	--	--	--	--	--

۳) در گذشته آب را در آن جا ذخیره می کردند.

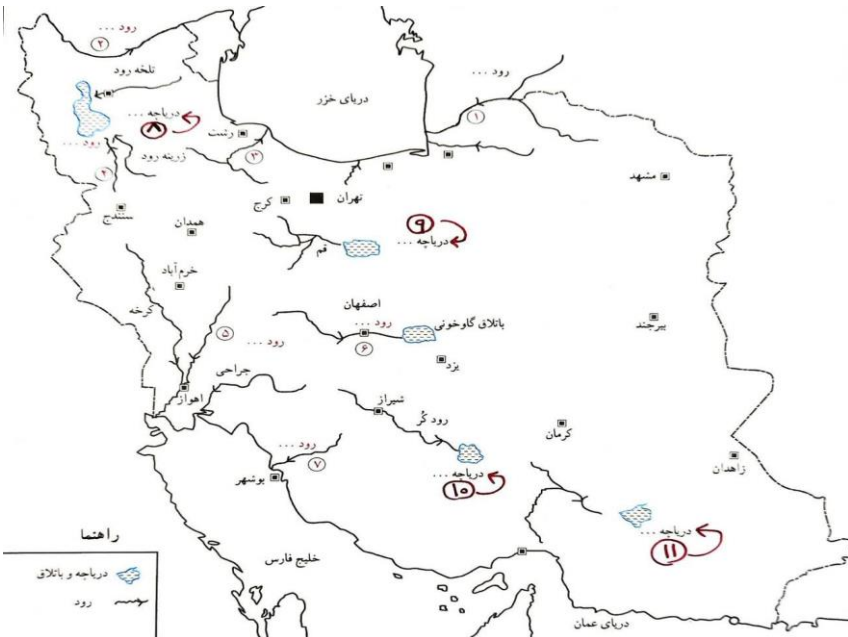
--	--	--	--	--	--	--	--

۴) در دوره ی ساسانیان، در این منطقه سدهایی بر روی رودها احداث شده بود.

--	--	--	--

۵) از ابداعات ایرانیان باستان، برای مقابله با کمبود آب است.

**۷- نقشه خوانی(آزمون نقشه) با توجه به نقشه، موارد خواسته شده را بنویسید.**



الف) شماره ۱ تا ۷ نام رودهایی است که شما باید نام آن رودها را بنویسید.

ب) شماره ۸ تا ۱۱ نام دریاچه هایی است که شما باید نام آن دریاچه ها را بنویسید.

پ) نام باتلاقی که زاینده رود به آن می ریزد چیست؟  
ت) دریاچه ها و مسیر رودها را با «مداد آبی» رنگ کنید.  
ث) کدام یک از رودها و دریاچه های ایران خشک یا بسیار کم آب شده اند؟ نام ببرید.

### ۱- درستی یا نادرستی جملات زیر را مشخص کنید.

- همه ی مردم از مسافرت هدف یکسان دارند.
- ایران کشور زیبا و پهناور است و مناظر طبیعی و آثار تاریخی فراوانی دارد.
- وقتی فردی به سفر می رود فقط می تواند به استراحت و تفریح بپردازد.
- وقتی در یک مکان شغل های بیشتری به وجود بیاید، درآمد مردم آنجا بیشتر می شود.
- ایران از نظر داشتن مکان های زیبای طبیعی در دنیا مقام پنجم و از نظر داشتن مکان های تاریخی و فرهنگی باشکوه در دنیا مقام دهم را دارد.
- گردشگری یعنی سیر و سفر کردن به مکان های مختلف.

### ۲- جاهای خالی را با واژگان مناسب پر کنید.

- رونق گردشگری نقش مهمی در افزایش ..... مردم یک منطقه دارد.
- با استفاده از ..... نقشه راه ها می تواند حساب کنید چقدر از روستا یا شهری که می خواهید به آن سفر کنید فاصله دارید.
- کشور عزیزمان ایران از نظر داشتن مکان های زیبای طبیعی در دنیا مقام ..... را دارد.
- کشور عزیزمان ایران از نظر داشتن مکان های تاریخی و فرهنگی در دنیا مقام ..... را دارد.
- سفر به مناطق طبیعی بدون لطمه زدن به آن را ..... می گویند.
- یکی از وسایل مهمی که باید برای گردشگری یا انجام هر نوع سفر از آن استفاده کرد ..... است.

### ۳- بهترین گزینه به صورت ■ پر شود.

۱) کدام یک از وسایل زیر برای گردشگری بسیار مهم است؟

- الف) نقشه       ب) قطب نما       پ) دوربین       ت) گره ی جغرافیایی

۲) کدام مورد بر روی نقشه ی راه ها مشخص نشده است؟

- الف) جاده های اصلی و فرعی       ب) رستوران ها       پ) پمپ بنزین ها       ت) رشته کوه ها

۳) کدام مورد زیر از اهمیت های گردشگری می باشد؟

- الف) استراحت و تفریح       ب) آشنا شدن با مکان های تاریخی و فرهنگی       پ) ایجاد شغل و افزایش درآمد       ت) هر سه مورد

۴) در کدام یک از نقشه های زیر اطلاعات مربوط به جاده ها، رستوران ها، تعمیرگاه ها و ... وجود دارد؟

- الف) آب و هوا       ب) راه ها       پ) ناهمواری ها       ت) تقسیمات کشوری

۵) ایران از نظر داشتن مکان های زیبای طبیعی در دنیا مقام ..... را دارد.

- الف) چهارم       ب) پنجم       پ) ششم       ت) دهم

۶) ایران از نظر داشتن مکان های تاریخی و فرهنگی باشکوه در دنیا مقام ..... را دارد.

- الف) چهارم       ب) پنجم       پ) ششم       ت) دهم

۷) ایران از نظر داشتن مکان های زیبای طبیعی در دنیا مقام ..... و از نظر داشتن مکان های تاریخی و فرهنگی باشکوه در دنیا

- مقام ..... را دارد. الف) دهم - پنجم       ب) پنجم - دهم       پ) ششم - دهم       ت) دهم - ششم

۸) رونق گردشگری نقش مهمی در افزایش ..... مردم یک منطقه دارد.

- الف) تولید       ب) درآمد       پ) توزیع       ت) خدمات

**\* ادامه ی نمونه آزمون برای – درس پانزدهم (گردشگری چیست؟) مطالعات اجتماعی هفتم دبیر مطالعات اجتماعی (طاهره مسجدی)**

۹) سفر به مناطق طبیعی بدون لطمه زدن به آن را چه می گویند؟

الف) طبیعت گردی (اکوتوریسم)  ب) زائر  پ) گردشگر  ت) میراث جهانی

#### **۴- رابطه ی بین گزینه های زیر را پیدا کنید و با خط به یکدیگر وصل کنید.**

- |  |   |
|--|---|
| ۱) محاسبه فاصله روستا یا شهری که به آن سفر می کنیم. <input type="checkbox"/> | ۱) نقشه ی راه ها <input type="checkbox"/> |
| ۲) مشخص بودن جاده های اصلی و فرعی بر روی آن <input type="checkbox"/>         | ۲) نقشه <input type="checkbox"/>          |
| ۳) پیدا کردن مکان های جدید <input type="checkbox"/>                          | ۳) مقیاس <input type="checkbox"/>         |
| ۴) یعنی سیّر و سفر کردن به مکان های مختلف <input type="checkbox"/>           | ۴) گردشگری <input type="checkbox"/>       |

#### **۵- به پرسش های زیر پاسخ دهید.**

۱) گردشگری چیست؟ گردشگر به چه کسی گفته می شود؟

۲) انواع گردشگری را نام ببرید.

۳) خداوند در قرآن درباره ی سیّر و سفر کردن چه می فرماید؟

۴) چه عواملی موجب شده که سفر کردن و گردشگری افزایش یابد؟

۵) فایده ی استفاده از نقشه توسط گردشگران چیست؟ (نقشه ها در گردشگری چه کمکی به ما می کنند؟)

۶) انواع نقشه مورد استفاده در سفر کدام اند؟

۷) بر روی نقشه ی راه ها چه چیزهایی مشخص شده است؟ (از روی نقشه ی راه ها چه چیزهایی می توان فهمید؟)

۸) مقیاس نقشه راه ها چه کمکی به ما می کند؟

۹) اهمیت های گردشگری را بیان کنید. (۲ مورد)

۱۰) کدام شغل ها در اثر فعالیت های گردشگری به وجود می آیند؟

۱۱) شما برای گردشگری کدام یک از انواع گردشگری را انتخاب می کنید و دلیل آن چیست؟

۱۲) ما ایرانیان چگونه با گردشگران خارجی برخورد می کنیم؟

۱۳) طبیعت گردی (اکوتوریسم) چیست؟

\* ادامه ی نمونه آزمون برای – درس پانزدهم (گردشگری چیست؟) مطالعات اجتماعی هفتم دبیر مطالعات اجتماعی (طاهره مسجدی)

۶- جدول (کامل کردن جدول) حرف های واژه ی مورد نظر را در جای مشخص شده در جدول بنویسید.


۱) یکی از مساجد آستان قدس می باشد.

۲) از وسایل مهم برای هر گردشگر می باشد.

۳) کسانی که به سفرهای زیارتی می روند.

۷- نقشه خوانی (آزمون نقشه) با توجه به نقشه، موارد خواسته شده را بنویسید.

\* با توجه به نقشه ی «میدان نقش جهان» در شهرستان اصفهان

موارد زیر کامل شود.

الف) نام بازار: .....

ب) نام مسجد: .....

پ) نام کاخ: .....

ت) نام مسجد: .....



۸- نقشه خوانی (آزمون نقشه) با توجه به نقشه، موارد خواسته شده را بنویسید.

\* با توجه به نقشه ی «استان اصفهان» موارد

زیر کامل شود.

الف) تعداد شهرستان های استان اصفهان: .....

ب) مرکز استان اصفهان کدام شهر است؟ .....

پ) بزرگ ترین شهرستان استان اصفهان: .....

ت) کوچکترین شهرستان استان اصفهان: .....



۹) مسئله های مربوط به جغرافیا؛ با توجه به عکس زیر، موارد خواسته شده را بنویسید.

با استفاده از مقیاس خطی و یک خط کش

مکان های زیر را محاسبه کنید.

الف) قزوین – تاکستان (..... کیلومتر)

با خط کش ۴/۳۰ سانتی متر است.

ب) محمدیه – قزوین (..... کیلومتر)

با خط کش ۲/۳۰ سانتی متر است.

پ) قزوین – بوئین زهرا (..... کیلومتر)

با خط کش ۷ سانتی متر است.

ت) قزوین – هشنگرد (..... کیلومتر)

با خط کش ۹ سانتی متر است.



## ۱- درستی یا نادرستی جملات زیر را مشخص کنید.

- ۱) مشهد مقدس، مهمترین قطب زیاتی کشور می باشد.
- ۲) بندر چابهار، از مراکز گردشگری در سواحل خلیج فارس می باشد.
- ۳) گردشگری در طبیعت ممکن است باعث بروز مشکلاتی شود و بعضی مناطق در اثر انبوه مسافران آسیب ببیند.
- ۴) ایران به دلیل دارا بودن تاریخ طولانی، آثار و بناهای متعددی دارد.

## ۲- جاهای خالی را با واژگان مناسب پر کنید.

- ۱) برخی از بناهای کشورمان ..... هستند که باید از آن محافظت شود.
- ۲) بر طبق آمار سالیانه حدود ..... نفر به مشهد سفر می کنند.
- ۳) در کشور ما، بخش عمده ای از سفرها جنبه ی ..... دارند.
- ۴) ..... مهمترین قطب زیارتی کشور است.

## ۳- بهترین گزینه به صورت ■ پر شود.

۱) آرامگاه کدام یک از شخصیت های زیر در صحن امام رضا(ع) قرار دارد؟

- الف) شیخ بهایی، ملاصدرا
- ب) علامه محمدتقی جعفری، ملاصدرا
- پ) شیخ بهایی، علامه محمدتقی جعفری
- ت) ملاصدرا، علامه مجلسی

۲) در شهر اصفهان کدام یک از مساجد زیر قرار دارند؟

- الف) مسجد شیخ لطف الله و مسجد وکیل
- ب) مسجد گوهرشاد، مسجد امام
- پ) مسجد شیخ لطف الله، مسجد امام
- ت) مسجد حکیم، مسجد گوهر شاد

۳) آستان قدس رضوی شامل چه مجموعه هایی است؟

- الف) کتابخانه ی بزرگ
- ب) مهمانسرا
- پ) موزه ها
- ت) هر سه مورد

۴) کدام یک از بنادر زیر از مراکز مهم گردشگری در سواحل دریای عمان است؟

- الف) چابهار
- ب) بندر عباس
- پ) بندر امام خمینی
- ت) بندر بوشهر

۵) مهمترین قطب زیارتی کشور کدام گزینه است؟

- الف) مشهد
- ب) شیراز
- پ) ری
- ت) قم

۶) بازدید از کاخ ها و کاروان سراها و پل ها جزء کدام سفرها می باشد؟

- الف) سفرهای تاریخی
- ب) سفرهای زیارتی
- ج) طبیعت گردی
- د) موارد الف و ج

۷) در مورد پارک های ملی کدام گزینه نادرست است؟

- الف) در این پارک ها، شکار ممنوع است.
- ب) در این پارک ها، چرای دام ممنوع است.
- پ) در این پارک ها، بوته گنی ممنوع نیست.
- ت) در این پارک ها، بوته گنی ممنوع است.

۸) بخش عمده ای از سفرها در ایران جنبه ی ..... دارد.

- الف) طبیعت گردی
- ب) تاریخی
- پ) زیارتی
- ت) سیاحتی

۹) مسجد شیخ لطف الله در کدام شهر قرار دارد؟

- الف) یزد
- ب) مشهد
- پ) کرمان
- ت) اصفهان

\* ادامه ی نمونه آزمون برای - درس شانزدهم (جاذبه های گردشگری ایران) مطالعات اجتماعی هفتم دبیر مطالعات اجتماعی (طاهره مسجدی)

۱۰) دره خزینه بهشت در کدام استان قرار دارد؟

الف) گیلان  ب) لرستان  پ) مازندران  ت) اردبیل

۱۱) بندر چابهار در کدام استان واقع شده است؟

الف) کرمان  ب) بوشهر  پ) خوزستان  ت) سیستان و بلوچستان

۱۲) از مراکز مهم گردشگری به خصوص در زمستان ها کدام مورد زیر است؟

الف) سواحل دریای خزر  ب) سواحل خلیج فارس و دریای عمان  پ) جلگه ی مغان  ت) جلگه ی گرگان

**۴- رابطه ی بین گزینه های زیر را پیدا کنید و با خط به یکدیگر وصل کنید.**

۱) بازدید از اماکن تاریخی  طبیعت گردی   
۲) بازدید از اماکن مقدس  گردشگری تاریخی   
۳) سفر به مناطق طبیعی  گردشگری زیارتی

**۵- به پرسش های زیر پاسخ دهید.**

۱) سفرهای زیارتی به چه منظوری انجام می گیرد؟

۲) چرا مساجد ایران مورد توجه گردشگران می باشد؟ چند نمونه مثال بزنید.

۳) مختصری از زندگینامه امام رضا(ع) را بنویسید.

۴) حرم مطهر امام رضا(ع) و مجموعه ی آستان قدس رضوی از چه نظرهایی اهمیت دارند؟

۵) آستان قدس رضوی ای چه مجموعه هایی است؟

۶) در موزه ی مرکزی آستان قدس رضوی چه اشیایی وجود دارد؟ (نگهداری می شوند)

۷) یک نمونه از میراث جهانی کشور ایران مثال بزنید و درباره ی آن مختصری توضیح دهید.

۸) پارک های ملی چه جایگاهی است؟

۹) در مجموعه ی آستان قدس رضوی چه موزه هایی وجود دارد؟

۱۰) چرا ایران آثار و بناهای متعددی دارد؟ این آثار شامل چه چیزهایی می شود؟

۱۱) در گردشگری برای حفاظت از محیط زیست چه باید کرد؟ توضیح دهید.

۱۲) امروزه کشورها در گردشگری، برای جلوگیری از آسیب رساندن به محیط زیست چه برنامه هایی دارند؟

۱۳) تفاوت کشور ما نسبت به برخی کشورها در داشتن زیبایی های شگفت انگیز چیست؟

۱۴) امام رضا(ع) در کجا متولد شدند و در چند سالگی به امامت رسیدند؟

۱۵) هدف مأمون از انتخاب امام رضا(ع) به ولیعهدی چه بود؟

۱۶) چرا مأمون دستور داد تا امام رضا(ع) را مسموم کنند و به شهادت برسانند؟

۱۷) در صحن های مطهر امام رضا(ع) آرامگاه کدام شخصیت های بزرگ علمی مذهبی است؟

۱۸) جاذبه های تاریخی – فرهنگی مهم گردشگری کشور ما کدامند؟

۱۹) هدف از گردشگری طبیعت گردی چیست؟

۲۰) جاذبه های طبیعی مهم گردشگری کشور ما کدامند؟

۲۱) به سواحل خلیج فارس و دریای عمان و دریای خزر در چه فصولی سفر می کنند؟

۲۲) امروزه در کشورها برای جلوگیری از آسیب رساندن گردشگران محیط زیست چه برنامه ریزی هایی شده است؟

۲۳) هدف از ایجاد پارک های ملی چیست؟

۲۴) پارک ملی چه جایگاهی است و یک پارک ملی در ایران مثال بزنید.



۶- جدول (کامل کردن جدول) حرف های واژه ی مورد نظر را در جای مشخص شده در جدول بنویسید.


(۱) از مناطق گردشگری استان اردبیل که دارای آب گرم است.

(۲) این پارک ملی در استان های گلستان و خراسان شمالی واقع شده است.

(۳) آبشار ویسادار در این استان واقع شده است.

(۴) این سازمان مسئول ثبت میراث جهانی باارزش و بی همتا است.

۷- نقشه خوانی (آزمون نقشه) با توجه به نقشه، موارد خواسته شده را بنویسید.

(الف) با توجه به شماره های مشخص شده در نقشه، نام هر استان را در نقطه چین ها یا خود نقشه بنویسید.



- ۱- ..... -۱۷
- ۲- ..... -۱۸
- ۳- ..... -۱۹
- ۴- ..... -۲۰
- ۵- ..... -۲۱
- ۶- ..... -۲۲
- ۷- ..... -۲۳
- ۸- ..... -۲۴
- ۹- ..... -۲۵
- ۱۰- ..... -۲۶
- ۱۱- ..... -۲۷
- ۱۲- ..... -۲۸
- ۱۳- ..... -۲۹
- ۱۴- ..... -۳۰
- ۱۵- ..... -۳۱
- ۱۶- .....

(ب) نام استان های زیر با نام مرکزشان مشابه نیست. لطفاً در نقطه چین نام مرکز هر استان را بنویسید.

نام استان: آذربایجان غربی (نام مرکز این استان - شهر .....	نام استان: گیلان (نام مرکز این استان - شهر .....
نام استان: آذربایجان شرقی (نام مرکز این استان - شهر .....	نام استان: کردستان (نام مرکز این استان - شهر .....
نام استان: گلستان (نام مرکز این استان - شهر .....	نام استان: البرز (نام مرکز این استان - شهر .....
نام استان: چهارمحال و بختیاری (نام مرکز این استان - شهر .....	نام استان: مرکزی (نام مرکز این استان - شهر .....
نام استان: کهگیلویه و بویر احمد (نام مرکز این استان - شهر .....	نام استان: لرستان (نام مرکز این استان - شهر .....
نام استان: سیستان و بلوچستان (نام مرکز این استان - شهر .....	نام استان: مازندران (نام مرکز این استان - شهر .....
نام استان: خراسان رضوی (نام مرکز این استان - شهر .....	نام استان: هرمزگان (نام مرکز این استان - شهر .....
نام استان: خراسان شمالی (نام مرکز این استان - شهر .....	نام استان: فارس (نام مرکز این استان - شهر .....
نام استان: خراسان جنوبی (نام مرکز این استان - شهر .....	نام استان: خوزستان (نام مرکز این استان - شهر .....

## ۱- درستی یا نادرستی جملات زیر را مشخص کنید.

(۱) میراث، یعنی ارث و هر چیزی که از گذشتگان، نیاکان و پدران به ما رسیده باشد.

(۲) گاهی ممکن است مورخان با دست یافتن به شواهد و مدارک جدید، تغییراتی را در نظرات خود بدهند.

(۳) مورخان معمولاً کار خودشان را با پرسش هایی درباره ی آینده آغاز می کنند.

(۴) میراث فرهنگی، حاصل زندگی و تلاش مردمی است که در گذشته زندگی می کرده اند.

(۵) میراث فرهنگی همه ی چیزهایی ارزشمندی است که به فرهنگ یک ملت مربوط می شود.

(۶) موزه ها یکی از بخش های سازمان میراث فرهنگی نیستند.

(۷) میراث فرهنگی ممکن است آثار مادی مثل ظرف ها، سکه ها، کتیبه ها، فرش ها، کتاب های قدیمی و بناهای تاریخی، مساجد و امام زاده ها باشد.

(۸) میراث فرهنگی ممکن است چیزهای غیرمادی مثل اعتقادات، دستاوردهای علمی و هنری و فرهنگی، زبان و یا آداب و رسومی باشد که از گذشته به ما رسیده باشد.

(۹) مورخان در کار خود از یافته ها و نتایج مطالعات «باستان شناسان» نیز استفاده می کنند.

## ۲- جاهای خالی را با واژگان مناسب پر کنید.

(۱) مورخان در کار خود از دانش ..... استفاده می کنند.

(۲) موزه ها یکی از بخش های وزارت ..... هستند.

(۳) در کشور ما، یکی از مهمترین سازمان هایی که مسئولیت حفاظت و نگهداری از میراث فرهنگی را به عهده دارد .....

..... است.

(۴) میراث فرهنگی ممکن است آثار ..... مثل ظرف ها، سکه ها، کتیبه ها، فرش ها، کتاب های قدیمی و بناهای تاریخی، مساجد و امام زاده ها باشد.

(۵) میراث فرهنگی ممکن است چیزهای ..... مثل اعتقادات، دستاوردهای علمی و هنری و فرهنگی، زبان و یا آداب و رسومی باشد که از گذشته به ما رسیده باشد.

## ۳- بهترین گزینه به صورت ■ پر شود.

(۱) به کسانی که درباره ی زندگی انسان ها و رویدادهایی که در گذشته اتفاق افتاده، مطالعه و تحقیق می کنند چه می گویند؟

الف) باستان شناس  ب) مورخ  پ) پژوهشگر  ت) جهانگرد

(۲) کدام مورد زیر میراث فرهنگی غیرمادی محسوب می شود؟

الف) بناهای تاریخی  ب) امام زاده ها  پ) کتیبه ها  ت) اعتقادات

(۳) کدام مورد زیر میراث فرهنگی مادی نمی باشد؟

الف) بناهای تاریخی  ب) آداب و رسوم  پ) کتیبه ها  ت) امام زاده ها

(۴) از بخش های سازمان میراث فرهنگی کدام است؟

الف) صنایع دستی  ب) موزه ها  پ) سازمان گردشگری  ت) حفاظت از محیط زیست

(۵) موزه ها یکی از بخش های وزارت ..... هستند.

الف) میراث فرهنگی  ب) حفاظت از محیط زیست  پ) ورزش و جوانان  ت) کشور

\* ادامه ی نمونه آزمون برای ← درس هفدهم (میراث فرهنگی و تاریخ) مطالعات اجتماعی هفتم دبیر مطالعات اجتماعی (طاهره مسجدی)

۶) حفاظت از میراث فرهنگی و آثار تاریخی یک کشور وظیفه ی ..... است.

الف) موزه  ب) میراث فرهنگی  پ) شهرداری  ت) پارک های ملی

۷) کدام میراث فرهنگی با سایر گزینه ها متفاوت است؟

الف) ظروف  ب) سکه ها  پ) کتیبه ها  ت) آداب و رسوم

۴- رابطه ی بین گزینه های زیر را پیدا کنید و با خط به یکدیگر وصل کنید.

- ۱) همه ی چیزهای ارزشمند مربوط به فرهنگ، تمدن و هویت یک کشور
- ۲) مجموعه افکار، عقاید، آداب و رسوم، خط، زبان و شیوه ی زندگی مردم
- ۳) بخشی از میراث فرهنگی
- فرهنگ
- میراث فرهنگی
- موزه

۵- به پرشی های زیر پاسخ دهید.

۱) میراث فرهنگی چیست؟

۲) چرا باید از میراث فرهنگی حفاظت کنیم؟

۳) میراث فرهنگی به چند شکل وجود دارد؟ توضیح دهید و مثال بزنید. (میراث فرهنگی شامل چه چیزهایی است؟)

۴) چرا ایران دارای میراث فرهنگی بسیار زیاد و باارزش است؟

۵) قبل از انقلاب اسلامی، بخشی از آثار باستانی و گنجینه های هنری ایران به دست کدام کشورها به غارت رفت؟

۶) علم تاریخ چیست؟

۷) چه کسانی گذشته را مطالعه می کنند؟

۸) مورخان در مطالعات خود از چه منابعی استفاده می کنند؟ (چه کسانی گذشته را مطالعه می کنند؟ چگونه؟)

۹) مورخ چه زمانی نظر خود را درباره ی یک موضوع تاریخی می دهد؟

۱۰) موزه چیست؟

۱۱) وظیفه ی میراث فرهنگی، گردشگری و صنایع دستی چیست؟

۱۲) آشنایی با زندگی گذشتگان چه فایده ای دارد؟

۱۳) آیا می توان تنها با استاد به شواهد تجربی بر جای مانده و یافته های باستان شناسان به واقعیت و احوال گذشتگان پی برد؟ به

نظر شما چه راه های دیگری نیز وجود دارد؟

۱۴) مراحل کار باستان شناسان را شرح دهید.

۱۵) موزه ها چه کاربردهایی دارند؟ (سه کاربرد موزه ها را ذکر کنید)

۱۶) میراث یعنی چه؟

۱۷) چگونه می توان پی برد که ایران جایگاه تمدن های بزرگ بوده است؟

۱۸) مورخ به چه کسی می گویند؟

۱۹) کار باستان شناسان چیست؟

۲۰) باستان شناسان موقعی که خاک ها را لایه برداری می کنند، به هر شیئی که برخورد می کنند، همان موقع از آن عکس و فیلم تهیه می کنند. چرا؟

۲۱) مورخان معمولاً کار خودشان را چگونه آغاز می کنند؟

۲۲) چرا در همه ی کشورها، آثار تاریخی را در موزه ها نگهداری می کنند؟ (همان علت به وجود آمدن موزه ها را بگویید)

۲۳) وظیفه ی سازمان میراث فرهنگی چیست؟

۶- جدول (کامل کردن جدول) حرف های واژه ی مورد نظر را در جای مشخص شده در جدول بنویسید.

--	--	--	--	--	--	--	--

۱) قلعه فلک الافلاک در این شهر قرار دارد.

--	--	--	--	--	--	--

۲) گنبد کاووس در این استان قرار دارد.

--	--	--	--	--

۳) لوح های گلی یا سنگی بسیار قدیمی که بر روی آن ها خط هایی نوشته اند.

\* ادامه ی نمونه آزمون برای ← درس هفدهم (میراث فرهنگی و تاریخ) مطالعات اجتماعی هفتم دبیر مطالعات اجتماعی (طاهره مسجدی)

۷- نقشه خوانی (آزمون نقشه) با توجه به نقشه، موارد خواسته شده را بنویسید.

الف) با توجه به شماره های مشخص شده در نقشه، نام هر استان را در نقطه چین ها یا خود نقشه بنویسید.



- ۱- .....  
 ۲- .....  
 ۳- .....  
 ۴- .....  
 ۵- .....  
 ۶- .....  
 ۷- .....  
 ۸- .....  
 ۹- .....  
 ۱۰- .....  
 ۱۱- .....  
 ۱۲- .....  
 ۱۳- .....  
 ۱۴- .....  
 ۱۵- .....  
 ۱۶- .....  
 ۱۷- .....  
 ۱۸- .....  
 ۱۹- .....  
 ۲۰- .....  
 ۲۱- .....  
 ۲۲- .....  
 ۲۳- .....  
 ۲۴- .....  
 ۲۵- .....  
 ۲۶- .....  
 ۲۷- .....  
 ۲۸- .....  
 ۲۹- .....  
 ۳۰- .....  
 ۳۱- .....

ب) نام استان های زیر با نام مرکزشان مشابه نیست. لطفاً در نقطه چین نام مرکز هر استان را بنویسید.

نام استان: آذربایجان غربی (نام مرکز این استان ← شهر .....	نام استان: گیلان (نام مرکز این استان ← شهر .....
نام استان: آذربایجان شرقی (نام مرکز این استان ← شهر .....	نام استان: کردستان (نام مرکز این استان ← شهر .....
نام استان: گلستان (نام مرکز این استان ← شهر .....	نام استان: البرز (نام مرکز این استان ← شهر .....
نام استان: چهارمحال و بختیاری (نام مرکز این استان ← شهر .....	نام استان: مرکزی (نام مرکز این استان ← شهر .....
نام استان: کهگیلویه و بویر احمد (نام مرکز این استان ← شهر .....	نام استان: لرستان (نام مرکز این استان ← شهر .....
نام استان: سیستان و بلوچستان (نام مرکز این استان ← شهر .....	نام استان: مازندران (نام مرکز این استان ← شهر .....
نام استان: خراسان رضوی (نام مرکز این استان ← شهر .....	نام استان: هرمزگان (نام مرکز این استان ← شهر .....
نام استان: خراسان شمالی (نام مرکز این استان ← شهر .....	نام استان: فارس (نام مرکز این استان ← شهر .....
نام استان: خراسان جنوبی (نام مرکز این استان ← شهر .....	نام استان: خوزستان (نام مرکز این استان ← شهر .....

## ۱- درستی یا نادرستی جملات زیر را مشخص کنید.

- ۱) مورخان زمان گذشته را بر اساس حوادث و تغییرات مهم به بخش هایی تقسیم می کنند.
- ۲) دامپروری موجب شد انسان ها یکجانشین شوند.
- ۳) به عقیده ی برخی باستان شناسان احتمالاً قدیمی ترین خط دنیا را تمدن جیرفت اختراع کرد.
- ۴) به عقیده ی برخی باستان شناسان قدیمی ترین خط دنیا را تمدن ایلام اختراع کرده است.
- ۵) ورود اسلام به ایران مهمترین رویداد تاریخی کشور ما است.
- ۶) حضرت نوح(ع) برای مدت زیادی در مصر به سر می بردند.
- ۷) حضرت موسی(ع) از پیامبران بزرگ الهی بود که در بین النهرین می زیست.

## ۲- جاهای خالی را با واژگان مناسب پر کنید.

- ۱) با رونق ..... غذا به اندازه ی کافی تولید و ذخیره می شد.
- ۲) تپّه سیلک در ..... قرار دارد.
- ۳) مهمترین اثر به جای مانده از تمدن ایلام معبد ..... است.
- ۴) ابزارهای انسان های غارنشین از ..... بوده است.
- ۵) مهمترین رویداد تاریخی کشور ما ..... است.
- ۶) هم زمان با تمدن در ایران، در ..... و ..... تمدن های دیگری شکل گرفتند.
- ۷) تپّه سیلک در نزدیکی شهر ..... قرار دارد.
- ۸) تمدن جیرفت در نزدیکی ..... و در کنار رود ..... شناسایی شده است.
- ۹) سرزمین های بین رود دجله و فرات را ..... می نامند.
- ۱۰) ..... موجب شد که انسان ها یک جانشین شدند.
- ۱۱) معبد ..... که شهرت جهانی دارد، در نزدیکی شوش است.

## ۳- بهترین گزینه به صورت ■ پر شود.

- ۱) شهر سوخته در نزدیکی کدام شهر زیر می باشد؟  
الف) زابل  ب) شوش  پ) جیرفت  ت) اصفهان
- ۲) یکی از کهن ترین تمدن های شرق در کجا شناسایی شده است؟  
الف) شوش  ب) جیرفت  پ) زابل  ت) خراسان
- ۳) چشم مصنوعی و نخستین انیمیشن دنیا در این منطقه پیدا شده است.  
الف) شوش  ب) ایلام  پ) شهر سوخته  ت) جیرفت
- ۴) از کدام تمدن زیر، وسایل و ظروف سنگی با نقش جانوران، زیگورات و کتیبه های آجری کشف شده است؟  
الف) جیرفت  ب) ایلام  پ) شهر سوخته  ت) مصر
- ۵) تاریخ ایران باستان شامل چه دوره ای است؟  
الف) تاریخ دوره ساسانی  ب) تاریخ دوره اسلامی  پ) تاریخ ایران قبل از اسلام  ت) تاریخ ایران بعد از اسلام

۶) اولین روستاها در کنار ..... پدید آمدند.

الف) رودهای پر آب  (ب) غارها  (پ) دشت ها  (ت) دریاها

۷) کدام مورد از ویژگی های تمدن نیست؟

الف) داشتن خط  (ب) داشتن قوانین  (پ) داشتن مذهب  (ت) داشتن کشاورزی

۸) معبد چغازنبیل مربوط به کدام تمدن است؟

الف) ایلام  (ب) جیرفت  (پ) شهر سوخته  (ت) بابل

۹) این تمدن در کنار هلیل رود واقع شده است؟

الف) تمدن شهر سوخته  (ب) تمدن جیرفت  (پ) تمدن سومر  (ت) تمدن ایلام

۱۰) چه عاملی سبب شد که انسان ها یکجانشین شوند؟

الف) گردآوری خوراک  (ب) شکار  (پ) اهلی کردن حیوانات  (ت) کشاورزی

۱۱) به عقیده ی برخی از باستان شناسان احتمالاً قدیمی ترین خط متعلق به کدام تمدن است؟

الف) تمدن جیرفت  (ب) تمدن ایلام  (پ) تمدن شوش  (ت) تمدن شهر سوخته

۱۲) کدام یک از تمدن های زیر حدود پنج هزار سال پیش در نزدیکی شهر زابل به وجود آمده است؟

الف) تمدن جیرفت  (ب) تمدن ایلام  (پ) تمدن شوش  (ت) تمدن شهر سوخته

۱۳) کدام یک از تمدن های زیر در خوزستان می زیستند؟

الف) جیرفت  (ب) سیلک  (پ) شهر سوخته  (ت) ایلام

۱۴) کدام یک از پیامبر الهی در زمان حکمرانی امپراتوری روم در فلسطین متولد شدند؟

الف) حضرت نوح(ع)  (ب) حضرت ابراهیم(ع)  (پ) حضرت یوسف(ع)  (ت) حضرت عیسی(ع)

۱۵) گزینه ی نادرست را انتخاب کنید.

الف) هنر سفال سازی - ایلامی ها  (ب) کتیبه های آجری - جیرفت

پ) سیلک - آذربایجان غربی  (ت) زابل - شهر سوخته

۱۶) کدام یک از پیامبران الهی در سرزمین مصر به سر می بردند؟

الف) حضرت نوح(ع) و حضرت ابراهیم(ع)  (ب) حضرت یوسف(ع) و موسی(ع)

پ) حضرت موسی(ع) و عیسی(ع)  (ت) حضرت نوح(ع) و حضرت عیسی(ع)

۱۷) کدام یک از پیامبران الهی در بین النهرین می زیستند؟

الف) حضرت نوح(ع) و حضرت ابراهیم(ع)  (ب) حضرت یوسف(ع) و موسی(ع)

پ) حضرت موسی(ع) و عیسی(ع)  (ت) حضرت نوح(ع) و حضرت عیسی(ع)

۴- رابطه ی بین گزینه های زیر را پیدا کنید و با خط به یکدیگر وصل کنید.

۱) تمدنی نزدیک هلیل رود   شهر سوخته

۲) تمدنی نزدیک زابل   تمدن جیرفت

۳) زیگوارت چغازنبیل   تمدن ایلام

**۵- رابطه ی بین گزینه های زیر را پیدا کنید و با خط به یکدیگر وصل کنید.**

- (۱) این تمدن در کنار رود نیل پدید آمد.
- (۲) این تمدن در کنار هلیل رود پدید آمد.
- (۳) این تمدن در کنار بین النهرین پدید آمد.
- شهر جیرفت
- تمدن بابل
- تمدن مصر

**۶- به پرسش های زیر پاسخ دهید.**

(۱) در موزه ی ایران باستان چه چیزهایی نگهداری می شود؟

(۲) علت نامگذاری موزه ی ایران باستان چیست؟

(۳) مراحل ابتدایی زندگی بشر را توضیح دهید.

(۴) اولین روستاها در کجاها پدید آمدند؟

(۵) چگونه عده ای در کارهای دیگر غیر از کشاورزی مهارت پیدا کردند؟

(۶) در کدام مناطق ایران ظروف و وسایل زندگی مردم از دوره باستان پیدا شده است؟

(۷) انسان ها به چه منظور خط را اختراع کردند؟

(۸) نمونه هایی از تمدن های کهن ایران را ذکر کنید.

(۹) شهر سوخته حدود چند سال پیش و در کجا پدید آمده است؟

(۱۰) علت نامگذاری شهر سوخته چیست؟



- (۱۱) معبد چغازنبیل در کجا قرار دارد و از چه چیزهایی ساخته شده است؟
- (۱۲) تمدن ایلام حدود چند سال پیش و در کجا پدید آمد؟
- (۱۳) ایلامی ها چه خدایانی را پرستش می کردند؟
- (۱۴) تمدن جیرفت در کجا شناسایی شده است و چند نمونه از اکتشافات آن را نام ببرید.
- (۱۵) خداوند پیامبران را به چه منظوری به سوی مردم فرستاد؟
- (۱۶) کدام پیامبران در سرزمین های بین النهرین، مصر و فلسطین می زیستند؟
- (۱۷) تاریخ ایران به چند دوره تقسیم می شود؟ نام ببرید و توضیح دهید.
- (۱۸) چگونه نخستین تمدن های بشری به وجود آمدند؟
- (۱۹) ویژگی های تمدن ها را بیان کنید.
- (۲۰) شرایط حاکم بر زندگی و روابط اجتماعی مردم در تمدن های قدیمی چگونه بوده است؟
- (۲۱) مهمترین رویداد تاریخی کشور ما چیست؟
- (۲۲) چرا تاریخ ایران به دو دوره ی زمانی تقسیم شده است؟
- (۲۳) تاریخ دوره ی اسلامی چگونه آغاز می شود؟
- (۲۴) انسان های اولیه چگونه زندگی می کردند؟
- (۲۵) چرا غارنشینان نقش هایی بر روی دیوار غارها یا کوه های اطراف خود کنده بودند؟
- (۲۶) اولین روستاها در کجاها پدید آمدند؟
- (۲۷) در کجای ایران ظروف و وسایلی از زندگی مردم در دوران باستان پیدا شده است؟
- (۲۸) مهمترین اثر به جای مانده از تمدن ایلام چه نام دارد؟
- (۲۹) چرا می گوئیم ایلام یک تمدن است؟ چهار دلیل بیاورید.

۳۰) تمدن جیرفت در کجاست و چه وسایلی در آن کشف شده است؟

۳۱) قدیمی ترین خط دنیا مربوط به کدام تمدن است؟

۳۲) در پدید آمدن تمدن ایلام کدام رود نقش داشته است؟

۳۳) همزمان با تمدن ایلام در ایران، در منطقه ی بین النهرین و کنار رود نیل چه تمدن های دیگری شکل گرفتند؟

۳۴) درباره ی شهر سوخته به این پرسش ها پاسخ دهید: (۱) در کجا قرار دارد؟ (۲) چگونه تمدنی بود؟ (۳) علت نامگذاری آن چیست؟

**۷- جدول (کامل کردن جدول) حرف های واژه ی مورد نظر را در جای مشخص شده در جدول بنویسید.**


(۱) این رود در پدید آمدن تمدن ایلام نقش داشته است.

(۲) تمدن شهداد در این استان پدید آمد.

(۳) تپه حصار در این استان قرار دارد.

**۸- نقشه خوانی (آزمون نقشه) با توجه به نقشه، موارد خواسته شده را بنویسید.**

با توجه نام تمدن ها و تپه های ایران باستان، نام موارد خواسته شده را در نقطه چین ها یا خود نقشه بنویسید.



الف) نام تپه ای در استان سمنان:

.....

ب) نام تپه ای در استان اصفهان:

.....

پ) نام تمدن در سیستان و بلوچستان:

.....

ت) نام تمدن در استان کرمان:

.....

ث) نام تمدن در استان خوزستان:

.....

## ۱- درستی یا نادرستی جملات زیر را مشخص کنید.

- ۱) کوروش در جنگی توانست آخرین پادشاه ماد را شکست دهد و حکومت ماد را سرنگون کند.
- ۲) آخرین حکومت ایران باستان اشکانیان بود.
- ۳) پس از مهاجرت آریایی ها به ایران به ترتیب سلسله های بزرگ در ایران، حکومت کردند.
- ۴) دشمن مادها آشوری ها بودند.
- ۵) مؤسس سلسله ی ساسانیان، اردشیر بابکان از خاندان ساسان بود که بر علیه اشکانیان قیام کرد.
- ۶) بنای طاق کسری که بخشی از کاخ پادشاهان ساسانی بود و امروزه در کشور پاکستان قرار دارد.
- ۷) سنگ نگاره ی پیروزی شاپور ساسانی بر والرین امپراتور روم در نقش رستم استان فارس قرار دارد.
- ۸) به طور کلی در زمان کوروش و داریوش، قلمرو هخامنشیان بیشتر کشورهای مهم آن روز را دربرگرفته بود.

## ۲- جاهای خالی را با واژگان مناسب پر کنید.

- ۱) اولین حکومت قدرتمند در ایران ..... بود.
- ۲) با حمله ..... تخت جمشید به آتش کشیده شد.
- ۳) از حکومت ..... به عنوان نخستین امپراتوری جهان یاد شده است.
- ۴) بنیان گذار سلسله ی هخامنشیان ..... بود.
- ۵) اولین حکومت آریایی در ایران ..... بودند.
- ۶) بعد از کوروش، پادشاهان دیگری از هخامنشیان به سلطنت رسیدند که معروف ترین آن ها ..... است.
- ۷) به هر صد سال یک ..... یا ..... می گویند.
- ۸) ..... نشان می دهد که هر واقعه در چه زمانی اتفاق افتاده است. این خطّ زمان بر اساس قرن (صدسال) تنظیم شده است.
- ۹) مبدأ تاریخ مسلمانان: هجرت پیامبر(ص) از ..... به ..... را می گویند.
- ۱۰) از سال ۱ تا ۱۰۰ را قرن ..... می گویند.
- ۱۱) از سال ۱۰۱ تا ۲۰۰ را قرن ..... می گویند.
- ۱۲) از سال ۲۰۱ تا ۳۰۰ را قرن ..... می گویند.
- ۱۳) از سال ۳۰۱ تا ۴۰۰ را قرن ..... می گویند.
- ۱۴) از سال ۴۰۱ تا ۵۰۰ را قرن ..... می گویند.
- ۱۵) از سال ۵۰۱ تا ۶۰۰ را قرن ..... می گویند.
- ۱۶) از سال ۶۰۱ تا ۷۰۰ را قرن ..... می گویند.
- ۱۷) از سال ۷۰۱ تا ۸۰۰ را قرن ..... می گویند.
- ۱۸) از سال ۸۰۱ تا ۹۰۰ را قرن ..... می گویند.
- ۱۹) از سال ۹۰۱ تا ۱۰۰۰ را قرن ..... می گویند.
- ۲۰) از سال ۱۰۰۱ تا ۱۱۰۰ را قرن ..... می گویند.
- ۲۱) از سال ۱۱۰۱ تا ۱۲۰۰ را قرن ..... می گویند.
- ۲۲) از سال ۱۲۰۱ تا ۱۳۰۰ را قرن ..... می گویند.
- ۲۳) از سال ۱۳۰۱ تا ۱۴۰۰ را قرن ..... می گویند.
- ۲۴) از سال ۱۴۰۱ تا ۱۵۰۰ را قرن ..... می گویند.
- ۲۵) از سال ۱۵۰۱ تا ۱۶۰۰ را قرن ..... می گویند.
- ۲۶) از سال ۱۶۰۱ تا ۱۷۰۰ را قرن ..... می گویند.
- ۲۷) از سال ۱۷۰۱ تا ۱۸۰۰ را قرن ..... می گویند.
- ۲۸) از سال ۱۸۰۱ تا ۱۹۰۰ را قرن ..... می گویند.
- ۲۹) از سال ۱۹۰۱ تا ۲۰۰۰ را قرن ..... می گویند.
- ۳۰) از سال ۲۰۰۱ تا ۲۱۰۰ را قرن ..... می گویند.
- ۳۱) از سال یکم تا پنجاه را نیمه ی ..... می نامند.
- ۳۲) از سال پنجاه و یک تا سال صدم نیمه ی ..... می باشد.

\* ادامه نمونه آزمون برای - درس نوزدهم (آریایی ها و تشکیل حکومت های قدرتمند در ایران) مطالعات اجتماعی هفتم دبیر مطالعات اجتماعی (طاهره مسجدی)

- ۳۳) سال ۳۷۰ در نیمه ی ..... قرن ..... است.  
۳۴) سال ۳۲۹ در نیمه ی ..... قرن ..... است.  
۳۵) سال ۴۱۱ در نیمه ی ..... قرن ..... است.  
۳۶) سال ۶۱۶ در نیمه ی ..... قرن ..... است.  
۳۷) سال ۱۹۱۴ در نیمه ی ..... قرن ..... است.  
۳۸) سال ۱۹۳۹ در نیمه ی ..... قرن ..... است.  
۳۹) سال ۷۰۲ در نیمه ی ..... قرن ..... است.  
۴۰) سال ۱۴۰۲ در نیمه ی ..... قرن ..... است.

### ۳- بهترین گزینه به صورت ■ پُر شود.

۱) کوروش با حمله به کدام مناطق توانست قلمرو ایران را از خلیج فارس تا مدیترانه گسترش دهد؟

- الف) بابل و لیدی       ب) لیدی و آشور       پ) آشور و بابل       ت) آشور و یونان

۲) در زمان هخامنشیان بین ایران و کدام کشور جنگ های متعددی رخ داد؟ \* متعدد یعنی مختلف، گوناگون

- الف) روم       ب) مصر       پ) هندوستان       ت) یونان

۳) سران قبایل ماد چه کسی را به عنوان فرمانروا انتخاب کردند؟

- الف) آژی دهاک       ب) کوروش       پ) اردشیر       ت) دهبوک

۴) والریانوس توسط چه کسی شکست خورد؟

- الف) انوشیروان       ب) خسرو پرویز       پ) شاپور اول       ت) یزدگرد سوم

۵) کدام حکومت توانست به حکومت بیگانگان در ایران پایان دهد؟

- الف) سلوکیان       ب) اشکانیان       پ) هخامنشیان       ت) ساسانیان

۶) در تقویم میلادی چه چیز مبدأ تاریخ است؟

- الف) هجرت پیامبر (ص)       ب) تولد حضرت عیسی (ع)       پ) وفات پیامبر (ص)       ت) به پیامبری رسدن حضرت محمد (ص)

۷) کتیبه ی بیستون مربوط به کدام پادشاه هخامنشی است؟

- الف) شاپور اول       ب) داریوش بزرگ       پ) کوروش       ت) هخامنش

۸) نخستین حکومت ایرانی چه نام داشت؟

- الف) پارس       ب) پارت       پ) ماد       ت) ساسانی

۹) اشک با هدف مقابله با چه کسانی پارتیان و دیگر اقدام ایرانی را متحد کرد؟

- الف) سلوکیان       ب) رومیان       ج) یونانی ها       د) موارد الف و ج

۱۰) با حمله ی چه کسانی، یزدگرد سوم آخرین پادشاه ساسانی شکست خورد و ساسانیان سرنگون شدند؟

- الف) مصریان       ب) رومیان       پ) یونانی ها       ت) اعراب

۱۱) در زمان کدام فرمانروا حکومت اشکانی به امپراتوری قدرتمندی تبدیل شد؟

- الف) مهرداد دوم       ب) ارشک       پ) کوروش       ت) داریوش

۱۲) مؤسس سلسله ی ساسانی که بود؟

- الف) کوروش       ب) اشک       پ) شاپور اول       ت) اردشیر بابکان

۱۳) آخرین سلسله (حکومت) پیش از اسلام چه نام داشت؟

- الف) هخامنشی       ب) اشکانی       پ) ساسانی       ت) سلوکیان

۱۴) بنیان گذار سلسله ی هخامنشیان چه کسی بود؟

- الف) داریوش       ب) کوروش       پ) خشایار       ت) دیاکوک

\* ادامه نمونه آزمون برای - درس نوزدهم (آریایی ها و تشکیل حکومت های قدرتمند در ایران) مطالعات اجتماعی هفتم دبیر مطالعات اجتماعی (طاهره مسجدی)

۱۵) چه کسی حکومت مادها را سرنگون کرد؟ \* سرنگون یعنی از بین بردن، نابود کردن

الف) کوروش  ب) اشک  پ) اردشیر  ت) داریوش

۱۶) مادها بیشتر مورد حمله ی کدام همسایه ی خود بودند؟

الف) بابل  ب) لیدی  پ) آشور  ت) سومر

۱۷) اسلام در زمان کدام پادشاه وارد ایران شد؟

الف) کوروش  ب) اردشیر بابکان  پ) مهرداد دوم  ت) یزدگرد سوم

۱۸) معروف ترین پادشاه هخامنشیان که بود؟ الف) داریوش  ب) کوروش  پ) اردشیر بابکان  ت) هخامنش

۱۹) اولین حکومت قدرتمند در ایران به دست ..... پایه گذاری شد.

الف) مادها  ب) هخامنشیان  پ) اشکانیان  ت) ساسانیان

۲۰) یکی از مهمترین پادشاهان ساسانی، ..... است.

الف) شاپور اول  ب) اردشیر بابکان  پ) یزدگرد سوم  ت) مهرداد دوم

۲۱) در زمان کدام پادشاه ساسانی، وسعت قلمرو ایران بسیار زیاد شد و او توانست امپراتور روم (والریانوس) را شکست دهد؟

الف) شاپور اول  ب) اردشیر بابکان  پ) یزدگرد سوم  ت) مهرداد دوم

۲۲) آخرین پادشاه ساسانی چه نام داشت؟

الف) شاپور اول  ب) اردشیر بابکان  پ) یزدگرد سوم  ت) مهرداد دوم

۲۳) ابوعلی سینا در سال ۳۷۰ هجری به دنیا آمد او در چه قرنی می زیسته است؟

الف) در نیمه ی اول قرن چهارم هجری  ب) در نیمه ی دوم قرن سوم هجری   
پ) در نیمه ی اول قرن سوم هجری  ت) در نیمه ی دوم قرن چهارم هجری

۴- رابطه ی بین گزینه های زیر را پیدا کنید و با خط به یکدیگر وصل کنید.

- ۱) حکومتی بیگانه در ایران  هخامنشیان   
۲) بیرون راندن بیگانگان  ساسانیان   
۳) آخرین حکومت ایران باستان  اشکانیان   
۴) حکومتی بعد از مادها و قبل از سلوکیان در ایران  سلوکیان

۵- رابطه ی بین گزینه های زیر را پیدا کنید و با خط به یکدیگر وصل کنید.

- ۱) اردشیر بابکان  هخامنشیان   
۲) کوروش  ساسانیان

۶- به پرسش های زیر پاسخ دهید.

۱) آریایی ها چه مردمی بودند و چند سال پیش و از کجا به ایران آمدند؟

۲) آریایی ها که وارد ایران شدند را همراه محل سکونت نام ببرید. (سه گروه بزرگ آریایی ها را نام برده و بنویسید هر کدام از این قوم ها در کدام بخش ایران ساکن شدند؟)

۳) چرا مادها تصمیم گرفتند تا دهیوک فرمانروایشان باشد؟

۴) چه چیز موجب ضعیف شدن مادها شد؟

۵) هخامنش که بود؟

۶) اوضاع کشور در زمان به سلطنت رسیدن داریوش چگونه بود؟

۷) نقش برجسته بیستون به دستور چه کسی و به چه منظور روی کوه بیستون حجاری شده است؟

۸) چرا شاهان دستور می دادند چنین نقش برجسته هایی را روی سنگ ها کنده شوند؟

۹) کدام یک از کشورهای امروزی در زمان هخامنشیان جزء قلمرو ایران بودند؟

۱۰) اسکندر مقدونی کدام سرزمین ها را تصرف کرد؟

۱۱) پس از مرگ اسکندر ایران به کدام سردارش رسید و او کدام سلسله را در ایران تأسیس کرد؟

۱۲) مؤسس سلسله ی اشکانی که بود؟

۱۳) چگونه اشک موفق به آزاد سازی قسمت هایی از ایران شد؟

۱۴) چرا مردم ایران سلوکیان را نمی پذیرفتند و با آن ها مخالفت می کردند؟

۱۵) در زمان چه کسی حکومت اشکانی به امپراتوری قدرتمند تبدیل شد؟

۱۶) مؤسس سلسله ی ساسانی که بود؟

۱۷) کدام پادشاه ساسانی قلمرو ایران را وسیع ساخت و امپراتور روم را شکست داد؟

۱۸) حکومت ساسانی در زمان کدام پادشاه و با حمله ی چه گروهی و در چه سالی به پایان رسید؟

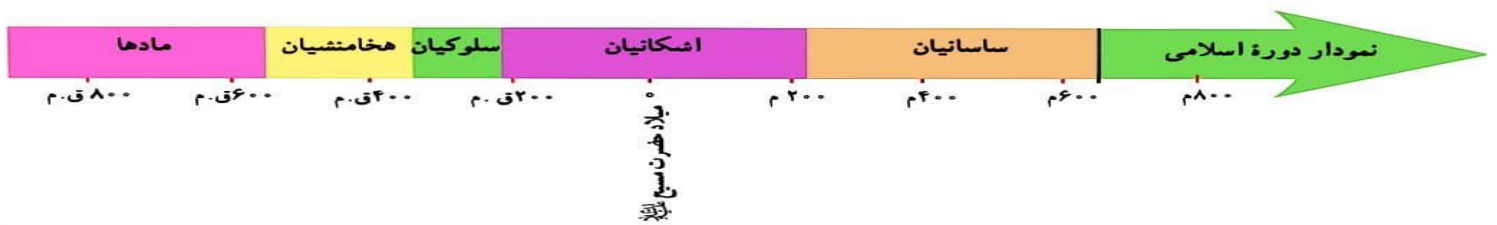
۱۹) تاریخ هجری چیست؟

۲۰) مورخان برای تعیین زمان رویدادهای پیش از اسلام از چه تقویمی استفاده می کنند؟

۲۱) مبدأ تقویم میلادی چیست؟

۲۲) مورخان برای تعیین زمان رویدادهای قبل از میلاد مسیح (ع) از چه تقویمی استفاده می کنند؟

۲۳) با توجه به نمودار خط زمان به سوالات زیر پاسخ دهید:



الف) بیشترین مدت زمان حکومت مربوط به کدام سلسله است؟

ب) کدام سلسله ها به ترتیب در ایران حکومت کردند؟

پ) هم اکنون از تولد حضرت عیسی (ع) چند سال می گذرد؟ (در کدام سال میلادی به سر می برید؟)

ت) از تأسیس حکومت اشکانی در ۲۴۸ ق. م چند سال می گذرد؟

ث) شاپور ساسانی در ۲۶۰ م. والرین امپراتور روم را شکست داد و به اسارت گرفت. محاسبه کنید چند سال پیش، این رویداد به وقوع پیوسته است؟

۱۴) قلمرو هخامنشیان در زمان کوروش چگونه بود؟ (کوروش قلمرو ایران را تا کجا گسترش داد؟)

۱۵) چرا از حکومت هخامنشی به عنوان نخستین امپراتوری جهانی یاد شده است؟

۱۶) هنگامی که اسکندر مقدونی در یونان به قدرت رسید اوضاع هخامنشان چگونه بود و اسکندر چه کرد؟

۱۷) هدف اشک از متحد کردن پارتیان و دیگر اقوام ایرانی چه بود؟

۱۸) چگونه شکل گیری حکومت ماد را توضیح دهید.

۱۹) قبایل ماد چه کسی را به عنوان فرمانروا انتخاب کردند؟ چرا؟

۲۰) رفتار کوروش با سرزمین های فتح شده چگونه بود؟

۲۱) چرا داریوش دستور داد تا نقش بر روی کوه بیستون حجاری کنند؟

۲۲) حکومت هخامنشیان به دست چه کسی از بین رفت؟

۲۳) علت حمله ی اسکندر به ایران چه بود؟

۲۴) اسکندر کدام نواحی را فتح کرد؟

۲۵) سلسله ی سلوکیان را چه کسی تأسیس کرد؟

۲۶) اشکانیان چگونه توانستند سلوکیان را از بین ببرند؟

۲۷) مؤسس سلسله ی اشکانیان چه نام داشت؟

۲۸) مؤسس سلسله ی ساسانیان چه کسی بود؟

۲۹) سلسله ی ساسانیان چگونه به پایان رسید؟

۳۰) مبدأ تاریخ ما مسلمانان چیست؟

۳۱) مبدأ تقویم میلادی را با چه حرفی نشان می دهند؟

۳۲) بیشترین مدت زمان حکومت در ایران دوره ی باستان مربوط به کدام سلسله است؟

۳۳) خطّ زمان یعنی چه؟ توضیح دهید.

۳۳) به این پرسش ها پاسخ دهید:

الف) ما اکنون در چه سال میلادی هستیم؟ .....

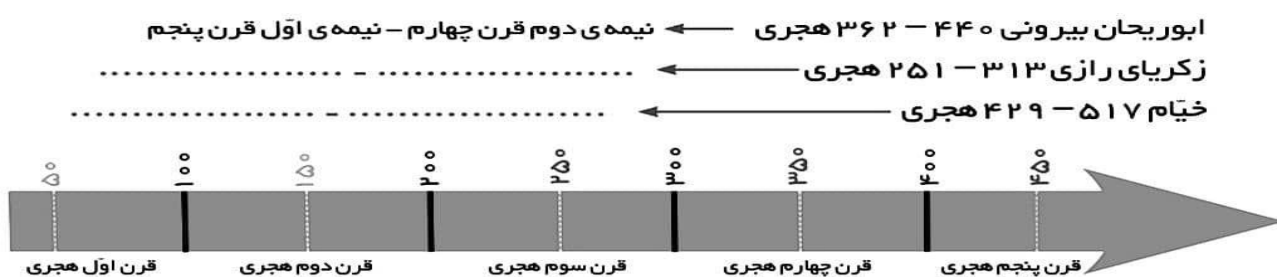
ب) محاسبه کنید که از آغاز حکومت اشکانیان (۲۴۸ ق . م) چند سال گذشته است؟ - یعنی ..... سال پیش

پ) محاسبه کنید که از پایان حکومت ساسانیان (۶۵۱ م) چند سال گذشته است؟ - یعنی ..... سال پیش

ت) محاسبه کنید که از پیروزی شاپور بر والرین امپراتور روم (۲۶۰ م) چند سال گذشته است؟ - یعنی ..... سال پیش

۳۴) شکل خطّ زمان از سال یکم هجری تا ۷۰۰ هجری را بکشید و در آن سال ۱۳۲ هجری - ۳۷۰ تا ۴۲۸ هجری - ۶۱۶ هجری را نشان دهید.

۳۵) در خطّ زمان زیر، موارد خواسته شده را نشان دهید.



۷- جدول (کامل کردن جدول) حرف های واژه ی مورد نظر را در جای مشخص شده در جدول بنویسید.

--	--	--	--	--	--

۱) سردار ایرانی که به جنگ سردار رومی کراسوس رفت.

--	--	--	--	--

۲) خرابه های کاخ کسرا امروز در این کشور قرار دارد.

--	--	--	--	--	--	--	--

۳) این پادشاه هخامنشی کشور را به ۲۳ ایالت تقسیم کرد.

--	--	--	--

۴) این شهر در جنگ های ایران و یونان به تصرف هخامنشیان درآمد.

--	--	--	--	--

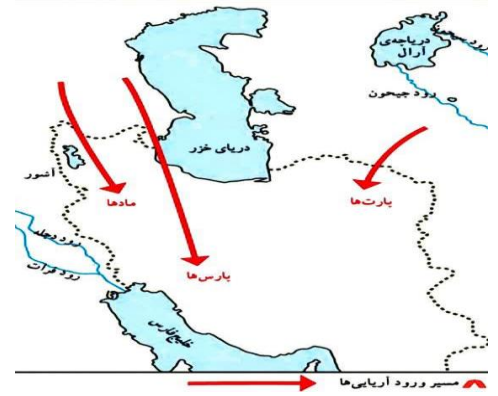
۵) در سال ۶۵۱ به ایران حمله کردند.



۸- تصویر خوانی: به تصویر زیر بنگرید و در مورد آن دو سطر (خط) توضیح دهید.



۹- نقشه خوانی: کنار هر یک از نقشه های زیر بنویسید که درباره آن چه می دانید و مربوط به کدام حکومت است؟



### ۱- درستی یا نادرستی جملات زیر را مشخص کنید.

- در ایران باستان مخارج سنگین دربار از گرفتن مالیات از مردم تأمین می شد.
- هر بخش، از پایتخت دستور می گرفت و طبق نظر خود عمل می کرد.
- اشکانیان (پارتیان) در تاریخ جهان به جنگاوران مشهور بودند.
- سپاه ایران از سواره نظام و پیاده نظام تشکیل می شد.
- در ایران باستان اگر شاه از مسیر قانون و عدالت منحرف می شد حمایت اهورایی از او گرفته می شد.
- در ایران باستان شیوه ی حکومت پادشاهی بود.
- خدمت در سپاه جاویدان، بزرگ ترین آرزوی جوانان پارسی بود.

### ۲- جاهای خالی را با واژگان مناسب پر کنید.

- در ایران باستان شیوه ی حکومت ..... بود.
- شاهان ایران باستان خود را برگزیده ..... و نماینده ..... می دانستند.
- شاهان در ابتدای سلطنت در حضور ..... تاج گذاری می کردند.
- داریوش برای هر ایالت یک ..... انتخاب می کرد.
- هزینه ی شاهان ایران باستان از گرفتن ..... از مردم تأمین می شد.
- نخستین کسانی که سرزمین خود را به بخش های مختلف تقسیم کردند ..... بودند.
- پادشاهان، شهری را به عنوان ..... انتخاب می کردند.

### ۳- بهترین گزینه به صورت ■ پر شود.

۱) در ایران باستان چه کسانی می توانستند شاه را عزل یا برکنار کنند؟

الف) موبدان و بزرگان  ب) بزرگان و دبیران  پ) موبدان و فرماندهان  ت) منشیان و دبیران

۲) کدام شهر پایتخت (مرکز) ساسانیان بود؟ الف) شوش  ب) هگمتانه  پ) تیسفون  ت) صدروازه

۳) شوش و صدروازه در کدام حکومت ها پایتخت بودند؟

الف) ساسانیان، هخامنشیان  ب) اشکانیان، هخامنشیان  پ) ساسانیان، اشکانیان  ت) هخامنشیان، اشکانیان

۴) در ایران باستان مهم ترین مقام بعد از شاه چه بود؟

الف) رئیس دربار  ب) دبیران  پ) رئیس تشریفات  ت) وزیر بزرگ

۵) پرسپولیس نام کدام پایتخت هخامنشی بود؟

الف) هگمتانه  ب) تخت جمشید  پ) شوش  ت) بابل

۶) سپاهیان کدام یک از دولت های زیر در سوارکاری و تیراندازی (جنگاوری) مهارت داشتند؟

الف) هخامنشی  ب) مادها  پ) پارت ها  ت) ساسانیان

۷) تشکیل سپاه جاویدان از ابتکارات چه کسی بود؟

الف) کوروش  ب) داریوش  پ) شاپور  ت) اشک

۸) در کدام حکومت ایران باستان، سه مجلس شاهی، بزرگان و مهستان برای اداره ی کشور به وجود آمده بود؟

الف) اشکانیان  ب) ساسانیان  پ) مادها  ت) هخامنشیان

\* ادامه نمونه آزمون برای - درس بیستم (امپراتوری های ایران باستان چگونه کشور را اداره می کردند؟) مطالعات هفتم دبیر مطالعات اجتماعی (طاهره مسجدی)

۹) این مقام حکومتی، مسئول کارهای اداری مملکت بود؟

الف) رئیس دربار یا تشریفات  ب) وزیر بزرگ  پ) منشیان و دبیران  ت) مأموران مخفی شاه

۱۰) به چه کسانی چشم و گوش شاه می گفتند؟

الف) مأموران مخفی  ب) رئیس دربار  پ) وزیر بزرگ  ت) رئیس تشریفات

۱۱) کارهای اداری و مالی و نوشتن نامه ها وظیفه ی کدام مقام حکومتی بود؟

الف) رئیس تشریفات  ب) وزیر بزرگ  پ) منشیان و دبیران  ت) مأموران مخفی شاه

۱۲) پایتخت مادها کدام شهر بود؟ الف) صدروازه  ب) همدان (هگمتانه)  پ) تیسفون  ت) تخت جمشید

۱۳) اشکانیان در تاریخ جهان به آن مشهور بودند؟ الف) معماری  ب) جنگاوری  پ) کشورداری  ت) کشاورزی

۱۴) در ایران باستان چه کسانی می توانستند شاه را عزل یا برکنار کنند؟

الف) دبیران و موبدان  ب) بزرگان و دبیران  پ) بزرگان و موبدان  ت) منشیان و رؤسای دربار

۱۵) کدام شهر جزء پایتخت های هخامنشیان نبود؟ الف) تخت جمشید  ب) شوش  پ) همدان  ت) تیسفون

۱۶) تهیه گزارش از قسمت های مختلف کشور از وظایف چه کسانی در دوره ی ساسانیان بود؟

الف) وزیر بزرگ  ب) رئیس دربار یا تشریفات  پ) منشیان و دبیران  ت) مأموران مخفی شاه

**۴- رابطه ی بین گزینه های زیر را پیدا کنید و با خط به یکدیگر وصل کنید.**

- ۱) مهمترین مقام بعد از شاه  منشیان و دبیران   
۲) مسئول رسیدگی به کارهای کاخ شاهی  وزیر بزرگ   
۳) انجام امور مالی و نوشتن نامه ها  رئیس دربار یا تشریفات

**۵- رابطه ی بین گزینه های زیر را پیدا کنید و با خط به یکدیگر وصل کنید.**

- ۱) سپاه جاویدان  اشکانیان   
۲) هگمتانه  مادها   
۳) مجلس مهستان  داریوش

**۶- به پرسش های زیر پاسخ دهید.**

۱) شیوه ی حکومت در ایران باستان را شرح دهید.

۲) شاهان ایران باستان بر چه اموری فرمانروایی مطلق داشتند؟

۳) چرا اسم داریوش بر روی مُهرها، به سه نوع خط (ایلامی، بابلی، پارسی) حک شده است؟

۴) چند مورد از ویژگی های حکومت در ایران باستان را بنویسید.

۵) بعضی از منشیان و دبیران به چند زبان و خط آشنایی داشتند. چرا؟

۶) چشم و گوش های شاه چه موضوعاتی را به شاه خبر می دادند؟

۷) تقسیمات کشوری در زمان داریوش را شرح دهید.

۸) پایتخت حکومت های دوران باستان را نام ببرید.

۹) سرزمین ایران باستان از غرب و شرق مورد هجوم چه کسانی بود؟

۱۰) چرا حکومت های ایران باستان سپاه و نیروی نظامی بزرگ به وجود آورده بودند؟

۱۱) با توجه به تصاویر زیر بگویید لباس و تجهیزات سواره نظام و پیاده نظام چه فرقی داشت؟



۱۲) چرا در ایران باستان شغل های مختلفی به وجود آمده بود؟

۱۳) در حکومت های ایران باستان، رأی و نظر مردم چه جایگاهی داشت؟

۱۴) چرا سرزمین ایران همواره مورد هجوم دشمنان بود؟

۱۵) سپاه جاویدان از ابتکارات کدام پادشاه بود؟ توضیح دهید.

۱۶) حکومت های ایران باستان را نام ببرید.

۱۷) چرا در دوره ی اشکانیان، قدرت و نفوذ پادشاهان مانند سایر شاهان ایران باستان نبود؟

۱۸) چرا برای اداره ی امور کشور، شغل ها و مقام های مختلفی به وجود آمده بود؟

۱۹) مقام های مهم حکومتی در ایران باستان را نام ببرید.

۲۰) وزیر بزرگ در ایران باستان چه وظیفه ای داشت؟

۲۱) رئیس دربار یا تشریفات در ایران باستان چه وظیفه ای داشت؟

۲۲) منشیان و دبیران در ایران باستان چه وظایفی داشتند؟

۲۳) مأموران مخفی شاه در ایران باستان چه وظایفی داشتند؟

۲۴) چرا بعضی از منشیان و دبیران به چند زبان و خط آشنایی داشتند؟

۲۵) داریوش برای اداره ی بهتر کشور چه اقداماتی انجام داد؟

۲۶) پایتخت ایران در زمان حکومت ماد کدام شهر بود؟

۲۷) پایتخت ایران در زمان حکومت هخامنشیان کدام شهر بود؟

۲۸) پایتخت ایران در زمان حکومت اشکانیان کدام شهر بود؟

۲۹) پایتخت ایران در زمان حکومت ماد ساسانیان شهر بود؟

۳۰) چرا سرزمین ایران همواره از شرق و غرب در معرض هجوم دشمنان بود؟

۳۱) لباس و تجهیزات سواره نظام و پیاده نظام چه فرقی داشت؟

۳۲) ایرانیان باستان از چه ابزار و فنون نظامی استفاده می کردند و چه ابتکاراتی از خودشان نشان می دادند؟

۳۳) به نظر شما کدامیک از ابتکارات نظامی ایران باستان جالب تر است؟

۳۴) جنگ یا عملیات پارتیزانی چه نوع جنگی است و چرا به این نام مشهور است؟

\* ادامه نمونه آزمون برای - درس بیستم (امپراتوری های ایران باستان چگونه کشور را اداره می کردند؟) مطالعات هفتم دبیر مطالعات اجتماعی (طاهره مسجدی)

۳۵) چرا در زمان های باستان، جنگ های بزرگی بین حکومت ها درمی گرفت؟ هدف از لشکرکشی ها چه بود؟ به نظر شما هدف از جنگ ها و لشکرکشی ها در جهان امروز چیست؟

**۷- جدول (کامل کردن جدول) حرف های واژه ی مورد نظر را در جای مشخص شده در جدول بنویسید.**


۱) قلمرو کدام حکومت ایران وسیع تر بود؟

۲) در کدام دوره قدرت و نفوذ پادشاهان کمتر شد؟

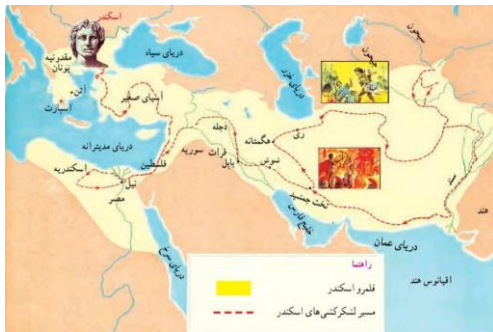
۳) صد دروازه در کدام شهر امروزی واقع بود؟

۴) خدای یگانه در ایران باستان چه نام داشت؟

**۸- تصویر خوانی: به تصویر زیر بنگرید و در مورد آن دو سطر (خط) توضیح دهید.**



**۹- نقشه خوانی: کنار هر یک از نقشه های زیر بنویسید که درباره آن چه می دانید و مربوط به کدام حکومت است؟**



### ۱- درستی یا نادرستی جملات زیر را مشخص کنید.

- ۱) در ایران باستان، مردان زمانی می توانستند مقام و منصبی بگیرند که همسر داشته باشند.
- ۲) دوره ی اشکانیان جمعیت شهری به طور چشمگیری افزایش یافت.
- ۳) شاهنامه ی فردوسی یکی از منابع پی بردن به اوضاع و احوال مردم ایران باستان است.
- ۴) در شهرها پیشه وران و کشاورزان در حومه ی شهر ساکن بودند.
- ۵) در دوره ی ساسانیان جمعیت شهرنشینی به طور چشمگیری افزایش یافت.
- ۶) آریایی ها که به ایران مهاجرت کردند، قبیله های کوچ نشین بودند که به تدریج یکجانشین شدند.
- ۷) در گذشته های دور اغلب جوامع و تمدن های باستانی، نظام طبقاتی داشتند.

### ۲- جاهای خالی را با واژگان مناسب پر کنید.

- ۱) در ایران باستان ..... هسته ی اولیه ی جامعه را تشکیل می داد.
- ۲) اغلب تمدن های باستانی نظام ..... داشتند.
- ۳) در نزد ایرانیان ..... یک تکلیف دینی و پیمان مقدس بود.
- ۴) در ایران باستان اغلب مردم در ..... زندگی می کردند.
- ۵) در ایران باستان ..... بیشترین جمعیت آن زمان را تشکیل می دادند.
- ۶) در ایران باستان فعالیت های اقتصادی مهم بر دوش ..... بود.
- ۷) در جامعه ی ساسانی ..... نفوذ زیادی در دستگاه حکومتی داشتند.
- ۸) اغلب تمدن های باستانی نظام ..... داشتند.
- ۹) در دوره ی ساسانی ..... اکثریت جامعه را تشکیل می دادند.

### ۳- بهترین گزینه به صورت ■ پر شود.

- ۱) اختلافات طبقاتی در چه دوره ای به اوج رسید؟  
 الف) اشکانیان       ب) هخامنشیان       پ) سلوکیان       ت) ساسانیان
- ۲) تقسیم کار اجتماعی پس از چه مرحله ای از زندگی انسان ها پدید آمد؟  
 الف) روستا نشینی       ب) شهرنشینی       پ) غارنشینی       ت) یکجاشینی
- ۳) کدام مورد زیر از طبقه ی بزرگان نبودند؟  
 الف) دبیران       ب) موبدان       پ) بازرگانان       ت) فرماندهان نظامی
- ۴) کدام یک از امتیازات زیر به کشاورزان تعلق نداشت؟  
 الف) آن ها و فرزندانشان حق تحصیل نداشتند.       ب) بار سنگین مالیات بر دوش آن ها بود.   
 پ) در جنگ ها، سپاه سواره نظام بودند.       ت) فعالیت های مهم اقتصادی بر دوش آن ها بود.
- ۵) در مورد ازدواج در ایران باستان، کدام گزینه نادرست است؟  
 الف) خویشاوندی بود.       ب) درون گروهی بود.   
 پ) افراد توانگر و ثروتمند تک همسر بودند.       ت) با افراد دودمان خود ازدواج می کردند.

\* ادامه ی نمونه آزمون برای - درس بیست و یکم (اوضاع اجتماعی ایران باستان) مطالعات اجتماعی هفتم دبیر مطالعات اجتماعی (طاهره مسجدی)

۶) در خانواده ی ایران باستان، چه کسی به عنوان سرپرست خانواده نقش مهمی داشت؟

الف) مادر  ب) پدر  پ) فرزندان  ت) پدر و مادر

۷) در ایران باستان، کدام گروه اکثریت (بیشتر) جامعه را تشکیل می دادند؟

الف) کشاورزان  ب) بازرگانان  پ) پیشه وران  ت) روحانیون زرتشتی

۸) کدام گروه جزء عامه ی مردم نبودند؟

الف) پیشه وران  ب) کشاورزان  پ) بازرگانان  ت) روحانیون زرتشتی

۴- رابطه ی بین گزینه های زیر را پیدا کنید و با خط به یکدیگر وصل کنید.

۱) موبدان  ۲) ساسانیان

۲) در این دوره جمعیت شهرنشینی به طور چشمگیری افزایش یافت.  ۳) اشراف

۵- رابطه ی بین گزینه های زیر را پیدا کنید و با خط به یکدیگر وصل کنید.

۱) حق تحصیل و آموزش داشتند.

۲) سپاه پیاده نظام بودند.  ۳) اشراف

۳) بازرگانان  ۴) عامه ی مردم

۴) مُعاف از پرداخت مالیات

۶- به پرشی های زیر پاسخ دهید.

۱) در ایران باستان، پدر چه نقشی بر عهده داشت؟

۲) ازدواج در ایران باستان چگونه بوده است؟

۳) در ایران باستان، اولاد (جمع وکد است - به معنی فرزندانِ پسر) پسر چه جایگاهی داشت؟

۴) خانواده در ایران باستان مرکز آموزش چه اصول و ارزش هایی بود؟

۵) شهرها در ایران باستان محل زندگی چه گروه هایی بود؟

۶) به طور کلی مردم در جامعه ی ساسانی به چه دسته هایی تقسیم می شدند؟ (مردم در زمان حکومت ساسانیان به چند دسته تقسیم می شوند؟)

۷) طبقه ی بزرگان شامل چه کسانی بودند؟

۸) طبقه ی عامه ی مردم شامل چه کسانی بودند؟



۹) در دوره ی ساسانی چه کسانی از اختلافات طبقاتی حمایت می کردند؟

۱۰) هرودوت مورخ یونانی درباره ی اختلافات طبقاتی دوره ی ساسانیان چه نوشته است؟

۱۱) در چه شرایطی مردم سخت کوش و حق طلب ایران از اسلام استقبال کردند؟ چرا؟

۱۲) وضعیت کشاورزان در ایران باستان چگونه بود؟

۱۳) چگونه در ایران باستان اختلافات طبقاتی به وجود آمد؟ (چرا به تدریج اختلاف طبقاتی در جامعه به وجود آمد و طبقات اجتماعی امتیازات و حقوق متفاوتی به دست آوردند؟)

۱۴) امتیازات طبقه اشراف و بزرگان را فهرست کنید. (چهار مورد)

۱۵) نظام طبقاتی در دوره ی ساسانیان را شرح دهید.

۱۶) چرا ازدواج در ایران باستان به شکل خویشاوندی و درون گروهی بود؟

۱۷) خانواده ی امروز را با خانواده ی ایران باستان مقایسه کنید. (چند شباهت و چند تفاوت بیان کنید)

۱۸) در ایران باستان تربیت و آموزش چگونه صورت می گرفت؟

۱۹) در کتاب اوستا، مردم به چه دسته هایی تقسیم شده بودند؟

۲۰) آیا در جامعه طبقاتی، رفتن از طبقه ای به طبقه ی ممکن بود؟ در این رابطه توضیح دهید.

\* ادامه ی نمونه آزمون برای - درس بیست و یکم (اوضاع اجتماعی ایران باستان) مطالعات اجتماعی هفتم دبیر مطالعات اجتماعی (ظاهره مسجدی)

(۲۱) در دوره ی ایران باستان، زندگی شاهان و شاهزادگان چگونه بود؟

۷- جدول (کامل کردن جدول) حرف های واژه ی مورد نظر را در جای مشخص شده در جدول بنویسید.

--	--	--	--	--	--

(۱) تعدادی خانواده که همگی خود را از یک نسل یا جد مشترک می دانند.

--	--	--	--

(۲) به زمین های اطراف شهر می گویند.

--	--	--	--	--	--

(۳) مکانی که زردشتیان برای نیایش می ساختند.

--	--	--	--	--	--

(۴) مورخ یونانی که درباره ی اوضاع اجتماعی ایران باستان مطالبی نگاشته است.

۸- تصویر خوانی: به تصویر بنگرید و در مورد آن دو سطر (خط) توضیح دهید.



۹- کاربرگه آخر کتاب: به پرسش های زیر پاسخ دهید.

۱- با توجه به نقشه صفحه ۱۲۶ و ۱۲۷ کتاب درسی نام شهرهای دوره هخامنشی و دوره ساسانی را در قلمرو ایران کنونی در

جدول بنویسید.

رگ (ری)....	نام شهرهای دوره هخامنشی
-------------	-------------------------

استخر،	نام شهرهای دوره ساسانی
--------	------------------------

از مقایسه دو جدول بالا چه می فهمید؟

۲- چند شهر از دوره ایران باستان نام ببرید که در ایران امروز با همان نام قبلی یا نام دیگر وجود دارند.

--

## ۱- درستی یا نادرستی جملات زیر را مشخص کنید.

- ۱) مهمترین محصول زراعی ایران باستان پنبه بود.
- ۲) کشور ایران مانند یک پل ارتباطی بین شمال و جنوب قرار دارد.
- ۳) در ایران باستان مالیات منبع اصلی درآمد حکومت بود.
- ۴) تجارت دریایی در دوره ساسانیان رونق گرفت.
- ۵) در دوره ی ایران باستان، کشاورزی منبع اصلی درآمد حکومت بود.
- ۶) یکی از ویژگی های تمدن ها، داشتن اقتصاد پُرونق است.
- ۷) در اوستا و کتیبه های دوران باستان، عباراتی درباره ی اهمیت و ارزش کشاورزی دیده می شود.
- ۸) فعالیت های کشاورزی از طرف حکومت های ایران باستان تشویق نمی شد.

## ۲- جاهای خالی را با واژگان مناسب پر کنید.

- ۱) مهمترین پیشه (شغل) و وسیله ی معیشت در ایران باستان ..... بود.
- ۲) حکومت ..... مانع از ارتباط مستقیم میان چین و روم بود.
- ۳) برای اولین بار به فرمان داریوش کبیر سکه ای به نام ..... یا ..... ضرب شد. \* ضرب سکه یعنی سکه زدن
- ۴) در ایران باستان بیشترین حجم مالیات را ..... پرداخت می کردند.
- ۵) در ایران باستان مالیات سرانه فقط از ..... گرفته می شد.
- ۶) به فرمان ..... هخامنشی جاده ی شاهی ساخته شد.
- ۷) تجارت دریایی در دوره ..... رونق گرفت.
- ۸) ..... ارزشمندترین و پرسودترین کالای تجاری در ایران باستان بود.

## ۳- بهترین گزینه به صورت ■ پر شود.

- ۱) در ایران باستان ارزشمندترین و پرسودترین کالای تجاری چه بود؟  
الف) پنبه       ب) ابریشم       پ) گندم       ت) جو
- ۲) به فرمان چه کسی جاده شاهی ساخته شد؟  
الف) کوروش       ب) داریوش       پ) انوشیروان       ت) اردشیر
- ۳) چرا ایرانیان باستان به تجارت دریانوردی روی آوردند؟  
الف) به دلیل نزدیک بودن به دریا       ب) به دلیل داشتن کشتی های بزرگ   
پ) به دلیل ارتباط با چین       ت) به دلیل تجربه و مهارت در دریانوردی
- ۴) مهمترین پیشه و وسیله ی معیشت در ایران باستان چه بود؟  
الف) تجارت       ب) کشاورزی       پ) دام داری       ت) بازرگانی
- ۵) در کدام دوره ی ایران باستان، شهرنشینی رونق بیشتری داشت؟  
الف) دوره ی ماد       ب) دوره ی هخامنشی       پ) دوره ی اشکانی       ت) دوره ی ساسانی

۶) مهمترین محصول زراعی ایرانیان باستان چه بود؟

- الف) پنبه و جو  ب) گندم و پنبه  پ) خشکبار و پنبه  ت) گندم و جو

۷) کدام سکه برای اولین بار به فرمان داریوش بزرگ ضرب شد؟

- الف) دریک  ب) نقره ای  پ) مسی  ت) سیمین

۸) در مورد رونق تجارت کدام گزینه نادرست است؟

- الف) ایجاد جاده شاهی به فرمان داریوش کبیر  ب) برقراری امنیت در راه ها   
پ) ایجاد کاروانسرا در فاصله ی معین  ت) صادرات خشکبار

۹) در کدام دوره ی ایران باستان، تجارت دریایی رونق گرفت؟

- الف) ساسانیان  ب) هخامنشیان  پ) اشکانیان  ت) مادها

۱۰) در ایران باستان، مالیات سرانه از چه کسانی دریافت می شد؟

- الف) بزرگان  ب) عامه ی مردم  پ) روحانیون زرتشتی  ت) اشراف

۱۱) کدام حکومت ایران باستان، تمایل داشت ابریشم چینی توسط بازرگانان ایرانی به روم صادر شود؟

- الف) هخامنشیان  ب) مادها  پ) ساسانیان  ت) اشکانیان

۱۲) در مورد اشراف و بزرگان کدام گزینه نادرست است؟

- الف) از حق تحصیل و آموزش برخوردار بودند.  ب) زمین ها و ثروت های فراوان داشتند.   
پ) از حقوق و اختیارات زیادی برخوردار بودند.  ت) مالیات سرانه پرداخت می کردند.

۱۳) در دوره ی ایران باستان چه کسانی از اختلافات طبقاتی حمایت می کردند؟

- الف) بازرگانان  ب) موبدان زرتشتی  پ) فرماندهان نظامی  ت) دبیران

۱۴) منبع اصلی درآمد حکومت در دوره ی باستان چه بود؟

- الف) فروش محصولات کشاورزی  ب) صادرات قالی و قالیچه  پ) مالیات  ت) صادرات ابریشم

۱۵) در ایران باستان، بخش زیادی از درآمدهای حکومتی صرف چه چیزی می شد؟

- الف) مصارف شخصی شاه و شاهزادگان  ب) جنگ با دشمنان   
پ) پرداخت حقوق مأموران حکومتی  ت) احداث، نگه داری و تعمیر آتشکده ها

۱۶) سکه ی دریک یا زیریک به فرمان کدام پادشاه هخامنشی ضرب می شد؟

- الف) داریوش سوم  ب) هخامنش  پ) داریوش اول (کبیر)  ت) کوروش

۱۷) جاده ی شاهی به فرمان چه کسی ساخته شد؟

- الف) خشایارشا  ب) اردشیر  پ) داریوش اول (کبیر)  ت) کوروش

۴- رابطه ی بین گزینه های زیر را پیدا کنید و با خط به یکدیگر وصل کنید.

۱) سکه ی دوران هخامنشی  یکجانشینی

۲) مالیات عامه ی مردم  دریک

۳) تقسیم کار  سرانه

## ۵- رابطه ی بین گزینه های زیر را پیدا کنید و با خط به یکدیگر وصل کنید.

- (۱) ارابه های ساخت ایران به ظرافت و زیبایی مشهور بوده است.
- (۲) یونانی ها از تلاش های شاهان آن برای تشویق به کشاورزان حسرت می خوردند.
- دوره هخامنشی
- دوره ساسانی

## ۶- به پرسش های زیر پاسخ دهید.

(۱) کشاورزی در ایران باستان چه جایگاهی داشت؟

(۲) چرا در ایران باستان کارگاه های پنبه ریزی توسعه یافت؟

(۳) تهیه شال های پشمی و حریر در کارگاه های کدام شهرها رواج داشت؟

(۴) چرا جاده ی ابریشم به این نام معروف شد و کدام مناطق را به هم متصل می کرد؟

(۵) چرا ساسانیان مانع از ارتباط مستقیم تجاری میان چین و هند با روم (اروپا) می شدند و از این کار چه هدفی داشتند؟

(۶) رفت و آمد بازرگانان از طریق جاده ابریشم علاوه بر تجارت و انتقال کالاها چه پیامدهای دیگری برای مردم کشورهای آن زمان داشت؟

(۷) کالاهای صادراتی ایران باستان را نام ببرید.

(۸) در ایران باستان ضرب سکه های زرین، سیمین و مسین چگونه انجام می شد؟

(۹) در چه مواردی فشار برای گرفتن مالیات کمتر می شد؟

(۱۰) در ایران باستان درآمد حکومت صرف چه چیزهایی می شد؟

(۱۱) صنعت در ایران باستان چگونه بوده است؟

(۱۲) چه عواملی موجب رونق تجارت در ایران باستان شد؟ (سه مورد)

(۱۳) در ایران باستان مالیات ها به چه شکل هایی از مردم وصول می شد؟

۱۴) مهمترین محصول زراعی ایرانیان باستان چه بود؟

۱۵) چهارشغل یا حرفه از جهان امروز نام ببرید که در جهان باستان وجود نداشته است. بگویید چرا این حرفه ها نمی توانستند در جامعه ی آن زمان وجود داشته باشند؟

۱۶) چهار شغل یا حرفه از جهان باستان نام ببرید که در جهان امروز هم وجود دارد. بگویید این حرفه ها چه تغییری نسبت به آن زمان داشته اند؟

۱۷) رفت و آمد بازرگانان از طریق جاده ی ابریشم علاوه بر تجارت و انتقال کالاها، چه پیامدهای دیگری برای مردم کشورهای آن زمان داشت؟

۱۸) ارزشمندترین و پرسودترین کالای تجاری در ایران باستان چه بود و از کدام کشور به چه جاهایی صادر می شد؟

۱۹) چرا ساسانیان مانع از ارتباط مستقیم تجاری میان چین و هند با روم اروپا می شدند و از این کار چه هدفی داشتند؟

۷- جدول (کامل کردن جدول) حرف های واژه ی مورد نظر را در جای مشخص شده در جدول بنویسید.

--	--	--	--	--	--	--

۱) در این دوره ایران باستان تجارت دریایی رونق گرفت.

--	--	--	--	--	--

۲) بزرگان و اشراف از پرداخت این نوع مالیات مُعاف بودند.

--	--	--

۳) با ضرب آن تجارت رونق بسیار پیدا کرد.

--	--	--	--	--

۴) در دوره هخامنشی این کشور از تلاش های شاهان پارس برای تشویق به کشاورزی حسرت می خوردند.

۸- تصویر خوانی: به تصویر بنگرید و در مورد آن دو سطر (خط) توضیح دهید.



### ۱- درستی یا نادرستی جملات زیر را مشخص کنید.

- در ایران باستان تعلیمات مذهبی و تأثیر زیادی در زندگی فردی و اجتماعی داشت.
- در ایران باستان غذای اصلی مردم غلات بود.
- کتاب زرتشتیان انجیل نام دارد.
- در زمان هخامنشیان و ساسانیان ورزش چوگان انجام می شده است.
- جشن ها با تغییر فصل ها و شروع و پایان کار کشاورزی ارتباط زیادی داشت.
- موبدان زرتشتی به رواج و گسترش دین های دیگر می پرداختند.
- اغلب ایرانیان باستان، کشاورز و دامدار بودند.

### ۲- جاهای خالی را با واژگان مناسب پر کنید.

- مردم ایران باستان روغن زیتون را از ..... و ادویه را از ..... به ایران وارد می کردند.
- پیامبر ایران باستان ..... نام داشت که قبل از حکومت ..... می زیست.
- ایرانیان باستان ..... را مقدس می شمردند.
- در کتاب ..... ورزش چوگان اشاره شده است.
- ایرانیان باستان برای آرد کردن غلات ..... را ابداع کردند.
- دین رسمی در دوره ی ساسانیان ..... بود.
- در عهد باستان مردم ایران در طی سال، چندین جشن برپا می کردند و شاد زیستن را یک ..... می دانستند.
- زمان هخامنشیان جشن نوروز در ..... برگزار می شد و پس از آن، سلسله های دیگر نیز نوروز را ..... داشته اند.
- ..... و ..... یکی از نشانه های عظمت و رحمت خداوند است.

### ۳- بهترین گزینه به صورت ■ پر شود.

- جشن نوروز در دوره ی هخامنشیان در کدام پایتخت برگزار می شد؟  
الف) شوش  ب) بابل  پ) تخت جمشید  ت) هگمتانه
- دین رسمی کشور، در دوره ی ساسانیان چه بود؟ الف) مسیحی  ب) مانوی  پ) یهودی  ت) زرتشتی
- جشن نوروز را به کدام پادشاه اسطوره ای ایران نسبت می دهند؟  
الف) داریوش  ب) جمشید  پ) کوروش  ت) خشایارشا
- روغن زیتون و ادویه به ترتیب هر کدام از چه کشورهایی به ایران وارد می شد؟  
الف) هندوستان، یونان  ب) لیدی، یونان  پ) هندوستان، بین النهرین  ت) یونان - هندوستان
- در مورد نقل قول هرودوت کدام گزینه نادرست است؟ «ایرانیان به فرزندان خود سه چیز می آموختند...»  
الف) سوارکاری  ب) راستگویی  پ) کشتی  ت) تیراندازی
- در کدام یک از جشن های ایران باستان در شب دهم بهمن ماه برای رفتن سرما، آتش بر بالای کوه و بام می افروختند؟  
الف) جشن مهرگان  ب) جشن نوروز  پ) جشن سده  ت) جشن تاج گذاری
- غذای اصلی مردم، در ایران باستان چه بود؟ الف) گندم  ب) برنج  پ) جو  ت) گندم و جو

\* ادامه ی نمونه آزمون برای - درس بیست و سوم (عقاید و سبک زندگی مردم در ایران باستان) مطالعات اجتماعی هفتم دبیر مطالعات اجتماعی (ظاهره مسجدی)

۸) کدام یک از بازی های زیر را ایرانیان ابداع کردند؟ الف) تیراندازی  ب) پرتاب سنگ  پ) چوگان بازی  ت) فلاخن

۹) ایرانیان نخستین کسانی بودند که آن را طراحی نموده و پوشیدند؟

الف) بالاپوش آستین دار  ب) شلوار  پ) پیراهن های بلند  ت) روسری

۱۰) در دوران باستان، بعضی مواد غذایی مانند ..... از یونان و ..... از هندوستان به ایران وارد شد.

الف) روغن زیتون - ادویه  ب) ادویه - روغن زیتون  پ) گندم - روغن زیتون  ت) گندم - ادویه

۱۱) چه کسانی نخستین کسانی بودند که شلوار را طراحی نموده و پوشیدند؟

الف) ایرانیان  ب) یونانیان  پ) رومیان  ت) مصریان

۱۲) یکی از بزرگ ترین و باشکوه ترین جشن های ایران باستان که در آغاز فصل بهار برگزار می شده است چه نام داشت؟

الف) جشن نوروز  ب) جشن سده  پ) جشن مهرگان  ت) جشن تیرگان

۱۳) در شاهنامه ی فردوسی، جشن نوروز را به تاج گذاری کدام پادشاه نسبت داده اند؟

الف) جمشید  ب) کوروش  پ) داریوش  ت) اردشیر

۴- رابطه ی بین گزینه های زیر را پیدا کنید و با خط به یکدیگر وصل کنید.

- ۱) جشن آغاز فصل بهار و نو شدن طبیعت  جشن مهرگان   
۲) جشن شب دهم بهمن و افروختن آتش بر بالای کوه و بام منازل  جشن سده   
۳) جشن شانزدهم مهر  جشن نوروز

۵- رابطه ی بین گزینه های زیر را پیدا کنید و با خط به یکدیگر وصل کنید.

- ۱) منشأ خیر و خوبی  جمشید   
۲) جشن نوروز  اهورا مزدا

۶- به پرسش های زیر پاسخ دهید.

- ۱) عناصر مقدس در نزد آریایی ها را نام ببرید.  
۲) زرتشت مردم را به چه چیزهایی دعوت می کرد؟  
۳) در آیین زرتشت منشأ خیر و شر را چه می گفتند؟  
۴) در دوره ی ساسانیان اغلب مردم ایران پیرو چه دینی بودند؟  
۵) در دوره ی ساسانیان چه دین هایی در ایران رواج داشت؟  
۶) چه کسانی در دوره ی ساسانیان با گسترش دین های دیگر به جز زرتشت مخالفت می کردند؟

۷) مردم ایران باستان از چه غذاهایی تغذیه می کردند؟

۸) آداب غذا خوردن ایرانیان باستان را شرح دهید. (سه مورد)

۹) اعتقاد به پوشاک در نزد مردان و زنان ایران باستان چگونه بود؟



۱۰) چند مورد از ورزش های باستان که در جهان امروز مرسوم است را نام ببرید.

۱۱) کدام ورزش های امروزی در ایران باستان وجود نداشته است؟

۱۲) فردوسی در کتاب شاهنامه از دلاوری کدام اسطوره ها سخن گفته است؟

۱۳) طبق نظر هرودوت ایرانیان باستان به فرزندان خود چه می آموختند؟

۱۴) واژه ی جشن از چه کلماتی گرفته شده و معنای آن چیست؟

۱۵) مهمترین جشن های ایران باستان کدامند؟

۱۶) نوروز در ایران باستان پیام آور چیست؟

۱۷) امروزه آیین های نوروزی چگونه می باشد؟

۱۸) سازمان ملل متحد روز جهانی نوروز را چه روزی اعلام کرده است؟

۱۹) دعای تحویل سال چیست؟ ترجمه ی آن را بیان کنید.

۲۰) هر یک از اجزای سفره ی هفت سین نماد چیست؟

۲۱) چرا در دوره ی ساسانیان آتشکده های بسیار زیادی در گوشه و کنار ایران ساخته شد؟

۲۲) سفارش زرتشت درباره ی یاری رساندن به اهورا مزدا چه بود؟ (زرتشت به پیروان خود سفارش می کرد که به منظور یاری اهورامزدا، چه رفتاری را سرمشق زندگی خود قرار دهند؟)

۲۳) پوشاک مردان در ایران باستان چگونه بود؟

۲۴) ورزش در ایران باستان چگونه بود؟

۲۵) جشن نوروز در ایران باستان را با جشن نوروز در زمان خود مقایسه کنید.

۲۶) علاوه بر ایران در کدام کشورها، جشن نوروز برگزار می شود؟

۲۷) مردم ایران باستان چه باورها و عقایدی داشتند؟

۲۸) پیامبر ایران باستان چه نام داشت و در چه زمانی می زیست؟

۲۹) کتاب مقدس زرتشتیان چه نام داشت؟

۳۰) غذای اصلی مردم در ایران باستان چه بود؟

۳۱) تغذیه در ایرانیان باستان چگونه بود؟

۳۲) بیشتر آنچه که ما از پوشاک مردم در دوران باستان می دانیم مربوط به چیست؟

۳۳) پوشاک زنان در ایران باستان چگونه بود؟

۳۴) چند ماده ی غذایی نام ببرید که امروزه مصرف می کنید و در زمان ایران باستان نبوده و چرا در آن دوره وجود نداشته است؟

۳۵) بیشتر جشن های ایران باستان، با چه چیزهایی ارتباط داشت؟

۳۶) آیین های زیبای جشن نوروز را نام ببرید.

۷- جدول (کامل کردن جدول) حرف های واژه ی مورد نظر را در جای مشخص شده در جدول بنویسید.


۱) وسیله ای برای پرتاب سنگ

۲) نیزه ای که دو سر آن شاخه بود.

۳) ظرف هایی از جنس سفال یا آهن و طلا که به شکل جانوران ساخته می شد.

۴) نام کتاب معروف مانی.

۸- تصویر خوانی: به تصویر بنگرید و در مورد آن دو سطر (خط) توضیح دهید.



### ۱- درستی یا نادرستی جملات زیر را مشخص کنید.

- (۱) از هنگام استقرار اقوام آریایی در سرزمین ایران زبان فارسی، زبان گفتاری و نوشتاری مردم ایران بوده است.  
 (۲) زبان ایرانیان در دوره ی هخامنشیان پارسی پهلوی بود.  
 (۳) قبل از مهاجرت آریایی ها، تمدن باستانی ایران همچون ایلام، صاحب خط بوده اند.

### ۲- جاهای خالی را با واژگان مناسب پر کنید.

- (۱) قبل از مهاجرت آریایی ها تمدن ..... صاحب خط بود.  
 (۲) هخامنشیان خط میخی را از اقوام ..... اقتباس کرده بودند.  
 (۳) زبان رسمی امروز کشورمان ..... است.  
 (۴) ایرانیان باستان در تقویم خورشیدی (شمسی) سال را به ..... ماه ..... روزه تقسیم کردند.  
 (۵) در زمان اشکانیان و ساسانیان خط ..... رایج بود.  
 (۶) قدیمی ترین مدرسه ی پزشکی در دوره ی ..... تأسیس گردید.

### ۳- بهترین گزینه به صورت ■ پر شود.

(۱) کدام یک از بناهای زیر از نظر معماری، وسعت و عظمت شهرت جهانی دارند؟

- الف) طاق کسری       ب) طاق بستان       پ) هگمتانه       ت) تخت جمشید

(۲) قدیمی ترین مدرسه ی پزشکی جهان به دستور چه کسی و در کجا تأسیس شد؟

- الف) کوروش، خوزستان       ب) داریوش، جندی شاپور       پ) شاپور، جندی شاپور       ت) اردشیر، خوزستان

(۳) اساس گسترش و پیشرفت ایرانیان باستان در دانش، هنر و معماری چه بوده است؟

- الف) زبان و خط       ب) زبان و تاریخ       پ) خط و ریاضیات       ت) نجوم و هندسه

(۴) ایرانیان باستان خط میخی را از کدام یک از اقوام زیر را اقتباس کردند؟

- الف) ایلام       ب) لیدی       پ) یونان       ت) بین النهرین

(۵) زبان ایرانیان در دوره ی هخامنشیان چه بوده است؟

- الف) پارسی میانه       ب) پارسی پهلوی       پ) پارسی باستان       ت) فارسی دری

(۶) کتیبه های به جا مانده از دوره ی هخامنشیان در بیستون و تخت جمشید به چه زبان و خطی نوشته شده است؟

- الف) زبان پارسی میانه - خط آرامی       ب) پارسی باستان - خط آرامی

- پ) زبان پارسی باستان - خط میخی       ت) زبان پهلوی - خط پهلوی

(۷) سنجش و تعیین زمان، ایرانیان را با کدام علم آشنا ساخت؟

- الف) نجوم       ب) هندسه       پ) موسیقی       ت) معماری

(۸) در کتاب اوستا از کدام نوع پزشکی سخن به میان نیامده است؟

- الف) پزشک معمولی       ب) پزشک جراح       پ) پزشک متخصص       ت) پزشک دعا

(۹) زبان رسمی امروز ما چیست؟

- الف) پارسی باستان       ب) فارسی دری       پ) پارسی میانه       ت) پارسی پهلوی

۱۰) کدام مورد از بناهای ایران باستان نمی باشد؟

الف) طاق کسری  ب) طاق بستان  پ) تخت جمشید  ت) میدان نقش جهان

۱۱) زبان ایرانیان در عصر اشکانیان و ساسانیان چه بود؟

الف) پهلوی  ب) پارسی باستان  ج) فارسی دری  د) موارد الف و ب

۱۲) نیاز ایرانیان باستان برای تعیین زمان فعالیت های کشاورزی منجر به ابداع چه چیزی شد؟

الف) خط  ب) زبان  پ) تقویم  ت) الفبا

#### ۴- رابطه ی بین گزینه های زیر را پیدا کنید و با خط به یکدیگر وصل کنید.

- ۱) زبان ایرانیان در عصر هخامنشی  فارسی دری   
۲) زبان ایرانیان در عصر اشکانیان و ساسانیان  پارسی باستان   
۳) زبان ایرانیان در دوره ی اسلامی  پارسی پهلوی

#### ۵- به پرشی های زیر پاسخ دهید.

۱) در دوره ی هخامنشیان، اشکانیان، ساسانیان و دوره ی اسلامی خط رایج ایران چه بوده است؟

۲) اصل ۱۵ قانون اساسی در رابطه با زبان و خط مشترک مردم ایران چه می گوید؟

۳) کتیبه های به جا مانده از دوره ی هخامنشیان در بیستون و تخت جمشید به چه زبان و خطی می باشد؟

۴) چه نیازهایی باعث اختراع خط شد؟ اگر خط نبود چه کمبودهایی در جوامع پدید می آمد؟

۵) ایرانیان باستان با چه علمی آشنا بودند؟

۶) در کتاب اوستا از چند نوع پزشکی نام برده شده است؟

۷) در مدرسه جندی شاپور چه علمی تدریس می شد؟

۸) چرا از خانه های مردم معمولی دوران باستان نمونه های بسیار کمی مانده اما بقایای کاخ ها، آتشکده ها و ... هنوز باقی است؟

۹) چند نمونه از بناهای ایران باستان را ذکر کنید. (چهار مورد)

۱۰) چرا به خط دوره ی هخامنشی، خط میخی می گویند؟

۱۱) چه شواهدی نشان دهنده ی آشنایی باستان با علوم مختلف همچون ریاضی، هندسه، زمین شناسی و ... است؟

۱۲) ایرانیان کدام تقویم را به وجود آوردند و دلیل آن چه بود؟

۱۳) صنعتگران و هنرمندان ایران باستان در چه رشته هایی مهارت داشتند؟

۱۴) چگونه به تدریج بناهای بزرگ و باشکوهی چون کاخ ها، آرامگاه ها و آتشکده ها ساخته شد؟

۱۵) زبان های رایج ایرانیان در دوره های هخامنشیان، اشکانیان و ساسانیان و دوره ی اسلامی چه بوده است؟

۱۶) علت پیشرفت های ایرانیان در دانش، هنر و معماری چیست؟

۱۷) خط رایج در زمان هخامنشیان چه بود؟

۱۸) هخامنشیان خط میخی را از چه کسانی اقتباس کرده بودند؟

۱۹) خط رایج در زمان اشکانیان و ساسانیان چه بود؟

۲۰) اشکانیان و ساسانیان خط پهلوی را از چه کسانی اقتباس کرده بودند؟

۲۱) ایرانیان باستان در دانش چه پیشرفت هایی کرده بودند؟

۲۲) ایرانیان باستان در علم نجوم چه پیشرفت هایی کرده بودند؟

۲۳) ایرانیان باستان در علم پزشکی چه پیشرفت هایی کرده بودند؟

۲۴) قدیمی ترین مدرسه ی پزشکی جهان چه نام داشت و توسط چه کسی تأسیس شده بود؟

۲۵) علت ساخته شدن بناهای بزرگ و باشکوهی چون کاخ ها، آرامگاه ها و آتشکده ها در ایران باستان چه بود؟

۲۶) با تأسیس امپراتوری های بزرگ و ساختن شهرها به تدریج چه نوع بناهایی در ایران ساخته شدند؟

۲۷) از بناهای ایران باستان که پیشرفت ایرانیان را در معماری نشان می دهد شش مورد را نام ببرید.

۶- جدول (کامل کردن جدول) حرف های واژه ی مورد نظر را در جای مشخص شده در جدول بنویسید.


۱) در این کتاب از سه نوع پزشک جراح، معمولی و دعا نام برده شده است.

۲) این پادشاه ساسانی اقدام به احداث مدرسه و بیمارستان نمود.

۳) هخامنشیان این خط را از اقوام بین النهرین اقتباس کردند.

۷- تصویر خوانی: به تصویر بنگرید و در مورد آن دو سطر (خط) توضیح دهید.



۸- تصویر خوانی: به تصویر بنگرید و در مورد آن دو سطر (خط) توضیح دهید.

