

## تکنسیم، نخستین عنصر ساخت بشر

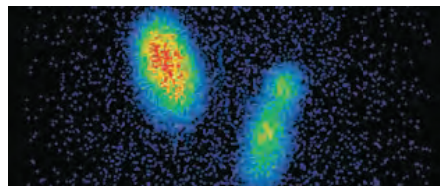
از ۱۱۸ عنصر شناخته شده، تنها ۹۲ عنصر در طبیعت یافت می شود؛ این بدان معنا است که ۲۶ عنصر دیگر ساختگی است. شیمی دان ها همواره با یافتن کاربردهای منحصر به فرد هر عنصر، انگیزه کافی برای ساختن عنصرهای جدید را داشته اند. تکنسیم ( $^{99}\text{Tc}$ ) نخستین عنصری بود که در واکنشگاه (راکتور) هسته ای ساخته شد. این رادیوایزوتوپ در تصویربرداری پزشکی کاربرد ویژه ای دارد (شکل ۴).

$$\frac{n}{p} = \frac{54}{43} < 1.5$$

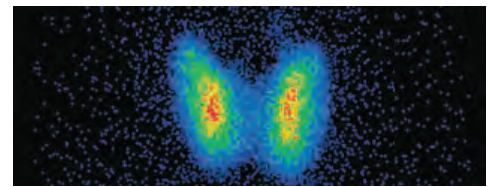
با این حال پرتوزا است.



(آ)



(پ)



(ب)

شکل ۴- آ) غده پروانه ای شکل تیروئید در بدن انسان (ب) تصویر غده تیروئید سالم

پ) تصویر غده تیروئید ناسالم

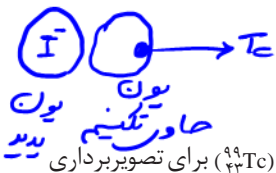
همه  $^{99}\text{Tc}$  موجود در جهان باید به طور مصنوعی و با استفاده از واکنش های هسته ای ساخته شود. از آنجا که نیم عمر آن کم است و نمی توان مقادیر زیادی از این عنصر را تهیه و برای مدت طولانی نگهداری کرد، بسته به نیاز، آن را با یک مولد هسته ای تولید و سپس مصرف می کنند.

## ما می توانیم

رادیوایزوتوپ ها اگرچه بسیار خطرناک هستند، اما پیشرفت دانش و فناوری، بشر را موفق به مهار و بهره گیری از آنها کرده است، به طوری که از آنها در پزشکی، کشاورزی و سوخت در نیروگاه های اتمی استفاده می شود. اورانیم ساخته شده ترین فلز پرتوزایی است که یکی از ایزوتوپ های آن، اغلب به عنوان سوخت در راکتورهای اتمی به کار می رود (شکل ۵).



نمونه ای از یک مولد رادیو ایزوتوپ تکنسیم

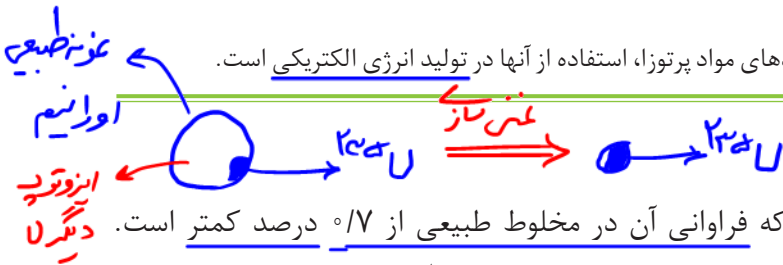


همه

از تکنسیم ( $^{99}\text{Tc}$ ) برای تصویربرداری غده تیروئید استفاده می شود زیرا یون یدید با یونی که حاوی  $^{99}\text{Tc}$  است، اندازه مشابهی دارد و غده تیروئید هنگام جذب یدید، این یون را نیز جذب می کند. با افزایش مقدار این یون در غده تیروئید، امکان تصویربرداری فراهم می شود.



شکل ۵- یکی از کاربردهای مواد پرتوزا، استفاده از آنها در تولید انرژی الکتریکی است.



● کیمیاگری (تبدیل عنصرهای دیگر به طلا) آرزوی دیرینه بشر بوده است. با پیشرفت علم شیمی و فیزیک، انسان می‌تواند طلا تولید کند اما هزینه تولید آن به اندازه‌ای زیاد است که صرفه اقتصادی ندارد.

این ایزوتوپ،  $^{235}\text{U}$  بوده که فراوانی آن در مخلوط طبیعی از  $0.7\%$  درصد کمتر است. دانشمندان هسته‌ای ایران با تلاش بسیار موفق شدند مقدار آن را در مخلوط ایزوتوپ‌های این عنصر افزایش دهند. به این فرایند، غنی‌سازی ایزوتوپی گفته می‌شود؛ فرایندی که یکی از مراحل مهم چرخه تولید سوخت هسته‌ای است. با این کامیابی ستودنی، نام ایران در فهرست ده گانه کشورهای هسته‌ای جهان ثبت شد. با گسترش این صنعت می‌توان بخشی از انرژی الکتریکی مورد نیاز کشور را تأمین نمود (شکل ۶).



شکل ۶- برخی رادیوایزوتوپ‌های تولید شده در ایران

### آیا می‌دانید

$^{59}\text{Fe}$  یک رادیوایزوتوپ است و در تصویربرداری از دستگاه گردش خون به کار می‌رود زیرا یون‌های آن در ساختار هموگلوبین وجود دارند.



اما جالب است بدانید که پسماند راکتورهای اتمی هنوز خاصیت پرتوزایی دارد و خطرناک است؛ از این رو دفع آنها از جمله چالش‌های صنایع هسته‌ای به شمار می‌آید.

## با هم ببیندیشیم

● به گلوکز حاوی اتم پرتوزا، گلوکز

نشان دار می گویند.

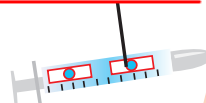
توده های سرطانی، یاخته هایی هستند که رشد غیرعادی و سریع تری دارند. شکل زیر اساس استفاده از رادیوایزوتوپ ها را برای تشخیص نوعی توده سرطانی نشان می دهد. با بررسی آن، فرایند تشخیص بیماری را توضیح دهید.



● دود سیگار و قلیان، مقدار قابل توجهی مواد پرتوزا دارد. از این رو اغلب افرادی که به سرطان ریه دچار می شوند، سیگاری هستند.

توده سرطانی طوخرها معمولی و نال دارا  
جذب می کند. با تجمع گلوکزها نشان دار در توده  
سرطانی و پرتوزا این آن ها، می توان به کمک  
دستگاه آشکار ساز پرتو محل توده سرطانی  
را تشخیص داد.

گلوکز حاوی اتم پرتوزا



با جایگزینی یکی از اتم های هیدروژن با یک

### آیا می دانید

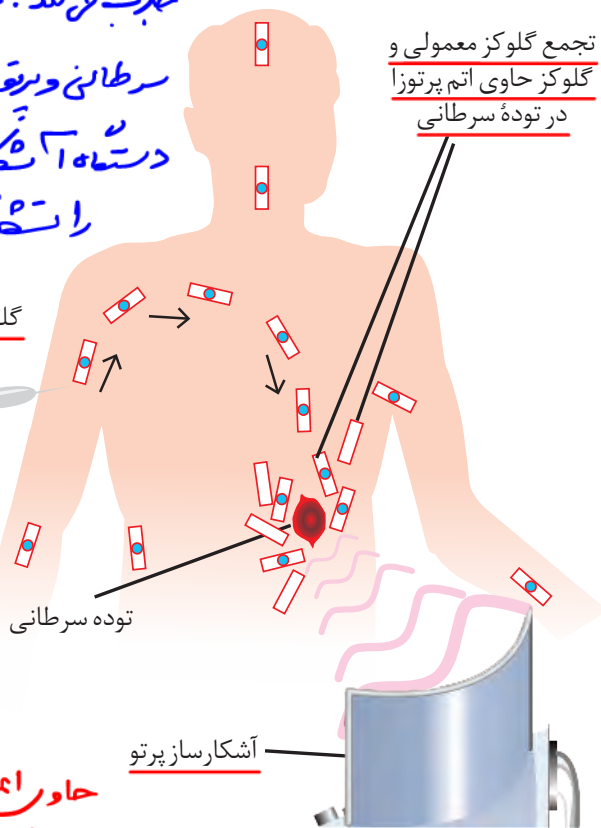
پژوهش ها نشان می دهد که مقدار بسیار کمی از مواد پرتوزا در همه جا یافت می شود. البته میزان پرتوهای تابش شده بسیار اندک است و به طور معمول بر سلامت ما اثری نمی گذارد. یکی از فراوان ترین مواد پرتوزا که در زندگی ما یافت می شود، گاز رادون است. رادون، گازی بی رنگ، بی بو، بی مزه و سنگین ترین گاز نجیب موجود در طبیعت است. این گاز پیوسته در لایه های زیرین زمین در واکنش های هسته ای تولید می شود و به دلیل دما و فشار زیاد در آن لایه ها به منافذ و ترک های موجود در سنگ های سازنده پوسته زمین نفوذ می کند.

اتم پرتوزا

به گلوکز نشان دار

تبدیل می شود.

حاوی اتم پرتوزا



## طبقه بندی عنصرها

طبقه بندی کردن یکی از مهارت های پایه در یادگیری مفاهیم علمی است که بررسی و تحلیل را آسان تر می کند. در واقع با استفاده از طبقه بندی، یافته ها و داده ها را به شیوه مناسبی سازماندهی می کنند تا بتوان سریع تر و آسان تر به اطلاعات دسترسی یافت. در درس علوم با اساس طبقه بندی عنصرها، مواد و جانداران آشنا شدید. شیمی دان ها نیز ۱۱۸ عنصر شناخته شده را بر اساس یک معیار و ملاک در جدولی با چیدمانی ویژه کنار هم قرار داده اند (شکل ۷). این جدول به آنها کمک می کند تا اطلاعات ارزشمندی از ویژگی های عنصرها را به دست آورند و بر اساس آن، رفتار عنصرهای گوناگون را پیش بینی کنند.

# جدول دوره‌ای عنصرها

			۱۳	۱۴	۱۵	۱۶	۱۷	۱۸
			۵ B بور ۱۰,۸۰	۶ C کربن ۱۲,۰۱	۷ N نیتروژن ۱۴,۰۱	۸ O اکسیژن ۱۶,۰۰	۹ F فلوئور ۱۹,۰۰	۱۰ Ne نئون ۲۰,۱۸
			۱۳ Al آلومینیم ۲۶,۹۸	۱۴ Si سیلیسیم ۲۸,۰۹	۱۵ P فسفر ۳۰,۹۷	۱۶ S گوگرد ۳۲,۰۷	۱۷ Cl کلر ۳۵,۴۵	۱۸ Ar آرگون ۳۹,۹۵
۱۰	۱۱	۱۲	۳۱ Ga گالیم ۶۹,۷۲	۳۲ Ge ژرمانیم ۷۲,۶۴	۳۳ As آرسنیک ۷۴,۹۲	۳۴ Se سلنیم ۷۸,۹۶	۳۵ Br برم ۷۹,۹۰	۳۶ Kr کریپتون ۸۳,۸۰
۲۸ Ni نیکل ۵۸,۶۹	۲۹ Cu مس ۶۳,۵۵	۳۰ Zn روی ۶۵,۳۹	۴۹ In ایندیم ۱۱۴,۸۰	۵۰ Sn قلع ۱۱۸,۷۰	۵۱ Sb آنتیموان ۱۲۱,۸۰	۵۲ Te تلوریم ۱۲۷,۶۰	۵۳ I ید ۱۲۶,۹۰	۵۴ Xe زنون ۱۳۱,۳۰
۷۸ Pt پلاتین ۱۹۵,۱	۷۹ Au طلا ۱۹۷,۰۰	۸۰ Hg جیوه ۲۰۰,۶۰	۸۱ Tl تالیم ۲۰۴,۳۰	۸۲ Pb سرب ۲۰۷,۲۰	۸۳ Bi بیسموت ۲۰۹,۰۰	۸۴ Po پولونیم [۲۰۹]	۸۵ At استاتین [۲۱۰]	۸۶ Rn رادون [۲۲۲]
۱۱۰ Ds دارمشتاتیم [۲۸۱]	۱۱۱ Rg روننگنیم [۲۸۰]	۱۱۲ Cn کوپرنسیم [۲۷۷]	۱۱۳ Nh نیهونیم [۲۸۴]	۱۱۴ Fl فلرویوم [۲۸۹]	۱۱۵ Mc مسکوویوم [۲۸۸]	۱۱۶ Lv لیورموریوم [۲۹۳]	۱۱۷ Ts تنسینه [۲۹۶]	۱۱۸ Og اوگانسون [۲۹۴]

۶۳ Eu اوروپیم ۱۵۲,۰۰	۶۴ Gd گادولینیم ۱۵۷,۳۰	۶۵ Tb تربیم ۱۵۸,۹۰	۶۶ Dy دیسپروزیم ۱۶۲,۵۰	۶۷ Ho هولمیم ۱۶۴,۹۰	۶۸ Er اربیم ۱۶۷,۳۰	۶۹ Tm تولیم ۱۶۸,۹۰	۷۰ Yb ایتربیم ۱۷۳,۰۰
۹۵ Am امریسیم [۲۴۳]	۹۶ Cm کوریم [۲۴۷]	۹۷ Bk برکلیم [۲۴۷]	۹۸ Cf کالیفرنیم [۲۵۱]	۹۹ Es اینشتینیم [۲۵۲]	۱۰۰ Fm فرمیوم [۲۵۷]	۱۰۱ Md مندلیوم [۲۵۸]	۱۰۲ No نوبلیوم [۲۵۹]

شکل ۷- جدول دوره‌ای عنصرها. در این جدول هر عنصر با نماد یک یا دو حرفی نشان داده شده است. در هر نماد، حرف اول نام لاتین عنصر به صورت بزرگ نوشته می‌شود؛ برای نمونه نماد سه عنصر آلومینیم، آرگون و طلا به ترتیب Al، Ar و Au است که همگی با حرف A آغاز می‌شود.

عدد اتمی — ۱  
 نام — هیدروژن  
 نماد شیمیایی — H  
 جرم اتمی میانگین — ۱/۰۰۸

۱	۱ H هیدروژن ۱,۰۰۸	۲							
۲	۳ Li لیتیم ۶,۹۴	۴ Be بریلیم ۹,۰۱							
۳	۱۱ Na سدیم ۲۲,۹۹	۱۲ Mg منیزیم ۲۴,۳۱							
۴	۱۹ K پتاسیم ۳۹,۱۰	۲۰ Ca کلسیم ۴۰,۰۸	۲۱ Sc اسکاندیم ۴۴,۹۶	۲۲ Ti تیتانیوم ۴۷,۸۷	۲۳ V وانادیم ۵۰,۹۴	۲۴ Cr کروم ۵۲,۰۰	۲۵ Mn منگنز ۵۴,۹۴	۲۶ Fe آهن ۵۵,۸۵	۲۷ Co کوبالت ۵۸,۹۳
۵	۳۷ Rb روبیدیم ۸۵,۴۷	۳۸ Sr استرانسیم ۸۷,۶۲	۳۹ Y ایتریوم ۸۸,۹۱	۴۰ Zr زیرکونیم ۹۱,۲۲	۴۱ Nb نیوبیم ۹۲,۹۱	۴۲ Mo مولیبدن ۹۵,۹۴	۴۳ Tc تکنسیم -	۴۴ Ru روتنیم ۱۰۱,۱	۴۵ Rh رودیوم ۱۰۲,۹۰
۶	۵۵ Cs سزیم ۱۳۲,۹	۵۶ Ba باریم ۱۳۷,۳	۷۱ Lu لوتسیم ۱۷۵,۰۰	۷۲ Hf هافنیم ۱۷۸,۵	۷۳ Ta تانتال ۱۸۰,۹۰	۷۴ W تنگستن ۱۸۳,۸۰	۷۵ Re رنیم ۱۸۶,۲۰	۷۶ Os اسمیم ۱۹۰,۲۰	۷۷ Ir ایریدیوم ۱۹۲,۲۰
۷	۸۷ Fr فرانسیم [۲۲۳]	۸۸ Ra رادیوم [۲۲۶]	۱۰۳ Lr لورنسیم [۲۶۲]	۱۰۴ Rf رادرفوردیم [۲۶۷]	۱۰۵ Db دابلیوم [۲۶۸]	۱۰۶ Sg سبوریوم [۲۷۱]	۱۰۷ Bh بوریم [۲۷۲]	۱۰۸ Hs هاسیم [۲۷۷]	۱۰۹ Mt مایتنیم [۲۷۶]

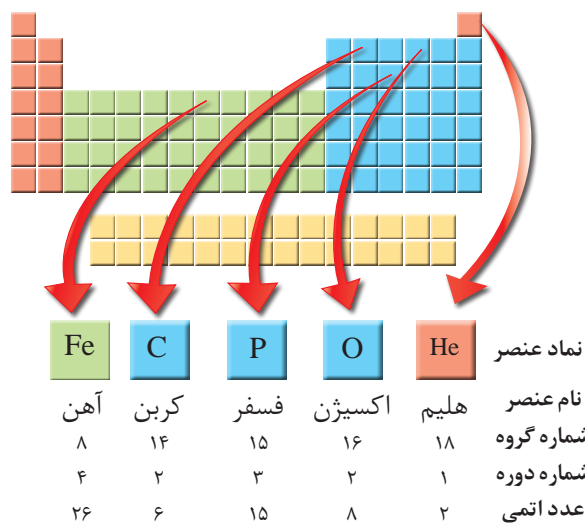
۵۷ La لانتان ۱۳۸,۹۰	۵۸ Ce سریوم ۱۴۰,۱۰	۵۹ Pr پراسئودیمیم ۱۴۰,۹۰	۶۰ Nd نئودیمیم ۱۴۴,۲۰	۶۱ Pm پرومتیم [۱۴۵]	۶۲ Sm ساماریوم ۱۵۰,۴۰
۸۹ Ac اکتینیم [۲۲۷]	۹۰ Th توریم ۲۳۲,۰۰	۹۱ Pa پروتاکتینیم ۲۳۱,۰۰	۹۲ U اورانیم ۲۳۸,۰۰	۹۳ Np نپتونیم [۲۳۷]	۹۴ Pu پلوتونیم [۲۴۴]

در **جدول دوره‌ای<sup>۱</sup>** (تناوبی) امروزی، عنصرها بر اساس افزایش عدد اتمی<sup>۲</sup> سازماندهی شده‌اند، به طوری که جدول دوره‌ای عنصرها از عنصر هیدروژن با عدد اتمی یک ( $Z=1$ ) آغاز و به عنصر شماره ۱۱۸ ختم می‌شود. این جدول، **۷ دوره<sup>۳</sup>** و **۱۸ گروه<sup>۴</sup>** دارد. هر ردیف افقی جدول، که نشان دهندهٔ چیدمان عنصرها بر حسب افزایش عدد اتمی است، **دوره** نام دارد؛ در حالی که هر ستون، شامل عنصرها با خواص شیمیایی مشابه است و **گروه** نامیده می‌شود. بدیهی است خواص شیمیایی عنصرهایی که در یک دوره از جدول جای دارند، متفاوت است. با پیمایش هر دوره از چپ به راست، خواص عنصرها به طور مشابه تکرار می‌شود؛ از این رو چنین جدولی را **جدول دوره‌ای (تناوبی) عنصرها** نامیده‌اند.

هر خانه از جدول به یک عنصر معین تعلق دارد و حاوی برخی اطلاعات شیمیایی آن عنصر است. برای نمونه خانهٔ شمارهٔ هفت به عنصر نیتروژن تعلق دارد که اطلاعات آن به صورت زیر است:

عدد اتمی: ۷  
 نماد شیمیایی: N  
 نام: نیتروژن  
 جرم اتمی میانگین: ۱۴/۰۱


نمادها، داده‌های عددی و خلاصه‌نویسی‌ها در جدول دوره‌ای، اطلاعات مفیدی دربارهٔ عنصرها ارائه می‌کند. با استفاده از این نشانه‌ها و فراگیری مهارت استفاده از جدول می‌توان اطلاعاتی مانند شمارهٔ گروه، دوره، شمار ذره‌های زیراتمی و... را برای یک عنصر به دست آورد (شکل ۸).



شکل ۸- ارائهٔ اطلاعات برخی عنصرها با استفاده از جدول دوره‌ای و داده‌های آن

## آیا می‌دانید

بزرگ‌ترین پیشرفت در زمینهٔ دسته‌بندی عنصرها با کارهای مندلیف (۱۸۳۴-۱۹۰۷ میلادی) به دست آمد. مندلیف یک معلم شیمی اهل روسیه بود که به وجود روند تناوبی میان عنصرها مشابه با شیوه‌ای که امروز می‌شناسیم، پی‌برد.



## در میان تارنماها

● آیا تاکنون به اطلاعات داده شده در بلیت قطار، هواپیما، اتوبوس یا تابلوی نمایش زمان حرکت آنها دقت کرده‌اید؟ در هر یک از آنها، برخی از نمادها، خلاصه‌نویسی‌ها، واژه‌های مخفف و مجموعه‌ای از شناسه‌ها به کار رفته است. اگر با این نشانه‌ها آشنا نباشید، برای یافتن اطلاعات مفید سردرگم خواهید شد.

با مراجعه به منابع علمی معتبر مانند وبگاه «انجمن شیمی ایران» و وبگاه «آیوپاک» دربارهٔ دسته‌بندی عنصرها به روش‌های دیگر، اطلاعاتی جمع‌آوری و به کلاس گزارش کنید.

دوره ۱ - گروه ۱  
دوره ۲ - گروه ۲  
دوره ۳ - گروه ۳  
دوره ۴ - گروه ۴  
دوره ۵ - گروه ۵  
دوره ۶ - گروه ۶  
دوره ۷ - گروه ۷  
دوره ۸ - گروه ۸  
دوره ۹ - گروه ۹  
دوره ۱۰ - گروه ۱۰  
دوره ۱۱ - گروه ۱۱  
دوره ۱۲ - گروه ۱۲

خود را بیازمایید

۱- با استفاده از جدول دوره‌ای، موقعیت (دوره و گروه) عنصرهای آلومینیم ( $Al$ )، کلسیم ( $Ca$ )، منگنز ( $Mn$ ) و سلنیم ( $Se$ ) را تعیین کنید.

۲- هلیم ( $He$ )، عنصری است که تمایل به انجام واکنش شیمیایی ندارد. پیش‌بینی کنید کدام یک از عنصرهای زیر رفتاری مشابه با آن دارد؟ چرا؟  $Ar$  - هم گروه هستند

۳- اتم فلئور ( $F$ ) در ترکیب با فلزها به یون فلئورید ( $F^-$ ) تبدیل می‌شود. اتم کدام یک از عنصرهای زیر می‌تواند آنیونی با بار الکتریکی همانند یون فلئورید تشکیل دهد؟ چرا؟  $Br$  - هم گروه هستند

۴- از اتم آلومینیم ( $Al$ )، یون پایدار  $Al^{3+}$  شناخته شده است. پیش‌بینی کنید اتم کدام یک از عنصرهای زیر می‌تواند به کاتیونی مشابه  $Al^{3+}$  در ترکیب‌ها تبدیل شود؟  $Ga$  - هم گروه هستند


## آیا می‌دانید

آیوپاک (IUPAC)، اتحادیهٔ بین‌المللی شیمی محض و کاربردی است که یکاها، نمادها، قراردادهای قواعد فرمول‌نویسی و نام‌گذاری و... را ارائه می‌کند. جدول دوره‌ای عنصرها نیز به تأیید آیوپاک رسیده است.



## جرم اتمی عنصرها

می‌دانید که جرم اجسام گوناگون را بسته به اندازه و نوع آنها با ترازوهای متفاوتی اندازه‌گیری می‌کنند (شکل ۹).



شکل ۹- جرم یک کامیون را با باسکول و یکای تن، جرم هندوانه را با ترازوی معمولی و یکای کیلوگرم و جرم طلا را با ترازوهای دقیق‌تر و یکای گرم می‌سنجند.