

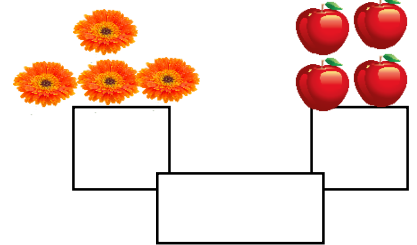


تاریخ:

دبستان:

پایه:

نام و نام خانوادگی:

عدد مربوط به هر قسمت را بنویس، به اندازه هر دو عدد چوب خط بکش.



هر دو شکل روی هم چند تا می شوند؟ جمع آن ها را بنویس.

$$\begin{array}{c} \text{flower} \\ \square \end{array} + \begin{array}{c} \text{flowers} \\ \square \end{array} = \square$$

$$\begin{array}{c} \text{stars} \\ \square \end{array} + \begin{array}{c} \text{stars} \\ \square \end{array} = \square$$

$$\begin{array}{c} \text{apples} \\ \square \end{array} + \begin{array}{c} \text{apples} \\ \square \end{array} = \square$$

$$\begin{array}{c} \text{ladybugs} \\ \square \end{array} + \begin{array}{c} \text{ladybugs} \\ \square \end{array} = \square$$

$$\begin{array}{c} \text{pears} \\ \square \end{array} + \begin{array}{c} \text{pears} \\ \square \end{array} = \square$$

$$\begin{array}{c} \text{soccer balls} \\ \square \end{array} + \begin{array}{c} \text{soccer balls} \\ \square \end{array} = \square$$

$$\begin{array}{c} \text{fires} \\ \square \end{array} + \begin{array}{c} \text{fires} \\ \square \end{array} = \square$$

$$\begin{array}{c} \text{watermelons} \\ \square \end{array} + \begin{array}{c} \text{watermelons} \\ \square \end{array} = \square$$


نظر آموزگار:

.....

.....

جواب جمع ها را بنویس.

- ۰
- ۲
- ۱
- ۵
- ۴
- ۴



- ۴
-
-
-
-
-

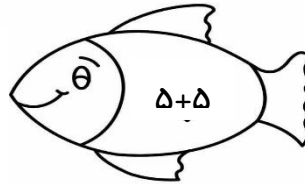
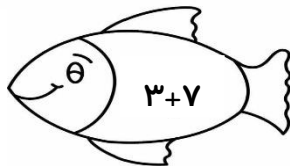

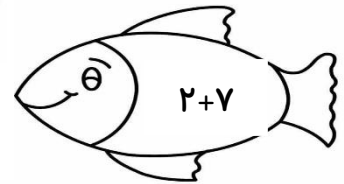
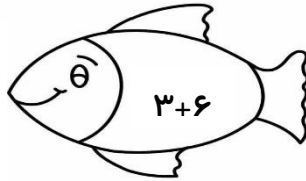
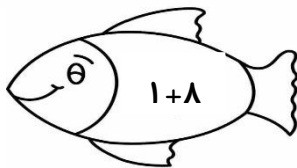
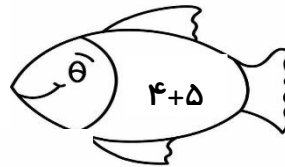
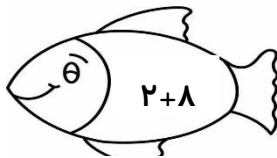
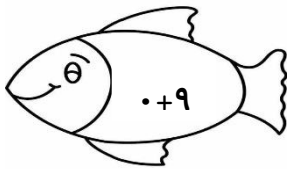


- ۲
- ۰
- ۱
- ۳
- ۴



-
-
-
-

ماهی هایی که جواب جمع روی بدنشان ۹ است را رنگ بزن.



www.tarahisoal.ir

-
-
-
-

نظر آموزگار:.....
.....
.....