

آزمون فصل دوم (جمع و تفریق اعداد دو رقمی) ریاضی پایه دوم دبستان

تاریخ:

آموزگار:

دبستان:

نام و نام خانوادگی:

برای شکل ها جمع بنویس و پاسخ بده.

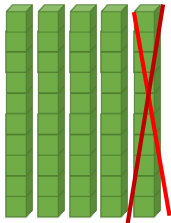


$$\bigcirc + \bigcirc = \bigcirc$$

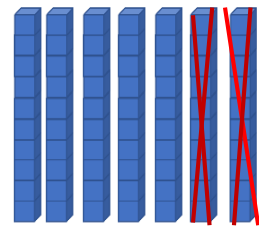


$$\bigcirc + \bigcirc = \bigcirc$$

برای شکل ها تفریق بنویس و پاسخ بده.



$$\bigcirc - \bigcirc =$$



$$\bigcirc - \bigcirc = \bigcirc$$



$$50 + 20 =$$



$$70 - 40 =$$

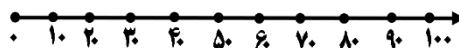
$$80 + 10 =$$

$$60 - 50 =$$

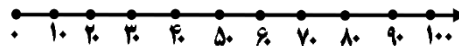
حاصل جمع و تفریق های زیر را بنویس.



$$50 + 30 =$$



$$60 - 40 =$$



عزیزم با استفاده از محور اعداد حاصل جمع و تفریق زیر بنویس.

عزیزم جاهای خالی را کامل کن.



۳ دسته ده تایی، به اضافه ی ۴ دسته ی ده تایی می شود..... دسته ی ده تایی


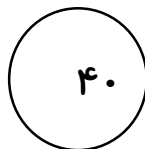
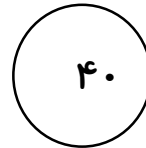

۵ دسته ی ده تایی، منهای ۳ دسته ی ده تایی می شود..... دسته ی ده تایی



حاصل جمع و تفریق های زیر را بدست بیاور.

$$\begin{array}{r} 35 \\ + 33 \\ \hline \end{array} \quad \begin{array}{r} 46 \\ + 19 \\ \hline \end{array} \quad \begin{array}{r} 37 \\ - 29 \\ \hline \end{array} \quad \begin{array}{r} 48 \\ - 18 \\ \hline \end{array}$$

دانش آموز کوشا، عدد داخل ستاره به کدام یک از عددهای سمت راست و چپ خود نزدیک تر است آن را رنگ بزن.



کتاب علی ۷۰ صفحه دارد اگر او ۲۶ صفحه از کتاب را خوانده باشد. چند صفحه دیگر باید بخواند تا کتاب تمام شود؟

علی ساعت ۷ به مدرسه رفت و ساعت ۱۳ به خانه برگشت، او چند ساعت در مدرسه بوده است؟



باز خورد آموزگار:
