

« به نام خدا »

درس ریاضی

نام و نام خانوادگی:

دریاض

پایه: دوم دبستان

دبستان:

مدت امتحان: ۵۰ دقیقه

۱- با دو رقم ۶ و ۸ دو عدد دو رقمی بنویس. و

۲- بنابر ۷ گل و مریم ۲ گل چیده اند. آنها چند گل چیده اند؟

۳- علامت < = > بگذار.

۶۱ > ۶۱

۶۸ > ۴۸

۳۱ > ۲۵

۳۷ > ۵۹

۴- در جاهای خالی عدد مناسب بگذار.

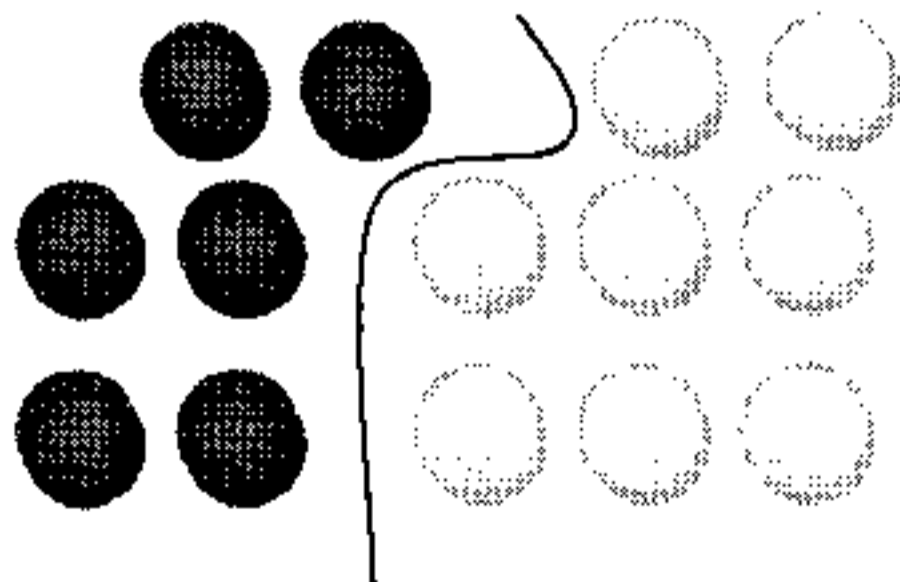
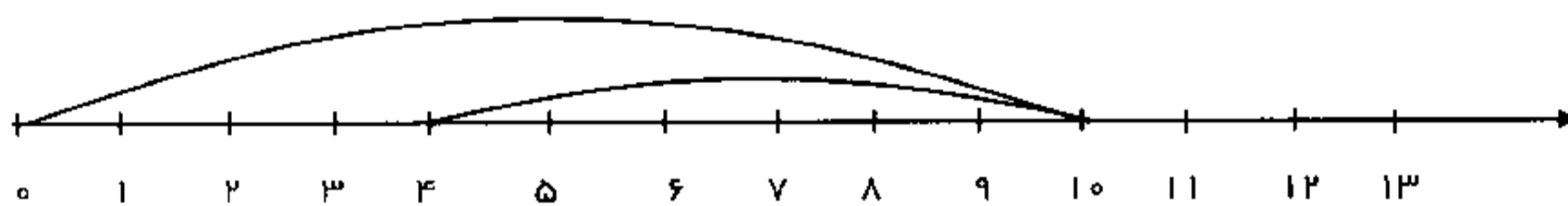
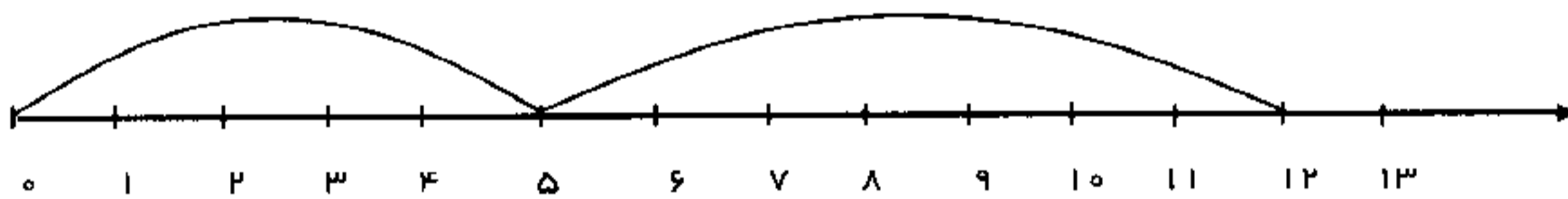
- ۱ = ۸

۷ - = ۴

۲ + = ۶

۳ + = ۵

۵- جمع و تفریق مربوط به هر محور را بنویس.



..... + =

..... - =

۶- برای شکل زیر یک جمع و یک تفریق بنویس.

۷- نام هر یک از خط های زیر را بنویس.




.....



.....



.....



.....

$1+3=$

$13+4=$

$13-6=$

$11-9=$

۸- جمع و تفریق ما را انجام بده.


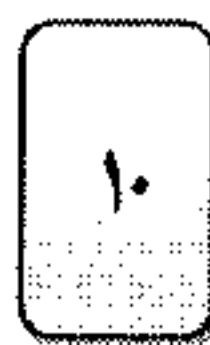
۲ - ۵ - ۸ - ۹ - ۱۲ - ۱۳ - ۱۶

۹- دور اعداد زوج خط بکش.

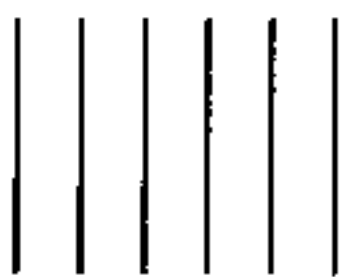

۱۰- جدول مقابل را کامل کن.

۱۹۴			۱۹۷			۲۰۰
-----	--	--	-----	--	--	-----

۱۱- جدول مقابل را کامل کن.



صدتایی	دهتایی	یکتایی



.....

باز خورد آموزگار:

موفق باشید - علیرضا پناهی

www.moghanaraz.blogfa.com