

اداره کل آموزش و پرورش استان اصفهان

معاونت آموزش متوسطه

گروه آموزش متوسطه‌ی اول

# هوازدهمین دوره‌ی

## مسابقات علمی دانش‌آموزان

### دوره‌ی اول متوسطه

#### استان اصفهان

ردیف	نام درس	تعداد سوال	از شماره	تا شماره
۱	قرآن	۵	۱	۵
۲	پیام‌های آسمان	۵	۶	۱۰
۳	عربی	۵	۱۱	۱۵
۴	ادبیات فارسی	۱۰	۱۶	۲۵
۵	تاریخ	۴	۲۶	۲۹
۶	جغرافیا	۴	۳۰	۳۳
۷	اجتماعی	۴	۳۴	۳۷
۸	ریاضی	۱۱	۳۸	۴۸
۹	علوم تجربی	۱۱	۴۹	۵۹
۱۰	حرفه‌وفن	۵	۶۰	۶۴
۱۱	زبان انگلیسی	۱۱	۶۵	۷۵

پایه‌ی سوم راهنمایی

مرحله‌ی دوم

زمان : ۸۰ دقیقه

آزمون نمره‌ی منفی دارد

فروردین‌ماه ۱۳۹۳

## قرآن

۱- ترجمه در کدام گزینه صحیح است؟

- (الف) ءامنوا : ایمان آوردند / اَتَّبِعُوا : پیروی کنید  
 (ب) ءامنوا : ایمان آورید / اِتَّبِعُوا : پیروی کردند  
 (ج) اِسْتَعْفَرُوا : مغفرت خواستند / اِتَّبِعُوا : پیروی کنید  
 (د) اِسْتَعْفَرُوا : آمرزش بخواهید / ءامنوا : ایمان آورید

۲- ترجمه کدام آیه، کمترین غلط را دارد؟

- (الف) قُلْ ءَامَنَّا بِاللّٰهِ وَمَا اُنزِلَ عَلَيْنَا : بگو ایمان بیاورید به خدا و آنچه نازل کرد بر ما  
 (ب) وَيَقْتُلُونَ النَّبِيْنَ بِغَيْرِ حَقٍّ : و کشتند پیامبران را به جز حق.  
 (ج) وَلَوْ ءَامَنَ اَهْلُ الْكِتَابِ لَكَانَ خَيْرًا لَهُمْ : و شاید ایمان آوردند اهل کتاب تا برایشان بهتر باشد.  
 (د) اِذْ بَعَثَ فِيهِمْ رَسُولًا مِّنْ اَنْفُسِهِمْ : اگر برانگیخت از میان آنها پیامبری از خودشان.

۳- کدام گزینه، به ترتیب مناسب جاهای خالی در دو آیه شریفه زیر است؟

- «اِنَّ الْاَبْرَارَ لَفِي...» «وَيَسْئَلُ مَنْوًى...»  
 (الف) نَعِيمٍ، خالدينَ (ب) نَعِيمٍ، الظَّالِمِينَ (ج) جَحِيمٍ، الخاسرينَ (د) جَحِيمٍ، الظَّالِمِينَ

۴- در آیهی «يَا أَيُّهَا الَّذِينَ ءَامَنُوا لِمَ تَقُولُونَ مَا لَا تَفْعَلُونَ» خداوند متعال به چه دلیل اهل ایمان را سرزنش می‌کند؟

- (الف) گفتار ناصحیح و عدم پیروی از حق  
 (ب) سستی در اظهار عقاید و ایمان  
 (ج) عمل نکردن به گفته‌هایشان  
 (د) پیروی نکردن راه انبیاء و صالحین

۵- در کدام گزینه معنای «مِنَ» با بقیه متفاوت است؟

- (الف) وَمَا لِلظَّالِمِينَ مِنْ اَنْصَارٍ  
 (ب) وَمِنَ النَّاسِ مَنْ يَقُولُ ءَامَنَّا بِاللّٰهِ  
 (ج) مِنْهُمْ الْمُؤْمِنُونَ وَاكْثَرُهُمُ الْفٰسِقُونَ  
 (د) فَمِنْهُمْ مَنْ هَدٰى اللّٰهُ

## پیام‌های آسمان

۶- حدیث «مردم معادنی هستند مانند معدن‌های طلا و نقره» به کدام دلیل تفاوت در آفرینش نزدیک‌تر است؟

- (الف) تفاوت‌های حکیمانه  
 (ب) رشد دربستر سختی‌ها  
 (ج) تکلیف به اندازه توانایی افراد  
 (د) تنوع و گوناگونی در ظرفیت‌ها

۷- نوع کدام یک از جهاد‌ها با بقیه متفاوت است؟

- (الف) جنگ با خوارج نهروان در اسلام  
 (ب) مبارزه با منافقین تروریست در کشور  
 (ج) جهاد مأموران نیروی انتظامی با آشرا  
 (د) جنگ تحمیلی بر علیه کشورمان

۸- محتوای سوره ی توحید به کدام یک از پرسش‌های اساسی انسان، پاسخ می‌دهد؟

- (الف) من کیستم؟  
 (ب) خالق من کیست؟  
 (ج) راهنمایان من چه کسانی هستند؟  
 (د) در این دنیا چگونه باید باشیم؟

۹- با توجه به ماجرای غدیر خم، کدام جمله صحیح نمی‌باشد؟

- (الف) روز غدیر خم، روز کامل شدن دین اسلام است.  
 (ب) در این روز، نعمت خداوند بر انسان تمام و کامل شد.  
 (ج) انتخاب حضرت علی(ع) توسط شخص پیامبر(ص) انجام شد.  
 (د) غدیر خم موجب ناامیدی کامل مشرکان و منافقان شد.

۱۰- کدام نوع دعا به اجابت نزدیک‌تر است؟

- (الف) در حق دیگران باشد. (ب) عاقبت به خیری باشد. (ج) همراه با صدقه‌دادن باشد. (د) هنگام اذان باشد.

## عربی

۱۱- ترجمه‌ی واژه‌های «یُسْر، مُسَخَّرَات، حِذَاء» در کدام گزینه آمده است؟

- (الف) فراخی، رام‌کننده‌ها، کفش  
(ب) آسانی، رام‌شده‌ها، کفش  
(ج) سختی، رام‌شده‌ها، کفش  
(ج) آسانی، رام‌شده‌ها، کفایش

۱۲- ترجمه‌ی کدام عبارت غلط است؟

- (الف) فَتْرَكُهُ الْجَمِيعُ فِي السَّبْحِ: پس او همه را در زندان رها کرد.  
(ب) لَا تَقْنَطُونَ مِنْ رَحْمَةِ رَبِّنَا: از رحمت پروردگار ما ناامید نمی شوید.  
(ج) سَيَّرِجَعَنَّ بِهَدْوٍ مِنْ هُنَا: به آرامی از این جا باز خواهند گشت.  
(د) الامراءُ قادمون مع الملكة: فرمانده ها در حال آمدن همراه ملکه هستند.

۱۳- در کدام جمله «خبر» از نوع اسم نیست؟

- (الف) مريمٌ في صفنا طالبة مؤدبة.  
(ب) الغضبُ مفتاح لكل شر.  
(ج) البحرُ في تلك الايام هائج.  
(د) تنزيل الكتاب من الله.

۱۴- کدام عبارت از نظر رعایت اصول جمله سازی صحیح است؟

- (الف) يا اخوتي لا تشعروا بالغيظ.  
(ب) سرقوا اللصوص اموال ايوب.  
(ج) اصداقائي يحصدون الحسنات.  
(د) ايتها الطفلات لا تقربوا هناك بئر.

۱۵- کلمات کدام گزینه بر یک وزن است؟

- (الف) استماع، انسحاب، احتمال  
(ب) انصاف، انجماد، انتخاب  
(ج) استراق، انتخاب، احتمال  
(د) استعمال، انتخاب، احتراق

## ادبیات فارسی

۱۶- در کدام جمله غلط املائی به کار رفته است؟

- (الف) در تن رنجورش رمقی باقی نمانده بود.  
(ب) ای انسان، آگاه باش و از بدی برحذر باش.  
(ج) سوگند دروغ اثاث زندگی با خلل کند.  
(د) طنین دل‌نشین کلام او مشتاقان زیادی دارد.

۱۷- املا و معنای واژگان در همی گزینه‌ها درست است، به جز ...

- (الف) امل و آرزو (ب) نحیب و ترس (ج) صومعه و دیر (د) متداول و معمول

۱۸- هم‌خانواده‌ی واژگان در کدام گزینه درست به کار رفته است؟

- (الف) اعجاب، عجیب، تعجب (ب) تربیت، مرتب، ترتیب (ج) شلوغ، شاغل، مشغول (د) عقل، عاقل، علاقه

۱۹- نام سراینده بیت روبه‌رو کیست؟ «مبازار موری که دانه‌کش است که جان دارد و جان شیرین خوش است»

- (الف) سنایی (ب) سعدی (ج) نظامی (د) فردوسی

۲۰- شبه جمله در گزینه‌ی ..... به کار رفته است؟

- (الف) غمگین مباش. (ب) تو پاکی و خدایی. (ج) بنگر و تفکر کن. (د) خدایا، ما را ببخشای

۲۱- در همی عبارات زیر، قید به کار رفته است؛ مگر در گزینه‌ی ....

- (الف) آهسته پا نهادم در کوچه باغ خیام.  
(ب) آرام جان من بود شعر روان سعدی.  
(ج) اینک ای خوب، فصل غریبی سرآمد.  
(د) دائماً یکسان نباشد حال دوران غم مخور.

۲۲- در کدام جمله، متمم (از نظر ساختمان) یک اسم غیر ساده است؟

- (الف) زدانش دل‌پیر برنا بود. (ب) گلزار زعیش، لاله‌باران شد (ج) تانشود راز چو روز آشکار (د) متاع جوانی به‌بازار نیست

## ۲۳- ساخت فعل ماضی التزامی در کدام جمله به کار رفته است؟

- (الف) شاید این جمعه بیاید.  
(ب) قبلاً شما را ندیده بودم.  
(ج) از حال همسایه خبر داشته باشید.  
(د) ای کاش، راه نزدیک باشد.
- ۲۴- کدام گزینه، زنجیره‌ی معنایی روبه‌رو را کامل می‌کند؟ «باغ و لاله و چمن / گل و غنچه و ...»  
(الف) برف (ب) نرگس (ج) گربه (د) آتش
- ۲۵- مفهوم عبارت «آدمی باید که بسیار نکوید» با کدام گزینه برابری می‌کند؟  
(الف) داد ده تا داد یابی.  
(ب) سخن، ناپرسیده مگوی.  
(ج) سخن جز راست مگوی.  
(د) نباید که باشی فراوان سخن.

## تاریخ

## ۲۶- بر اساس این عهد نامه گرجستان و داغستان از ایران جدا شدند؟

- (الف) عهدنامه مفصل  
(ب) عهدنامه ترکمنچای  
(ج) عهدنامه گلستان  
(د) عهدنامه پاریس
- ۲۷- جنگ جهانی اول و دوم چه تأثیرات مشترکی در ایران داشت؟  
(الف) فروپاشی ارتش رضاخان  
(ب) بروز قحطی، گرسنگی و عدم امنیت  
(ج) واگذاری بخشی از خاک ایران به متفقین  
(د) اشغال ایران توسط روس و انگلیس و آمریکا
- ۲۸- مهم ترین عامل همکاری و اتحاد دکتر محمد مصدق و آیت ... کاشانی چه بود؟  
(الف) مبارزه علیه خفقان رژیم پهلوی  
(ب) مبارزه فرهنگی علیه رژیم پهلوی  
(ج) مبارزه برای ملی شدن صنعت نفت  
(د) مبارزه مسلحانه علیه رژیم پهلوی
- ۲۹- نماز عید سعید فطر سال پنجاه و هفت به ترتیب به امامت و سخنرانی کدام شخصیت‌ها برگزار گردید؟  
(الف) شهید رجایی و شهید باهنر  
(ب) شهید مفتح و شهید باهنر  
(ج) شهید مطهری و شهید مفتح  
(د) شهید بهشتی و شهید رجایی

## جغرافیا

## ۳۰- کدام عامل باعث تفاوت آب و هوا در شهرهای (مسکو و لندن) است؟

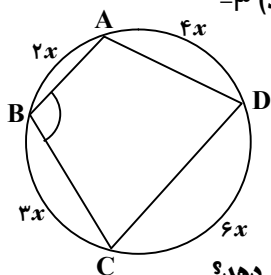
- (الف) ارتفاع  
(ب) جریان دریایی  
(ج) طول جغرافیایی  
(د) عرض جغرافیایی
- ۳۱- یک تیم کوهنوردی تصمیم دارد به قله دماوند صعود کند. اگر در مراحل صعود در ارتفاع ۳۰۰۰ متری (ایستگاه اول) دما ۱۰ درجه سانتی‌گراد باشد، در ارتفاع ۴۰۰۰ متری (ایستگاه دوم)، ۴۵۰۰ متری (ایستگاه سوم) و ۵۰۰۰ متری (ایستگاه چهارم) به ترتیب از راست به چپ دما چند درجه سانتی‌گراد خواهد بود؟  
(الف) ۵، ۵، -۵ (ب) ۴، ۲، -۱ (ج) ۴، ۱، -۲ (د) ۵، ۵، -۶
- ۳۲- کدام عامل از عوامل رشد شهرها نیست؟  
(الف) آب  
(ب) موقعیت ارتباطی  
(ج) مذهب  
(د) صنعت
- ۳۳- بیشترین زلزله‌ها در کجا اتفاق می‌افتد؟  
(الف) کناره‌های مخروطه افکنه  
(ب) در سواحل دریاها و اقیانوس‌ها  
(ج) محل برخورد صفحات پوسته زمین  
(د) کناره‌های چین خوردگی

### اجتماعی

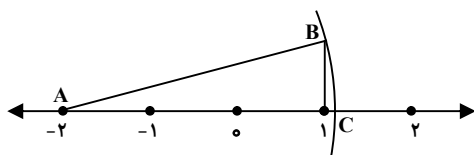
- ۳۴- هنجارهایی که توسط حکومت به وجود می‌آید را ..... می‌نامند.  
 الف) لایحه (ب) طرح (ج) قانون (د) مصوبه
- ۳۵- فرصتی که مردم می‌توانند در تصمیمات مهم حکومت مشارکت داشته باشند.  
 الف) حضور در مجلس (ب) دیدار با نمایندگان (ج) سفرهای استانی (د) انتخابات
- ۳۶- رئیس قوه قضاییه توسط چه کسی و برای چه مدتی انتخاب می‌شود؟  
 الف) مجمع تشخیص مصلحت نظام - پنج سال (ب) رهبر - پنج سال  
 ج) حقوقدانان شورای نگهبان - چهار سال (د) مجلس خبرگان - چهار سال
- ۳۷- مسئولیت کلیه مسائل قضایی مربوط به روابط قوه قضاییه یا قوه مجریه و قوه مقننه بر عهده کیست؟  
 الف) وزیر دادگستری (ب) رئیس قوه قضاییه (ج) دادستان (د) قاضی

### ریاضی

- ۳۸- مساحت مثلثی به ارتفاع و قاعده  $۲^۲۰$  و  $۴^{۱۵}$  کدام عدد زیر می‌باشد؟  
 الف)  $۲^{۵۰}$  (ب)  $۲^{۴۹}$  (ج)  $۲^{۴۸}$  (د)  $۲^{۴۷}$
- ۳۹- مجموعه A چند عضوی است؟  $A = \{x \mid -۳ \leq x < ۲\}$   
 الف) ۵ (ب) ۴ (ج) ۳ (د) بی‌شمار
- ۴۰- اگر  $\frac{1}{x} - \frac{1}{y} = \frac{1}{x} \times \frac{1}{y}$  باشد، x و y دو عدد طبیعی ..... می‌باشد.  
 الف) اول متوالی (ب) فرد متوالی (ج) زوج متوالی (د) متوالی
- ۴۱- اگر بردار  $\vec{a} = \begin{bmatrix} ۳k-۱۲ \\ ۲k+۱۰ \end{bmatrix}$  موازی محور عرض باشد، مقدار عددی k کدام عدد زیر می‌باشد؟  
 الف) ۴ (ب) -۵ (ج) -۴ (د) +۵
- ۴۲- اگر از ۵۰ درصد عددی سه واحد کم کنیم، دو برابر آن عدد به دست می‌آید. آن عدد کدام است؟  
 الف) ۲ (ب) -۲ (ج) ۳ (د) -۳

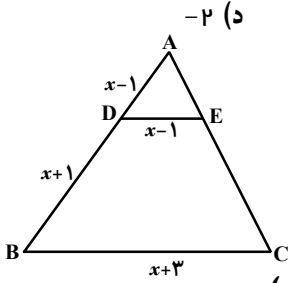


- ۴۳- در شکل مقابل اندازه‌ی زاویه‌ی B کدام است؟  
 الف)  $۱۰۰^\circ$  درجه (ب)  $۱۵۰^\circ$  درجه  
 ج)  $۱۲۰^\circ$  درجه (د)  $۱۲۵^\circ$  درجه
- ۴۴- در شکل مقابل به مرکز A و شعاع AB یک کمان زده‌ایم. نقطه‌ی C چه عددی را نمایش می‌دهد؟

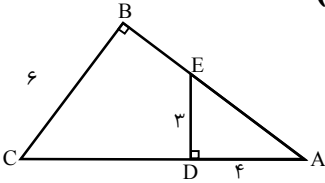


- ۴۵- میانگین ۱۰ داده‌ی آماری  $\frac{۳۲}{۵}$  می‌باشد. اگر دو عدد ۳۵ و ۴۰ را از داده‌ها کنار بگذاریم، میانگین جدید کدام است؟  
 الف)  $\frac{۳۱}{۲۵}$  (ب)  $\frac{۳۱}{۵}$  (ج)  $\frac{۳۱}{۷۵}$  (د) ۳۲

۴۶- به ازای کدام مقدار از  $m$  خطوط  $y = 2mx + 3$  و  $y = (m+1)x + 2$  موازی می‌شوند؟



۴۸- در شکل مقابل، مساحت چهارضلعی BEDC کدام است؟ ( $AD = 4, DE = 3, BC = 6$ )



۴۷- در شکل مقابل  $DE \parallel BC$  است. مقدار  $x$  کدام است؟

- (الف) ۱
- (ب) ۲/۵
- (ج) ۳
- (د) ۳/۵

- (الف) ۱۲
- (ب) ۱۵
- (ج) ۱۸
- (د) ۲۰

### علوم تجربی

۴۹- کدام یک از موارد زیر مشخص‌کننده‌ی نوع عنصر است؟

- (الف) مجموع تعداد پروتون ها و نوترون ها
- (ب) تعداد پروتون ها
- (ج) تعداد الکترون ها
- (د) مجموع تعداد پروتون ها و الکترون ها

۵۰- منشأ کدام اندام با بقیه متفاوت است؟

- (الف) باله ی بال
- (ب) دست گربه
- (ج) بال پروانه
- (د) بال خفاش

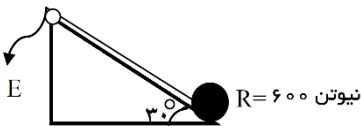
۵۱- کدام یک از گزینه های زیر درباره‌ی ستاره‌ای پر نور، نزدیک نسبت به زمین و آبی رنگ صحیح است؟

- (الف) جرم زیاد، بسیار داغ
- (ب) جرم کم، داغ
- (ج) جرم زیاد، سرد
- (د) جرم کم، سرد

۵۲- هنگامی که بادکنک را به پارچه پشمی مالش می‌دهیم:

- (الف) بادکنک، الکترون گرفته و بار مثبت پیدا می‌کند.
- (ب) پارچه الکترون از دست داده و بار مثبت پیدا می‌کند.
- (ج) هردو به یک اندازه الکترون می‌گیرند.
- (د) هردو به یک اندازه الکترون از دست می‌دهند.

۵۳- شکل مقابل نیروی مقاوم برابر ۶۰۰ نیوتن و زاویه شیب برابر ۳۰ درجه است مقدار نیروی محرک چند نیوتن است؟ (از اصطکاک صرفه نظر می‌گردد).



- (الف) ۱۵۰
- (ب) ۲۰۰
- (ج) ۳۰۰
- (د) ۶۰۰

۵۴- فشار گاز (بخار آب) درون یک محیط بسته ی ظرف زودپز، به کدام عوامل زیر بستگی دارد؟

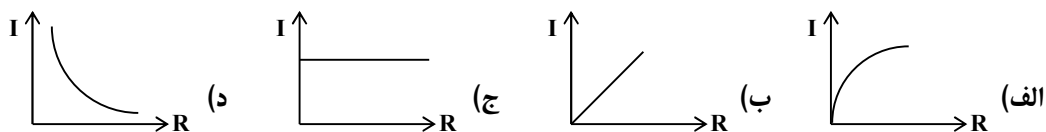
- (الف) تعداد مولکولهای بخار آب درون ظرف
- (ب) جنبش مولکول های گاز
- (ج) دمای مولکول های گاز
- (د) هر سه مورد

۵۵- کارگری سطل سیمانی به جرم ۴۰ Kg را با قرقره ثابت از پایین ساختمان به ارتفاع ۱۰ متر به بالای آن می‌کشد. حداقل

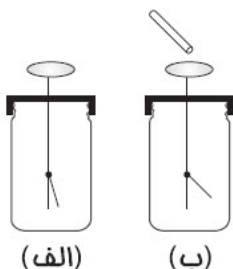
کار انجام شده توسط کارگر برای جابجایی سطل سیمان چقدر است؟

- (الف) ۴۰۰ ج
- (ب) ۴۰ Kj
- (ج) ۴ Kj
- (د) صفر

۵۶- کدام نمودار، رابطه‌ی بین مقاومت الکتریکی و شدت جریان را (در صورت ثابت ماندن اختلاف پتانسیل) نشان می‌دهد؟

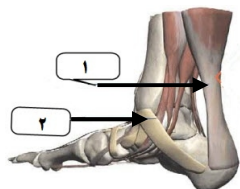


۵۷- ورقه‌های الکتروسکوپ مانند شکل (الف) می‌باشد، وقتی میله‌ای به آن نزدیک می‌کنیم وضعیت شکل (ب) حاصل می‌شود. در این صورت کدام عبارت زیر می‌تواند صحیح باشد.



- (الف) بار میله و بار الکتروسکوپ هر دو مثبت می‌باشند.
- (ب) بار میله مثبت و بار الکتروسکوپ منفی می‌باشد.
- (ج) بار میله منفی و بار الکتروسکوپ مثبت می‌باشد.
- (د) الکتروسکوپ و میله هر دو بدون بار هستند.

۵۸- شماره‌های ۱ و ۲ مشخص شده روی شکل، به ترتیب از راست به چپ کدامند؟



- (الف) رباط ، زردپی
- (ب) رباط، رباط
- (ج) زردپی، رباط
- (د) زردپی، زردپی

۵۹- ماهیچه‌های عنبیه چشم ، دیواره‌ی روده و قلب به ترتیب (از راست به چپ) چه نوع ماهیچه‌ای دارند؟

- (الف) اسکلتی - صاف - قلبی
- (ب) صاف - صاف - قلبی
- (ج) اسکلتی - قلبی - اسکلتی
- (د) صاف - اسکلتی - قلبی

### حرفه‌وفن

۶۰- مریم برای زیبایی ماکت خانه‌ای که ساخته، از طلق شفاف یا رنگی برای ساخت کدام قسمت خانه استفاده کرده است؟

- (الف) در (ب) بدنه (ج) سطح کف (د) فضای سبز

۶۱- علی برای اتو کردن لباسش کدام گزینه صحیح را انتخاب می‌کند؟

- (الف) از اتو کردن لباس پشمیش خودداری می‌کند.
- (ب) از اتو کردن لباس بافتنیش خودداری می‌کند.
- (ج) هنگام اتو کردن لباس بافتنیش اتو را روی آن نمی‌کشد.
- (د) هنگام اتو کردن لباس پشمی و بافتنیش بهتر است یک پارچه نمناک سفید روی آن بپهن کند.

۶۲- اینترانت همان شبکه ..... است.

- (الف) جهانی (ب) دور نگار (ج) عنکبوتی (د) داخلی

۶۳- واحد‌های اندازه‌گیری کمیت‌های الکترونیکی توسط چه کسانی تعیین می‌شود؟

- (الف) انجمن مهندسان در سطح استانی و ملی
- (ب) انجمن مهندسان در سطح قاره‌ها
- (ج) انجمن مهندسان در سطح اروپا
- (د) انجمن مهندسان در سطح ملی یا بین‌المللی

۶۴- طوقه درخت چیست؟

- (الف) محل اتصال ریشه و ساقه
- (ب) محل اتصال ساقه و تاج
- (ج) محل اتصال ریشه و خاک
- (د) محل اتصال پوست و تنه

## زبان انگلیسی

65. Oh, look! The ..... ticket is ..... the ground.  
 a) child's - on      b) children's - at      c) child's - at      d) children's - on
66. A : Does Mr. Smith have ..... money in his wallet?  
 B : Yes, he has ..... money in it.  
 a) any - any      b) any - some      c) some - any      d) some - some
67. A : Did your brother get the cheese?      B : Yes, my dad gave .....  
 a) him - them      b) it - him      c) him - it      d) them - him
68. Our grandfather didn't ..... his breakfast this morning.  
 a) ate      b) has      c) had      d) have
69. That eraser is eighty tomans. .... is this eraser?  
 a) How much      b) How      c) How old      d) How many
70. A : Was Mary ..... to the bank at this time yesterday morning?  
 B : Yes, she ..... there every day.  
 a) goes - goes      b) going - going      c) goes - going      d) going - goes
71. Carol ..... a newspaper and read it.  
 a) is buying      b) buys      c) bought      d) was buying
72. Should Bob ..... the hotel before ten?  
 a) leave      b) leaves      c) left      d) leaving
73. My mom ..... for us.  
 a) is cooking always      b) always cook      c) is always cooking      d) cooks always

۷۴. واژگان: کدام کلمه از نظر معنایی با بقیه کلمات هماهنگ نیست؟

- a) arrive      b) grade      c) cross      d) stay

۷۵. تلفظ: کدام کلمه از نظر تلفظ حروف (ea) با بقیه کلمات متفاوت است؟

- a) hear      b) bread      c) heavy      d) feather

\* دانش آموز عزیز!

شماره‌ی داوطلبی و رمز کارنامه‌ی خود را از روی پاسفنامه ببینید و در جدول روپه‌رو یادداشت کنید. شما می‌توانید با داشتن این دو کد، و مراجعه به سامانه‌ی اینترنتی [www.natije.ir](http://www.natije.ir) نتیجه‌ی آزمون خود را مشاهده کنید. همچنین دریافت دفترچه سوالات و کلید آزمون و تبادل نظر پیرامون سوالات از امشب، در بخش «سامانه گفتگوی دانش‌آموزی» در همین سایت، امکان‌پذیر می‌باشد.

شماره  
داوطلبی

رمز  
کارنامه



