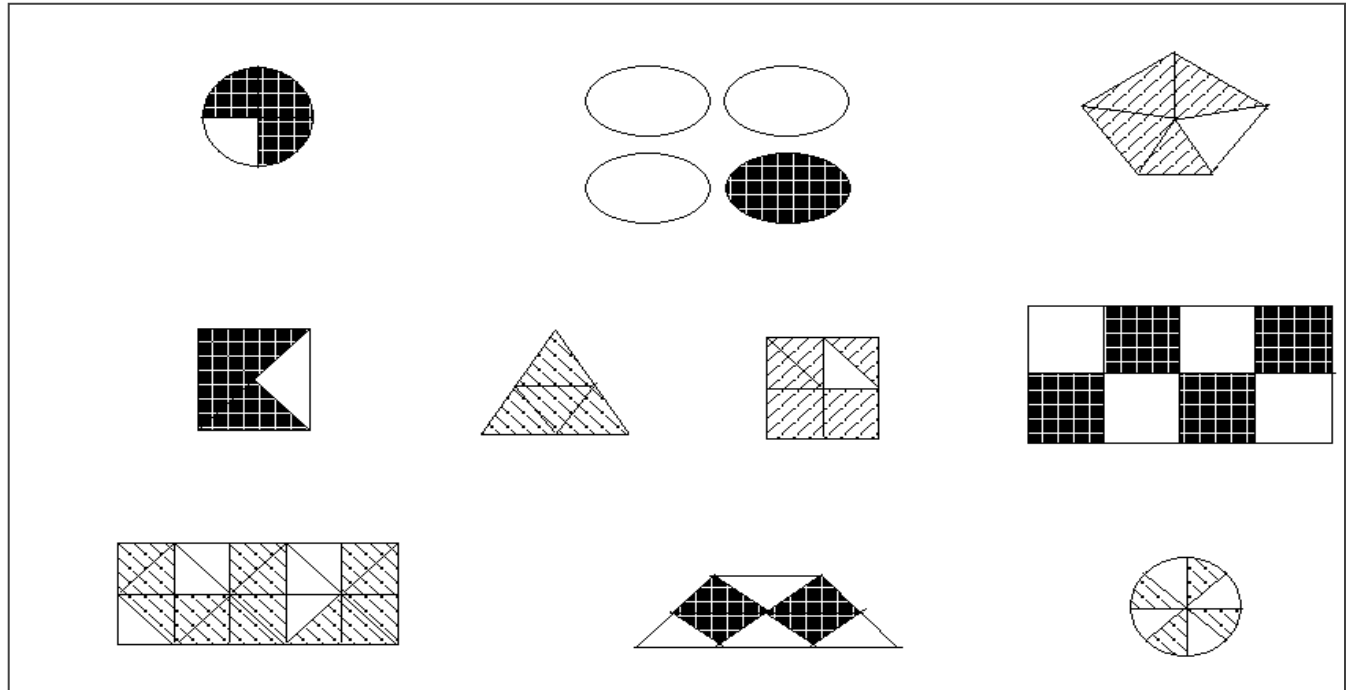
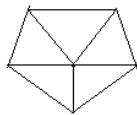


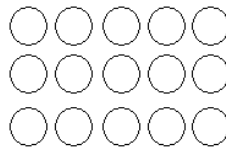
چند درصد از هر یک از شکل های زیر هاشور خورده است؟



به اندازه‌ی درصد های خواسته شده ، شکل های زیر را رنگ کنید.



۴۰٪



۲۰٪

محمود $\frac{4}{5}$ پولش را خرج کرده است.

الف) چند درصد پولش را خرج کرده است؟
ب) چند درصد پولش باقی مانده است؟

اگر از تعداد ۷۰۰ بازیکن شرکت کننده در جام جهانی، ۱۳٪ آنها دروازه بان باشند، چند نفر از بازیکنان دروازه بان نیستند؟

۴۵٪ از مسافران اتوبوسی، زن هستند. اگر تعداد زنان ۹ نفر باشد، این اتوبوس چند مسافر دارد؟

حسین ۹۰۰ تومان پول داشت. ۲۵٪ پولش را به برادرش داد و بقیه را خرج کرد.

۱) حسین چه قدر به برادرش داده است؟

۲) حسین چه قدر خرج کرده است؟