






تاریخ : -----





نام و نام خانوادگی : ----- آزمون مداد کاغذی ریاضی ۴

۱- از هر شکل چند تا هست؟ با چوب خط بشمار و عدد آن را بنویس.

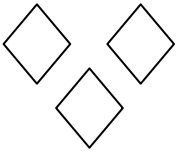
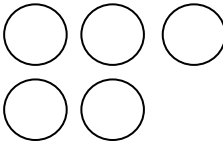
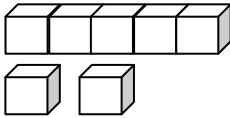
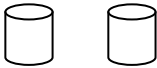


۲- در هر دسته همان قدر شکل که در سمت چپ می بینی بکش و عدد و علامت مناسب را بنویس.

			
----- <input type="text"/> -----		----- <input type="text"/> -----	



۳- عدد هر دسته را بنویس و به طور مناسب از علامت کمتر - بیشتر استفاده کن.

			
----- <input type="text"/> -----		----- <input type="text"/> -----	


۴- از ۰ تا ۷ به ترتیب بنویس.



۵- عدد هر دسته را بنویس و حاصل جمع آن ها را ابتدا با چوب خط و سپس با عدد نشان بده.

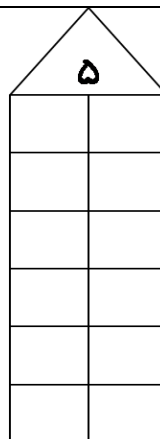
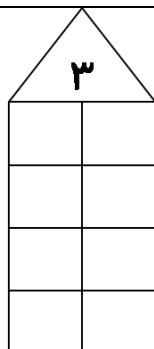


$$\text{-----} + \text{-----} = \text{-----}$$



$$\text{-----} + \text{-----} = \text{-----}$$

۶- دو عدد پیدا کن که جمع آن ها برابر با عددی باشد که بالای ستون است.



۷- جدول را کامل کن. با شابلون در سمت راست جدول یک ۴ گوشه و در سمت چپ یک ۳ گوشه بکش.

۴	۶	۱	۳		۲
۵		۲		۱	۴
۱			۲		۵
۲				۶	
	۱	۳		۲	
۶		۵	۱	۴	۳

۸- شکل را طوری رنگ آمیزی کن که دو طرف آن مثل هم باشد.

