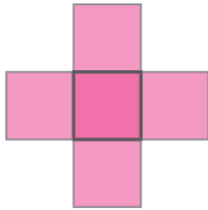
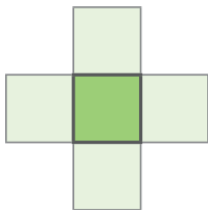
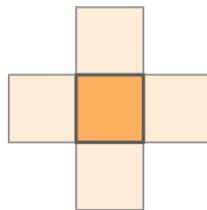
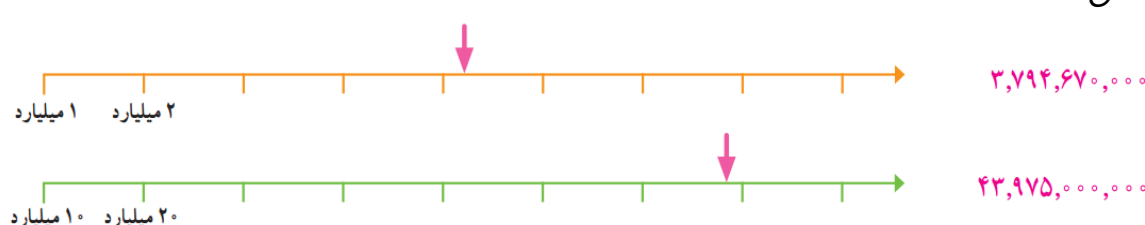


| نمره | سوال | ردیف |
|------|---|------|
| | <p>حاصل جمع و تفریق های زیر را به دست آورید .</p> <div style="display: flex; justify-content: space-around; align-items: center;"> <div style="text-align: center;"> $\begin{array}{r} 302040 \\ + 70903 \\ \hline \end{array}$ </div> <div style="text-align: center;"> $\begin{array}{r} 900000 \\ - 25000 \\ \hline \end{array}$ </div> <div style="text-align: center;"> $\begin{array}{r} 8040000 \\ - 730000 \\ \hline \end{array}$ </div> </div> | ۱ |
| | <p>حاصل ضرب های زیر را به دست آورید .</p> <div style="display: flex; justify-content: space-around; align-items: center;"> <div style="text-align: center;"> $\begin{array}{r} 430000 \\ \times 200 \\ \hline \end{array}$ </div> <div style="text-align: center;"> $\begin{array}{r} 80000 \\ \times 2000 \\ \hline \end{array}$ </div> <div style="text-align: center;"> $\begin{array}{r} 80020 \\ \times 50 \\ \hline \end{array}$ </div> </div> | ۲ |
| | <p>عددهای ۱، ۲، ۳، ۴ و ۵ را طوری در شکل های زیر بنویسید که مجموع اعداد ستون های افقی و عمودی برابر شود .</p> <div style="display: flex; justify-content: space-around; align-items: center; text-align: center;"> <div style="margin: 10px;">  <p>مجموع عددها ۸ شود</p> </div> <div style="margin: 10px;">  <p>مجموع عددها ۹ شود</p> </div> <div style="margin: 10px;">  <p>مجموع عددها ۱۰ شود</p> </div> </div> | ۳ |
| | <p>عددهای زیر را بنویسید .</p> <p>۸ تا ۱۰۰ تایی و ۹ تا ۱۰۰۰ تایی می شود : تا ۱۰۰۰ تا کمتر از ۱۵ تا ۱۰۰۰ تایی می شود :</p> <p>۲۳ تا ۱۰۰۰۰ تایی و ۵ تا ۱۰۰ تایی می شود :</p> | ۴ |
| | <p>الگوهای زیر را ادامه دهید .</p> <p>۲,۰۰۰,۰۰۰ ، ۳,۰۰۰,۰۰۰ ، ۴,۰۰۰,۰۰۰ ، ، ،</p> <p>..... ، ، ، ۶ میلیون ، ۵ میلیون ، ۴ میلیون</p> <p>..... ، ، ، ۳۰۰ میلیون ، ۲۰۰ میلیون ، ۱۰۰ میلیون</p> <p>۹۵۰,۰۰۰,۰۰۰ ، ۹۶۰,۰۰۰,۰۰۰ ، ۹۷۰,۰۰۰,۰۰۰ ، ، ،</p> | ۵ |

| | | |
|--|---|----|
| | <p>دور اعدادی که میلیاردی هستند خط بکشید .</p> <p>۱۰۰,۰۰۰,۰۰۰ ، ۱۲۵۹۸۶۵۳۲۱۰۰ ، ۱۲۳۵۹۸۶۴۵۸ ، ۴۵۹۸۵۲۱۲۳</p> | ۶ |
| | <p>الگوهای عددی زیر را ادامه دهید .</p> <p>۷۰۰,۰۰۰,۰۰۰ ، ۸۰۰,۰۰۰,۰۰۰ ، ۹۰۰,۰۰۰,۰۰۰ ، ، ،</p> <p>۹۹۷,۰۰۰,۰۰۰ ، ۹۹۸,۰۰۰,۰۰۰ ، ۹۹۹,۰۰۰,۰۰۰ ، ، ،</p> <p>..... ، ، ، ۹۹۰ میلیون ، ۹۸۰ میلیون ، ۹۷۰ میلیون</p> | ۷ |
| | <p>جدول ارزش مکانی را تا میلیارها رسم کنید .</p> | ۸ |
| | <p>عدد ۱۰۰,۲۵۶,۱۲۴,۷۵۱ را در جدول ارزش مکانی سوال قبل قرار دهید .</p> | ۹ |
| | <p>عدد زیر را بخوانید و به حروف بنویسید .</p> <p>۱۰۲,۲۵۶,۳۱۰,۴۵۱ :</p> | ۱۰ |
| | <p>در هر ردیف عدد وسطی به کدام یک نزدیک تر است ؟ آن را رنگ کنید</p> <p> $4,900,000,000 \leftarrow 4,975,000,000 \rightarrow 5,000,000,000$ $7,380,000,000 \leftarrow 7,384,000,000 \rightarrow 7,390,000,000$ </p> | ۱۱ |
| | <p>۱۵ تا ۱۰۰,۰۰۰ تا را به صورت گسترده نویسی حساب کنید .</p> <p>$15 \times 100,000 =$</p> | ۱۲ |
| | <p>محورها را کامل کنید . محل تقریبی عددهای داده شده را روی محور مشخص کنید . سپس برای نقطه های مشخص شده یک عدد مناسب بنویسید .</p>  | ۱۳ |
| | <p>مقایسه کنید .</p> <p>۲.۱۲۰.۲۵۶.۴۵۷ _____ ۹۹۹.۹۹۹.۹۹۹</p> <p>۱۰۰.۱۲۰.۹۹۹.۴۵۷ _____ ۹۹.۹۹۹.۹۹۹.۹۹۹</p> | ۱۴ |